



LAVANDERA — CRIADAS — GUARDA DE LAS CONDUCTAS DE PACHUCA



MIXTECOS — OAXACA



ZAPOTECAS DE MAGUILCOCHIL — OAXACA — MAZATECOS DE AYAUTLA



CHINANTECOS DE YOLOS — OAXACA — CUICATECOS DE TEUTILA



AMUZCOS — OAXACA

Atlas DE México

CUARTO GRADO



ZAPOTECAS DE TEHUANTEPEC — OAXACA



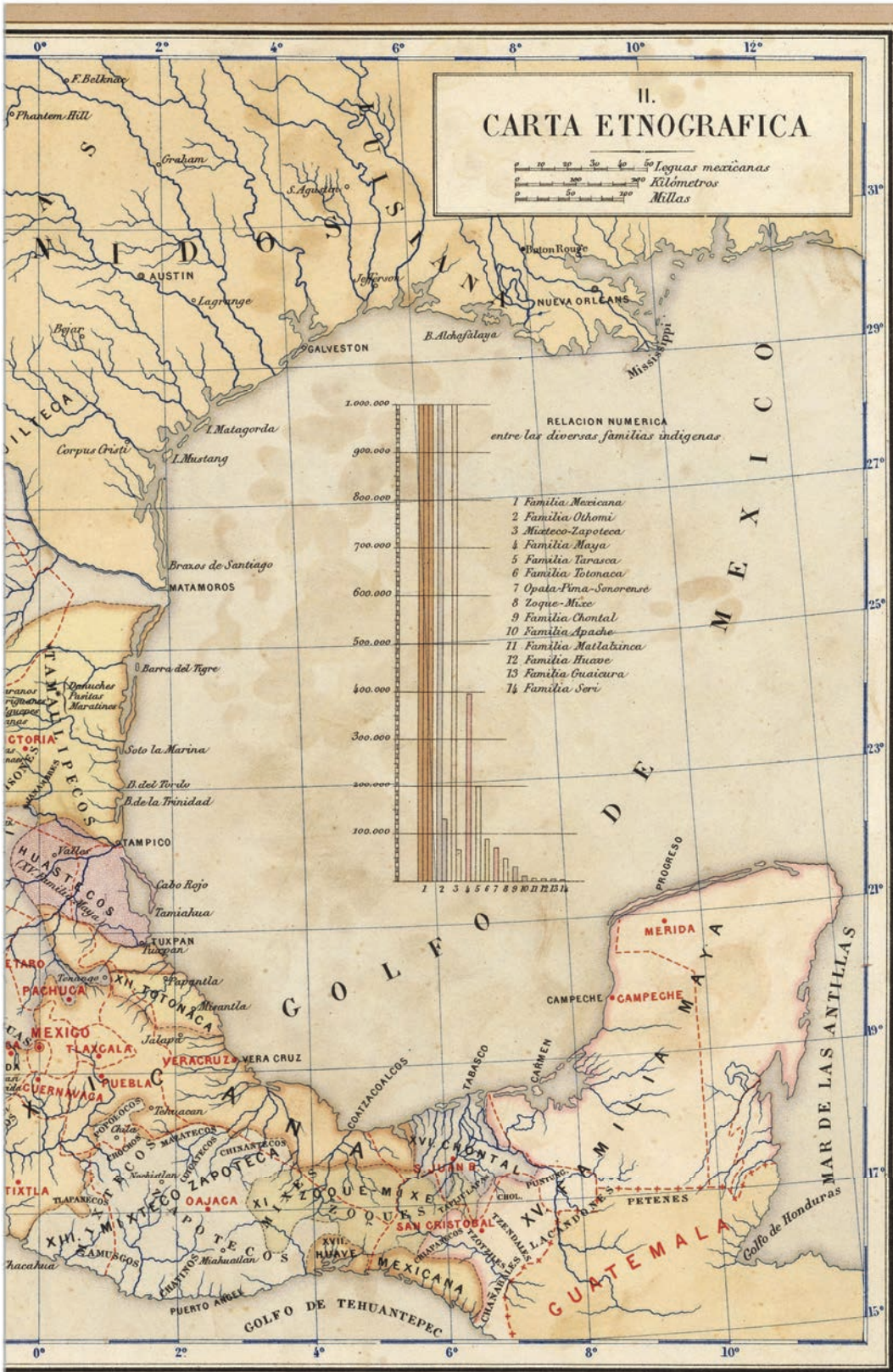
ZOQUES DE TUXTLA — CHIAPAS — TRAJE DE BOVA Y ORDINARIO



ZOQUES DE TAPULALAPA — CHIAPAS — ZOQUES DE TUXTLA — LA SALUTACION



APACHE MEDIO-CIVILIZADO — CHIHUAHUA — HABITANTES DE LAS MARGENES DEL BRAVO



LAVANDERA — CRIJADAS — GUARDA DE LAS CONDUCTAS DE PACHUCA



MIXTECOS — OAXACA



ZAPOTEGAS DE MACUILXOCHITL — OAXACA — MAZATECOS DE AYAUTLA



CHINANTECOS DE YOLOS — OAXACA — CUICATECOS DE TEUTILA

Atlas DE México CUARTO GRADO



EDUCACIÓN
SECRETARÍA DE EDUCACIÓN PÚBLICA

Secretaría de Educación Pública

Delfina Gómez Álvarez

Subsecretaría de Educación Básica

Martha Velda Hernández Moreno

Dirección General de Materiales Educativos

Marx Arriaga Navarro

Coordinación de contenidos

Alberto Sánchez Cervantes, César Alberto Campos Velasco, Estanislao Hernández Figueroa, Eduardo Pérez Sosa, Ricardo Flores Cuevas

Coordinación editorial

Alejandro Portilla de Buen

Cuidado de la edición

Alejandro Correa Sandoval, José Pulido Mata

Diseño y Formación

Eduardo Águila González

Producción editorial

Martín Aguilar Gallegos

Preprensa

Citlali María del Socorro Rodríguez Merino

Iconografía

Diana Mayén Pérez, Irene León Coxtinica

Portada

Diseño: Alejandro Portilla de Buen

Imagen: "Carta etnográfica II", en Antonio García Cubas (1832-1912), *Atlas mexicano, geográfico y estadístico. Atlas pintoresco é histórico de los E. U. Mexicanos*, 31 cartas con sus correspondientes textos, publicado por Debray Sucesores, México, 1885, Biblioteca del Congreso de Estados Unidos.

Información estadística, geográfica y cartográfica: INEGI

Dirección General de Comunicación, Servicio Público de Información y Relaciones Institucionales

Dirección General de Geografía y Medio Ambiente

Dirección General de Estadísticas Sociodemográficas

Dirección General de Estadísticas Económicas

Dirección General de Estadísticas de Gobierno, Seguridad Pública y Justicia

Coordinación General de Operación Regional

Coordinaciones Estatales

Colaboradores

Iñigo Suárez Gómez Urquiza, Leticia Ruiz Mendoza, J. Trinidad Carrillo Martínez, Adriana Oropeza Lliteras, Leonor Paz Gómez, Felipe Pérez Paredes, Daniel Vargas Montenegro, Honorio Juárez Hernández, J. Jesús Villalpando Esparza, Tirso Velázquez Navarro, José Adolfo Gómez Mendoza, Ana Violeta Zamora Gallegos, Edgar Padilla García, Mariana Flores Mendoza, César González López, Fabiola Palacios Borbón, Araceli Chávez Luna, Damián Alarcón Marín

Apoyos institucionales para la información estadística, geográfica y cartográfica:

Centro Nacional de Prevención de Desastres (Cenapred)

Comisión Nacional de Áreas Naturales Protegidas (Conanp)

Comisión Nacional de Hidrocarburos (CNH)

Comisión Nacional del Agua (Conagua)

Comisión Nacional para el Conocimiento y Uso de la Biodiversidad (Conabio)

Consejo Nacional de Evaluación de la Política de Desarrollo Social (Coneval)

Consejo Nacional de Población (Conapo)

El Colegio de México (Colmex)

Fondo Nacional para el Fomento de las Artesanías (Fonart)

Instituto Nacional de Antropología e Historia (INAH)

Instituto Nacional de los Pueblos Indígenas (INPI)

Instituto Nacional Electoral (INE)

Instituto Nacional de Estadística y Geografía (INEGI)

Secretaría de Economía (SE)

Secretaría de Energía (Sener)

Secretaría de Medio Ambiente y Recursos Naturales (Semarnat)

Secretaría de Salud (Salud)

Secretaría de Turismo (Sectur)

Servicio de Información Agroalimentaria y Pesquera (SIAP)

Universidad Nacional Autónoma de México (UNAM)

Primera edición, 2019

Segunda edición, 2021 (ciclo escolar 2021-2022)

D. R. © Secretaría de Educación Pública, 2021,
Argentina 28, Centro,
06020, Ciudad de México

ISBN: 978-607-551-537-3

Impreso en México

DISTRIBUCIÓN GRATUITA-PROHIBIDA SU VENTA

Presentación

Este libro de texto fue elaborado para cumplir con el anhelo de que en México se ofrezca una educación con equidad y excelencia, a partir de la cual todos los alumnos aprendan sin importar su origen, su género, su preferencia sexual o su clase social; es decir, una educación centrada en la dignidad humana, la solidaridad, el amor a la patria, el respeto, el cuidado de la salud y en la preservación del medio ambiente.

Los diseñadores de este libro te desean la mejor de las experiencias con este material y esperan que conserves en la memoria a tu comunidad escolar. Recuerda que lo importante no es memorizar datos, ni acaparar información para sentirte especial o único, lo relevante es entender que no estamos solos: nos rodean personas, plantas, animales... y todos merecen que los reconozcas y que te integres con ellos de manera honesta y desinteresada.

Si tienes alguna duda sobre la información aquí expuesta o deseas enviarnos un comentario, redacta una carta al correo electrónico: librosdetexto@nube.sep.gob.mx.

Índice

1

Naturaleza

8

México en el mundo	10	Precipitación anual	17
Placas tectónicas, regiones sísmicas y principales volcanes	11	Fenómenos y peligros hidrometeorológicos	18
Relieve	12	Regiones naturales	19
Principales ríos, lagos, lagunas y presas	13	Plantas endémicas	20
Aguas subterráneas	14	Animales endémicos	21
Climas	15	Biodiversidad (infografía)	22
Temperatura	16	Áreas Naturales Protegidas federales	23

2

Sociedad

24

Población total	26	Principales enfermedades en niños de 10 a 14 años (infografía)	37
Densidad de población	27	Mortalidad	38
Emigración interna	28	Principales causas de muerte en México (infografía)	39
Inmigración interna	29	Discriminación	40
Emigración internacional	30	Trabajo infantil	41
Escolaridad	31	Fecundidad en adolescentes	42
Alfabetización	32	Impacto ambiental	43
Pueblos indígenas	33	Calidad del agua de los ríos	44
Rezago social	34	Desarrollo humano	45
Pobreza	35		
Malnutrición infantil	36		

3

Economía

46

Agricultura	48	Comercio	59
Ganadería	49	Corredores carreteros	60
Pesca y acuicultura	50	Vías férreas, aeropuertos y puertos de altura	61
Producción forestal maderable	51	Servicios	62
Minería	52	Servicios de salud	63
Extracción de petróleo y gas natural	53	Población económicamente activa	64
Industria	54	Población no económicamente activa	65
Consumo de energía eléctrica	55	Desigualdad económica	66
Generación de energía eléctrica	56	Destinos turísticos	67
Generación de energía eléctrica (infografía)	57	Turismo de naturaleza	68
Manufactura	58	Principales tratados comerciales	69

4

Política

70

División antigua (provincias y reinos), 1550–1776	72	División territorial	76
División territorial, 1843-1846	73	Límites territoriales, islas y mares	77
Mapa de los Estados Unidos de Méjico, 1828	74	Ciudadanos con credencial para votar	78
La invasión norte-americana, 1846-1848	75	Censo de Población y Vivienda (infografía)	79

5

Cultura

80

México antiguo y sus tres superáreas culturales	82	Vestimenta indígena	87
Mesoamérica y sus áreas culturales	83	Patrimonio Mundial	88
Zonas arqueológicas	84	Museos	89
Comunidades afroamericanas (infografía)	85	Gastronomía (infografía)	90
Hablantes de lenguas indígenas	86	Artesanías (infografía)	91

6

Entidades federativas

92

Actividades con los mapas estatales	94	Morelos	112
Aguascalientes	96	Nayarit	113
Baja California	97	Nuevo León	114
Baja California Sur	98	Oaxaca	115
Campeche	99	Puebla	116
Chiapas	100	Querétaro	117
Chihuahua	101	Quintana Roo	118
Ciudad de México	102	San Luis Potosí	119
Coahuila de Zaragoza	103	Sinaloa	120
Colima	104	Sonora	121
Durango	105	Tabasco	122
Estado de México	106	Tamaulipas	123
Guanajuato	107	Tlaxcala	124
Guerrero	108	Veracruz	125
Hidalgo	109	Yucatán	126
Jalisco	110	Zacatecas	127
Michoacán	111		

Conoce tu Atlas

El *Atlas de México* es una fuente de consulta que te ayudará a comprender y a entender con mayor precisión nuestro país y el espacio que compartes con tu familia y tus amigos.

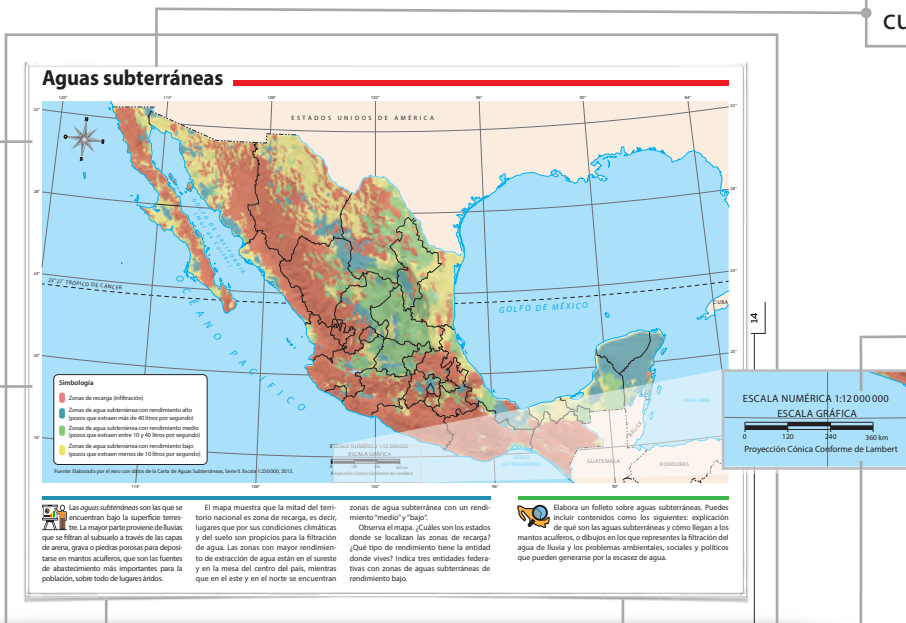
Se divide en seis capítulos: **Naturaleza, Sociedad, Economía, Política, Cultura y Entidades federativas**. Los primeros cinco contienen mapas nacionales y en el último hallarás los mapas de las 32 entidades federativas de los Estados Unidos Mexicanos.

Además de ubicar nuestro país en el mundo, el *Atlas* te aporta información acerca del clima, las plantas, los animales, la temperatura, los ríos y los lagos de México, así como de algunos fenómenos hidrometeorológicos y geológicos que nos afectan. También te mostrará aspectos sobre la población en el país y un panorama de la distribución de recursos a nivel nacional, así como de las principales actividades productivas.

Como este libro está conformado en su mayoría por mapas, es preciso que conozcas cuáles son sus elementos para que puedas leerlos e interpretarlos adecuadamente.

Un aspecto importante que debes considerar al estudiar los mapas de las entidades y el nacional de "Relieve" es una barra de colores que indica los **rangos de elevación**, que se refieren a la altura del terreno respecto al nivel del mar. Los colores verdes indican poca elevación, mientras que los café-rojizos señalan las zonas de mayor altitud, como sierras, volcanes y cerros.

Elementos del mapa nacional



El **título** te ayudará a identificar cuál es el tema o contenido.

La **escala numérica** te servirá para conocer cuánto se redujeron las dimensiones reales del terreno en el mapa. La **escala gráfica** es una línea recta graduada en la que se muestra la relación entre la longitud en el mapa y la real. Su objetivo es medir la distancia entre dos puntos para aproximarse a la distancia real.

El **sistema de proyección** es un método utilizado para trasladar los elementos de la esfera terrestre a una superficie plana.

La **rosa de los vientos** es un símbolo que sirve para señalar los puntos cardinales en el mapa.

En la **descripción general** encontrarás definiciones, datos y actividades que te permitirán conocer mejor cada mapa.

La **simbología** representa la información del mapa mediante figuras, signos, líneas, colores o puntos.

En este apartado encontrarás un **reto** que te llevará a investigar y aplicar tus conocimientos sobre tu país y la entidad donde vives.

Elementos del mapa estatal

En esta parte encontrarás el **nombre** de cada entidad federativa.

En la **pirámide poblacional** encontrarás la estructura de la población de cada estado: cuántas mujeres y hombres viven ahí, sus edades, y si hay más niños y jóvenes o personas mayores.

Las **localidades más pobladas** se presentan como una lista en orden ascendente de los lugares con mayor número de habitantes.

En el recuadro de **principales actividades económicas** encontrarás la actividad productiva preponderante, ya sea industrial, agrícola, pesquera o minera, entre otras.

La entidad federativa denominada México aparece con el nombre de Estado de México, como se le conoce comúnmente, incluso cuando su nombre oficial es México, de acuerdo con el artículo 43 de la Constitución Política de los Estados Unidos Mexicanos.



Las **escalas numérica y gráfica** indican la reducción a la que se sometieron los elementos representados en el mapa y su equivalencia en distancia real de un punto a otro.

Los **rangos de elevación** muestran qué tan alto se encuentra el terreno respecto al nivel del mar.

La **simbología general** es información relevante de cada entidad. Incluye su capital, límites estatales, aspectos culturales y turísticos, así como elementos naturales representativos.


Los límites estatales del *Atlas de México* corresponden a la delimitación de las Áreas Geoestadísticas Estatales que representan a las 32 entidades federativas del país.

La delimitación se apega en lo posible a los límites político-administrativos con sustento legal. Si éstos no existen, o no hay documentación disponible, la delimitación considera los rasgos físicos o culturales identificables en el terreno y que sean perdurables en el tiempo.

Nota: Los datos de superficies fueron obtenidos de las Áreas Geoestadísticas Estatales en su parte continental, así como de las islas Cozumel y Mujeres, y se basan en el sistema de coordenadas proyectadas *World Cylindrical Equal Area*.
Fuente: Instituto Nacional de Estadística y Geografía (INEGI), Marco Geoestadístico. Censo de Población y Vivienda 2020.

Elementos de una infografía

Los **textos introductorios** presentan un panorama general de un tema tratado.



Las **infografías** son una representación visual informativa que resume o explica figurativamente un contenido determinado.

El **título** te ayudará a identificar cuál es el tema o contenido desarrollado.

Las **gráficas** te permitirán interpretar de manera clara, visual y resumida algunos aspectos relevantes del tema.



Naturaleza



Todos los días, al salir de tu casa, percibes la luz del Sol, la temperatura, la humedad y el viento. En ciertos lugares pueden admirarse montañas, valles, animales, plantas, ríos y lagos. Todo esto, en conjunto, es lo que conocemos como naturaleza.

A la naturaleza la integran los **elementos** (ríos, montañas, animales) y los **procesos naturales** (lluvia, huracanes, heladas, sismos) cuya existencia es independiente a la presencia de los seres humanos.

Conocer cómo se originan y se manifiestan estos elementos y procesos nos permite identificar los beneficios económicos, ambientales y culturales que nos proporcionan, así como los posibles riesgos que generan.

La naturaleza nos provee de alimentos, regula la temperatura del ambiente y regenera el oxígeno que respiramos, entre muchos otros beneficios que nos aporta. Por ello, es importante valorarla y conservarla.

En este capítulo encontrarás mapas con los procesos de la naturaleza que ocurren en el territorio nacional, así como de la distribución de los elementos naturales que hay en nuestro país.

México en el mundo



Fuente: Elaborado por el INEGI con datos de la base cartográfica ARCSIS v 1.0.6, ESRI.
Hoja de trabajo N° 54 del Grupo de Expertos de las Naciones Unidas en Nombres Geográficos, 2011.

ESCALA NUMÉRICA 1:120 000 000
ESCALA GRÁFICA
0 1200 2400 3600 km
Proyección Robinson



Nuestro país es parte de un territorio más amplio denominado continente americano. Si tomamos en cuenta el ecuador, se localiza en el hemisferio norte y, en relación con el meridiano cero o de Greenwich, se encuentra en el hemisferio occidental.

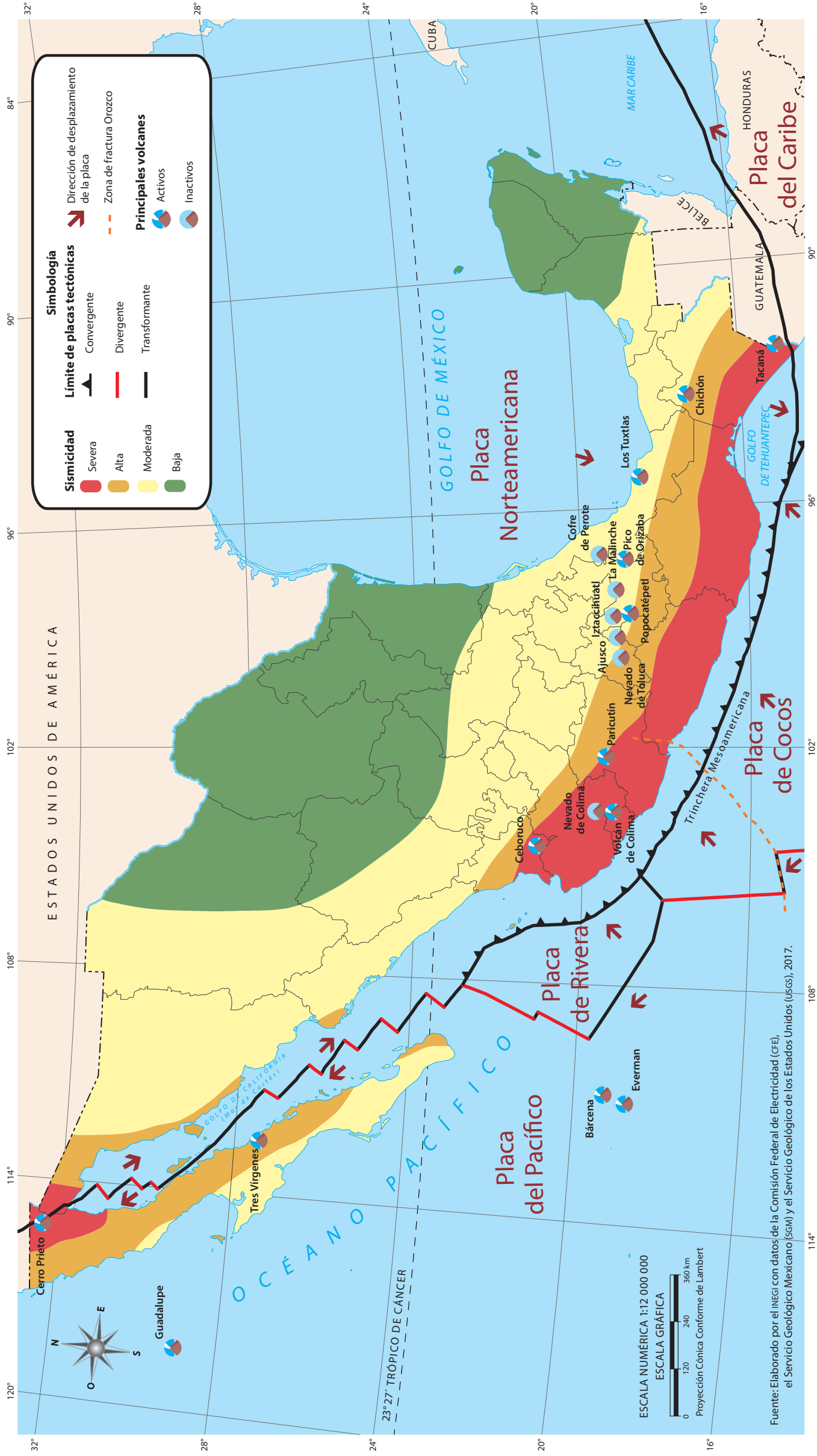
En el mapa se observa que el mundo está dividido en cinco continentes: América, Europa, Asia, África y Oceanía. México se ubica en la región norte del primero. También se aprecian los cinco océanos que rodean a las masas continentales: Pacífico, Atlántico, Índico, Ártico y Antártico.

Observa el mapa y responde: ¿cuáles son los dos grandes océanos que rodean al continente americano y, por lo tanto, a México?, ¿cuál es el nombre del trópico que atraviesa el territorio nacional?



Identifica cuáles son los límites territoriales de México en cada punto cardinal, haz una lista de ellos, dibuja un mapa de nuestro país y marca en él todos sus límites.

Placas tectónicas, regiones sísmicas y principales volcanes



Las placas tectónicas son fragmentos de la corteza terrestre que están en constante movimiento. Cuando éstas se acomodan dan origen al relieve, a los volcanes y a los sismos.

El territorio nacional se ubica sobre cinco placas tectónicas, la de mayor extensión es la Nor-

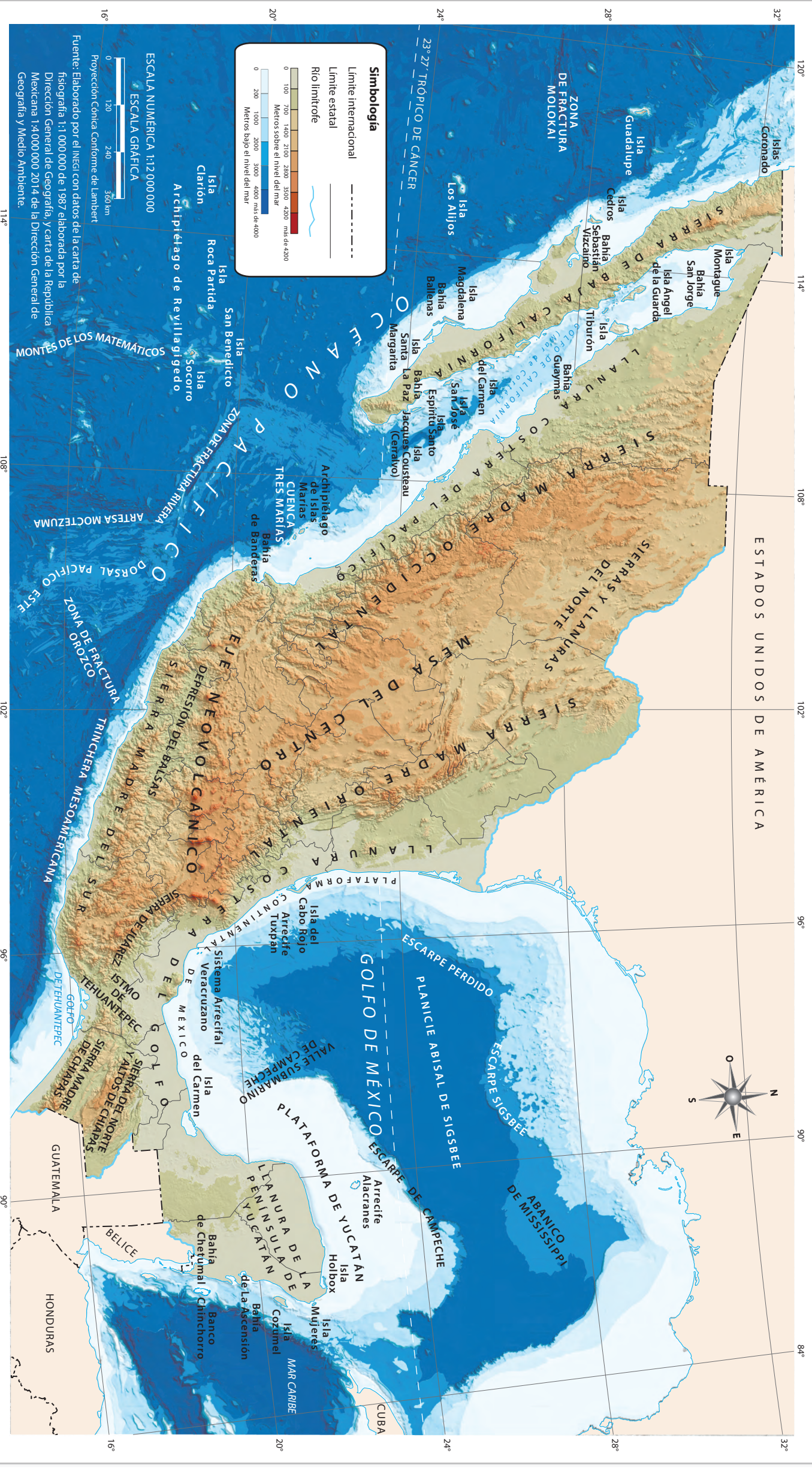
teamericana. La línea de color negro es el límite de las placas donde se genera la mayor cantidad de sismos. El choque entre las placas de Norteamérica y de Cocos crea el vulcanismo del centro del país y los sismos de mayor magnitud.

Observa el mapa: primero identifica el grado de sismicidad de tu entidad; segundo, re-

visa si hay volcanes ahí o en los estados vecinos; por último, interpreta a qué atribuyes que las zonas en verde en el mapa cuenten con baja sismicidad y no tengan volcanes.

Las características de nuestro país nos exigen ser cuidadosos y tener un plan para reducir riesgos. Por ello, elabora una lista con 10 acciones que debes seguir ante el riesgo de actividad sísmica o volcánica. Amplia tu lista con el *Manual de protección civil* del Centro Nacional de Prevención de Desastres (Cenapred).

Relieve



El relieve es el conjunto de formas en la superficie de la Tierra, por ejemplo, montañas, llanuras, mesetas y depresiones. Las montañas son partes elevadas que al alinearse forman sierras; las llanuras son planicies cercanas a la costa; las mesetas, mesas o altiplanos son superficies planas y elevadas, y las depresiones son

porciones de terreno hundidas respecto a otras circundantes.

El relieve del territorio mexicano es variado: tiene grandes sierras, extensas llanuras costeras cerca del golfo de México, del Pacífico y en la península de Yucatán. Las mesetas se encuentran en el centro y norte, en tanto que la depresión más amplia,

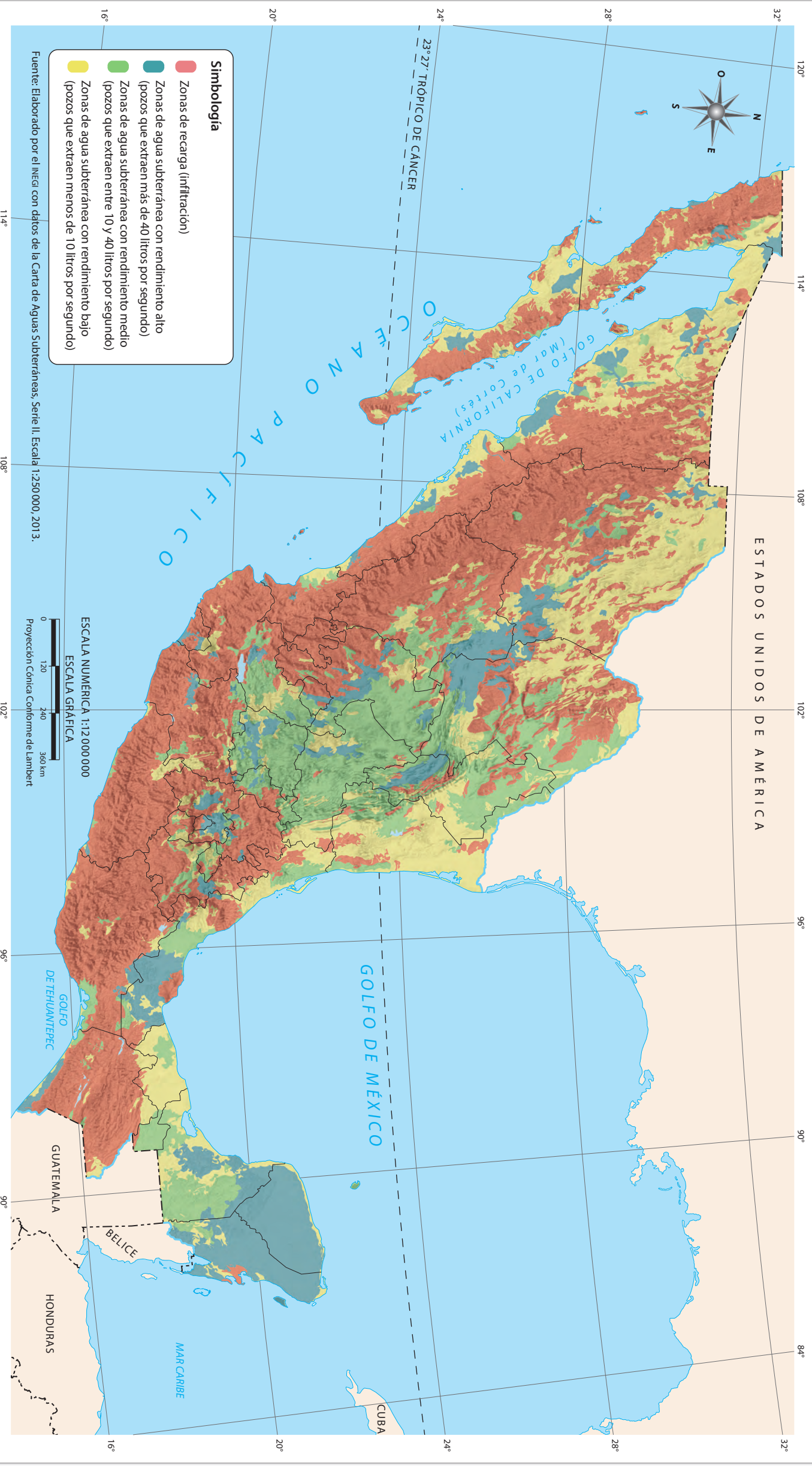
que es la del río Balsas, se localiza en el sur del país.

Observa el mapa. ¿Cuál es la forma de relieve predominante en el territorio mexicano? Anota el nombre de tres sierras que destaquen en México y de tres entidades en las que el relieve plano sea el más común.



Con plastilina u otro material moldeable, elabora una maqueta del relieve de México. Representa las principales sierras, mesetas, planicies y depresiones con los nombres que las corresponden. Identifica las principales formas del relieve de tu estado. Reflexiona sobre la importancia de estas formas de la superficie terrestre en las actividades humanas.

Aguas subterráneas




Simbología

- Zonas de recarga (infiltración)
- Zonas de agua subterránea con rendimiento alto (pozos que extraen más de 40 litros por segundo)
- Zonas de agua subterránea con rendimiento medio (pozos que extraen entre 10 y 40 litros por segundo)
- Zonas de agua subterránea con rendimiento bajo (pozos que extraen menos de 10 litros por segundo)

Fuente: Elaborado por el INEGI con datos de la Carta de Aguas Subterráneas, Serie II, Escala 1:250 000, 2013.


ESCALA NUMÉRICA 1:12 000 000
ESCALA GRÁFICA

0 120 240 360 km
Proyección Cónica Conforme de Lambert

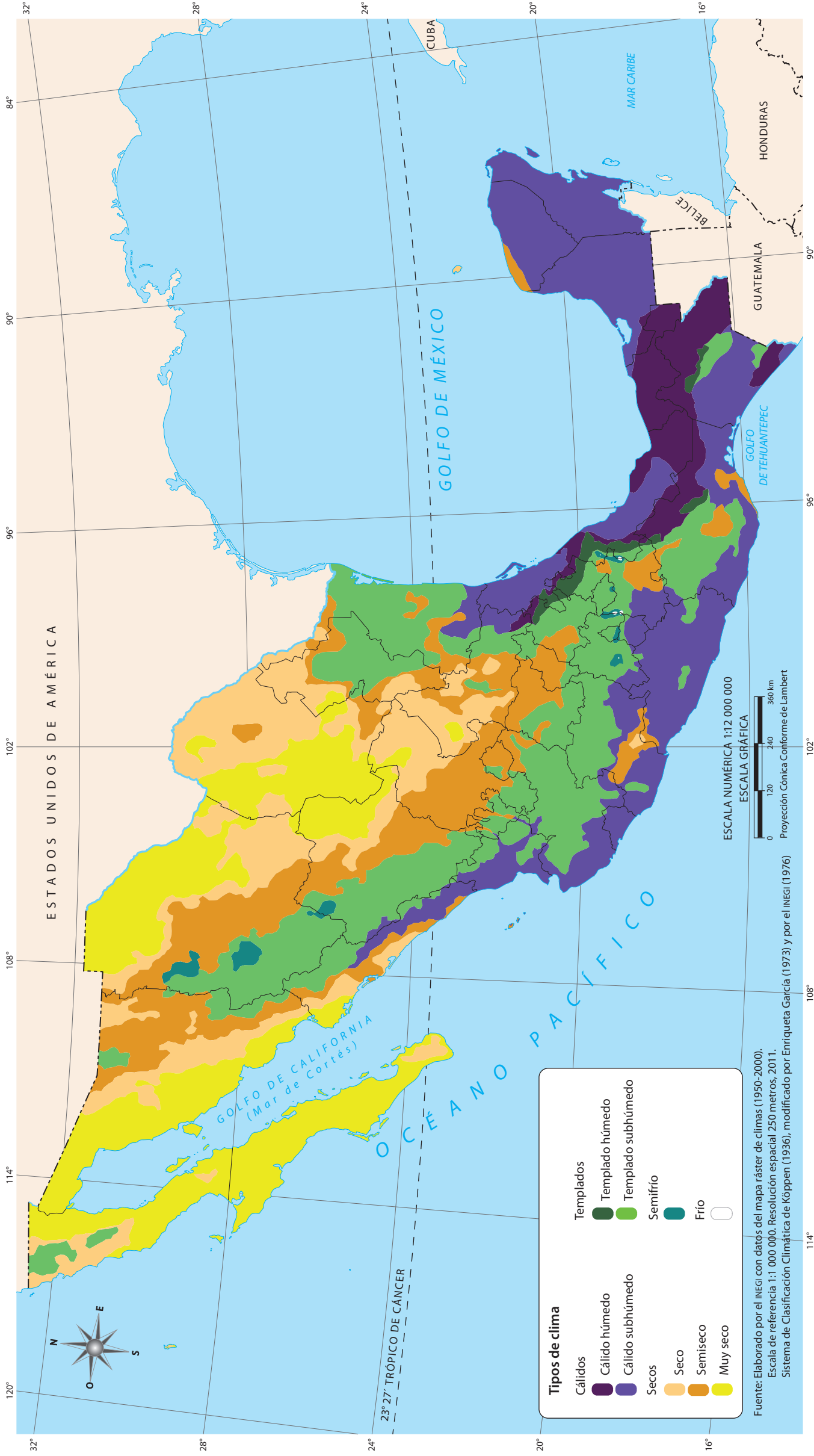
 Las aguas subterráneas son las que se encuentran bajo la superficie terrestre. La mayor parte proviene de lluvias que se filtran al subsuelo a través de las capas de arena, grava o piedras porosas para depositarse en mantos acuíferos, que son las fuentes de abastecimiento más importantes para la población, sobre todo de lugares áridos.

El mapa muestra que la mitad del territorio nacional es zona de recarga, es decir, lugares que por sus condiciones climáticas y del suelo son propicios para la filtración de agua. Las zonas con mayor rendimiento de extracción de agua están en el sureste y en la mesa del centro del país, mientras que en el este y en el norte se encuentran

zonas de agua subterránea con un rendimiento "medio" y "bajo".
Observa el mapa. ¿Cuáles son los estados donde se localizan las zonas de recarga? ¿Qué tipo de rendimiento tiene la entidad donde vives? Indica tres entidades federales con zonas de aguas subterráneas de rendimiento bajo.

 Elabora un folleto sobre aguas subterráneas. Puedes incluir contenidos como los siguientes: explicación de qué son las aguas subterráneas y cómo llegan a los mantos acuíferos, o dibujos en los que representes la filtración del agua de lluvia y los problemas ambientales, sociales y políticos que pueden generarse por la escasez de agua.

Climas



Q El clima es el conjunto de condiciones y características atmosféricas de una región a partir de la observación e información meteorológica obtenida durante al menos 10 años. Los factores que determinan el clima son los siguientes: la latitud, la altitud, el relieve, la distancia al mar y las corrientes marinas.

En México, existe una gran variedad de climas. En el norte del país, predominan los secos; al sur, los cálidos; al este, los cálidos y los templados, y, al oeste, los cálidos, templados y secos.

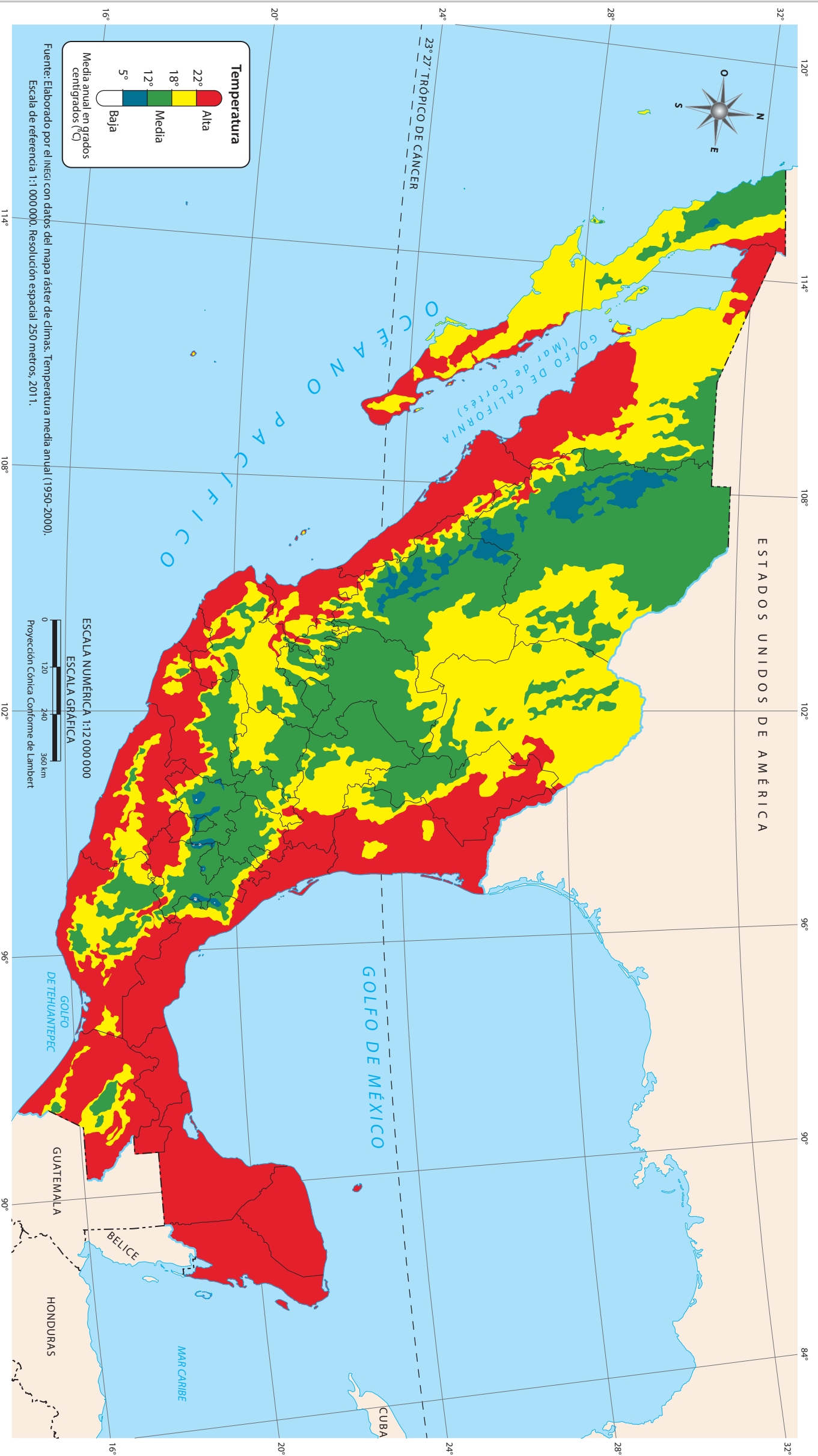
Con ayuda del mapa de "Relieve" de la página 12, encuentra la relación que hay entre las sierras Madre Oriental y Madre


Occidental con el clima templado subhúmedo. ¿Qué factor del clima relacionado con el relieve es determinante en esta relación?



Describe cómo percibes los siguientes elementos del clima en tu localidad: temperatura, lluvia, humedad, viento y nubosidad. Comenta si hay relación con el tipo de clima predominante en el lugar donde vives, de acuerdo con este mapa.


Temperatura



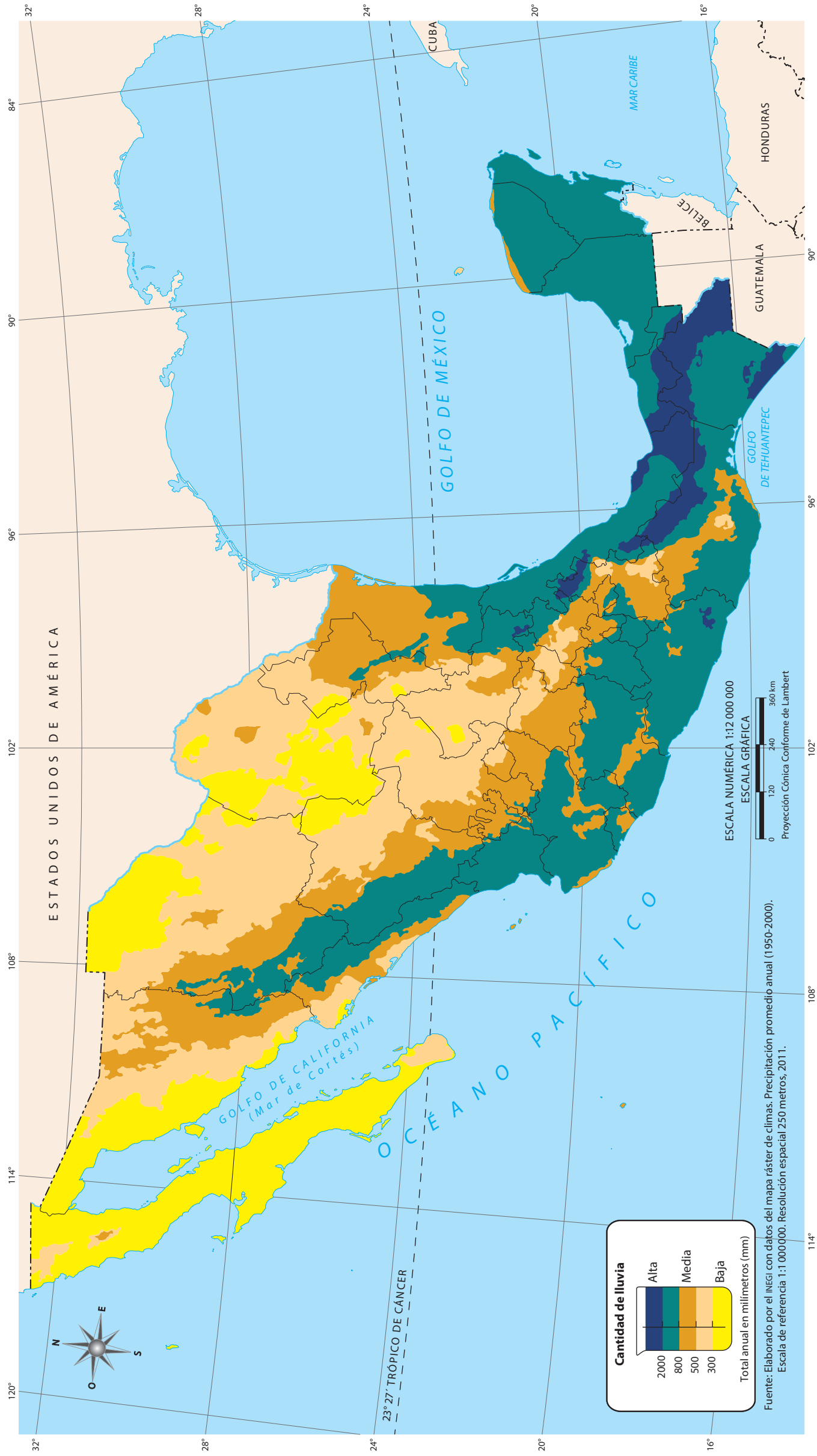
 La **temperatura** indica el grado de calor de un objeto, persona o animal. En el caso del clima, se mide la temperatura del aire. El instrumento utilizado para medir la temperatura es el termómetro que se encuentra en las estaciones meteorológicas. Por ello sabemos, cuando salimos de casa, si hace frío o calor.

En el mapa se observa la temperatura media (promedio) anual de las distintas zonas de nuestro país. La temperatura alta (mayor de 22 °C) corresponde, principalmente, a los estados con zonas costeras, mientras que la temperatura con valores medios predomina en las partes norte y centro.

Ubica en el mapa las zonas que tienen temperatura menor de 12 °C y anota los estados que abarcan. ¿Por qué crees que estos lugares son fríos? Ahora escribe el nombre de cinco estados que tengan temperaturas altas. ¿Qué temperaturas presenta tu entidad?

 Compara el mapa con el de "Relieve" de la página 12. Observa con qué tipo de relieve coinciden las temperaturas altas y qué formas hay en las zonas donde las temperaturas son más bajas. Investiga y explica la relación entre el relieve y la temperatura del aire.

Precipitación anual



La precipitación es la caída de agua líquida (lluvia) o sólida (nieve o granizo) a la superficie terrestre, como resultado de la condensación del vapor de agua presente en la atmósfera. La lluvia se mide en milímetros (mm) utilizando un instrumento llamado pluviómetro.

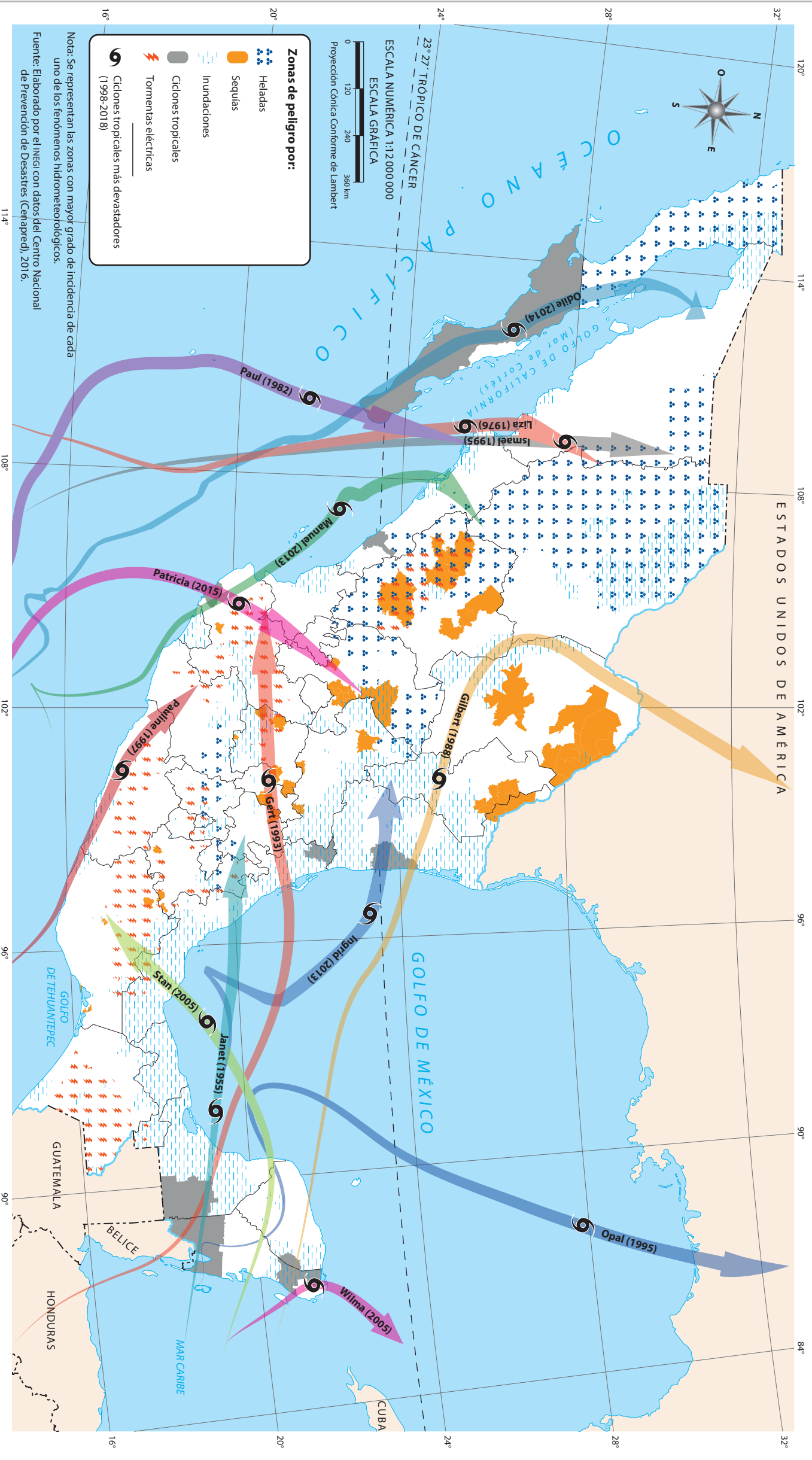
La precipitación anual en México es diferente en cada región. Algunas entidades costeras del golfo de México y del Pacífico registran cantidades de lluvia superiores a 800 mm anuales, siendo el norte de Chiapas y de Oaxaca, así como el sur de Veracruz y de Tabasco, las zonas donde la cantidad de lluvia es alta, con más de 2000 mm al año.

Observa el mapa e identifica las zonas o los estados donde la cantidad de lluvia es menor a los 300 mm anuales. ¿Por qué crees que llueve poco en esas zonas? Apóyate en el mapa de "Climas", en la página 15 y compara ambos mapas. ¿Qué relación encuentras?



¿Te gustaría calcular la cantidad de lluvia que cae en tu localidad? Investiga en la biblioteca o en internet cómo se construye un pluviómetro casero con una botella de plástico. De esta manera podrás medir la cantidad de agua que cae cada día en la temporada de lluvias.

Fenómenos y peligros hidrometeorológicos



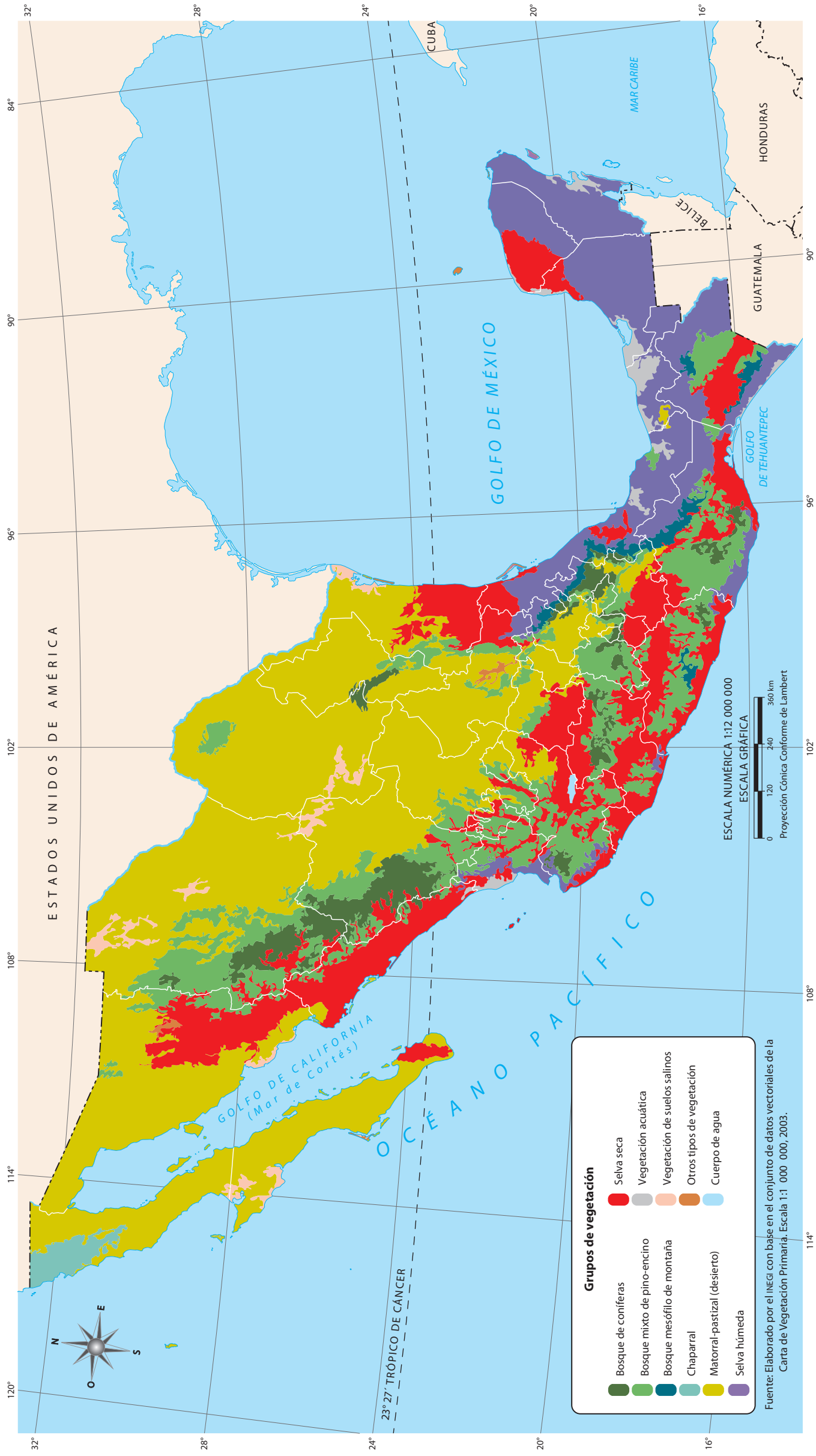
Un **fenómeno hidrometeorológico** es un evento natural que se genera por la acción de agentes atmosféricos (temperatura, humedad, precipitación y viento) que provocan: lluvias extremas, ciclones tropicales, granizo, tormentas eléctricas, inundaciones, heladas, sequías y tornados. Estos fenómenos se convierten en un peligro

para la población cuando ésta no cuenta con medidas de protección civil para enfrentarlos. El mapa muestra las trayectorias de los ciclones tropicales más devastadores que han ocurrido en nuestro país. Además, puede notarse que las principales heladas y sequías ocurren en el norte, las inundaciones en la zona del golfo de México y las tormentas

eléctricas en los estados del centro y sur del país. Registra en tu cuaderno qué fenómenos hidrometeorológicos son los más recurrentes en tu entidad y estados vecinos. Conversa con tus compañeros qué medidas servirían para responder de la mejor manera a posibles situaciones de desastre.

Cuando un fenómeno hidrometeorológico impacta en una localidad y causa inundaciones o daños graves, se considera un desastre. Consulta en internet el *Manual de protección civil* del Cenapred. Escribe en una cartulina qué hacer en caso de lluvia o inundación. Pégalala en tu salón junto con la lista de acciones en caso de un sismo o actividad volcánica. ¿Por qué se debe tener un plan de acción ante estas situaciones?

Regiones naturales



Fuente: Elaborado por el INEGI con base en el conjunto de datos vectoriales de la Carta de Vegetación Primaria. Escala 1:1 000 000, 2003.

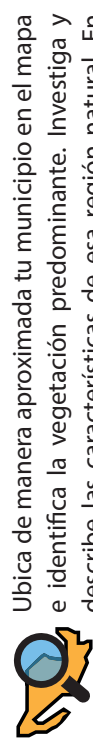
Q Se conoce como *región natural* a las zonas geográficas con características particulares de clima, suelo, latitud y relieve que posibilitan el desarrollo de conjuntos diferentes de plantas y animales.

En México, existen 10 regiones naturales diferentes. La de mayor superficie es el desierto, que se distribuye principalmente en

el norte y centro del país. La diversidad de regiones naturales contribuye a que exista gran variedad de plantas y animales, por lo cual, México es considerado un país megadiverso.

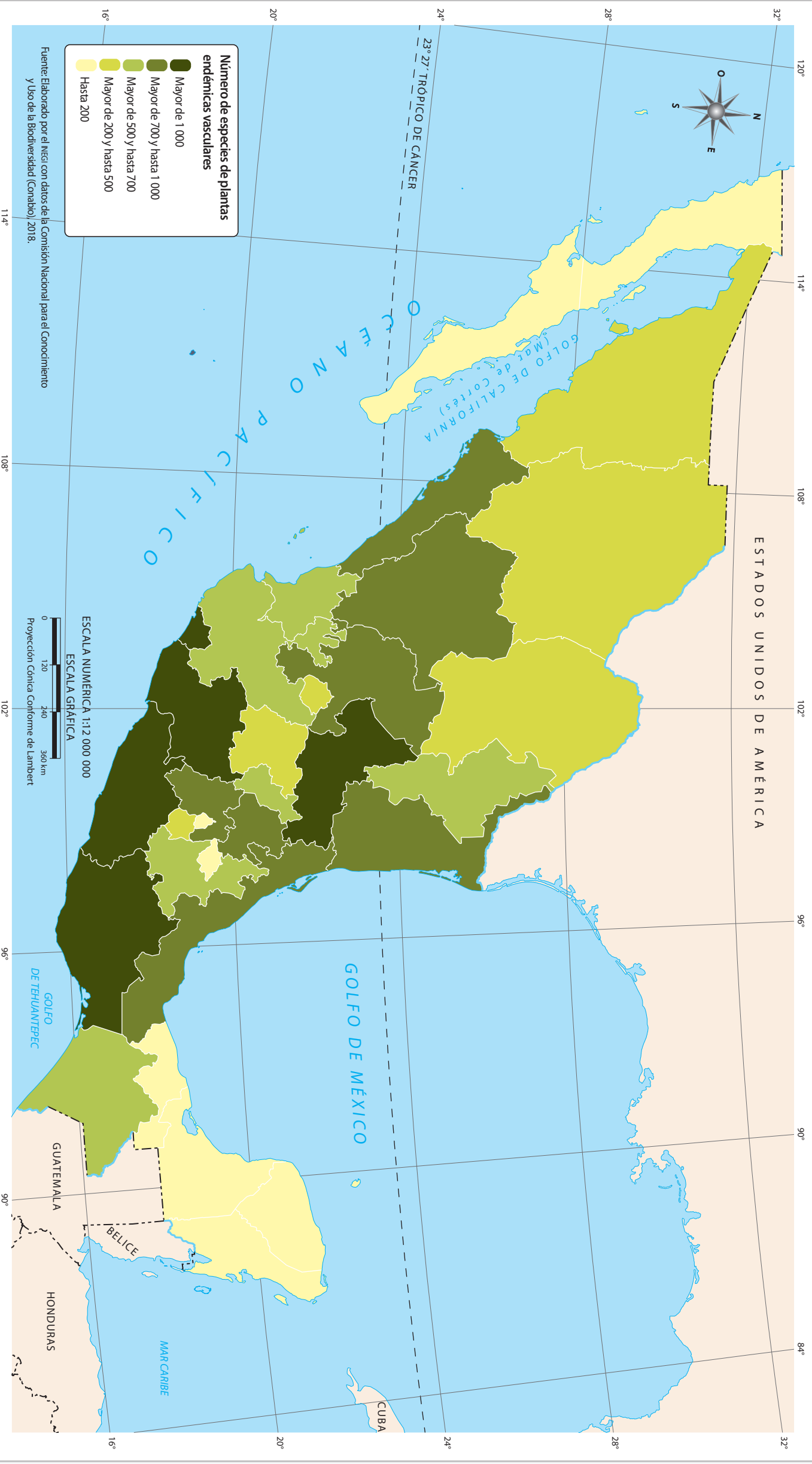
Observa el mapa y responde: ¿qué regiones naturales hay en tu entidad?, ¿cuál es la de mayor extensión? Ubica Coahuila de Za-

ragoza y Nuevo León; además de matorral (desierto), poseen pequeñas áreas de bosque. Utiliza el mapa de "Relieve", de la página 12, y explica a qué se debe la presencia de bosque de coníferas en estas entidades.



Ubica de manera aproximada tu municipio en el mapa e identifica la vegetación predominante. Investiga y describe las características de esa región natural. En una tabla de cinco columnas, coloca la información que recopileste: en la primera columna sitúa la región natural; en la segunda, los animales; en la tercera, las plantas; en la cuarta, el clima, y en la quinta, el tipo de relieve. Incluye ilustraciones.

Plantas endémicas



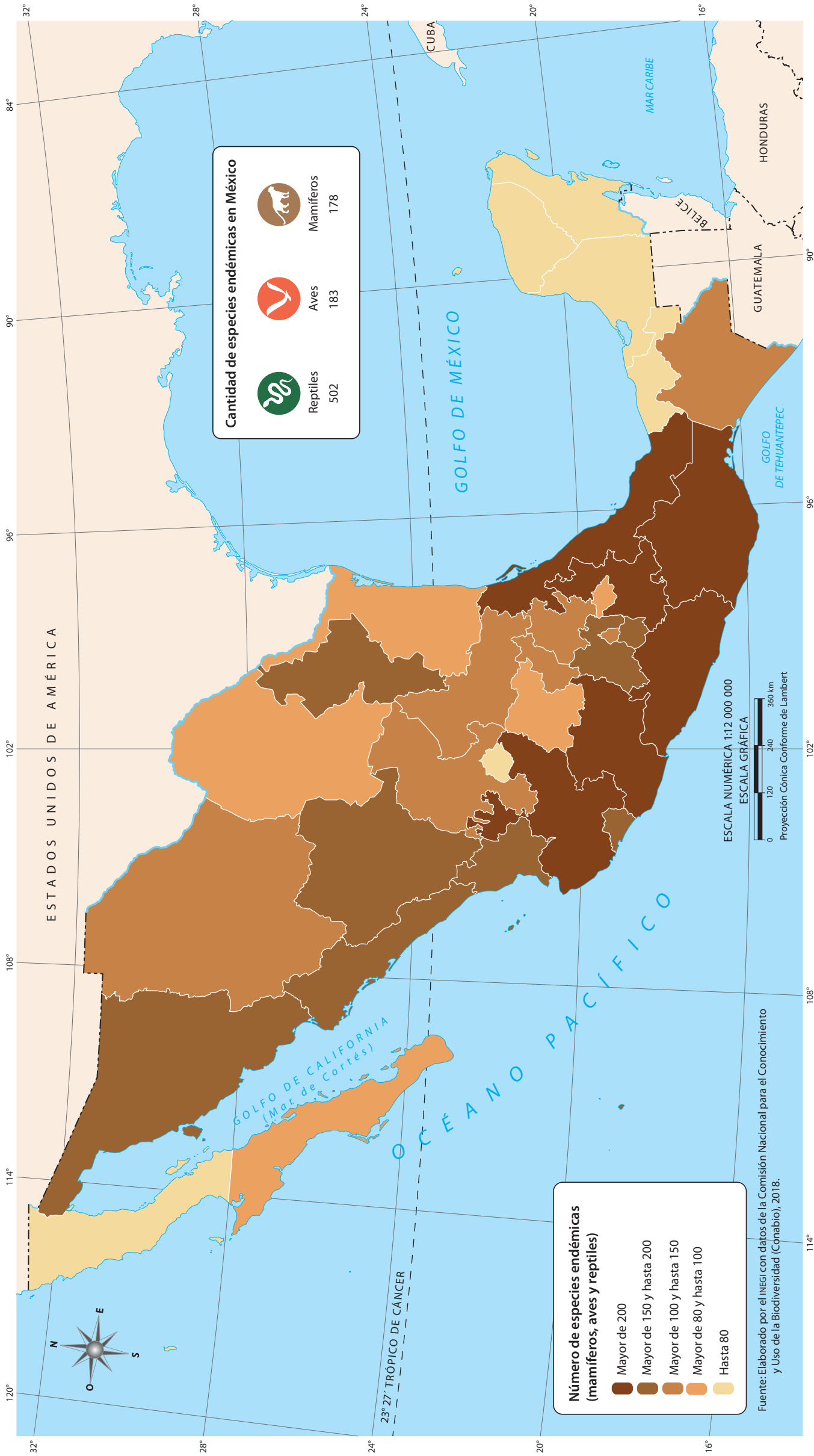
Q Una especie endémica es aquella que sólo habita en un lugar y su distribución está restringida a un espacio determinado. Las especies endémicas pueden ser de plantas o animales. Las plantas vasculares son un ejemplo de especies endémicas. Se caracterizan por tener raíz, tallo y hojas.

En México, la cantidad de plantas vasculares endémicas más alta se localiza en la costa del Pacífico sur (más de 1 000 especies), mientras en las penínsulas de Baja California y Yucatán el número es menor (hasta 200 especies). México tiene una gran variedad de plantas endémicas vasculares, a nivel municipal ocupa uno de los primeros cinco lugares.

¿Crees que a mayor cantidad de regiones naturales en una zona es mayor la probabilidad de especies endémicas? Para saberlo, identifica los estados con mayor cantidad de plantas endémicas y compara el mapa con el de “Regiones naturales”, de la página 19. ¿Qué observas?

Q Como has visto, en México existe un gran número de plantas endémicas vasculares. Haz un herbario con hojas de este tipo de plantas, sean o no endémicas. Al momento de recolectar recuerda que estas plantas tienen raíz, tallo y hojas.

Animales endémicos



Q Una especie endémica es aquella que sólo habita en un lugar y cuya distribución está restringida a un espacio determinado, como desiertos, laderas de montaña, cuevas o islas. México es un país "megadiverso", pues tiene una gran cantidad y diversidad de animales y plantas.

El mayor número de animales endémicos (más de 200) se localiza en los estados de Jalisco, Michoacán, Guerrero, Oaxaca, Puebla y Veracruz. Debido a su aislamiento, las islas también son lugares importantes para los animales endémicos, como el caso de la Isla Tiburón, en las costas de Sonora.

Ubica en el mapa la isla de Cozumel y el estado de Baja California. Observa la superficie que ocupan y compara la superficie de ambos lugares y el número de animales endémicos. Reflexiona: ¿el tamaño de la superficie de un territorio determina el número de especies endémicas? Escribe tu conclusión en el cuaderno.



Investiga acerca de un animal endémico de tu entidad. Con la información obtenida elabora un texto que explique cómo es y cómo vive el animal elegido. Ilústralo con fotos, recortes o dibujos. ¿Por qué es importante conocer acerca de los animales endémicos de tu entidad?

Biodiversidad

La *biodiversidad*, o diversidad biológica, alude a la variedad de vida que hay en el planeta Tierra. Ésta comprende a las múltiples especies de plantas, animales, hongos, algas y microorganismos que viven en una región geográfica determinada. La biodiversidad también incluye a los diferentes tipos de genes, hábitats y ecosistemas.

México es considerado un país "megadiverso", ya que forma parte del selecto grupo de naciones poseedoras de la mayor cantidad y variedad de animales y plantas.

México es un país megadiverso. A nivel mundial, se ubica en las siguientes posiciones:



ACCIONES PARA CONSERVAR LA BIODIVERSIDAD

- Consumir responsablemente y reducir el impacto negativo en el ambiente.
- Depositar los desechos tóxicos en lugares seguros para que no contaminen el aire, el suelo o el agua.
- Evitar el uso de empaques, bolsas y otros productos de plástico o unicel.
- Minimizar la emisión de gases de efecto invernadero a la atmósfera mediante el uso de las llamadas energías limpias.
- Cuidar y respetar las plantas y los animales, así como el hábitat donde viven.
- Evitar consumir carne o adquirir pieles de animales protegidos o en riesgo de extinción, así como tenerlos como mascotas.

Más de 17 000 especies de plantas y animales de todo el mundo están en riesgo de extinguirse. En México, podrían desaparecer en el corto plazo 2 600.

ALGUNAS DE LAS ESPECIES DE PLANTAS Y ANIMALES EN RIESGO SON LAS SIGUIENTES:


- Mariposa monarca, oso negro, mono araña, zorrilla del desierto, berrendo, quetzal, ocelote, murciélago, ballena jorobada, lobo marino de California, ajolote, arrecifes de coral, manglar, pino, cactáceas, ciprés y muchos otros más.
- Dentro de este grupo de atención prioritaria, de manera particular se están realizando acciones para proteger el maíz criollo, al jaguar, al lobo mexicano, al águila real, a la vaquita marina y a la tortuga laúd, entre otras.



Fuente: Elaborado por la Secretaría de Educación Pública (SEP) con datos de la Comisión Nacional para el Conocimiento y Uso de la Biodiversidad (Conabio), 2018.
Secretaría de Medio Ambiente y Recursos Naturales (Semarnat). "Acuerdo por el que se da a conocer la lista de especies y poblaciones prioritarias para la conservación", *Diario Oficial de la Federación*, 5 de marzo de 2014.



Sociedad

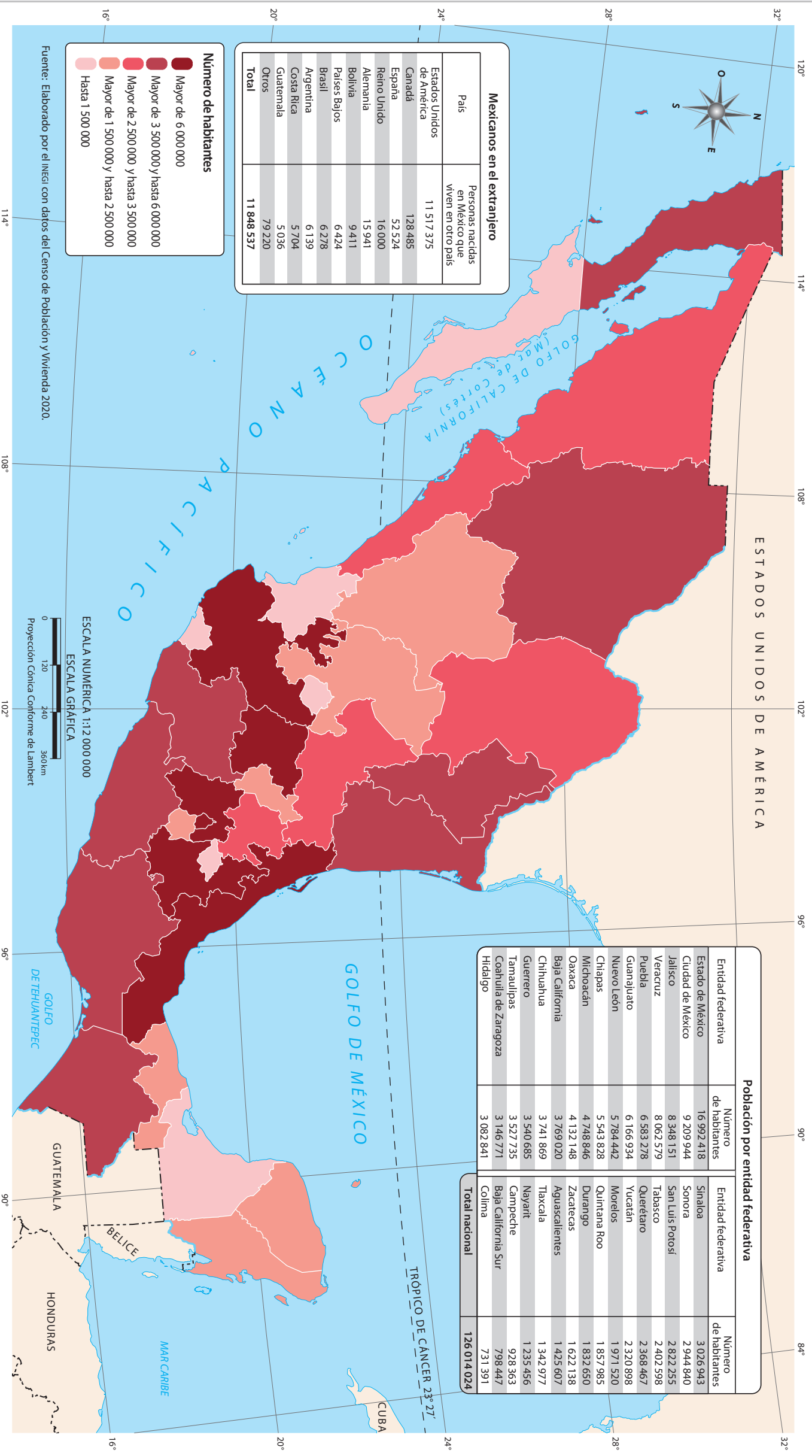


La sociedad está constituida por **grupos de personas o individuos** que se relacionan entre sí y viven de manera organizada para algún fin. Tú y cada uno de los parientes con quien vives forman parte de un grupo llamado familia. A su vez, el conjunto de familias y otros grupos que integran los pueblos y las entidades son la base de lo que conocemos como sociedad.

La sociedad mexicana, a la cual perteneces, tiene muchas **características**: en algunos lugares las personas viven muy juntas, mientras que en otros están muy dispersas; hay sitios en los que el nivel de estudios es alto y en otros bajo, hay grupos con buenos ingresos y otros que viven en la pobreza. ¿Sabes cuál es el número de habitantes de tu entidad o del país?, ¿cuántas niñas y niños hay en México o cómo se distribuye la población?

En las siguientes páginas encontrarás información sobre la sociedad mexicana, desde el número de habitantes hasta las principales causas de muerte en México. Conocer las características particulares de cada grupo de la población facilita la toma de decisiones, así como la creación de estrategias de participación ciudadana para superar los problemas y mejorar la convivencia social.

Población total



Mexicanos en el extranjero	Personas nacidas en México que viven en otro país
Estados Unidos de América	11 517 375
Canadá	128 485
España	52 524
Reino Unido	16 000
Alemania	15 941
Bolivia	9 411
Países Bajos	6 424
Brasil	6 278
Argentina	6 139
Costa Rica	5 704
Guatemala	5 036
Otros	79 220
Total	11 848 537

Número de habitantes
Mayor de 6 000 000
Mayor de 3 500 000 y hasta 6 000 000
Mayor de 2 500 000 y hasta 3 500 000
Mayor de 1 500 000 y hasta 2 500 000
Hasta 1 500 000

Fuente: Elaborado por el INEGI con datos del Censo de Población y Vivienda 2020.

ESCALA NUMÉRICA 1:12 000 000
 ESCALA GRÁFICA
 0 120 240 360 km
 Proyección Cónica Conforme de Lambert

Población por entidad federativa			
Entidad federativa	Número de habitantes	Entidad federativa	Número de habitantes
Estado de México	16 992 418	Sinaloa	3 026 943
Ciudad de México	9 209 944	Sonora	2 944 840
Jalisco	8 348 151	San Luis Potosí	2 822 255
Veracruz	8 062 579	Tabasco	2 402 598
Puebla	6 583 278	Querétaro	2 368 467
Guajuato	6 166 934	Yucatán	2 320 898
Nuevo León	5 784 442	Morelos	1 971 520
Chiapas	5 543 828	Quintana Roo	1 857 985
Michoacán	4 748 846	Durango	1 832 650
Oaxaca	4 132 148	Zacatecas	1 622 138
Baja California	3 769 020	Aguascalientes	1 425 607
Chihuahua	3 741 869	Tlaxcala	1 342 977
Guerrero	3 540 685	Nayarit	1 235 456
Tamaulipas	3 527 735	Campeche	928 363
Coahuila de Zaragoza	3 146 771	Baja California Sur	798 447
Hidalgo	3 082 841	Colima	731 391
Total nacional	126 014 024		

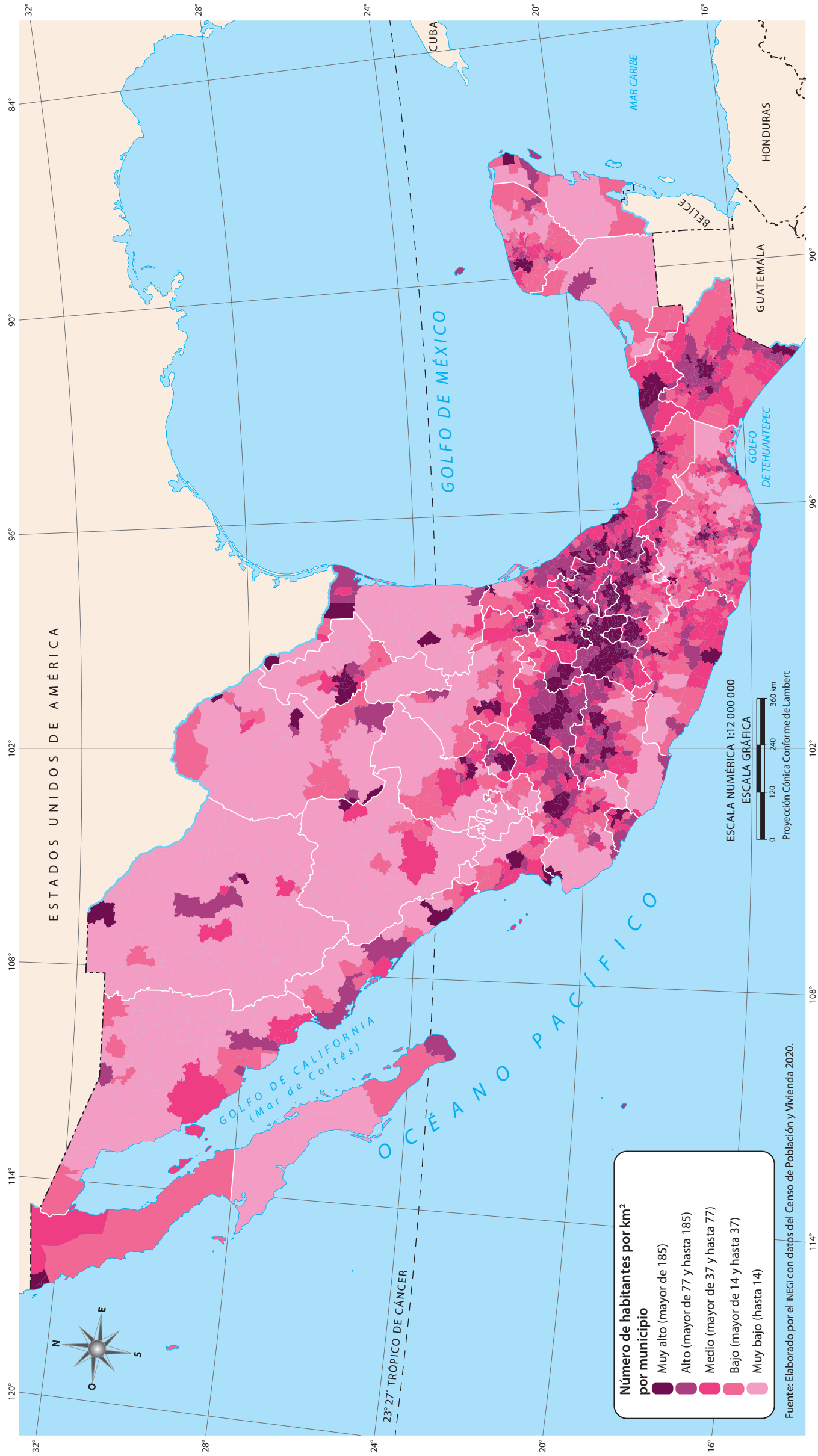
La **población total** de un país, llamada también **población absoluta**, está conformada por todas las personas que viven en él y se obtiene mediante un Censo o una Encuesta Intercensal. Las personas que migran y deciden quedarse a vivir de forma permanente en un país también son parte de su población total.

En 2020, según el INEGI, México tenía una población total de 126 014 024 habitantes, ocupa el 10° lugar a nivel mundial y es el segundo país más poblado de Latinoamérica. El mapa muestra que los estados con mayor población absoluta se localizan en la parte media de México, en tanto, que las dos penínsulas tienen estados con poca población.

Identifica en el mapa los seis estados del país que tienen el menor número de habitantes. Ahora, apóyate en la tabla de población por entidad federativa y responde: ¿qué lugar ocupa, a nivel nacional, el estado donde vives?, ¿cuál estado de los que limitan con el tuyo tiene más población?

Elabora una tabla de tres columnas. En la columna izquierda, escribe el nombre de los siguientes estados: Ciudad de México, Chihuahua, Campeche y Baja California Sur; en la del centro, anota la extensión territorial (este dato está en la sección de "Entidades federativas"), y en la columna derecha, el número de habitantes de cada una. Observa con atención los datos de la tabla y explica si la cantidad de población total de un estado tiene relación directa con su tamaño o extensión territorial.

Densidad de población



Q La densidad de población es el número de habitantes que hay en un kilómetro cuadrado. Este dato sirve para conocer cuántas personas hay en un espacio delimitado y si la población está concentrada o dispersa. Se calcula dividiendo el número de habitantes entre la cantidad de kilómetros cuadrados de un territorio.

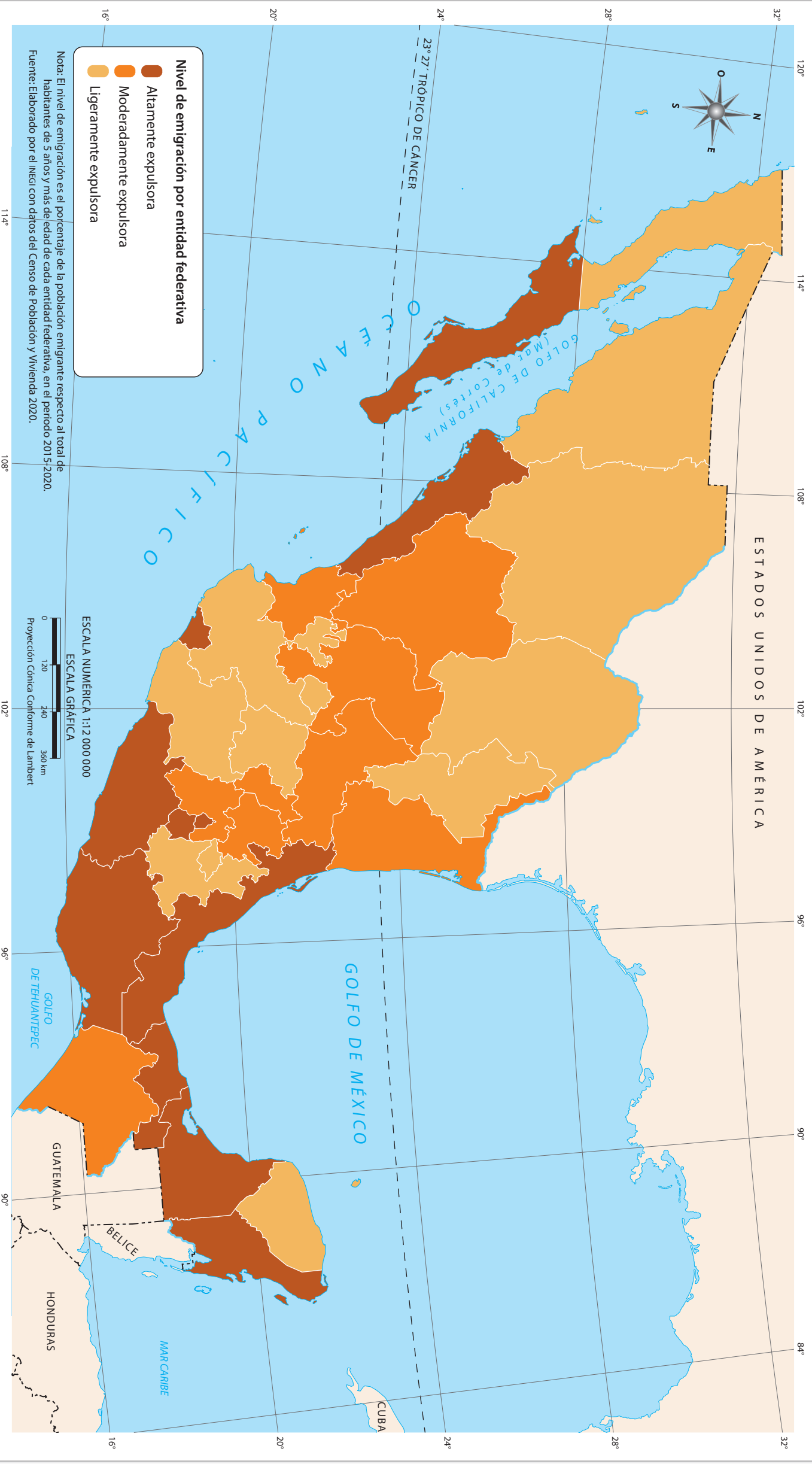
En el mapa se observa que las zonas centro y sur del país son las de mayor densidad poblacional. Generalmente, los municipios con muy alta densidad poblacional corresponden a lugares de comercio y servicios abundantes, como las ciudades de Puebla y Oaxaca, o a grandes áreas urbanas, como la Ciudad de México o Monterrey.


Localiza el municipio donde vives, identifica cuáles su densidad poblacional y qué densidad predomina en tu entidad. Por último, distingue a qué se debe que haya diferentes niveles de densidad poblacional en tu estado.



Investiga las ventajas de vivir en un municipio con muy alta y muy baja densidad poblacional. Con esta información, elabora una tabla comparativa (con al menos cinco ventajas). Analiza tu tabla y responde en tu cuaderno la siguiente pregunta: ¿qué es más conveniente, vivir en lugar con densidad poblacional alta o baja?


Emigración interna



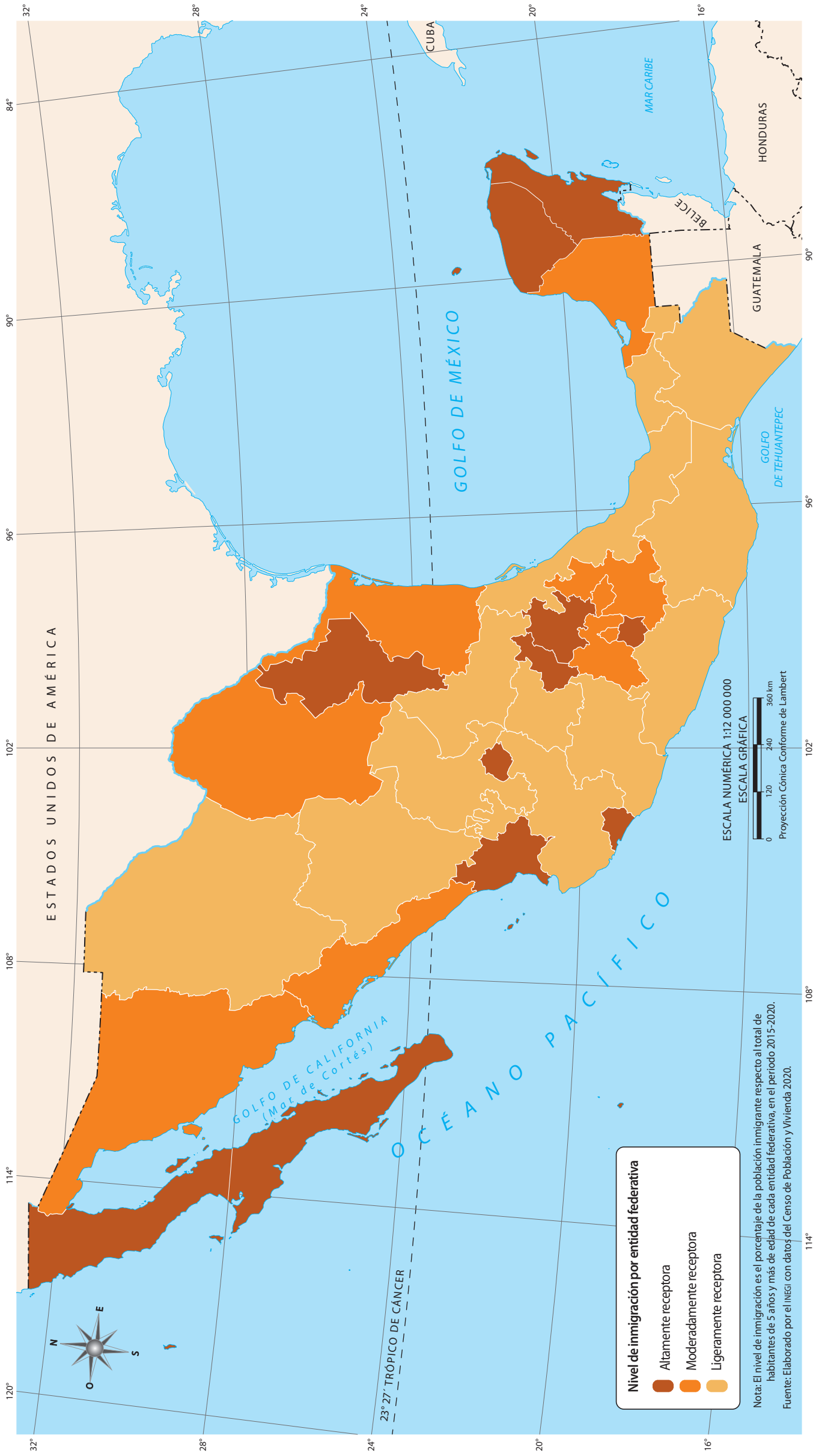
 La **emigración interna** es la salida de personas de su estado o comunidad de origen para trasladarse a otro lugar dentro de las fronteras nacionales. Las razones del desplazamiento son diversas, tales como la inseguridad, la falta de empleo, los desastres de origen natural, la búsqueda de mejorar la calidad de vida, entre otras.

El mapa muestra que hay 11 entidades altamente expulsoras de población hacia otros estados, entre ellas, Sinaloa, Ciudad de México, Veracruz, Oaxaca y Guerrero. Mientras que Sonora y Chihuahua en el norte, así como Guanajuato y Puebla en el centro, presentan una baja emigración interna. Identifica en el mapa todos los estados alta-

mente expulsores y los que expulsan menos personas. ¿Qué nivel de emigración interna presenta el estado donde vives?, ¿a qué atribuyes ese nivel?

 Elabora una lista de las principales razones por las que la gente deja su lugar de origen, y haz un dibujo relativo a cada caso. Preguntas a alguna persona que haya emigrado: ¿por qué dejó su lugar de origen?, ¿cómo fue su experiencia?

Inmigración interna



Q La *inmigración interna* consiste en la acción por la cual una persona (inmigrante) se establece en un lugar diferente al que nació dentro del territorio nacional. Diversas situaciones provocan este cambio, tales como la búsqueda de oportunidades de trabajo, seguridad y mejores servicios de salud y educación.

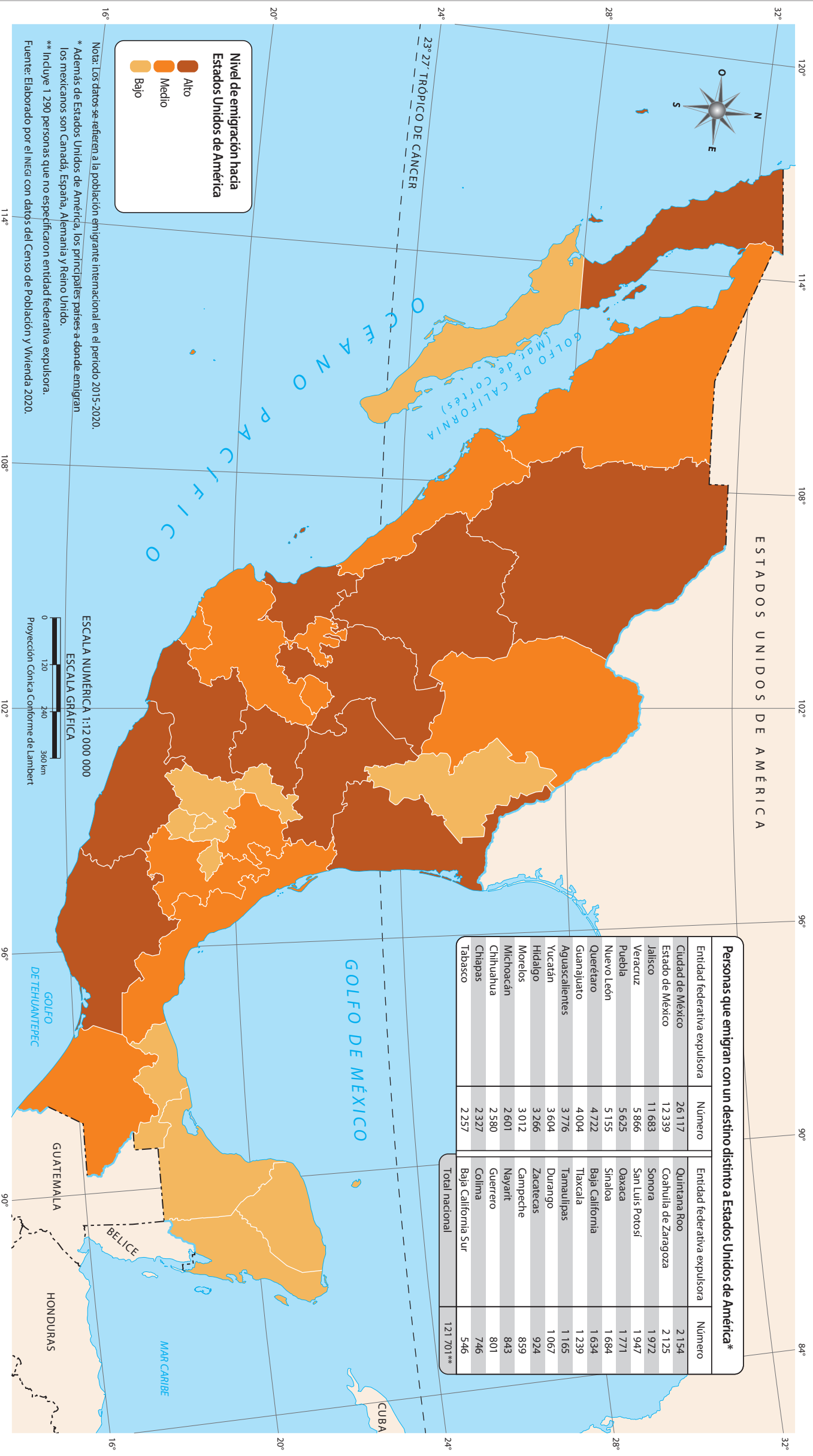
El mapa muestra que Quintana Roo, Yucatán, Morelos, Hidalgo, Querétaro, Colima, Nayarit, Aguascalientes, Nuevo León y los estados de la península de Baja California son entidades con alta recepción de inmigrantes, mientras que hay estados del norte y del sur que tienen una baja recepción de personas.

Observa el mapa y señala los 12 estados que tienen el nivel más bajo de inmigración interna. ¿Cuál es la situación de tu entidad respecto a la recepción de inmigrantes?, ¿por qué?



Investiga las causas por las que una entidad se vuelve atractiva para que la gente se establezca. Con esa información elabora una lista de cuatro principales causas. Si conoces a algún vecino o amigo que sea inmigrante, pídele que te platique su experiencia. ¿Por qué se estableció en un lugar distinto al que nació?

Emigración internacional



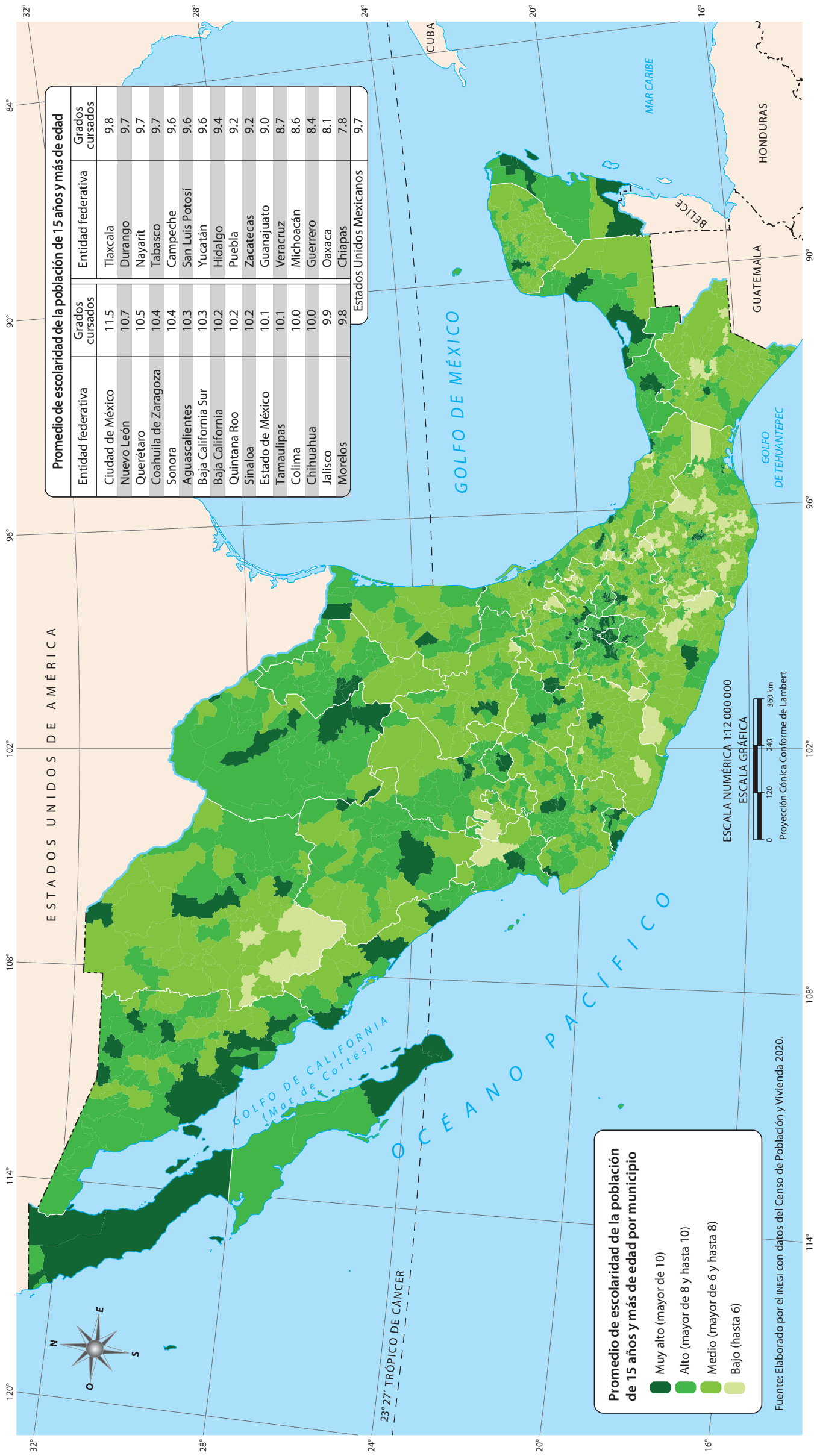
La emigración internacional es el cambio de residencia de las personas de su país de origen a otro, de manera temporal o definitiva. La gente emigra por diversas razones, pero en general, lo hace para mejorar sus condiciones de vida, por ejemplo, mediante la búsqueda de empleo o mayor acceso a servicios sociales.


El mapa muestra la emigración hacia Estados Unidos de América, principal destino de los migrantes mexicanos que cruzan la frontera. Son 11 estados con mayor expulsión hacia el país vecino del norte. La tabla que acompaña al mapa incluye a la población de cada entidad que emigra hacia otros países diferentes a Estados Unidos.

Localiza en el mapa los estados con la menor emigración: ¿qué entidades son? En tu entidad, ¿qué nivel de emigración hacia Estados Unidos de América existe? Anota en tu cuaderno las entidades que presentan un alto nivel de emigración hacia ese país.

Ponte en contacto con un familiar o alguna persona que haya emigrado a otro país o que conozca a alguien que lo haya hecho. Platica con él para investigar las razones por las que se fue de México, si mejoró sus condiciones de vida y cuáles fueron los principales problemas que enfrentó. Si quieres informarte más, en internet también puedes encontrar testimonios de migrantes.

Escolaridad




 La *escolaridad* es el nivel de educación de una población determinada, es decir, el promedio de grados aprobados desde primero de primaria hasta el último año cursado. En México, la escolaridad de los habitantes de 15 años y más es, en promedio, de nueve grados, que equivale a la educación secundaria concluida.

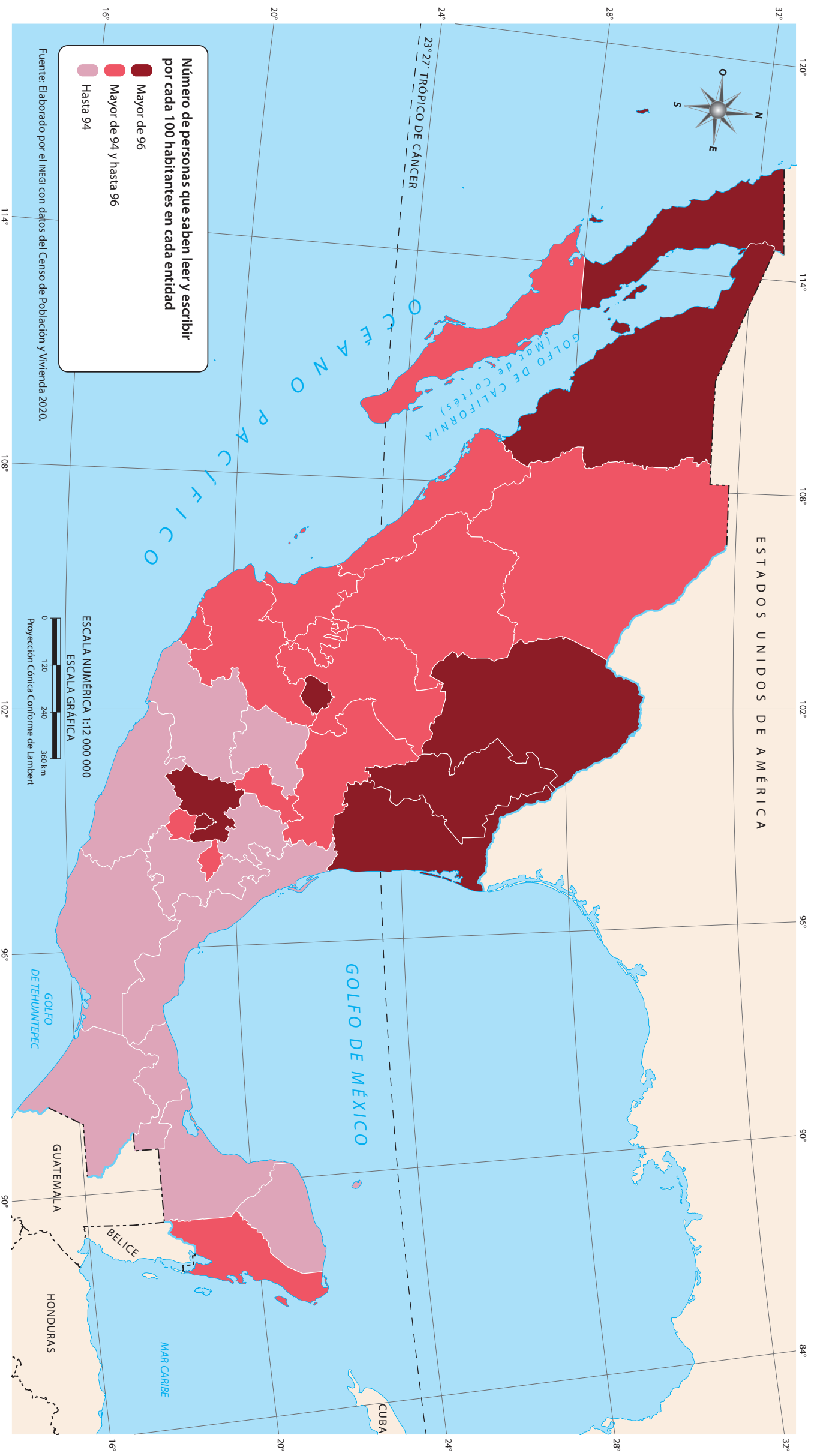
La información del grado promedio de escolaridad de la población de 15 años y más está representada a nivel municipal. Se aprecia que en ocho entidades la mayoría de sus municipios cuentan con un grado Alto y Muy alto, tal es el caso de la península de Baja California, Sonora, Coahuila de Zaragoza y la Ciudad de México.


Identifica en qué entidades hay municipios con el grado de escolaridad Bajo (hasta 6), lo que significa que, en promedio, tienen conculda la educación primaria. Tu entidad en su conjunto, ¿en qué promedio de escolaridad se encuentra?



Calcula el promedio de escolaridad de tu familia: suma los grados aprobados desde primero de primaria hasta el último año cursado por cada integrante, luego divide el resultado de la suma entre el número de integrantes. ¿Cuál es el promedio de escolaridad de tu familia?


Alfabetización



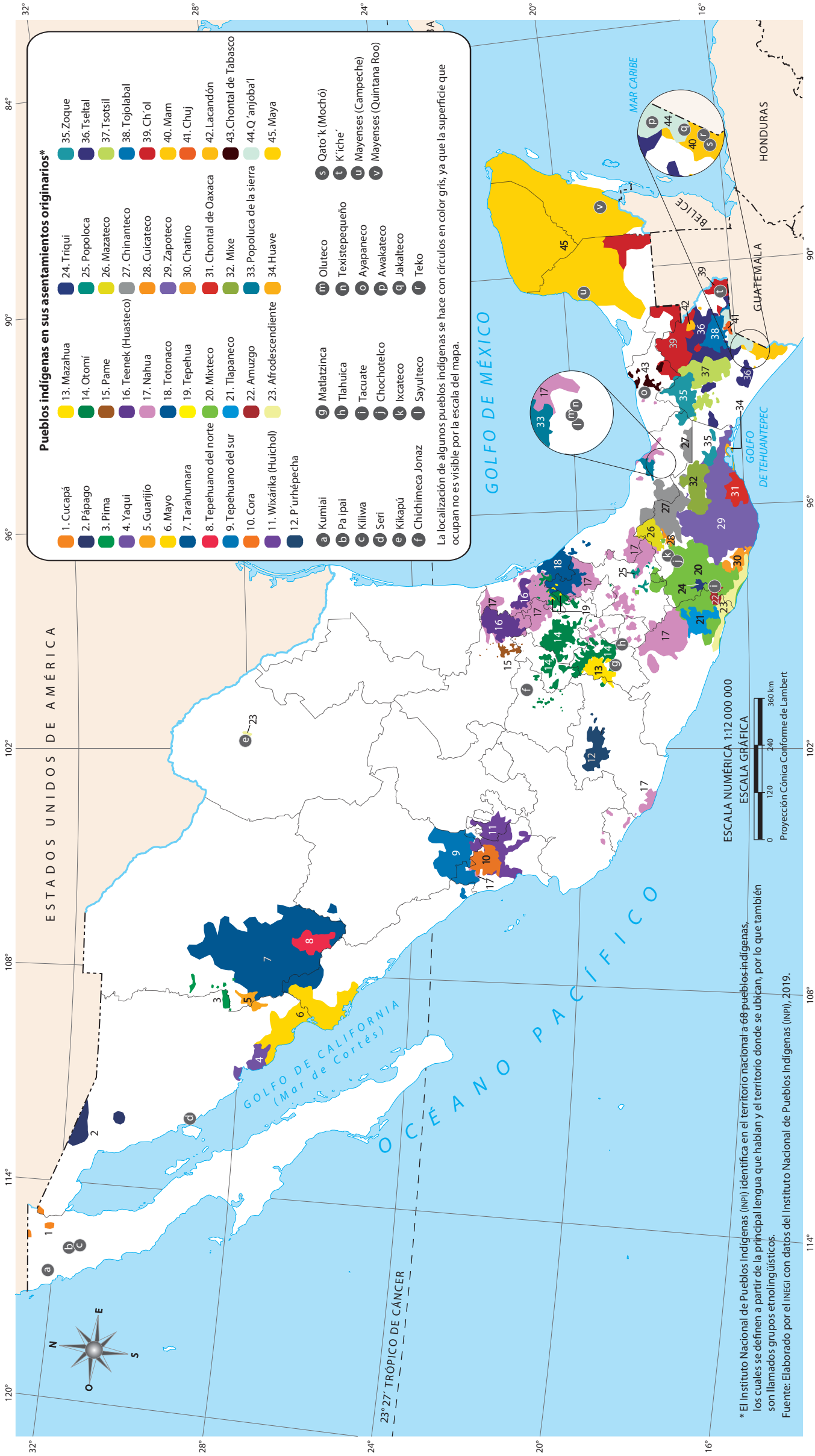
 La alfabetización es la habilidad mínima de leer y escribir. Según la Organización de las Naciones Unidas para la Educación, la Ciencias y la Cultura (Unesco, por sus siglas en inglés), la alfabetización contribuye a mejorar la calidad de

vida de los pueblos, brinda a las personas oportunidades para participar en el mercado laboral y contribuye a reducir la pobreza. En el norte del país se encuentra el nivel más alto de personas alfabetizadas de 15 años o más de edad, en comparación con los

estados del sur y sureste. Compara este mapa con el de "Rezago social", de la página 34. ¿Qué observas?, ¿qué relación encuentras entre ambos mapas? Escribe tus conclusiones.

 Indaga con tus vecinos cuántas personas han adquirido la habilidad de leer y escribir y cuántas no. Clasifícalas por sexo y edad. Elabora una gráfica de barras en la que representes el número de personas alfabetizadas y analfabetas. Con base en tus resultados, concluye cuál es el nivel de alfabetización en tu localidad. ¿Qué acciones pondrías en juego para alfabetizar a las personas que no saben leer ni escribir?

Pueblos indígenas



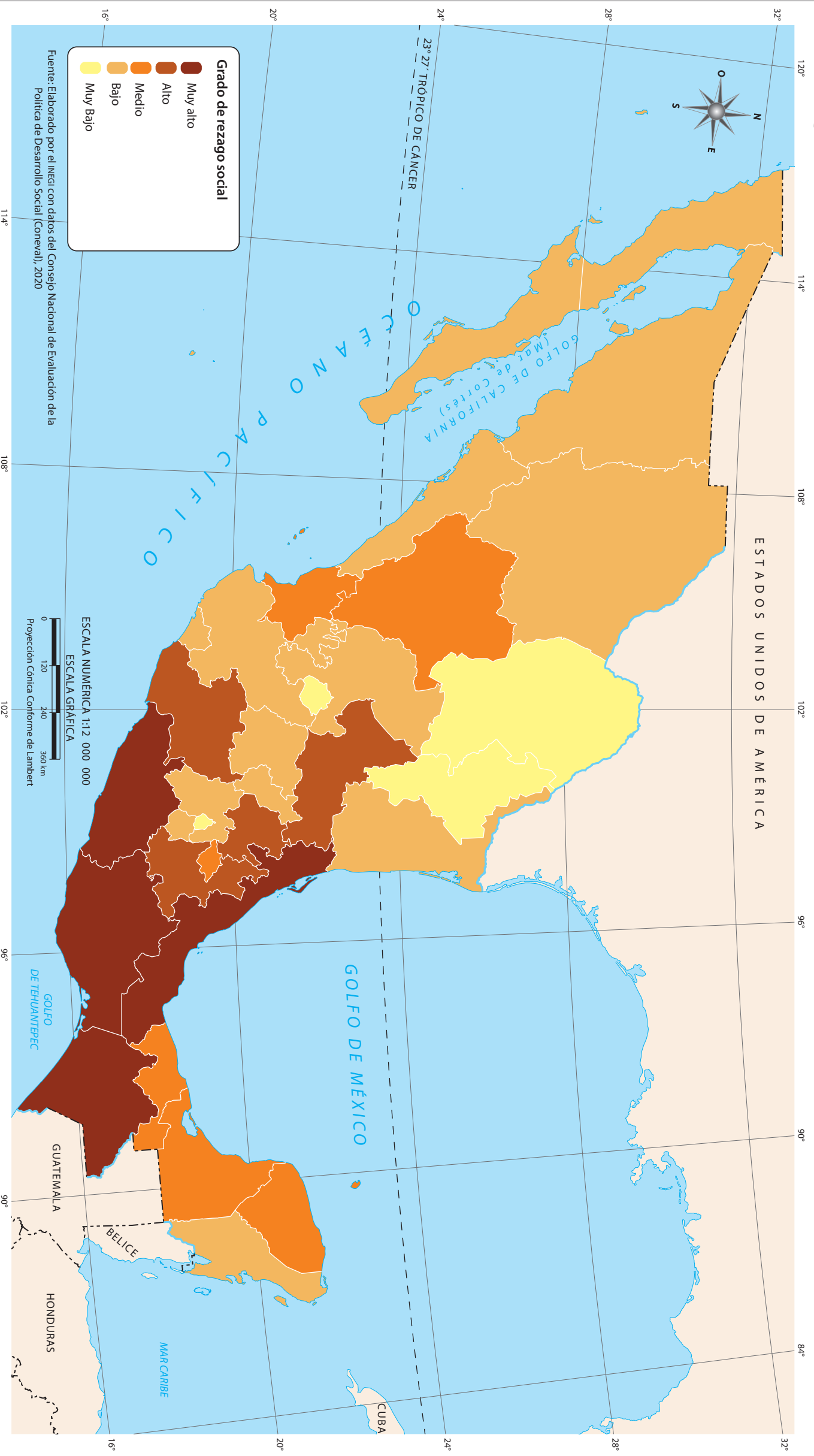
Los pueblos indígenas se caracterizan porque sus integrantes se expresan en lenguas distintas al español y tienen rasgos culturales que les dan identidad, como la indumentaria, las fiestas, las tradiciones o la forma de elegir a sus autoridades. En este mapa se representa la distribución de la población indígena en sus asentamientos originarios, los cuales forman parte de la República Mexicana. La mayor parte de los pueblos indígenas se ubica en lo que fue Mesoamérica, territorio que abarcó desde el centro hasta el sur del país, e incluso algunos países de Centroamérica. En este vasto territorio se desarrollaron las grandes culturas agrícolas indígenas del México antiguo.

Observa el mapa, luego escribe en tu cuaderno el nombre de los estados donde se ubica la población maya e indica en cuáles habitan los siguientes pueblos: tarahumaras, zapotecos y tzeltales. Compara el mapa con el de "Hablantes de lenguas indígenas", de la página 86. ¿qué relación encuentras entre ambos mapas?



Elije un pueblo indígena e investiga sus características principales, por ejemplo, ubicación, población, lengua, tradiciones y costumbres, así como los problemas que enfrentan en la actualidad. Con la información recabada elabora un folleto. Escribe una reflexión acerca de la importancia de conocer, preservar, respetar y enriquecer la diversidad cultural y lingüística de México.

Rezago social



Q El rezago social es un indicador que incorpora aspectos de carencia social, tales como: 1) educación, 2) acceso a servicios de salud, 3) servicios básicos de la vivienda (agua, electricidad, drenaje), 4) características y espacios de la vivienda (calidad de los materiales de construcción y número de cuartos en relación con los ha-

bitantes) y 5) activos en el hogar (lavadora, refrigerador).

El grado más alto de rezago social se localiza en Veracruz, Chiapas, Oaxaca, y Guerrero. En contraste, Coahuila de Zaragoza, Nuevo León, Aguascalientes y Ciudad de México tienen el nivel más bajo.

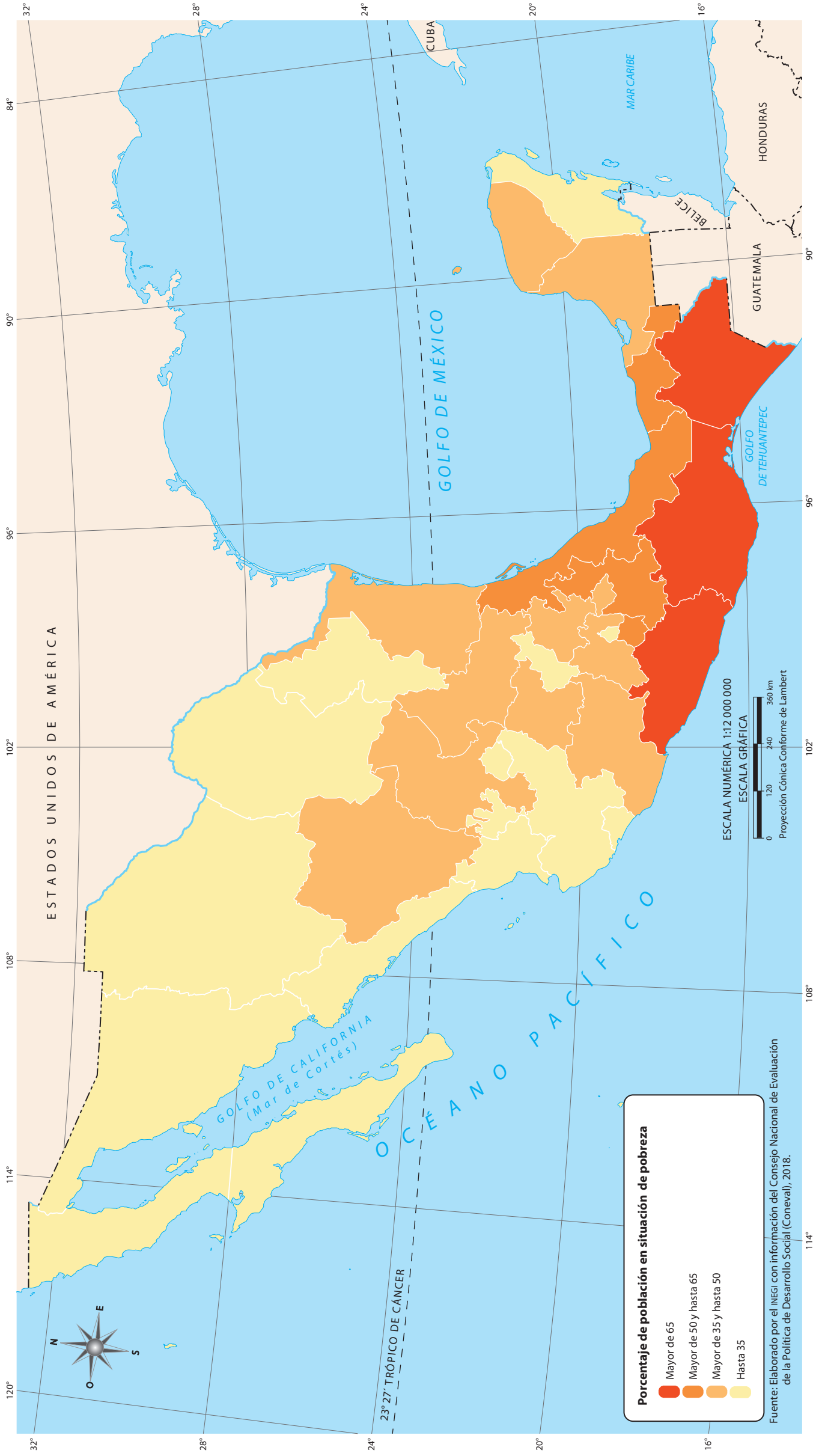
Con base en la información que muestra el mapa, elabora una gráfica de barras sobre el número de estados que se encuentra en cada grado de rezago social. ¿Qué grado de rezago social predomina en el país? ¿A qué atribuyes que Nuevo León, Aguascalientes, Ciudad de México y Coahuila de Zaragoza sean las entidades con el grado más bajo?



Investiga si en el lugar donde vives se tienen dificultades para acceder a la educación y a los servicios de salud. También indaga cómo son los servicios básicos y la calidad de las viviendas.

De acuerdo con la información obtenida, identifica cuáles el grado de rezago social de tu localidad: Muy alto, Alto, Medio, Bajo o Muy bajo.

Pobreza



Q La pobreza es la condición de las personas cuyo ingreso es insuficiente para acceder a los bienes y servicios que satisfacen sus necesidades básicas: alimentación, salud, educación, seguridad social y vivienda.

Los estados con un mayor número de personas en situación de pobreza se con-

centran en el sur del país, mientras que las entidades con menor número de población en situación de pobreza tienden a estar en el norte. Según datos de 2018, casi la mitad de la población de México (52.4 millones de personas) vivía en condiciones de pobreza.

Identifica en qué situación de pobreza se encuentra tu entidad. ¿A qué crees que se

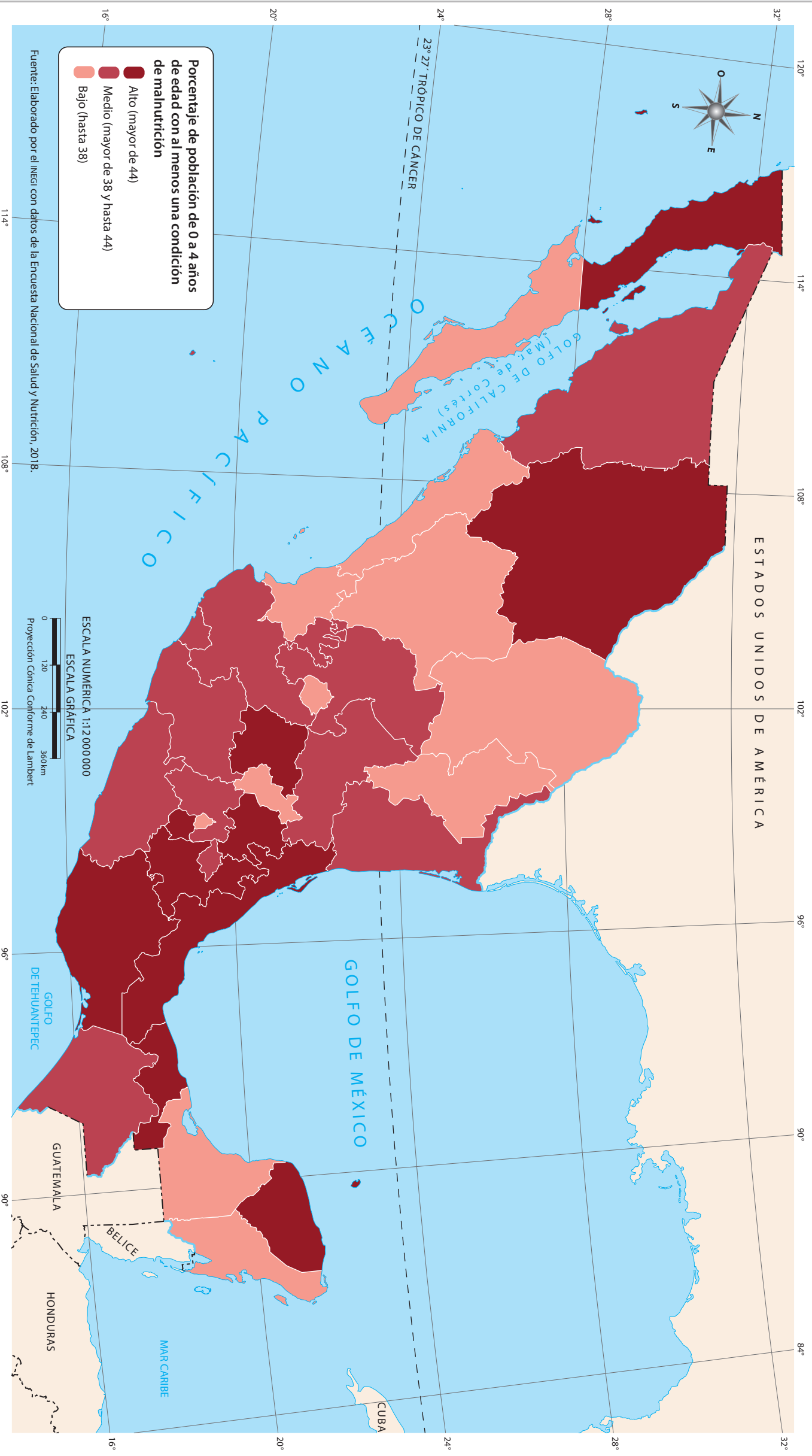
deba esto? Compara este mapa con el de "Desarrollo humano" de la página 45 y responde: ¿los estados con desarrollo humano bajo coinciden con los que tienen mayor número de población en situación de pobreza?, ¿a qué se debe?



Escribe un texto en el que propongas ideas para que las niñas y los niños mexicanos no vivan en situación de pobreza. ¿Qué harías?

Para hacer tus propuestas, toma en cuenta los bienes o servicios cuyo acceso limitado o nulo son expresión de la pobreza.

Malnutrición infantil



Por malnutrición se entienden las carencias, los excesos o los desequilibrios de la ingesta de alimentos de una persona. Abarca dos grupos, uno es la desnutrición, que comprende el retraso del crecimiento (baja estatura), la emaciación (peso inferior al que corresponde a la estatura), y las carencias o insuficiencias de vitam-



nas y minerales; el otro es la obesidad o riesgo de sobrepeso. En el mapa se observa que 10 entidades registran niveles altos con alguna condición de malnutrición en niños de 0 a 4 años. La pobreza, la desigualdad, la escasa educación de los padres y la falta de servicios de salud son factores que agravan la malnutrición infantil.

A su vez, hay 11 estados con nivel bajo de malnutrición. Registra en tu cuaderno cuáles entidades tienen un valor "Alto" y "Bajo" de malnutrición. Compara esta información con el mapa de "Pobreza", de la página 35. ¿Qué observas?, ¿qué relación encuentras entre ambos mapas?



Elabora una lista de los alimentos que consumes en la escuela. Compara tus resultados para hacer una lista grupal de los cinco alimentos de mayor consumo. Investiga si esos alimentos son nutritivos o no. Realiza propuestas para mejorar la calidad de los alimentos que se comen en la escuela. Con ayuda de tu maestro entrega tus propuestas al Consejo Escolar de Participación Social.

Principales enfermedades en niños de 10 a 14 años

Infecciones respiratorias agudas

Se trata de enfermedades que pueden afectar los oídos, la nariz, la garganta o los pulmones. Son ocasionadas por virus, bacterias o parásitos que se transmiten de persona a persona o por contacto con superficies contaminadas.

Síntomas: tos, dolor de cabeza, fiebre, nariz tapada e irritación.



Infección de vías urinarias

Es un trastorno del sistema urinario en el que existe un proceso inflamatorio por la presencia de un agente infeccioso.

Síntomas: necesidad constante de orinar y sensación de ardor, signos de sangre y olor fuerte en la orina; dolor pélvico en el caso de las mujeres.



Úlceras, gastritis y duodenitis

Consiste en la lesión de la superficie mucosa del estómago o del duodeno (parte del intestino delgado). Son causadas por el estilo de vida (cafeína, fármacos antiinflamatorios), el estrés o la dieta.

Síntomas: anemia, hinchazón, eructos, náuseas, vómito, poco apetito, cansancio y debilidad.



Gingivitis y enfermedades periodontales

Son enfermedades infecciosas causadas por la placa bacteriana bucal, afectan los tejidos de soporte de todos los dientes.

Síntomas: encías rojas, hinchadas y sensibles.



Intoxicación por picadura de alacrán

Es el estado de envenenamiento causado por la inoculación de veneno mediante la picadura de este arácnido.

Síntomas: dolor intenso, adormecimiento del sitio de la picadura, irritación, secreción nasal, salivación abundante, ceguera temporal, dolor abdominal, dificultad para respirar, vómito y, en casos graves, cambios en el ritmo y frecuencia cardíaca, trastorno del habla y palidez en los labios.



Infecciones intestinales por otros organismos y las mal definidas

Son enfermedades que atacan el estómago y los intestinos ocasionadas por bacterias, parásitos, virus y algunos alimentos como leche y grasas.

Síntomas: diarrea y, por consecuencia, deshidratación.



Otitis media aguda

Enfermedad del oído medio, generalmente la precede una infección respiratoria.

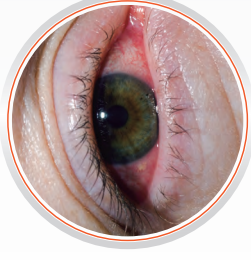
Síntomas: inflamación, fiebre, irritabilidad, anorexia, otalgia (dolor de oído) y vómito.



Conjuntivitis

Es la inflamación de la superficie ocular. Puede ser clasificada como infecciosa y no infecciosa, y como aguda, crónica o recurrente.

Síntomas: ojos enrojecidos, aumento del lagrimeo, prurito (pícor u hormigueo que provoca el deseo de rascarse), hinchazón de la conjuntiva y los párpados.



Obesidad

Es una enfermedad que se define como la acumulación excesiva de grasa corporal, que puede generar riesgos para la salud, entre ellos: diabetes, hipertensión, ataques cardíacos, algunos cánceres, entre otros.

Síntomas: sudoración excesiva, fatiga, sensación de falta de aire (disnea), dificultad para dormir, dolor de espalda o en articulaciones y depresión.



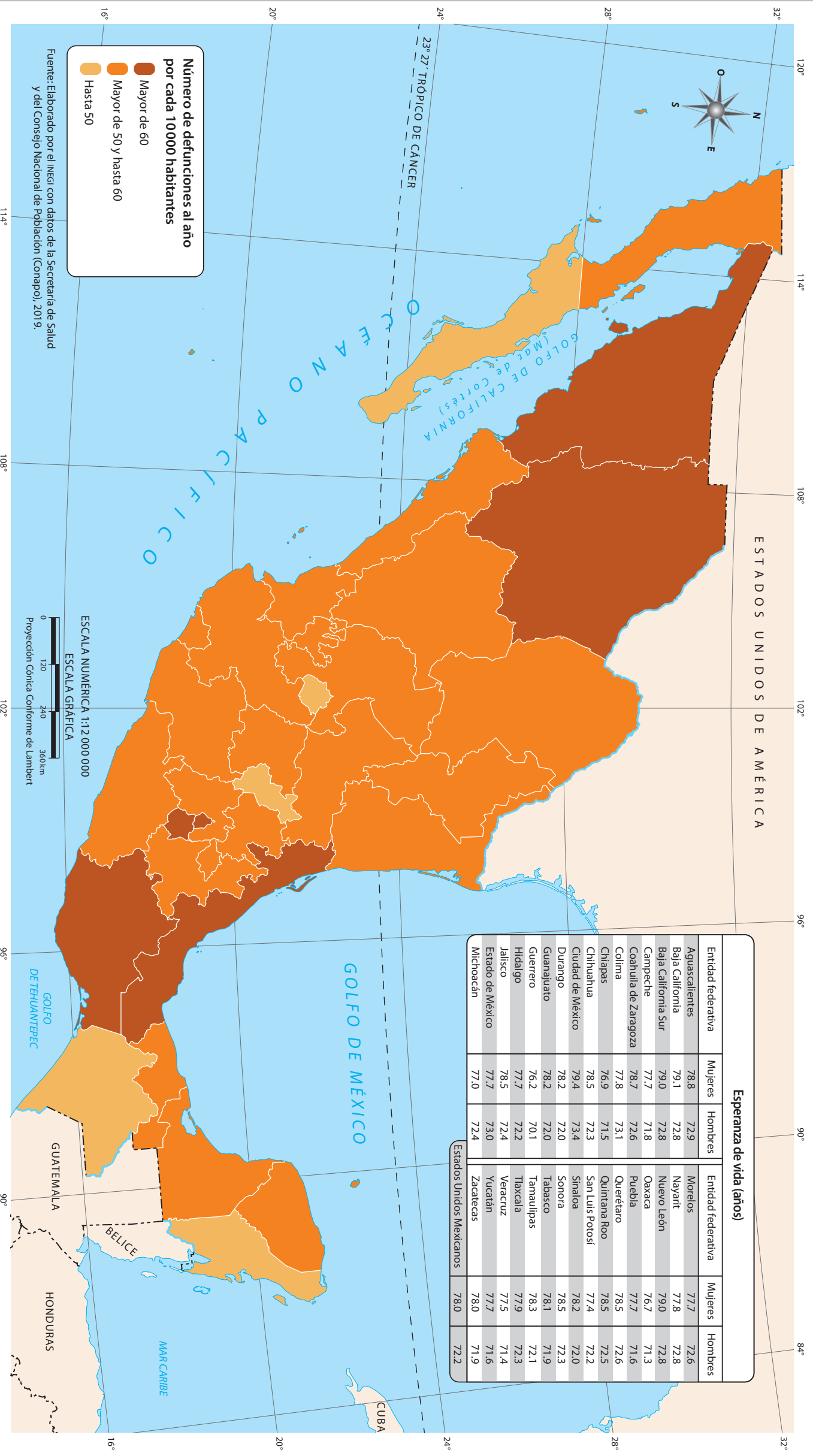
Asma y estado asmático

Es una enfermedad inflamatoria crónica, no contagiosa, de las vías respiratorias. Sin embargo, si existen antecedentes familiares de asma, es alta la probabilidad de presentar este padecimiento.

Síntomas: es común que se presente con falta de aire, silbido o sensación de opresión en el pecho y tos.



Mortalidad



La **mortalidad** se refiere a la cantidad de personas que mueren por diversas causas en un lugar y en un periodo determinado. Conunmente, se calcula a partir del número de defunciones por cada 1 000 o 10 000 habitantes.

En México, el mayor número de defunciones se registra en las entidades de Sonora,

Chihuahua, Ciudad de México, Morelos, Veracruz y Oaxaca, mientras que los estados que reportan una menor cantidad son Baja California Sur, Aguascalientes, Querétaro, Chiapas y Quintana Roo. Los estados restantes, que son más de la mitad, tienen un nivel medio de defunciones.

Observa el mapa y escribe el nombre de los estados que presentan un nivel medio de mortalidad (mayor de 50 y hasta 60). ¿Tu entidad en qué situación se encuentra? A partir de la información de la tabla, identifica los cinco estados que tienen mayor esperanza de vida. ¿Qué relación existe entre la mortalidad y la esperanza de vida?

Busca información en este Atlas y en otras fuentes acerca de las principales causas de defunción en México. Elabora una lista con las tres causas más comunes y escribe un texto breve sobre las acciones que consideras necesarias para que se reduzcan las defunciones.

Principales causas de muerte en México

MORTALIDAD

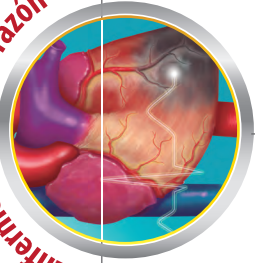
La *mortalidad* se refiere al número de defunciones en la población de un lugar determinado, en un periodo establecido y con la indicación de las causas que las provocaron.



PRINCIPALES CAUSAS DE MUERTE

Las principales causas de muerte son:

1. Enfermedades del corazón



Las enfermedades del corazón, o cardiovasculares, son un conjunto de trastornos de este órgano y de los vasos sanguíneos. Se clasifican en: hipertensión arterial, infarto de miocardio, enfermedad cerebrovascular, insuficiencia cardíaca, entre otras.



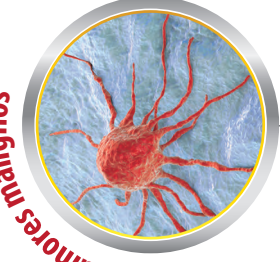
2. COVID-19

Es una enfermedad provocada por el virus SARS-CoV-2, que puede causar diversas afectaciones, desde el resfriado común hasta enfermedades más graves como neumonía, síndrome respiratorio agudo severo, insuficiencia renal e incluso la muerte.



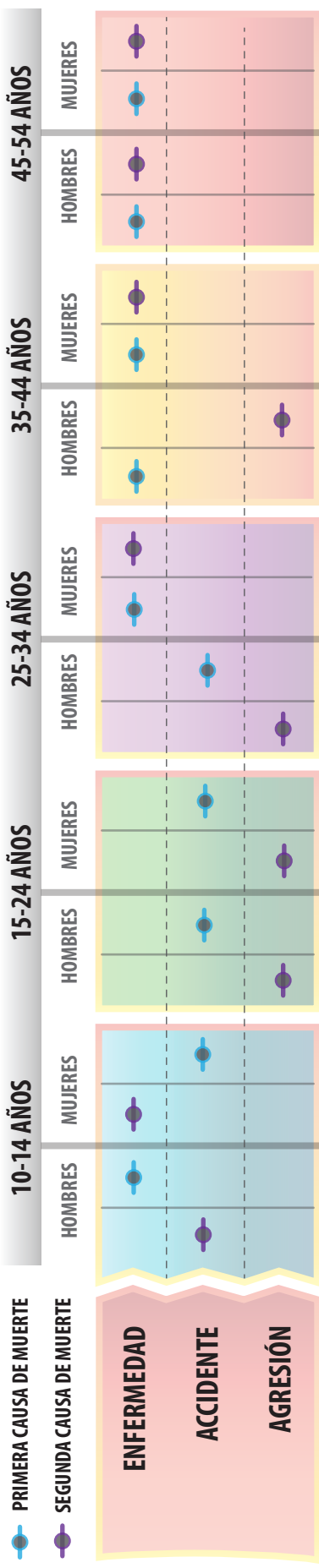
3. Diabetes

Es una enfermedad crónica que aparece cuando el páncreas no produce insulina suficiente o cuando el organismo no utiliza eficazmente la insulina que produce. Esto genera que se acumule demasiada glucosa (azúcar) en la sangre.



4. Tumores malignos

Surgen por la multiplicación y división excesiva de células anormales que se extienden más allá de sus límites habituales y destruyen los tejidos corporales. El término con que se designa a este grupo de enfermedades es "cáncer".



¿DE QUÉ MUEREN LOS MEXICANOS?

La mayor parte de las muertes (poco más del 90%) son provocadas por enfermedades y problemas relacionados con la salud, el resto se deben a causas externas, como accidentes y hechos violentos.




DEFUNCIONES POR SEXO

Mueren más hombre que mujeres: del total de las muertes registradas entre enero y agosto del 2020, 59% correspondieron a hombres y 41% a mujeres.

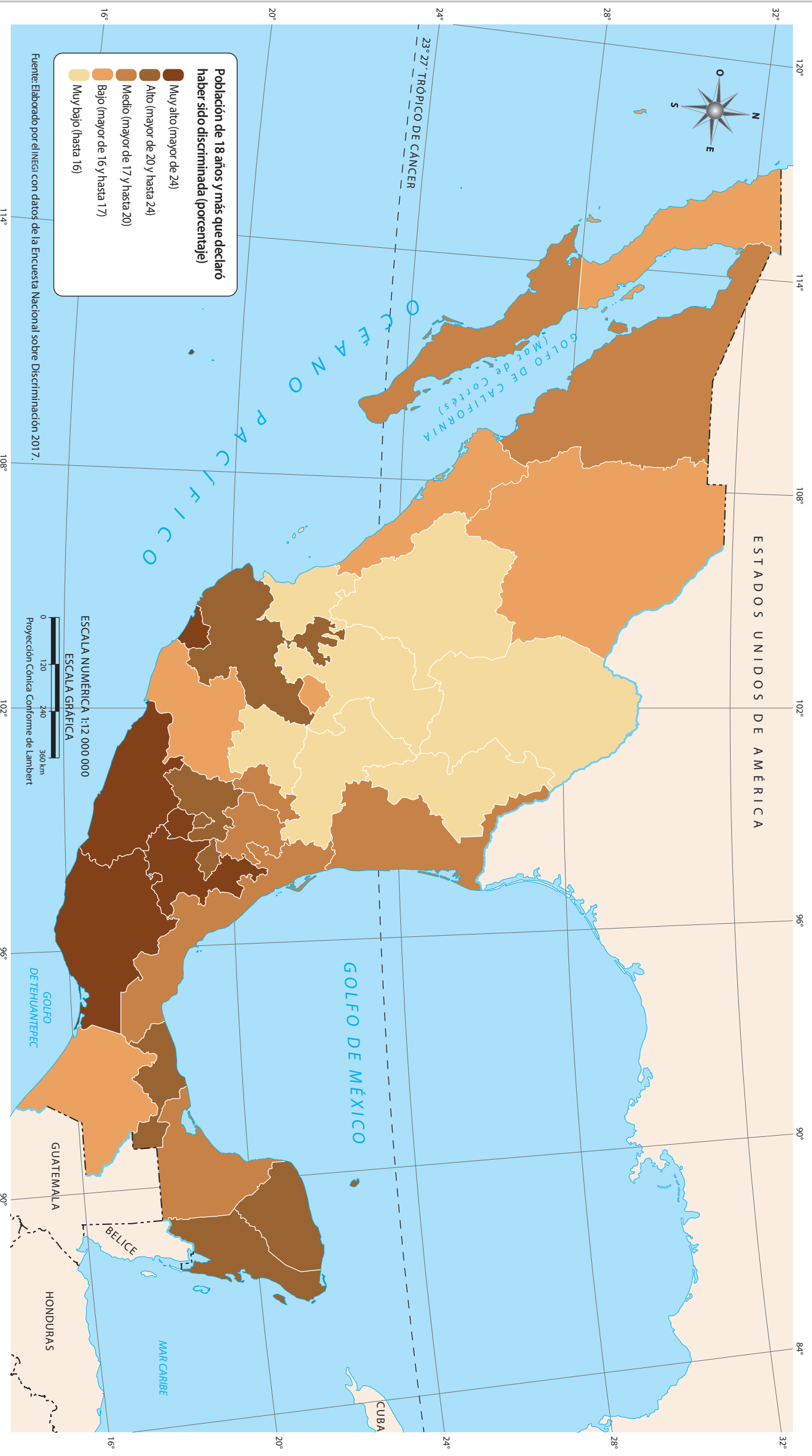


LAS MUERTES POR CAUSAS EXTERNAS OCURREN FUNDAMENTALMENTE EN HOMBRES:



Fuente: Elaborado por la Secretaría de Educación Pública (SEP) con datos del Instituto Nacional de Estadística y Geografía (INEGI). Características de las defunciones registradas en México durante enero a agosto de 2020 [Comunicado de prensa]. 2021. Disponible en https://www.inegi.org.mx/contenidos/saladeprensa/boletines/2021/EstSociodem/DefuncionesRegistradas2020_Piles.pdf

Discriminación



La **discriminación** es el trato desfavorable o de desprecio hacia una persona o grupo por motivos de edad, sexo, origen, condición económica, orientación sexual, religión o cualquier otro. Esta práctica impide la igualdad de oportunidades y anula el reconocimiento de los derechos de las personas. Sufren mayor

discriminación quienes se encuentran en situación de desventaja: población infantil, migrantes, mujeres, indígenas, afro mexicanas y personas con discapacidad.

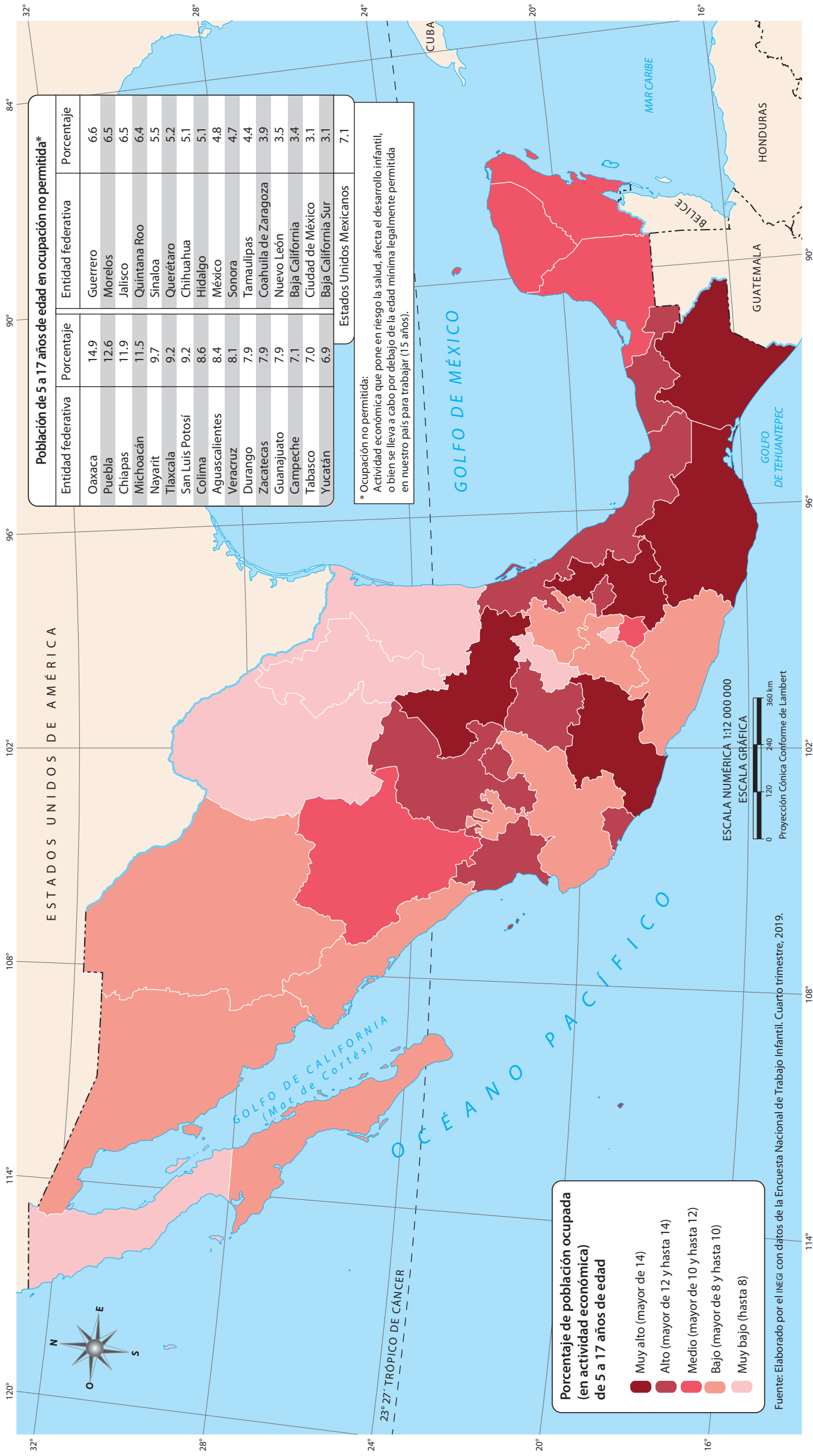
En el mapa se observa que 12 entidades registran niveles de discriminación Muy Alto y Alto, de acuerdo con lo declarado en una encuesta por población mayor de 18

años. En contraste, siete entidades registran el menor porcentaje de discriminación.

Identifica qué entidades cuentan con porcentaje Muy alto de discriminación. Valora qué acciones propondrías para evitarla. Comenta con un adulto si ha sido discriminado y qué derechos se vulneraron con ese hecho.

Entrevista a personas de diferente edad y sexo para conocer si han sido discriminadas, por qué motivo y qué derechos les vulneraron. Con base en los resultados responde: ¿qué impacto tiene la discriminación en tu comunidad?

Trabajo infantil



El *trabajo infantil* es el que realizan niñas, niños y adolescentes de 5 a 17 años, el cual puede poner en riesgo su salud y bienestar, alejarlos de la escuela y perjudicar su desarrollo. En México, es muy frecuente en las zonas rurales. El mapa presenta la población infantil que trabaja en cada estado del país. También ofrece información de la población de 5 a 17 años que realiza actividades no permitidas, las cuales ponen en riesgo la salud o afectan su desarrollo. Sólo seis entidades registran valores de muy baja población infantil trabajadora.

En equipo, identifiquen cuáles son las entidades con valor Muy alto de población tra-

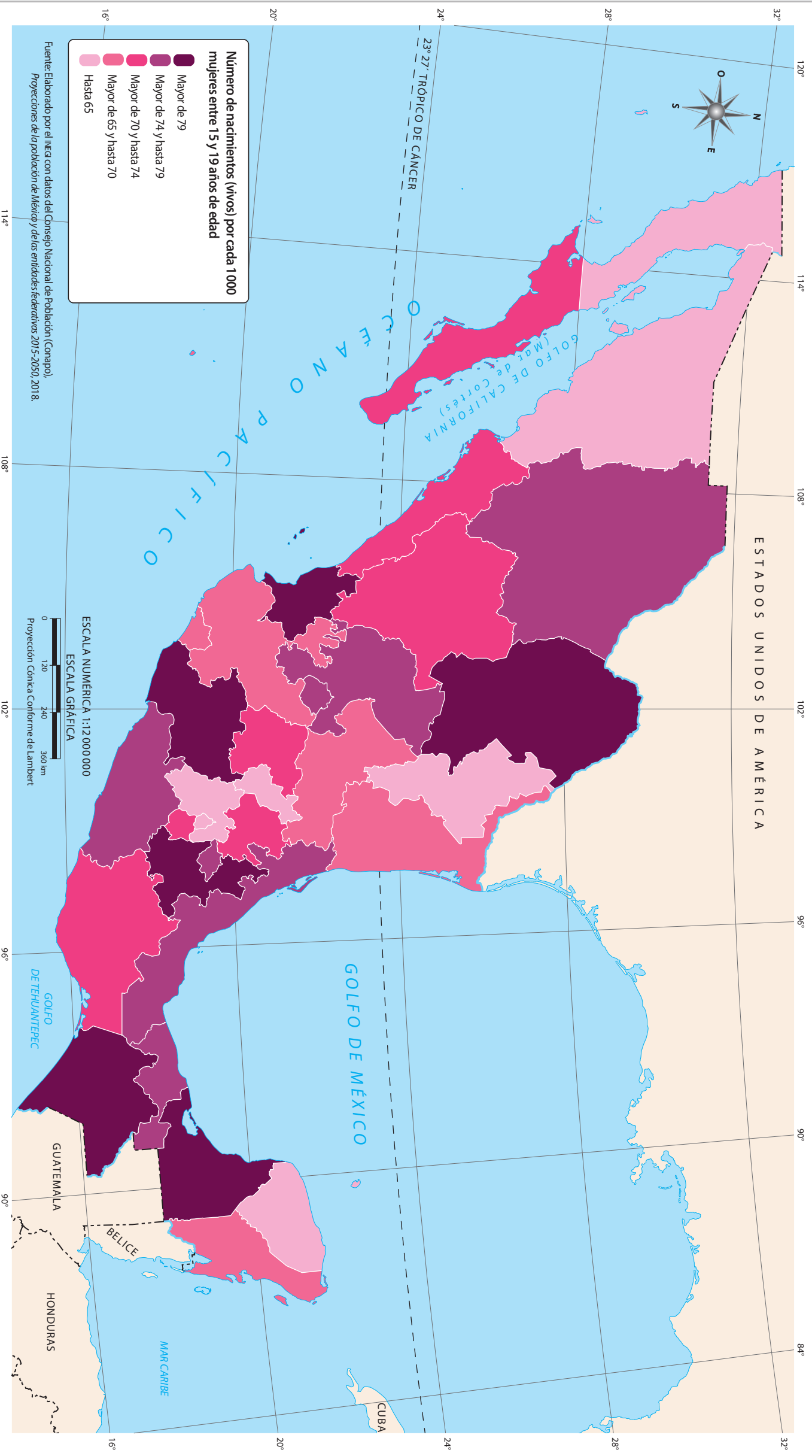
bajadora de 5 a 17 años. Compara esta información con la tabla de población infantil en ocupación no permitida. ¿Qué relaciones encuentras? Reflexiona acerca de cómo perjudica a los niños trabajar en actividades de riesgo.



Investiga sobre el trabajo infantil en tu entidad y qué acciones se han llevado a cabo para eliminarlo.

Elabora un folleto con la información recabada para sensibilizar a la comunidad escolar sobre el tema. El material debe contener los siguientes puntos: qué es el trabajo infantil, cuál es la situación en tu entidad, qué se ha hecho para combatirlo y cuáles son las consecuencias negativas para los niños que trabajan.

Fecundidad en adolescentes



Q La *fecundidad en adolescentes* refiere a los hijos vivos que nacen de mujeres de 15 a 19 años de edad.

la edad referida, son Chiapas, Campeche, Puebla, Michoacán, Nayarit y Coahuila de Zaragoza.

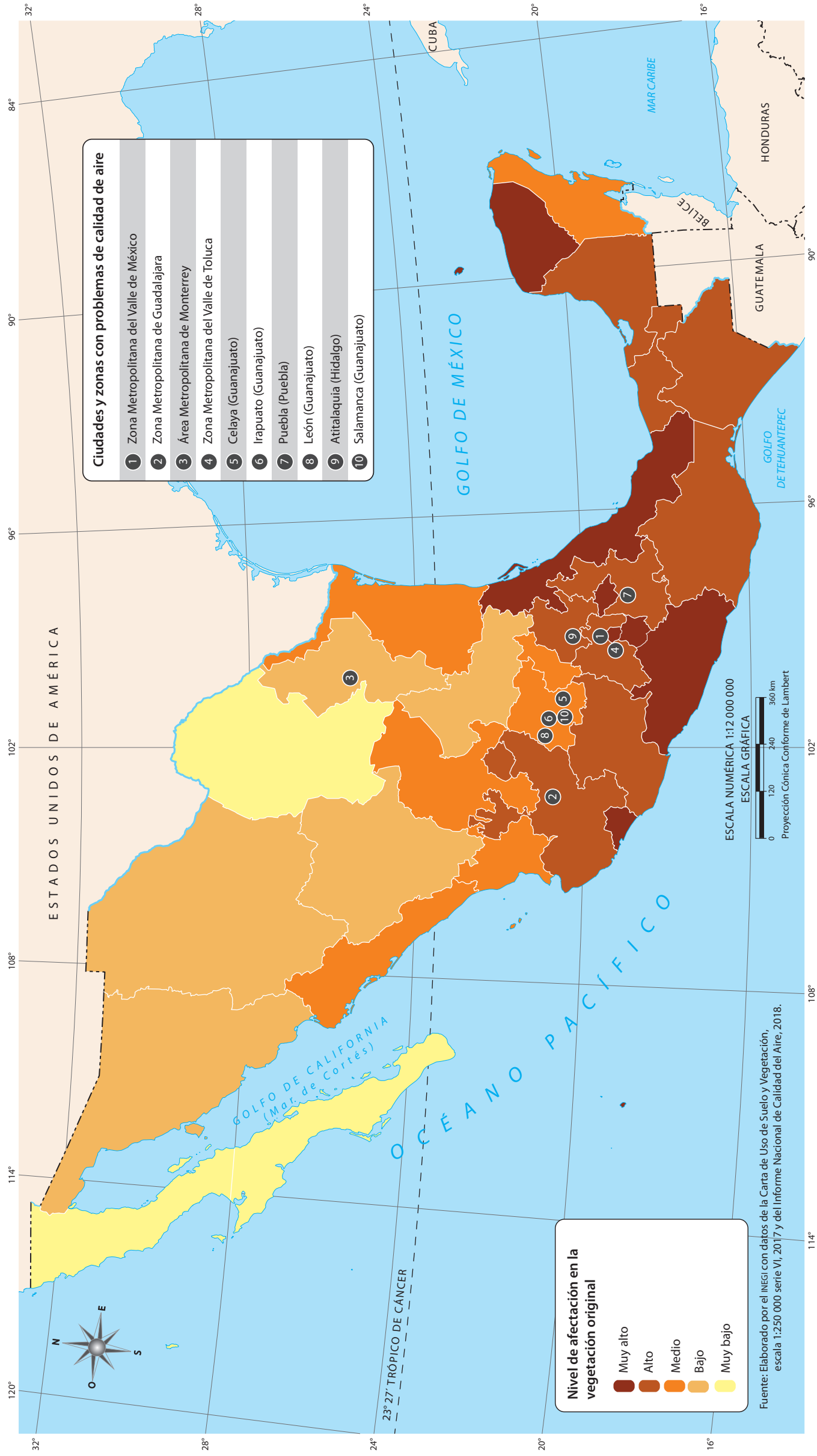
Observa el mapa. ¿Qué estados de la República tienen la fecundidad adolescente

más baja?, ¿a qué crees que se deba esto? Identifica qué cantidad de nacimientos hay en tu entidad por cada 1 000 mujeres adolescentes. ¿Te parece alta, media o baja?, ¿por qué lo consideras así?



Si tuvieras que organizar una campaña para prevenir el embarazo de adolescentes, ¿qué propuestas harías? Elabora un periódico en el que incluyas temas como los siguientes: fecundidad adolescente en México, cómo es la vida de una madre adolescente, propuestas para prevenir este tipo de embarazos, problemas económicos de una pareja adolescente y otros que sean de tu interés.

Impacto ambiental



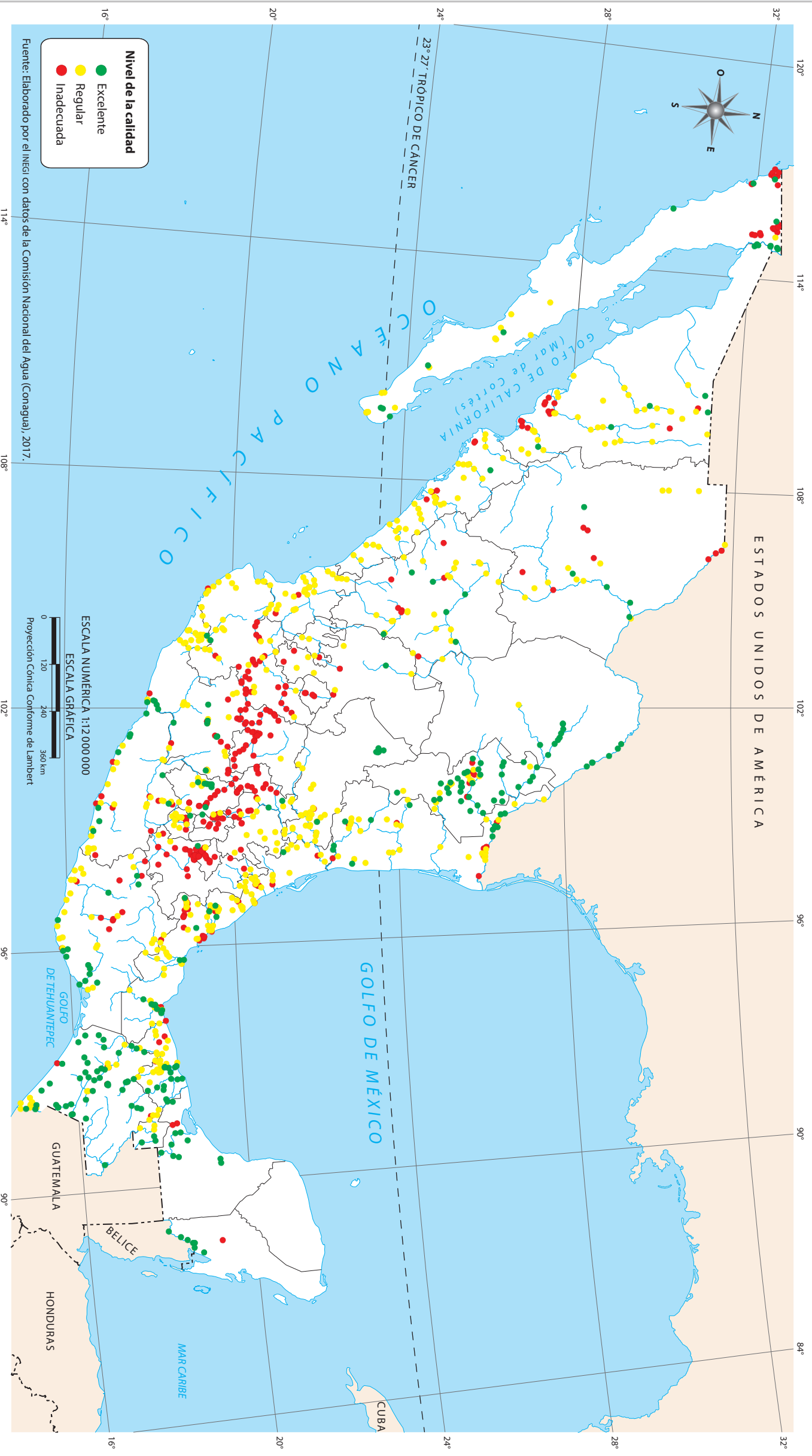
Q El *impacto ambiental* es la transformación favorable o dañina del ambiente a causa de la actividad humana o de los procesos naturales. Puede ser provocado por la ocupación de un territorio, la contaminación, un huracán, la erupción de un volcán o la explotación de recursos naturales. El impacto ambiental se expresa principalmente en el nivel de afectación de la vegetación original. La mayor cantidad de vegetación original afectada se localiza en los estados del centro, sur y en la costa del golfo de México. En contraste, Coahuila de Zaragoza y la península de Baja California registran niveles de afectación muy bajos.

Observa el mapa y la tabla. Explica por qué la Ciudad de México es una de las ciudades con mayor nivel de afectación en la vegetación original y qué relación tiene esto con los problemas en la calidad del aire que enfrenta. ¿En qué parte del país se localiza la mayoría de las ciudades o zonas con problemas de calidad del aire?



Observa detenidamente tu entorno e indaga qué es lo que afecta al medio ambiente en mayor medida. Con esta información, elabora una lista de acciones que podrían ayudar a minimizar el impacto ambiental en tu localidad. Con ayuda de tu maestro, diseña una campaña para promover medidas a favor del medio ambiente.

Calidad del agua de los ríos



Este mapa se refiere a las características físicas y químicas del agua y si éstas resultan adecuadas para el riego de plantas y el consumo humano o animal. El agua no es apta cuando está contaminada por residuos, sustancias químicas tóxicas, heces fecales o sólidos, como basura u otro tipo de desperdicios.

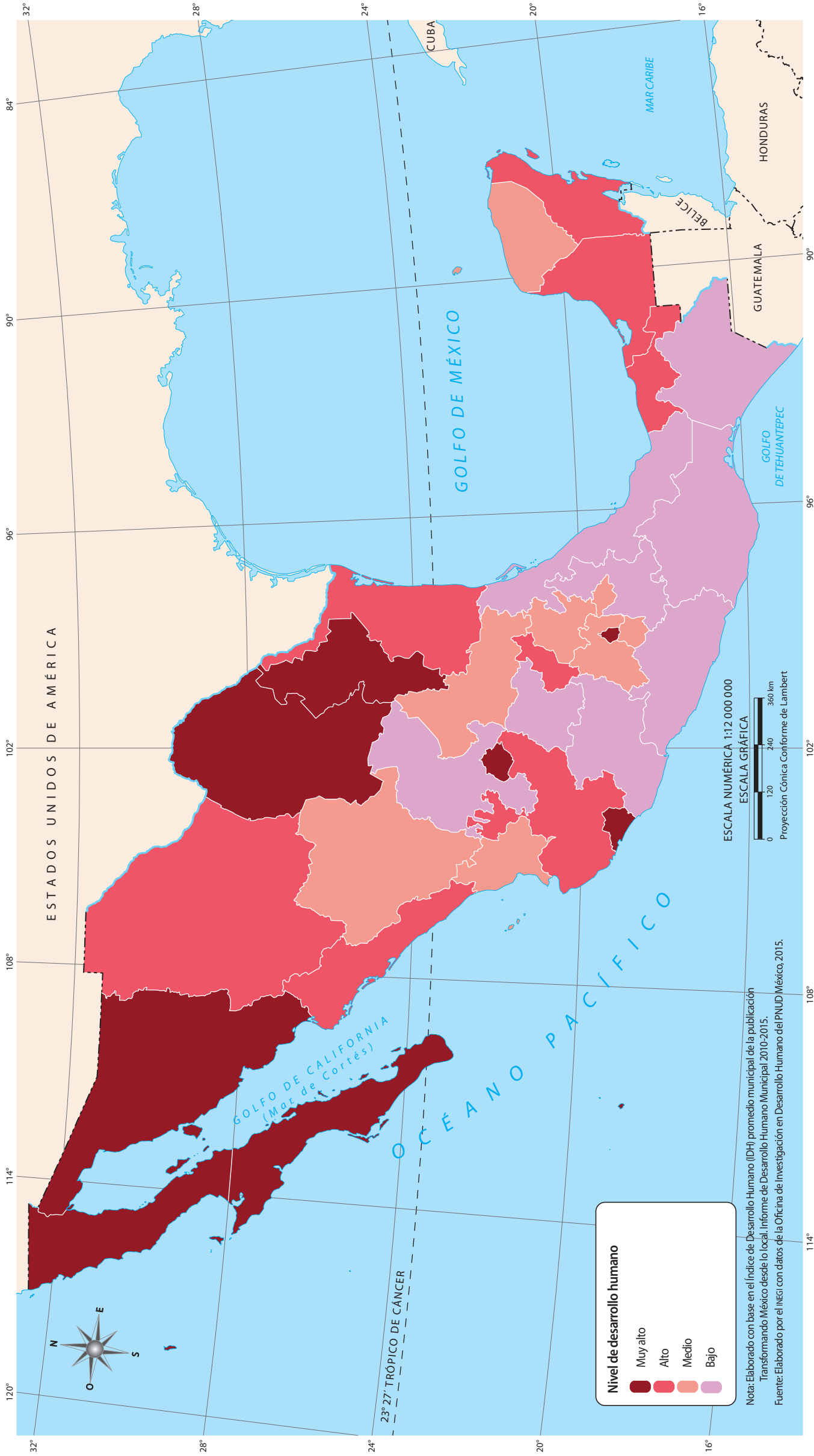
En el mapa se puede apreciar que los mejores niveles de calidad del agua se localizan al sur de la República Mexicana, particularmente en Chiapas; los niveles regulares de calidad se encuentran al oeste y al sur del país, mientras que en las entidades del centro se encuentran niveles de calidad inadecuados.

Observa en el mapa las entidades que tienen los mejores niveles de calidad del agua. ¿En qué situación se encuentra tu entidad? Compara este mapa con el de "Principales ríos, lagos, lagunas y presas", de la página 13, e indica el nombre de tres ríos con excelente calidad del agua.



Elabora una tabla de dos columnas y cuatro filas. En la primera columna escribe el encabezado "Niveles de calidad" y, abajo, el nombre de los tres niveles de calidad del agua que se indican en el mapa; en la segunda columna, escribe el encabezado "Estados" y, debajo, el nombre de entidades federativas cuyos ríos correspondan a cada nivel.

Desarrollo humano



Q El desarrollo humano es el conjunto de oportunidades que ofrece un país para que sus habitantes disfruten de una vida larga, saludable, y tengan acceso a la educación y a un nivel de vida digno. Para ello, se creó el Índice de Desarrollo Humano (IDH), el cual mide los logros obtenidos por un país o entidad a partir de

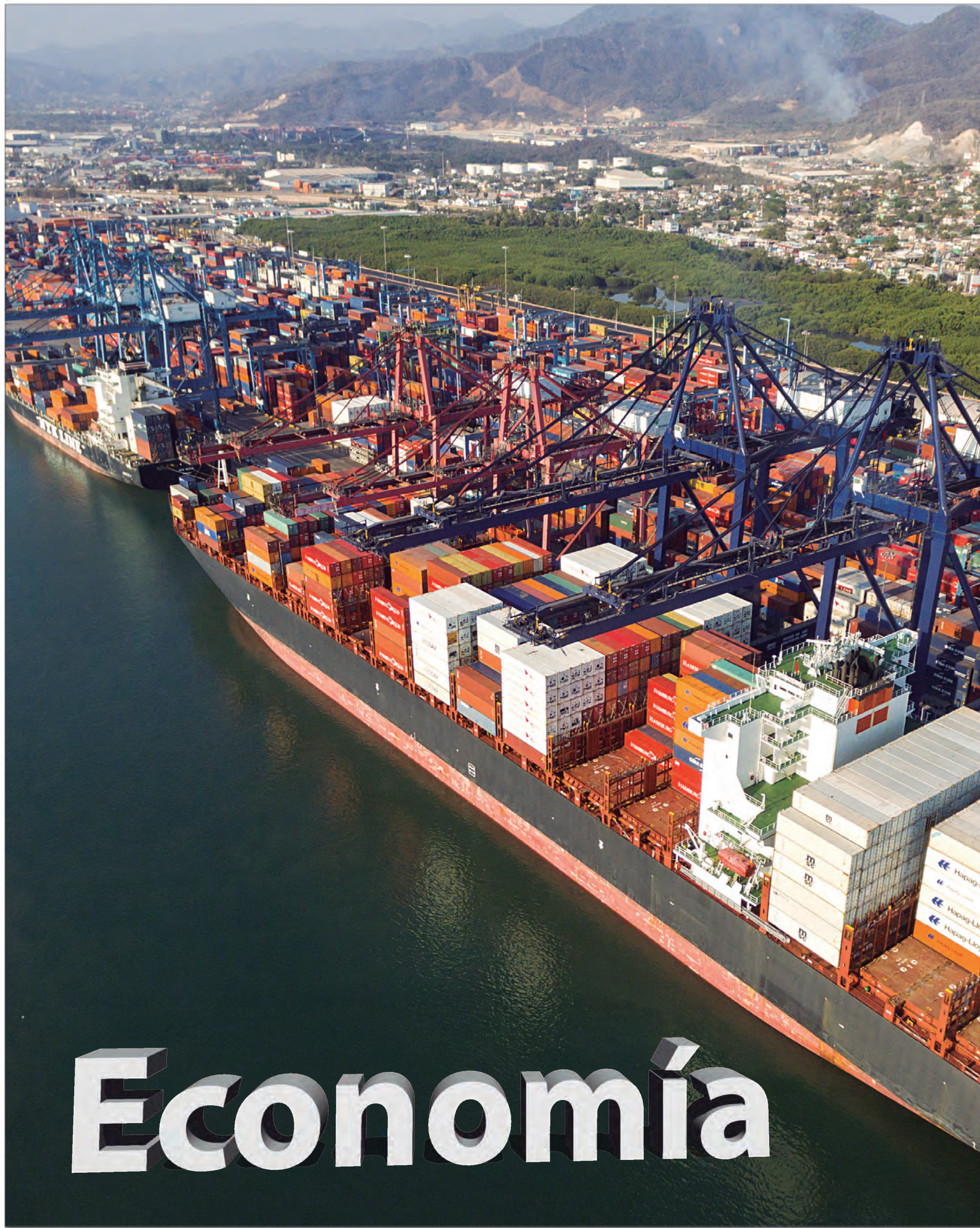
tres componentes: el ingreso, la educación y la salud.

En el país, el nivel de desarrollo humano Muy alto se encuentra en ocho entidades y el de Alto se halla en otras ocho. La mitad de los estados tiene un nivel Medio y Bajo, siendo las entidades del sur algunas de las que tienen el menor nivel.

En tu cuaderno, agrupa las entidades según su nivel de desarrollo. ¿Cuál de los tres componentes del IDH crees que sea el más importante? ¿Por qué? Compara este mapa con el de "Rezago social" de la página 34 y escribe las semejanzas y diferencias que encuentres entre ambos mapas.



Con dibujos o recortes, haz un periódico mural en el que expreses las necesidades de los habitantes de tu localidad en relación con la salud, la educación y el trabajo. Luego comenta: ¿qué pasaría si alguno de estos componentes faltara o fuera insuficiente en tu localidad?, ¿cómo afectaría a sus habitantes?



Economía



Desde que te despiertas hasta que anochece, tu entorno está lleno de objetos: la cama, el jabón que usas cuando te bañas, el desayuno que tomas, los libros que usas, la mochila que te acompaña a la escuela... A pesar de estar rodeado de tantas cosas, tal vez no te has preguntado ¿de dónde vienen?, ¿quién las hizo?, ¿cómo llegaron hasta aquí?

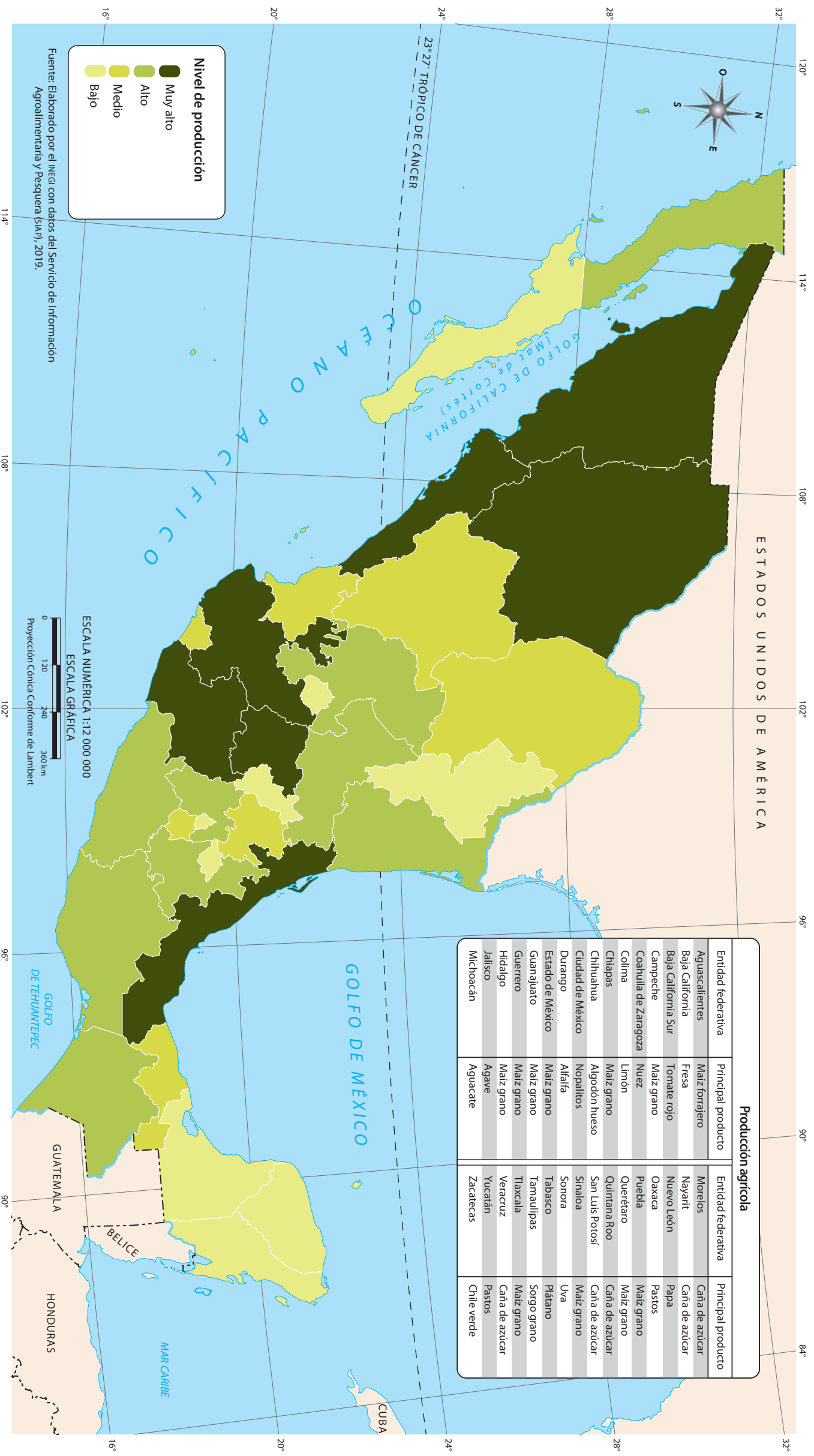
La mayoría de las cosas que hay en tu entorno pasaron por un proceso de producción que transformó algún **recurso de la naturaleza** en algo útil para la sociedad. Los recursos naturales, como la flora, la fauna y los minerales, cambiaron y llegan a ti gracias a las habilidades y el conocimiento de las personas; es decir, de los **recursos humanos** con los que cuenta una nación.

Para elaborar los productos, distribuirlos y consumirlos se requiere edificios, maquinaria, herramientas, puentes, carreteras y medios de transporte, lo que se conoce como **bienes de capital**.

Estos tres tipos de recursos se combinan para tener bienes y servicios que satisfagan las necesidades de las personas. ¿Te imaginas cuántos recursos se necesitan para hacer una torta, un licuado o el huevo con jitomate que muchos desayunamos?

Este capítulo, titulado **Economía**, te permitirá comprender cuáles son los recursos naturales, humanos y financieros de nuestro país.

Agricultura



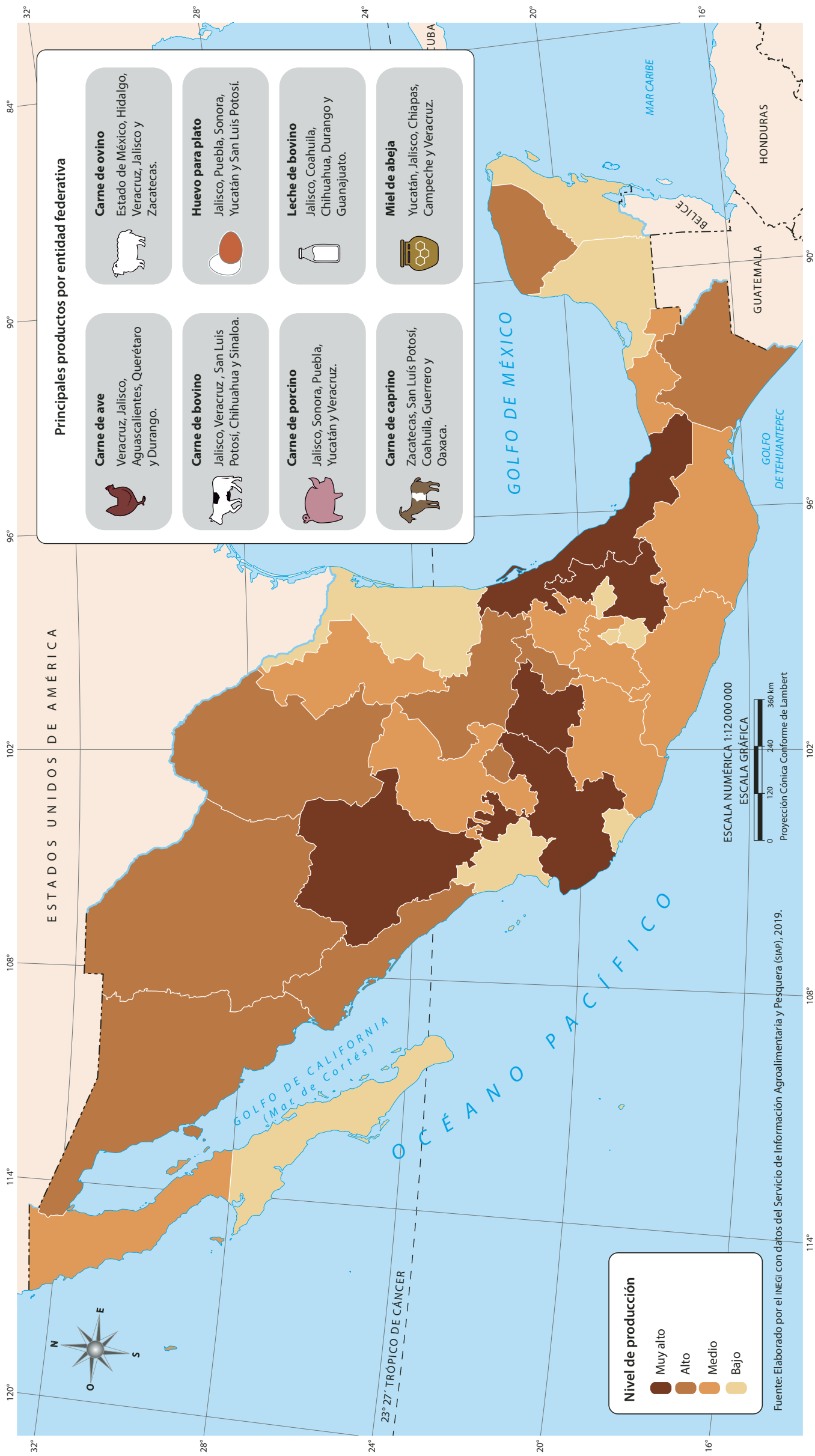
La **agricultura** es la actividad económica de domesticación y cultivo de plantas que, con base en un conjunto de técnicas y conocimientos, permite la obtención de productos para proveer alimentos a los seres humanos y al ganado, así como de materias primas para la industria.

El mapa muestra la producción agrícola por entidad. Destacan, con un nivel Muy alto, Sonora, Chihuahua, Sinaloa, Jalisco, Michoacán, Guanajuato y Veracruz. El cuadro de la derecha proporciona información sobre el principal producto agrícola de cada entidad federativa.

Elabora una tabla de tres columnas: en la primera escribe, en orden alfabético, el nombre de diez entidades federativas que prefieras del país; en la segunda, el nivel de producción agrícola que le corresponde a cada una, y en la tercera, el principal producto acompañado de un dibujo del mismo. ¿Qué producto es el de mayor presencia en el país?

Investiga los productos agrícolas de la entidad donde vives, indica a qué grupo pertenecen (frutos, hortalizas, granos, legumbres, tubérculos o forrajes) y con la información recabada elabora un álbum.

Ganadería



Q La ganadería es una actividad económica del sector primario que consiste en la reproducción, cuidado y alimentación de vacas, borregos, cerdos, pollos y abejas, entre otros animales, a fin de aprovechar para consumo humano la carne, leche, lana, huevos, miel y otros derivados.

En la mayor parte del país hay producción ganadera, principalmente para obtener carne de bovino, cerdo, cabra, borrego y ave. Destacan en esta actividad Durango, Jalisco, Guanajuato, Puebla y Veracruz.

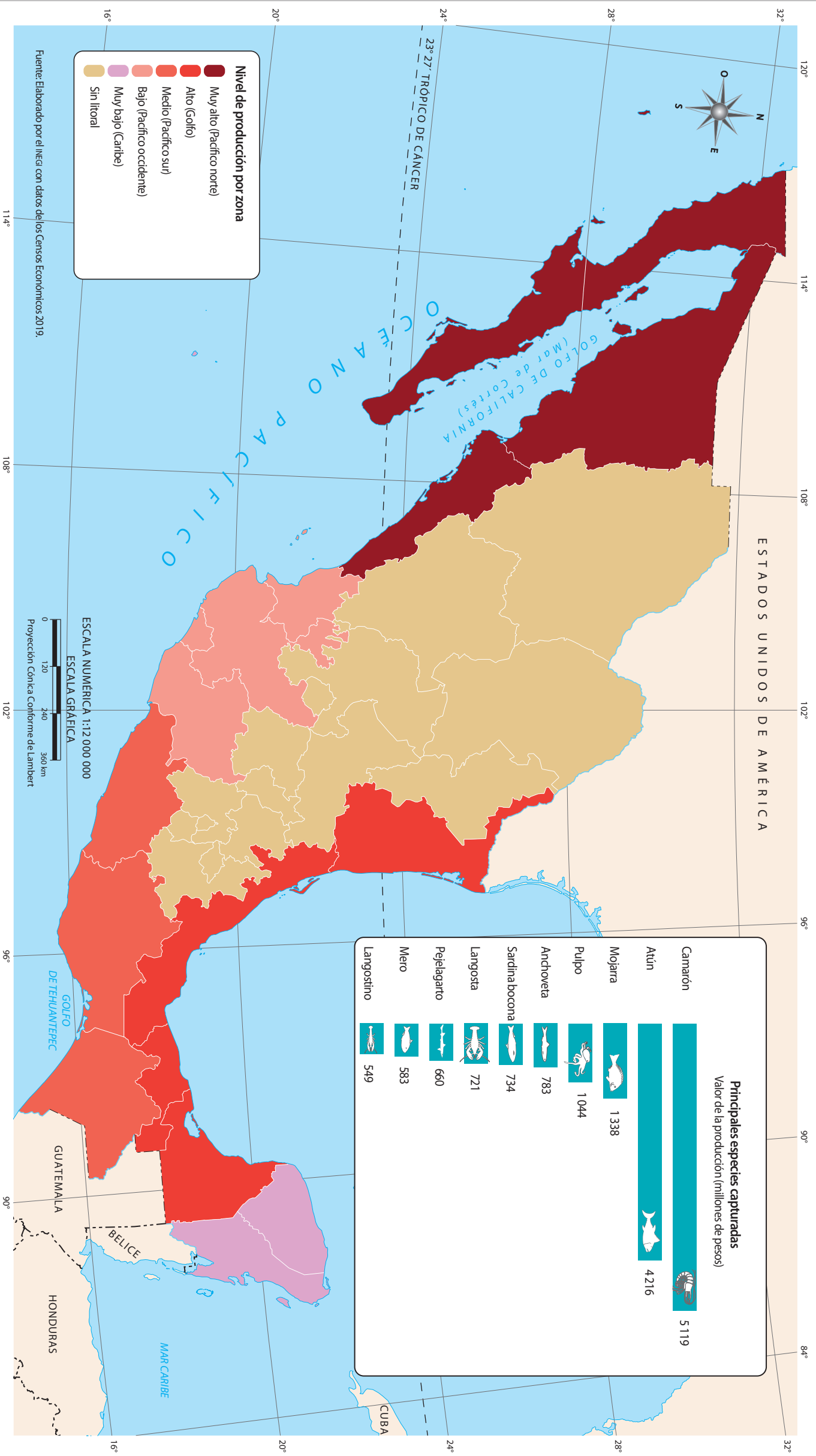
Compara la información del mapa con la información de la tabla. ¿Cuáles son los esta-

dos que más se repiten en la tabla?, ¿coinciden con los estados de nivel Muy alto o Alto, señalados en el mapa? Identifica en qué tipo de producción destacan Chihuahua, Yucatán y Zacatecas.



Selecciona alguno de los animales mostrados en el cuadro. Investiga cómo es su proceso desde que el animal nace, es alimentado y cuidado en la granja, hasta que se comercializa su carne u otros derivados. Averigua qué productos del animal se pueden adquirir en tu localidad. Haz un folleto con esta información y compártelo con amigos y familiares.

Pesca y acuicultura



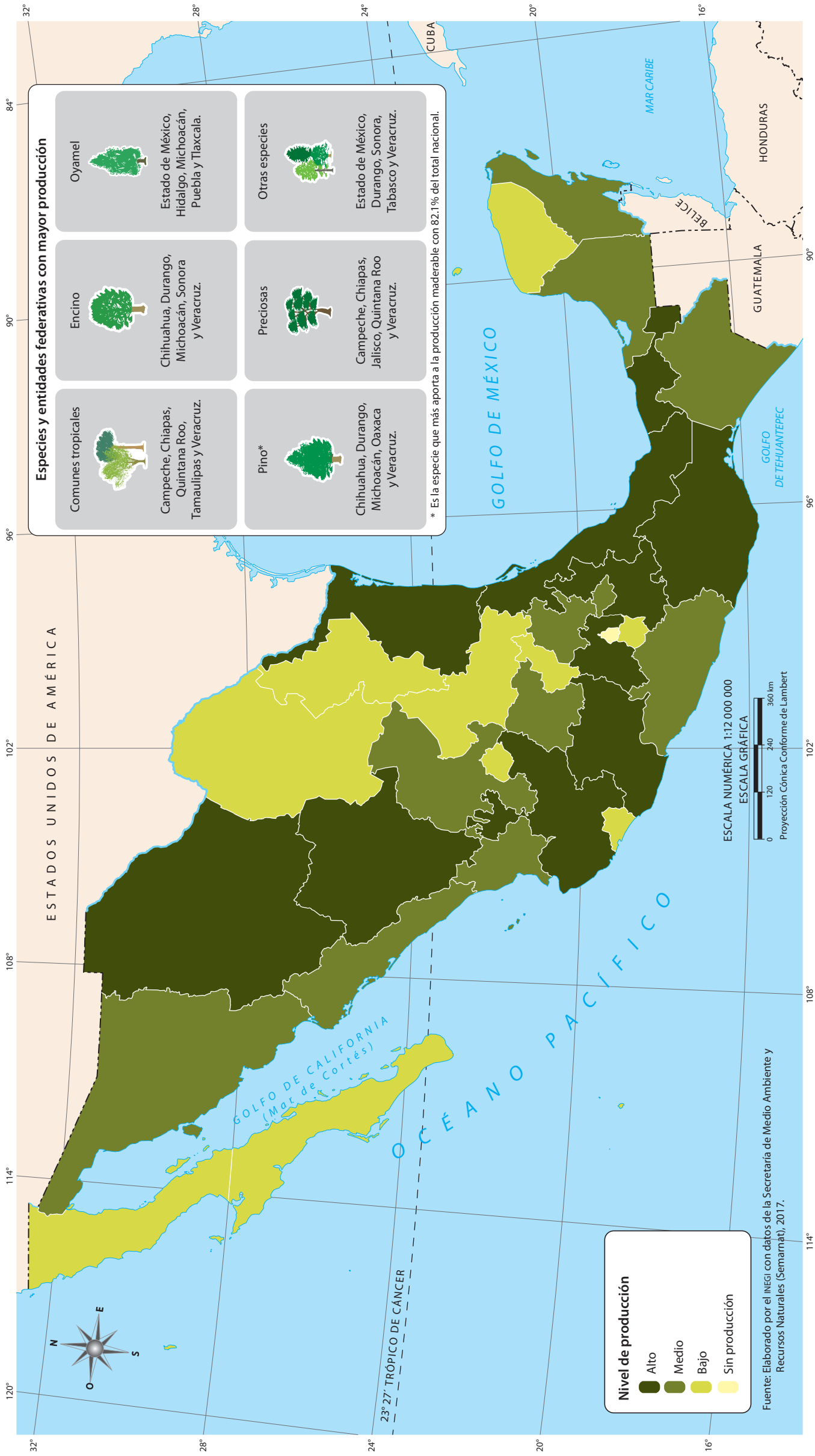
La pesca es la captura de peces, crustáceos y moluscos, tanto en aguas saladas de los océanos como en aguas dulces de ríos, lagos y presas. Una variante de esta actividad es la acuicultura, que consiste no sólo en la obtención, sino también en la cría de organismos acuáticos. Ambas son actividades que proporcionan

alimento y representan una importante fuente de ingresos. Los estados del noroeste contribuyen con más de la mitad de la producción pesquera del país. Le siguen las entidades del litoral del golfo de México con una sexta parte de la producción. En contraste, las entidades del norte y centro que no tienen

costas presentan una producción pesquera muy baja. Observa el mapa y menciona los cuatro estados que presentan la mayor producción pesquera del país. ¿Qué tienen en común? Con base en la tabla que acompaña al mapa, nombra las cinco principales especies que se capturan en el país.

¿Cómo es la producción pesquera en tu entidad? Visita el mercado más cercano y pregunta qué animales acuáticos son los que más se venden y si se capturan en tu estado o provienen de otro. Elabora una lista con los cuatro que más se consumen en tu localidad. Reflexiona: ¿qué se tendría que hacer para que las especies acuáticas no se agoten?

Producción forestal maderable



La producción forestal maderable es el aprovechamiento de los bosques para obtener madera y celulosa. Con la primera se fabrican muebles y con la segunda productos como el papel. La producción más alta del país se localiza en Chihuahua, Durango, Michoacán, Veracruz,

Jalisco, Estado de México, Puebla, Oaxaca, Tamaulipas y Tabasco.

La tabla que acompaña el mapa muestra las entidades con mayor producción de acuerdo con el tipo de especie.

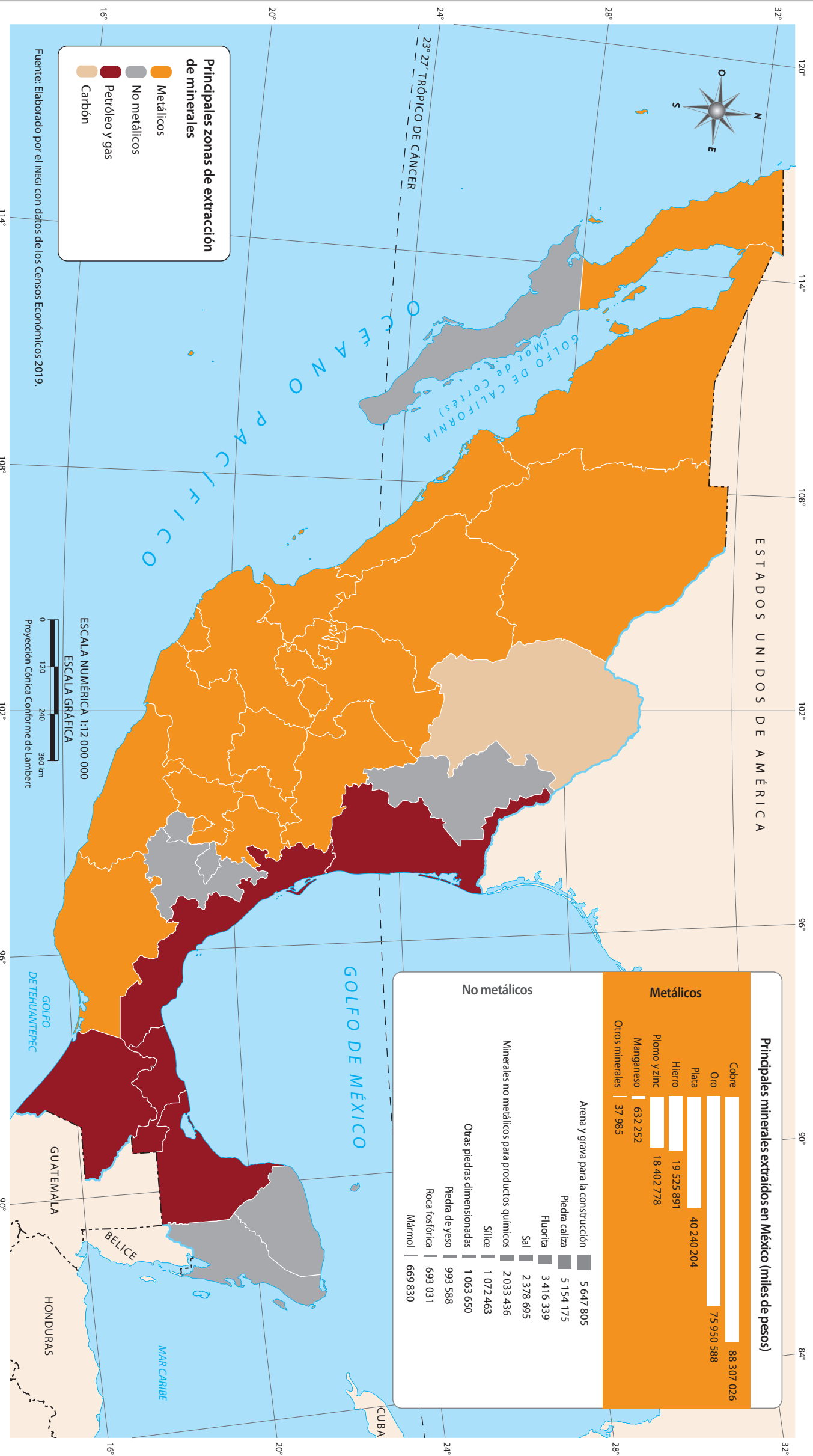
Identifica los estados que cuentan con un nivel Bajo de producción forestal. ¿A qué se

debe que el nivel de producción sea así? Para responder, apóyate en el mapa "Regiones naturales" de la página 19. Por último, localiza la entidad que no tiene producción forestal y piensa cuáles pueden ser las causas de ello.



Investiga qué son las maderas preciosas, de qué tipo de árboles provienen y los usos que reciben. Realiza un álbum con dibujos de objetos hechos con este tipo de maderas.

Minería



La **minería** es la actividad económica dedicada a la búsqueda, extracción y aprovechamiento de productos del suelo o subsuelo. Los minerales pueden ser metálicos, como el oro, la plata y el hierro; no metálicos, como la arena, la sal y el yeso, y energéticos, como el petróleo, el carbón mineral y el gas natural.

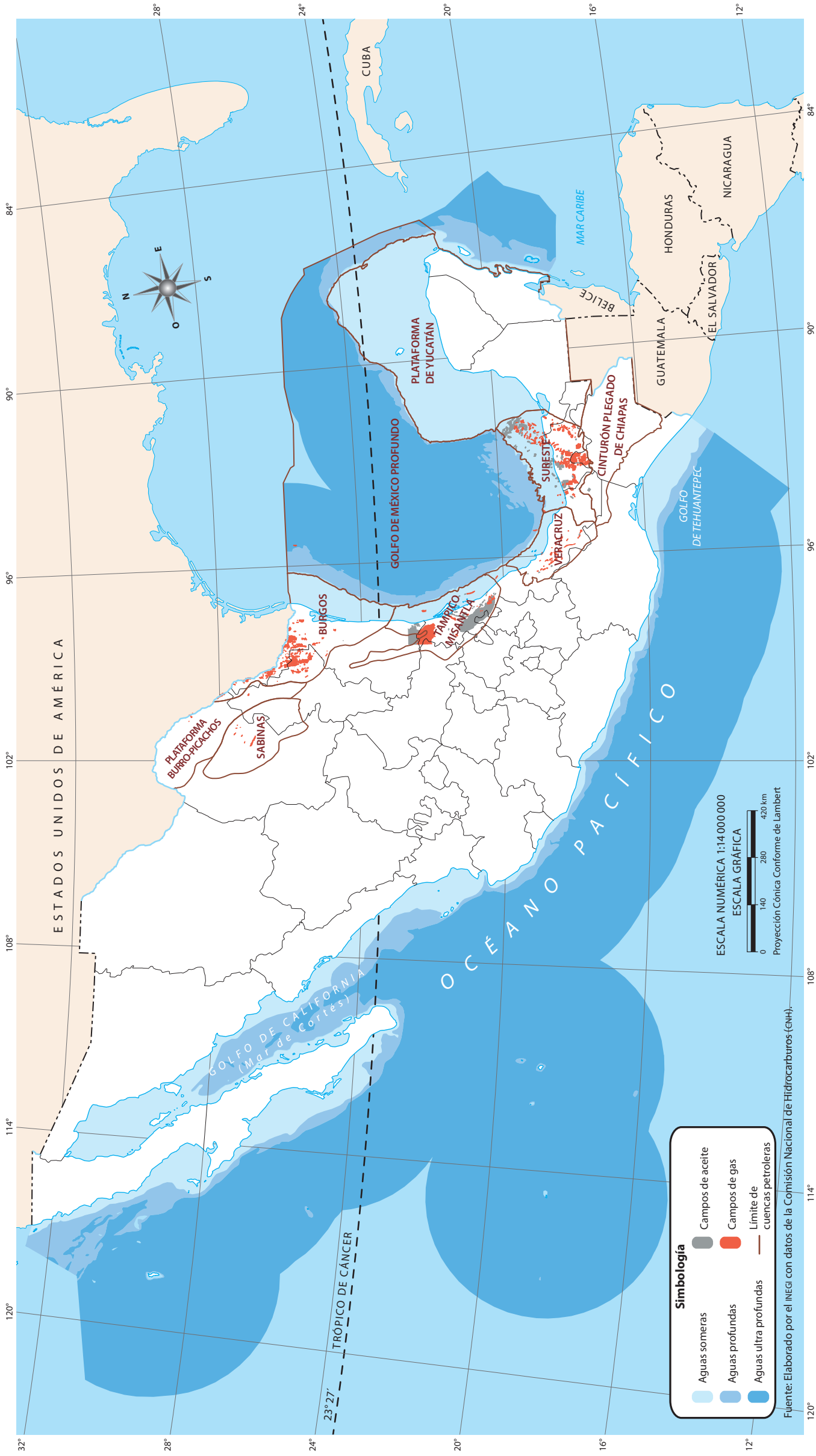
El mapa muestra que las entidades con mayor extracción de metales se ubican en el centro del país y en las costas del océano Pacífico; las que extraen minerales no metálicos son siete, mientras que las que obtienen energéticos están en las costas del golfo de México y en el estado de Chiapas.

La tabla que acompaña al mapa revela que la minería tiene un alto beneficio económico. Observa el mapa y describe lo siguiente: ¿cuál es la entidad que produce la mayor cantidad de carbón?, ¿qué tipo de minerales aportan mayores beneficios económicos?, ¿cuál es el principal tipo de minerales que se extrae en tu entidad?



¿Qué productos de origen mineral identificas en tu salón, en la escuela, en tu casa, en las calles y en el parque? Elabora tres listas con los minerales que reconociste: una para los metálicos, otra para los no metálicos y la última para los energéticos. ¿Cuál es la importancia de los minerales en la vida cotidiana?

Extracción de petróleo y gas natural



Fuente: Elaborado por el INEGI con datos de la Comisión Nacional de Hidrocarburos (CNH).

Q El petróleo es un recurso no renovable que se forma en el subsuelo durante millones de años a partir de materia orgánica. Se presenta en forma sólida, líquida o gaseosa (gas natural). Para su extracción, primero se comprueba la existencia de un yacimiento rico y luego se perforan pozos.

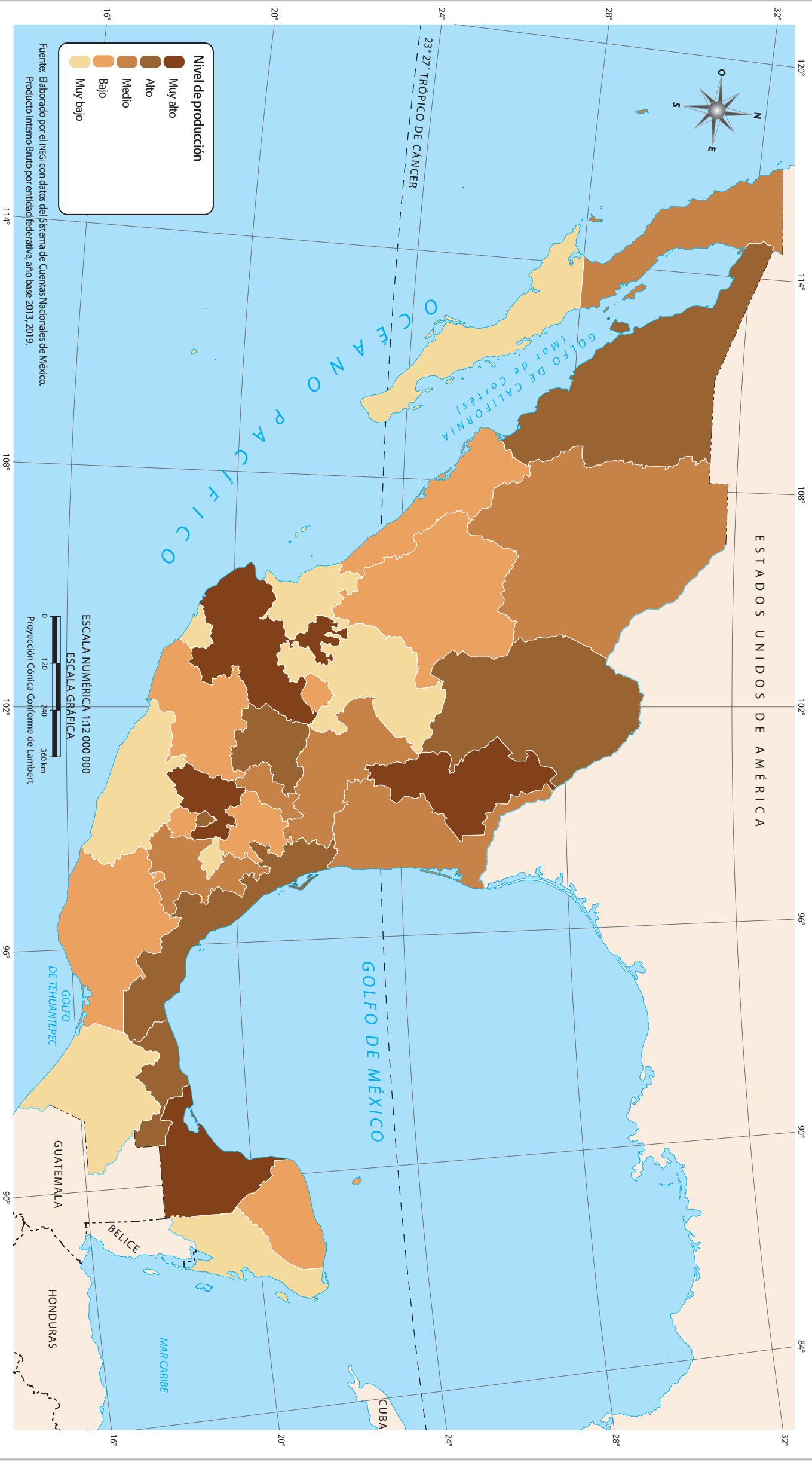
En la región del golfo de México se concentran los mayores campos de extracción de petróleo y gas natural, pues ahí se han descubierto los yacimientos más ricos. Las cuencas más grandes son la de la Plataforma de Yucatán, de aguas someras, y la del mismo golfo de México, de aguas profundas y ultra profundas.


El petróleo y el gas natural producen más de la mitad de la energía consumida en el planeta; sin embargo, como no son renovables, se agotarán en el corto plazo. Escribe en tu cuaderno el nombre de las cuencas petroleras de México y los estados que abarca cada una. Señala los estados que, además de petróleo, extraen gas y aceite.



Investiga con tus compañeros y tu familia qué productos derivados de petróleo utilizan y qué recursos alternativos se podrían emplear en el futuro.


Industria



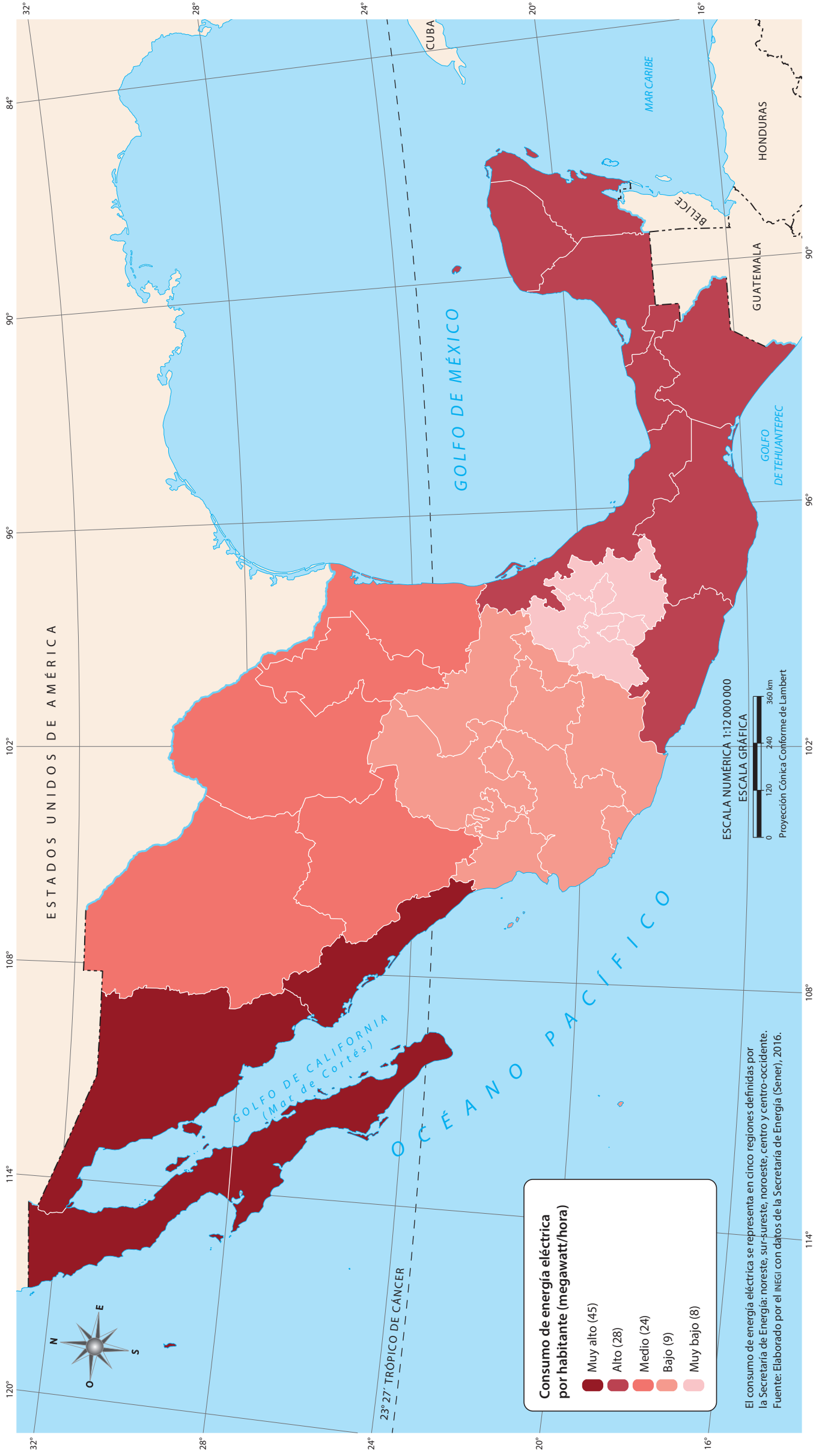
 La industria es una actividad económica secundaria que se caracteriza por desarrollar procesos automatizados y utilizar maquinaria para transformar materias primas. Incluye fábricas, talleres y laboratorios. El sector industrial incluye sectores como el de la construcción, minería, manufactura y generación de electricidad.

Son 10 las entidades con Muy alto o Alto nivel de producción. En éstas se concentra la mayoría de las industrias del país, mientras que ocho registran el nivel Muy bajo. La industria es el segundo sector que más riqueza aporta al país, por debajo de los servicios.

Revisa el nivel de participación de tu entidad en la producción industrial. ¿Qué nivel tiene? Ahora consulta el mapa de tu estado en el capítulo 6, "Entidades federativas" y explica si existe relación entre el tipo de industrias que se desarrolla y el nivel que se indica en el mapa.

 En el capítulo "Entidades federativas" selecciona cinco estados, uno por cada nivel de producción: Muy alto, Alto, Medio, Bajo y Muy bajo. Revisa la información sobre las principales actividades económicas: ¿existe relación entre el nivel de producción que se indica en el mapa y el tipo de industrias que hay en el estado? Escribe cómo relacionaste la información de ambos mapas y di qué se te dificultó más.

Consumo de energía eléctrica



Q El consumo de energía eléctrica se refiere a la suma de energía empleada para el funcionamiento de las industrias, los transportes y diversos aparatos y sistemas usados en oficinas, negocios y hogares.

El mapa muestra cinco regiones de consumo de energía eléctrica. La de consumo

Muy alto es la del noroeste, donde las condiciones del clima demandan el uso de aparatos con un alto consumo de energía eléctrica (más de 1 400 watts por hora), como el aire acondicionado o los calefactores. En contraste, en la región centro el consumo es Muy bajo (menos de 200 watts por hora), debido a que los aparatos electrónicos de

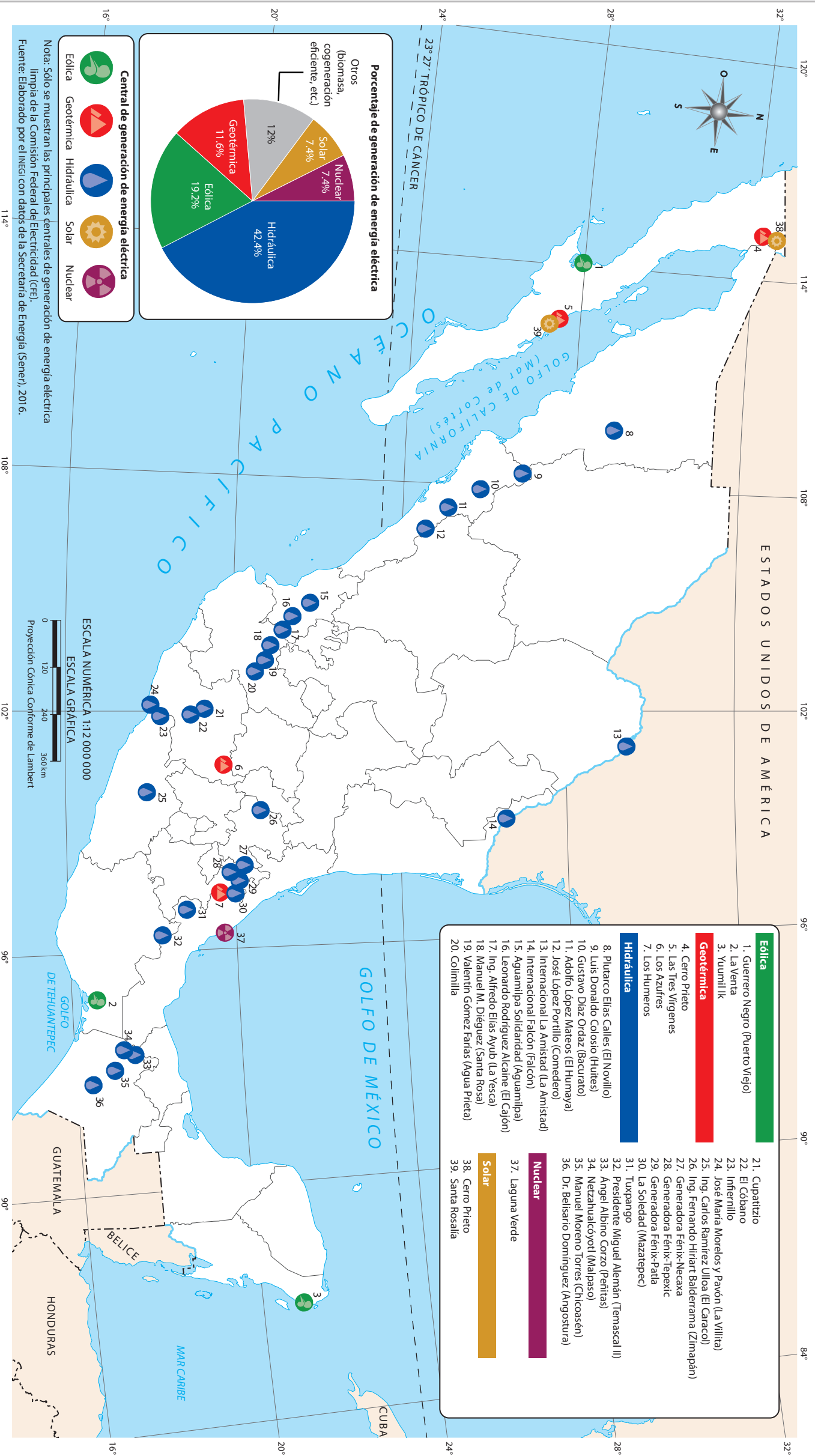
mayor uso, como computadoras o televisores, requieren poca energía.

Identifica los climas que propician un alto consumo de energía eléctrica y los que favorecen un consumo bajo. Para ello, compara el mapa con el de "Climas", de la página 15, y responde: ¿qué clima predomina en cada región de consumo?



El clima puede condicionar el tipo de aparatos y sistemas eléctricos que utilizamos en casa, y éstos, a su vez, nuestro grado de consumo de energía eléctrica. Para saber si tu consumo de electricidad es Alto, Medio o Bajo, reconoce qué clima predomina en tu entidad y relaciónalo con los 10 aparatos eléctricos que se usan en casa. Reflexiona: ¿en qué consiste el consumo responsable de energía eléctrica?

Generación de energía eléctrica



La generación de energía eléctrica hoy se produce a partir de fuentes poco contaminantes, como el agua (hidráulica), el viento (eólica), el sol (solar), el calor del interior de la Tierra (geotérmica) y la producida a partir de minerales radiactivos (nuclear).

La mayoría de las plantas que generan energía eléctrica en nuestro país son cen-

trales hidráulicas y se localizan sobre todo en los estados de la costa del Pacífico. La energía eólica se produce en las penínsulas de Baja California y Yucatán y en el Istmo de Tehuantepec. Las plantas geotérmicas se ubican en Michoacán, Veracruz y en la península de Baja California; en esta última también se aprovecha la energía solar.

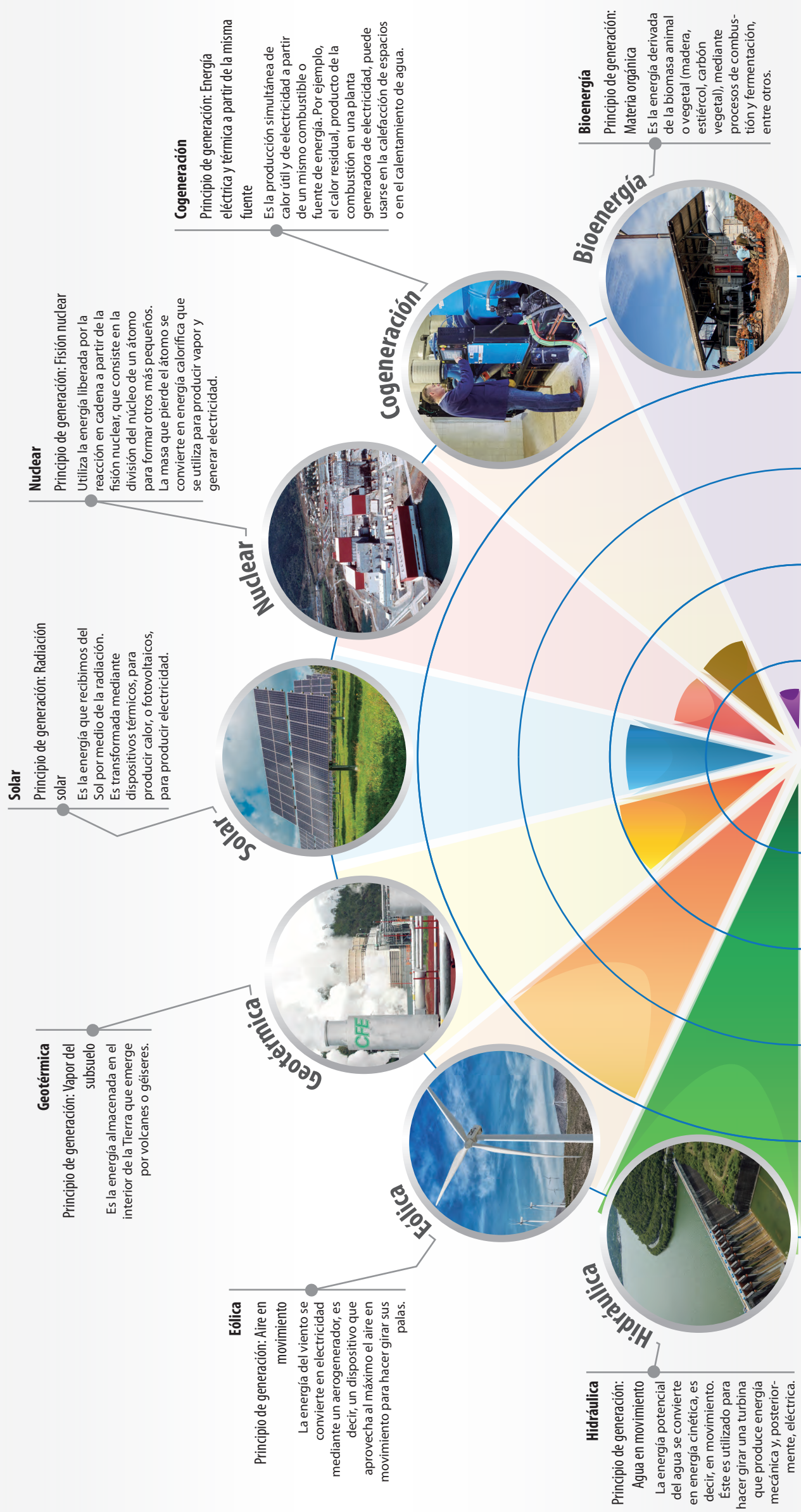
Identifica las plantas generadoras de energía eléctrica que hay en tu entidad o cercanas a ella: ¿de qué tipo son? ¿qué entidad es la que cuenta con mayor número de plantas generadoras?

Investiga de dónde viene la energía eléctrica que abastece a tu localidad y cómo se genera. Realiza un dibujo de esa fuente de energía. Por último, ¿qué acciones podrían llevar a cabo en tu casa y en la escuela para aprovechar mejor la energía eléctrica?

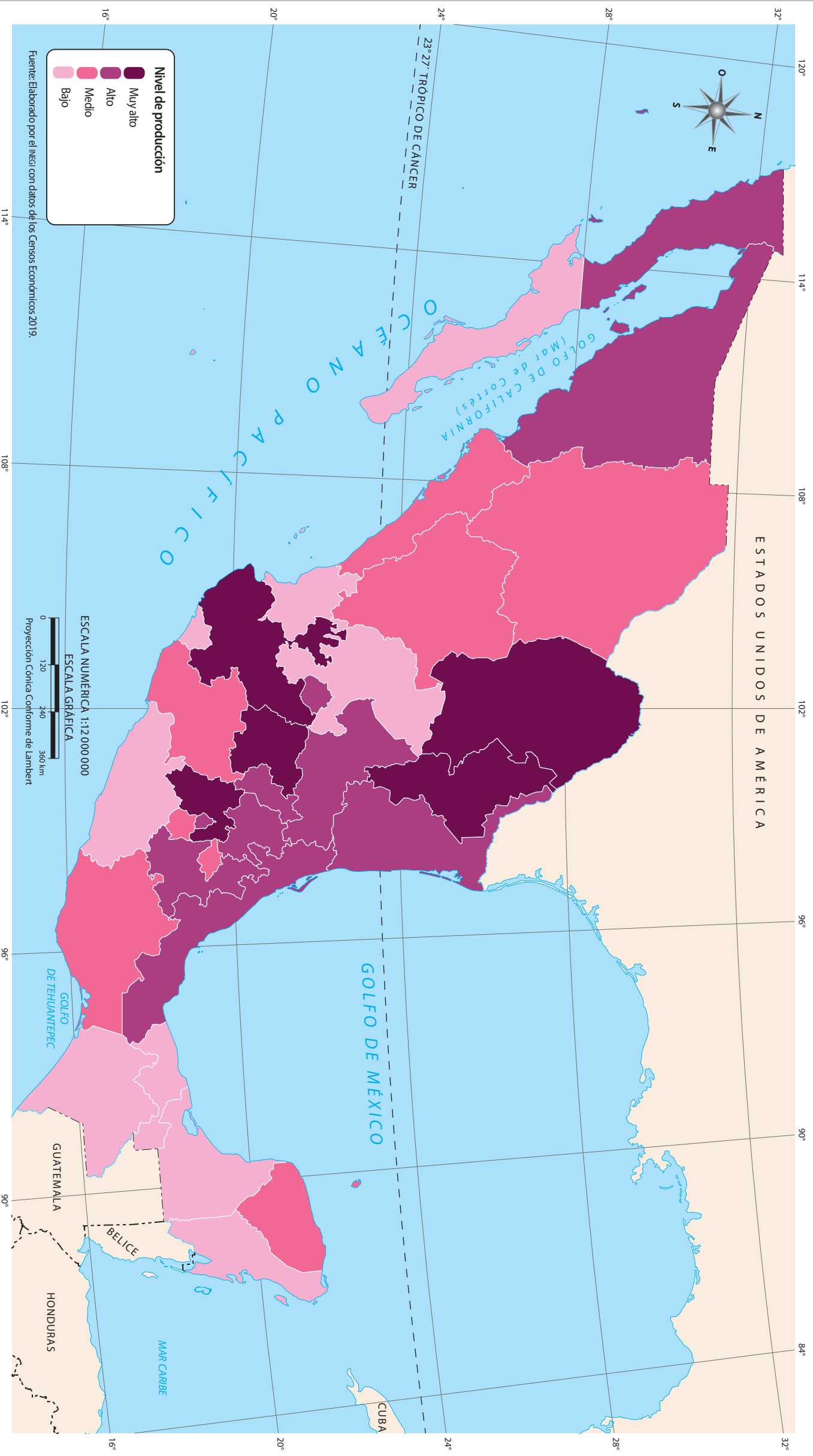
Generación de energía eléctrica


La generación de energía eléctrica es la producción de electricidad a partir de energéticos primarios, es decir, aquellos que se encuentran en la naturaleza. Estos recursos pueden ser *renovables*, como el agua, el viento, el vapor de agua del subsuelo y la radiación solar, o *no renovables*, como los combustibles fósiles (carbón, petróleo, gas natural) y el uranio empleado en centrales nucleares.

Para contar con la energía eléctrica que requiere el país, existen centrales generadoras de electricidad, la cual producen a partir de distintas tecnologías:




Manufactura



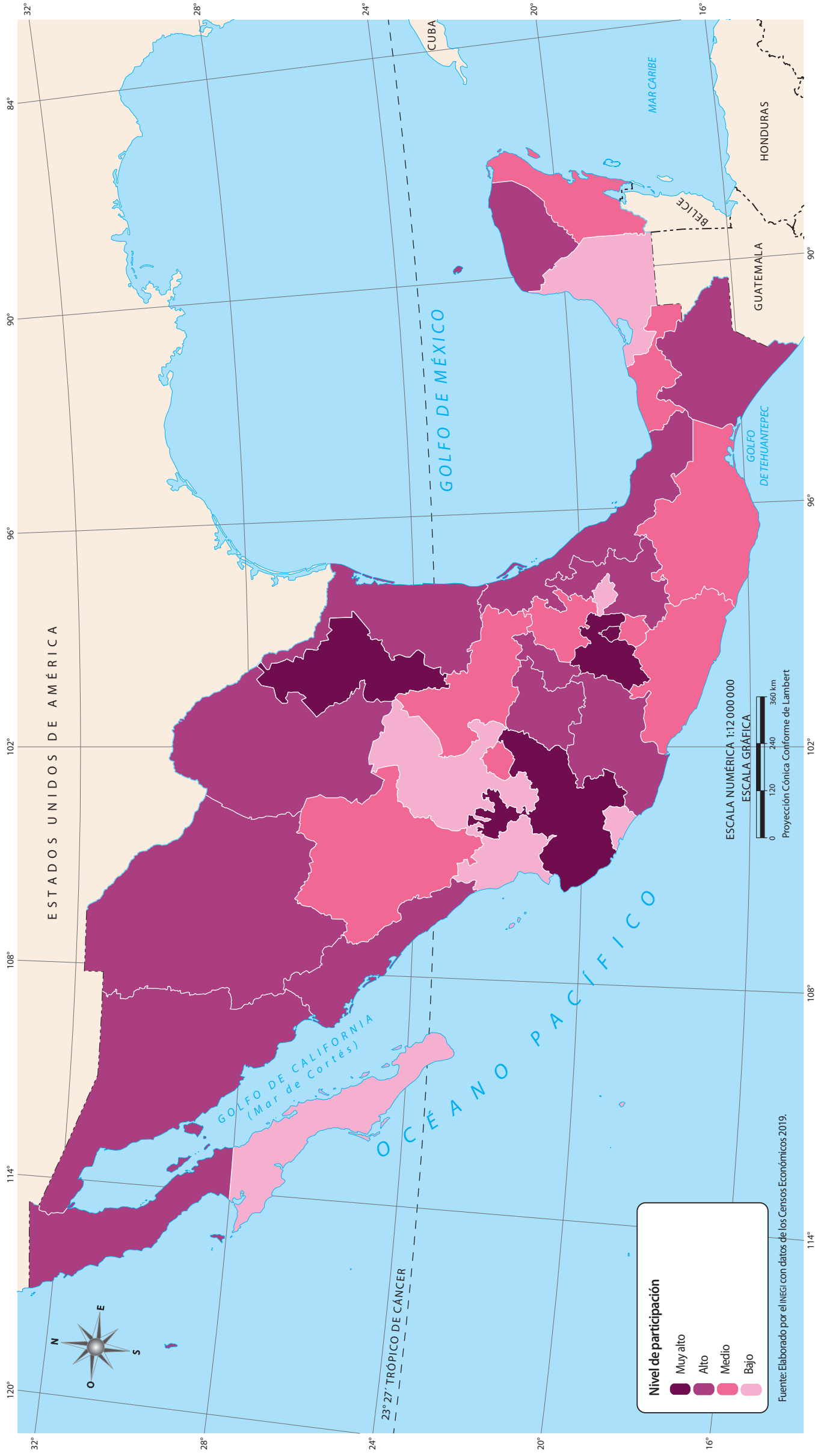
 La *manufactura* es una actividad económica secundaria que transforma materias primas en artículos y productos. Comprende empresas pequeñas, tales como torillerías, panaderías, talleres de artesanía o herrería, y empresas grandes, como armadoras de automóviles, laboratorios de medicamentos, fábricas de ropa o de papel.

Son cinco los estados con los niveles más altos de producción, Coahuila, Nuevo León, Jalisco, Guanajuato y Estado de México. Juntos producen casi la mitad de lo manufacturado en nuestro país. En contraste, hay nueve estados situados en el nivel más bajo. Observa el mapa y responde: ¿en qué nivel se ubica tu entidad y los estados ve-

cinosa? Coteja el mapa con el de "Industria", de la página 54. Localiza los estados que tienen muy alta producción, tanto en industria como en manufactura. ¿Qué relación encuentras entre ambos mapas?

 Investiga y selecciona un producto que se manufacture en tu localidad. Escribe como se elabora y cómo se beneficia la comunidad con la fabricación de ese producto. ¿Por qué es importante la industria manufacturera en tu localidad?

Comercio



Q El comercio es la actividad económica que consiste en el intercambio, compra y venta de bienes o servicios para uso propio, venta o transformación. Los bienes son productos que puedes tocar, como un lápiz o un juguete; mientras que los servicios son beneficios

intangibles, como la salud, la educación o la recreación.

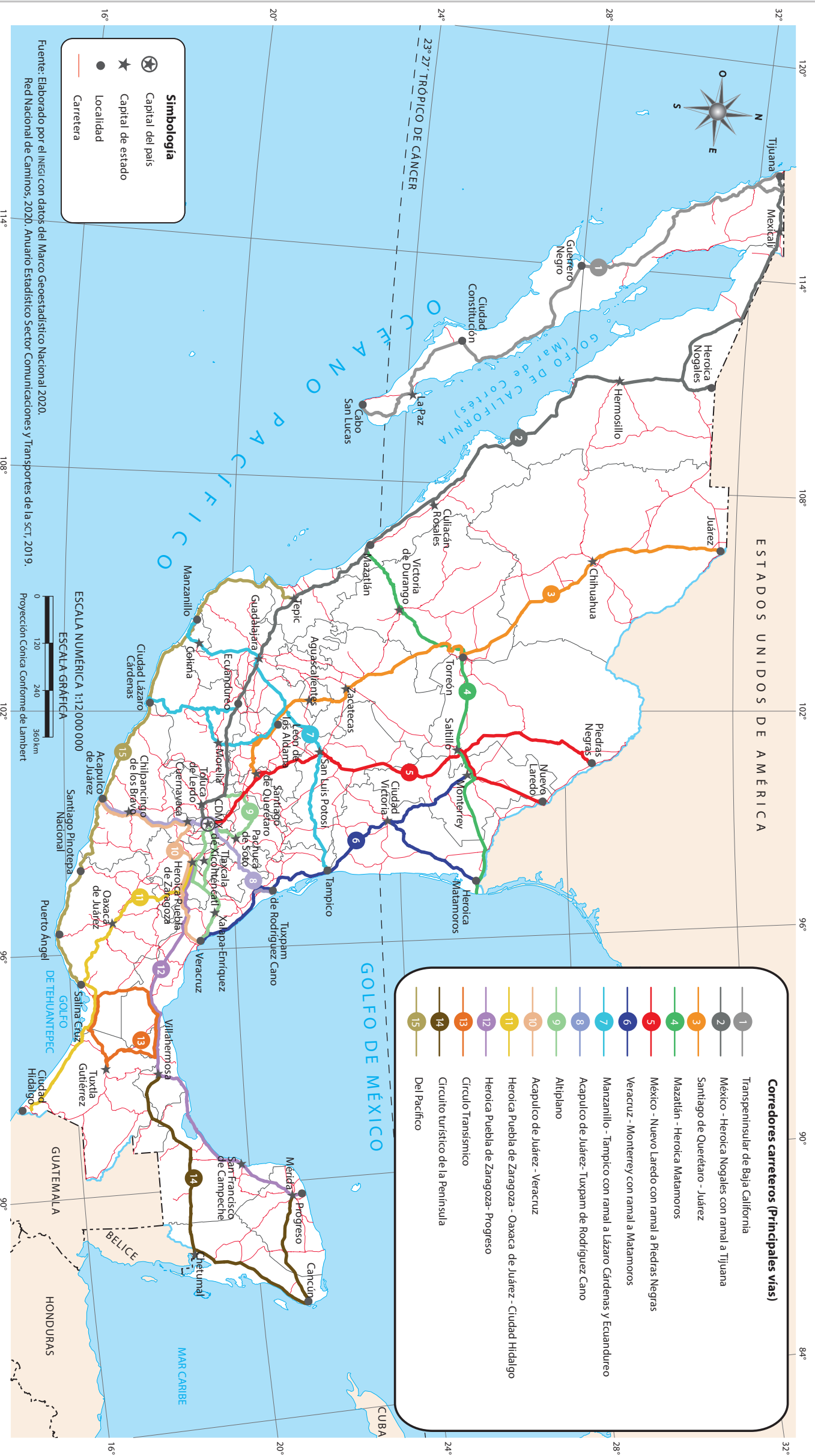
Son 17 las entidades que tienen el nivel de participación Muy alto y Alto en la actividad comercial, en tanto los estados que presentan menor participación son Baja California Sur, Zatecas, Nayarit, Colima, Tlaxcala y Campeche.

Identifica los estados con nivel de participación Muy alto y Alto. ¿Qué nivel tienen tu entidad y los estados vecinos en actividad comercial?, ¿en qué región del país (norte, centro, sur) hay menor nivel de participación en la actividad comercial?



Investiga sobre los productos que se comercian en tu localidad y elabora una tabla con los 10 que más se compran y se venden. ¿Qué productos o servicios no hay en tu localidad?, ¿qué hace la gente o a dónde viaja para conseguirlos?

Corredores carreteros



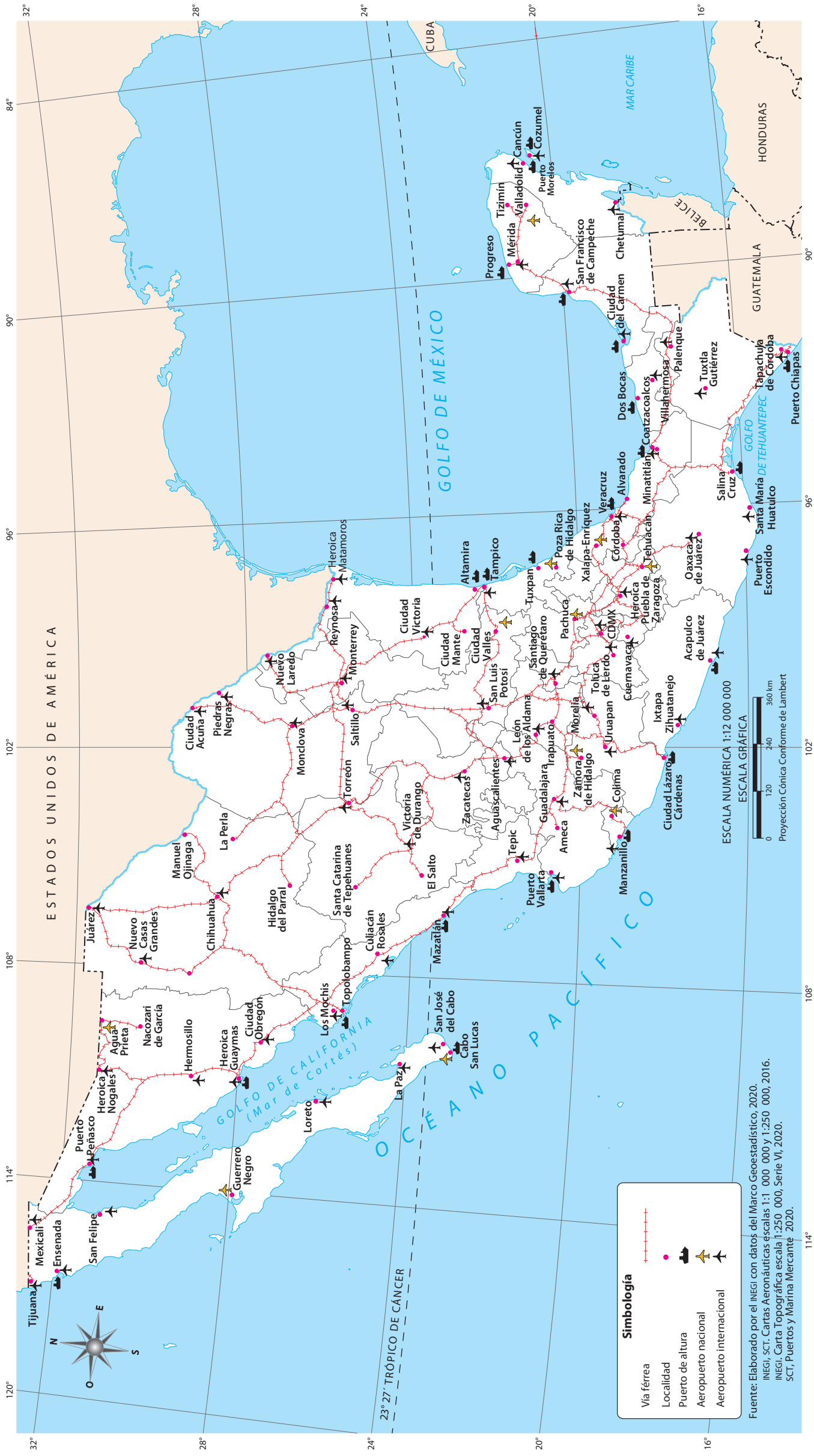
Los **corredores carreteros** son rutas de acceso y comunicación permanente entre las principales ciudades, fronteras, centros turísticos y puertos marítimos. Sus más de 19000 kilómetros interconectan, de forma rápida, segura y económica, los principales centros de producción con los mercados de consumo, así

como con los centros urbanos y turísticos de todo el país. En el territorio nacional existen 15 corredores que facilitan el traslado de personas, mercancías y productos; además, agilizan el tránsito y ahorran tiempo de recorrido. Observa en el mapa las rutas de los corredores carreteros. Identifica los de mayor lon-

gitud y los más cortos, y registra cuáles atraigan tu entidad. Revisa el mapa "Turismo de naturaleza" de la página 68, y traza la ruta que deberías seguir para llegar del lugar donde vives a un sitio que te gustaría visitar.

Elabora una tabla comparativa con los cinco corredores de mayor longitud (puedes usar la escala del mapa para calcularla). Anota el nombre de los estados por los que cruza cada uno y los centros turísticos de naturaleza que se ubican a su paso.

Vías férreas, aeropuertos y puertos de altura



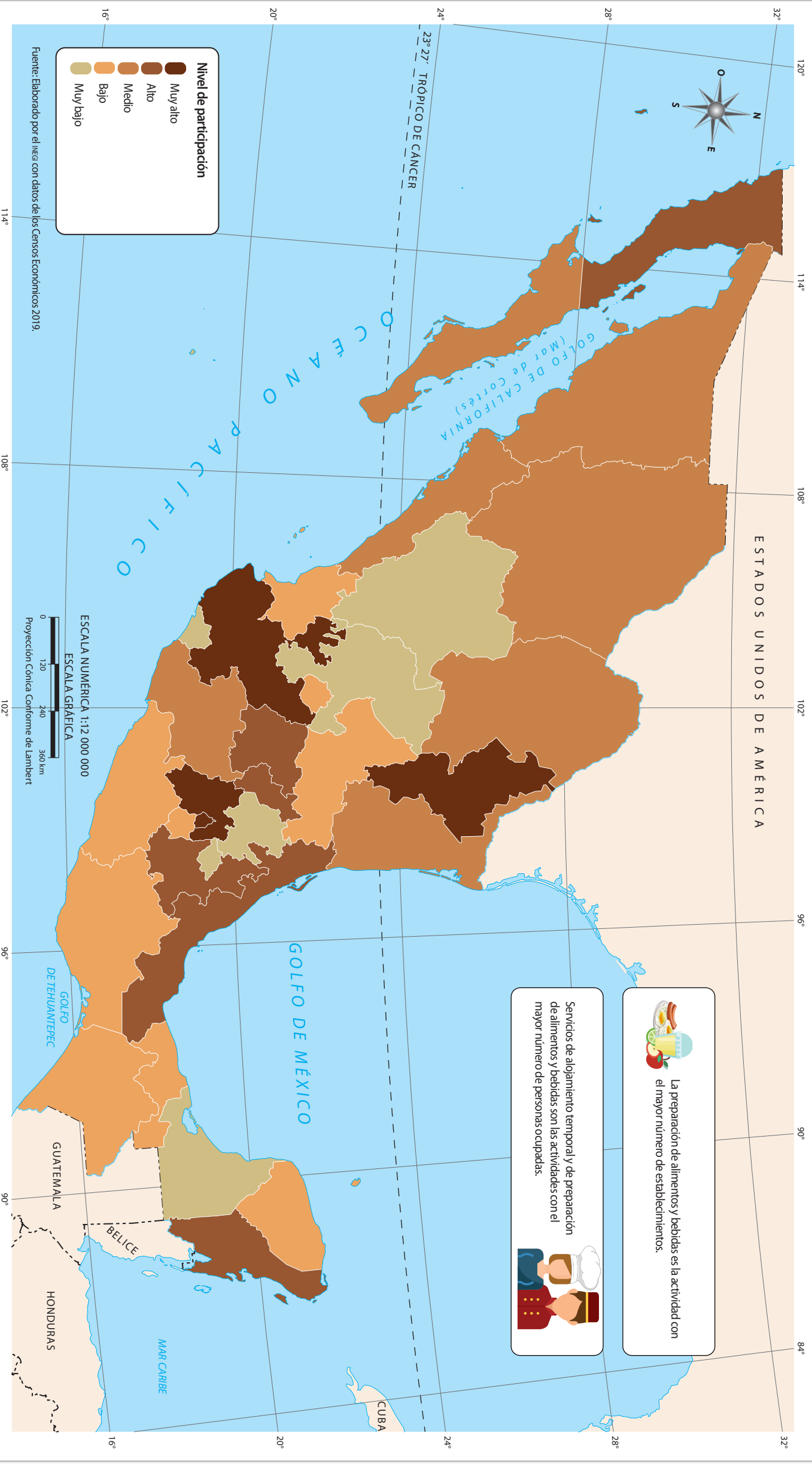
Las vías férreas son un elemento para el desplazamiento de los trenes, tanto de carga como de pasajeros; los aeropuertos son los lugares donde se realiza el despegue y aterrizaje de aeronaves, y los puertos de altura son instalaciones costeras que reciben embarcaciones de gran calado que navegan entre puertos nacionales e internacionales.

La red ferroviaria de México se extiende por todo el territorio nacional; es más densa en el centro del país y más escasa en las penínsulas y en el sur. Los aeropuertos internacionales están ubicados en las principales ciudades y los puertos de altura se localizan a lo largo de ambas costas del país.

Identifica los siguientes datos de tu estado: ¿qué ciudades cuentan con un aeropuerto?, ¿cuáles son los puertos de altura? En caso de que tu estado no tenga costa, señala los dos puertos más cercanos. Si cuenta con vías férreas, ¿qué localidad o localidades conectan?

Investiga sobre los productos que tu entidad vende al extranjero. Elabora una lista que contenga los productos, el destino al que se envían y el medio de transporte que se utiliza. Reflexiona sobre la importancia que tienen las vías férreas, los puertos y los aeropuertos para el comercio.

Servicios



La preparación de alimentos y bebidas es la actividad con el mayor número de establecimientos.

Servicios de alojamiento temporal y de preparación de alimentos y bebidas son las actividades con el mayor número de personas ocupadas.

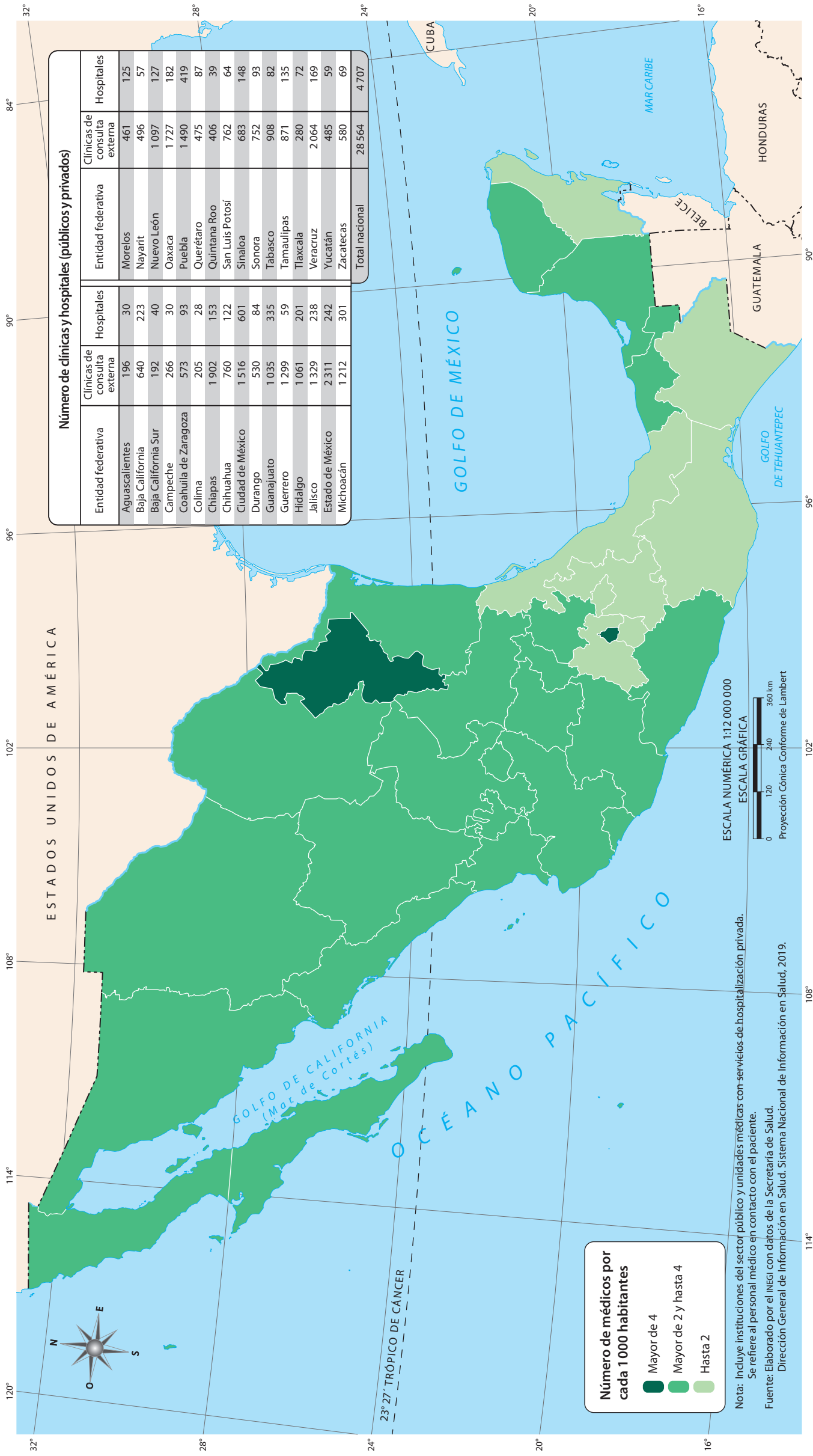
Los servicios son actividades económicas encaminadas a proporcionar bienestar o satisfacer necesidades de la población, tales como salud, educación, seguridad y transporte. Los servicios son públicos, cuando los prestan instituciones de gobierno, o privados, si los proporcionan personas o empresas.

La mayor participación en el área de servicios la tienen cuatro entidades: la Ciudad de México, Estado de México, Jalisco y Nuevo León; en segundo término, están Baja California, Guanajuato, Querétaro, Puebla, Veracruz y Quintana Roo. En contraste, hay seis estados que presentan una participación muy baja en el área de servicios: Du-

rango, Zacatecas, Hidalgo, Tlaxcala, Colima y Campeche. Observa la información que acompaña al mapa y responde: ¿cuál es la actividad que tiene el mayor número de establecimientos?, ¿qué actividades emplea más personas? Y ¿qué tipo de empleados se requieren para estas actividades?

Realiza una investigación para conocer los principales servicios que se prestan en tu localidad. Organiza la información en una tabla dividida en servicios públicos y privados. ¿Cuál es la actividad de servicios más común en tu localidad?, ¿cuál es el servicio que consideras más relevante?, ¿por qué?

Servicios de salud



Los servicios de salud son proporcionados por las instituciones y organizaciones cuyo objetivo es preservar y mejorar la salud de las personas. Para cumplir con lo anterior, los servicios de salud necesitan personal especializado, recursos económicos y suministro de medicamentos.

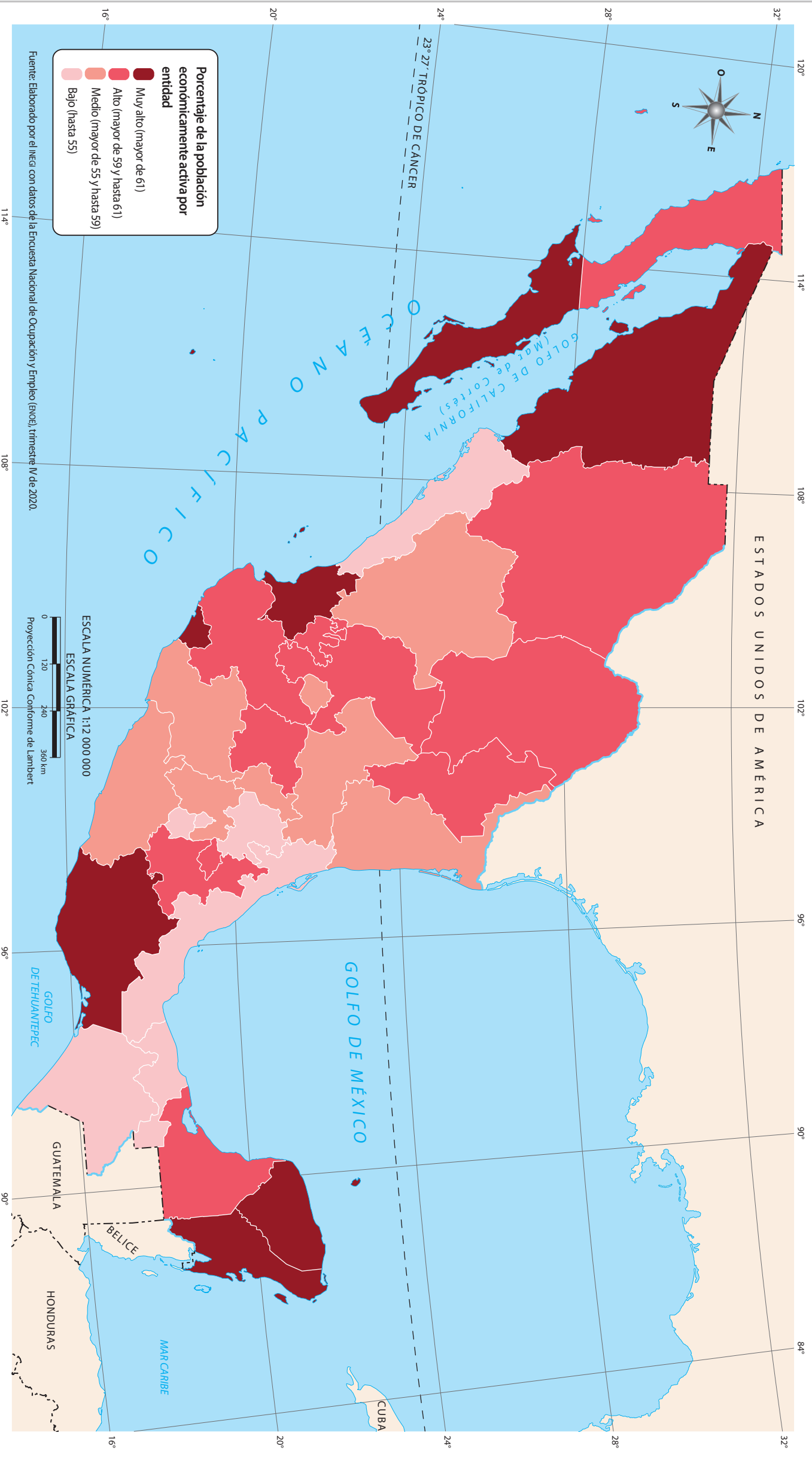
El mapa indica que las entidades con menor número de médicos por cada 1 000 habitantes son Estado de México, Morelos, Tlaxcala, Puebla, Veracruz, Oaxaca, Chiapas y Quintana Roo. La tabla que acompaña al mapa contiene información de la cantidad de clínicas de consulta externa y hospitales que hay por entidad federativa.

La Ciudad de México destaca con el mayor número. Organiza la información de la tabla. Clasifica las entidades en grupos: uno con el mayor número de hospitales, otro con el mayor número de clínicas de consulta externa, y el tercero y cuarto con el menor número de hospitales y clínicas, respectivamente. ¿Qué observas?



Investiga la función de una clínica de consulta externa y la de un hospital; compara la información para distinguir la diferencia. Después indaga cuántas clínicas y hospitales hay en tu municipio. Escribe tus resultados y valora la cobertura e importancia de los servicios de salud.

Población económicamente activa



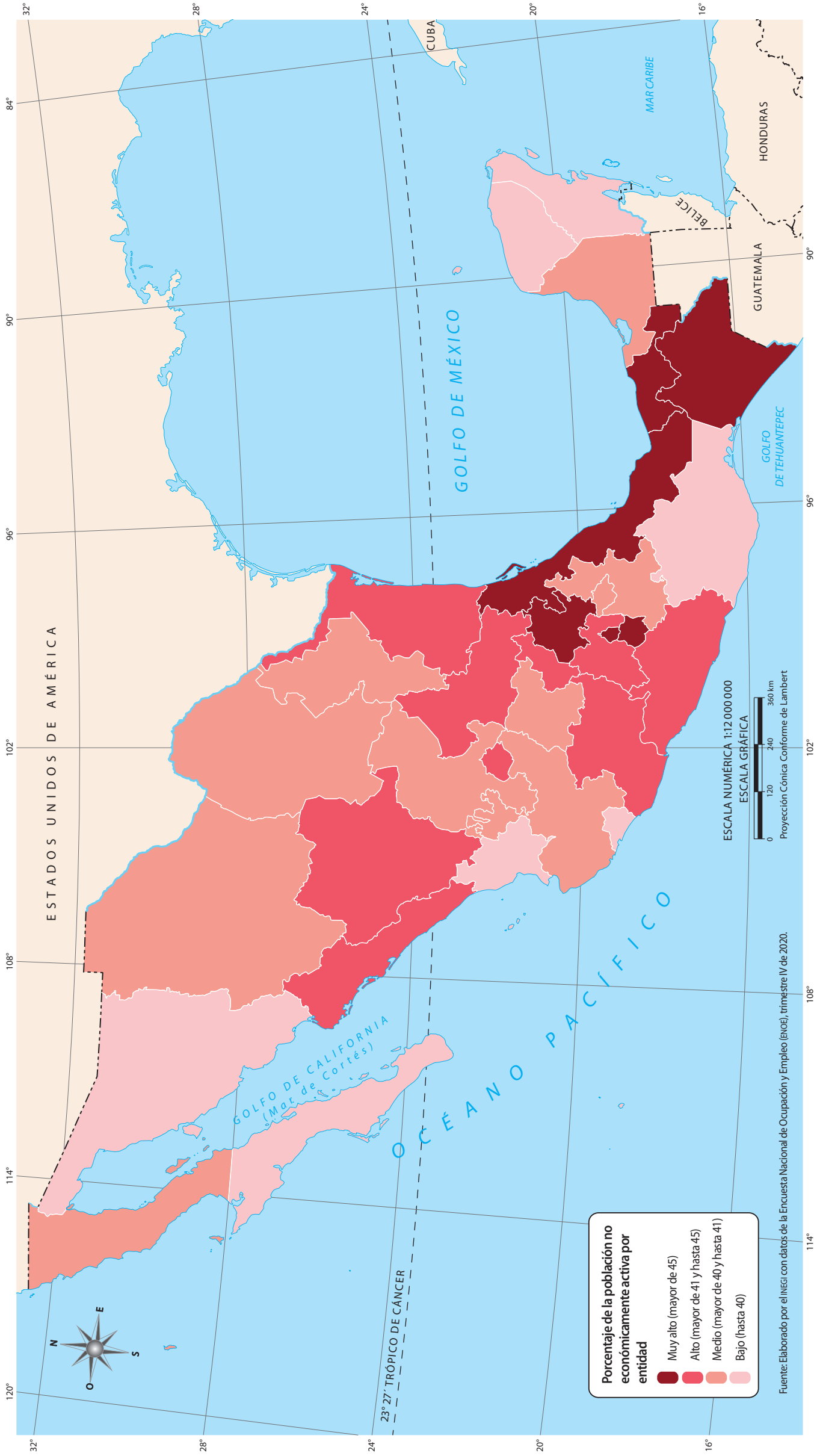
Q La **población económicamente activa** (PEA) está conformada por personas en edad de trabajar (mayores de 15 años) y se divide en dos categorías: a) la población ocupada, que es la gente con trabajo, y aquella que está ausente de sus empleos por maternidad, enfermedad u otro motivo; y b) los desempleados, es decir,

personas que están sin trabajo, pero buscan empleo. El mapa muestra que, en general, los estados del norte y de las penínsulas de Baja California y Yucatán tienen la mayor proporción de PEA. Mientras que la Ciudad de México, Morelos, Hidalgo, Veracruz, Tabasco, Chiapas y Sinaloa son las entidades con

menor porcentaje de población económicamente activa. Identifica el nivel de PEA que hay en tu estado y compáralo con el de los estados vecinos. ¿Se parecen o son distintos?, ¿por qué crees que el nivel de la PEA es parecido o distinto en algunos estados?

Pregunta a tus familiares cuáles son las principales fuentes de empleo del lugar donde vives y haz una lista con ellas. Elige un trabajo que te gustaría realizar cuando seas grande. Explica por qué elegiste esa opción.

Población no económicamente activa



Q La población no económicamente activa (PNEA) está formada por aquellas personas de 15 años y más edad que realizan actividades no económicas y no buscan trabajo. Se trata del sector de la población que se dedica a estudiar, es jubilado o hace actividades no remuneradas.

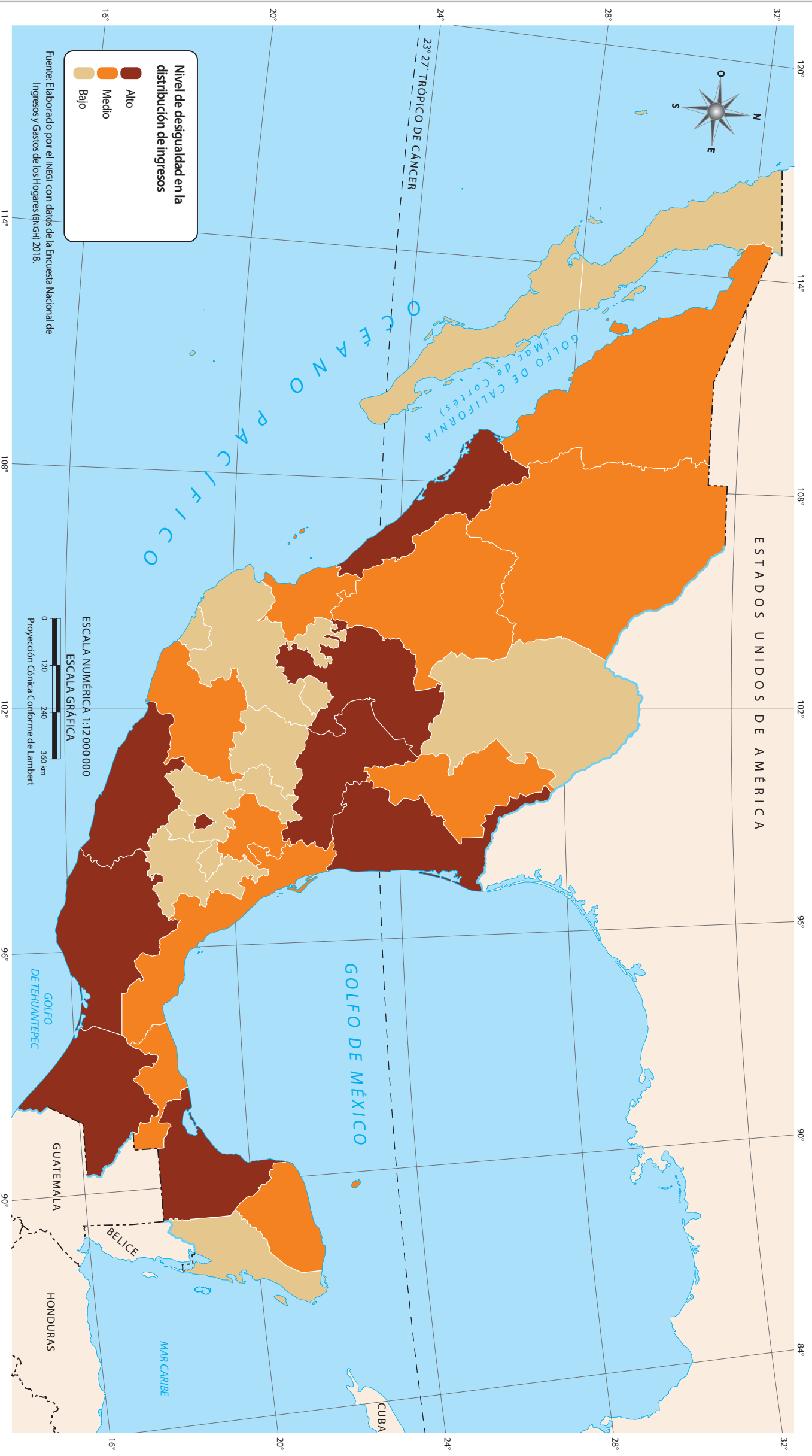
Los estados con mayor porcentaje de PNEA son la Ciudad de México, Morelos, Hidalgo, Veracruz, Tabasco y Chiapas. En contraste, los estados con porcentaje bajo son Baja California Sur, Sonora, Nayarit, Colima, Guerrero, Yucatán y Quintana Roo. Identifica los estados con nivel de PNEA Muy alto o Alto que no se encuentran en el


sur del país. Ubica los estados con nivel Bajo de PNEA que están en el sureste del territorio nacional. ¿Cómo es el nivel de población no económicamente activa de tu estado?



Elabora una lista de 10 integrantes de tu familia de 15 años y más edad. Escribe al lado de su nombre a qué se dedican y si pertenecen a la población económicamente activa (PEA) o a la población no económicamente activa (PNEA).


Desigualdad económica



 La *desigualdad económica* es la distribución inequitativa del ingreso, que es el dinero proveniente de un empleo o un negocio. Así, mientras pocas personas perciben grandes cantidades de dinero (tienen altos ingresos), la gran mayoría de la población gana poco (tienen bajos ingresos).

En México, nueve entidades se ubican con un alto nivel de desigualdad en la distribución del ingreso. En cambio, hay 13 con desigualdad baja, es decir, la distribución del ingreso es más equitativa entre la población.

Distingue el nivel de desigualdad en la distribución del ingreso en tu entidad. Identifica y anota en tu cuaderno qué otros estados tienen el mismo nivel. Divide en tres zonas el país: norte, centro y sur, y responde las siguientes preguntas: ¿en qué zona hay menor desigualdad?, ¿qué harías para mejorar la distribución del ingreso en el país?

 En casa, con tu familia, realiza el siguiente ejercicio. Simula dos situaciones en las que repartas 1 000 pesos entre los integrantes: una en la que se genere desigualdad en el reparto del ingreso y otra en la que se resuelva la mala distribución del ingreso. ¿Cómo lo hiciste?, ¿fue fácil? Con ayuda de un adulto comenta los problemas que puede provocar la desigualdad económica.

Destinos turísticos



Un *destino turístico* es un lugar que ofrece atractivos culturales, históricos, naturales y de servicios a visitantes nacionales e internacionales. El turismo es muy importante para comunidades, entidades federativas e incluso para el país en su conjunto, pues genera importantes recursos económicos, promueve el empleo y el desa-

rollo de infraestructura (carreteras, caminos, hoteles, puentes, museos, aeropuertos).

México cuenta con una gran cantidad de destinos turísticos a lo largo y ancho del territorio. Destacan estados como Baja California Sur y Quintana Roo por sus atractivos turísticos de playa; entidades como Yucatán y Oaxaca por sus zonas arqueológicas y su variada

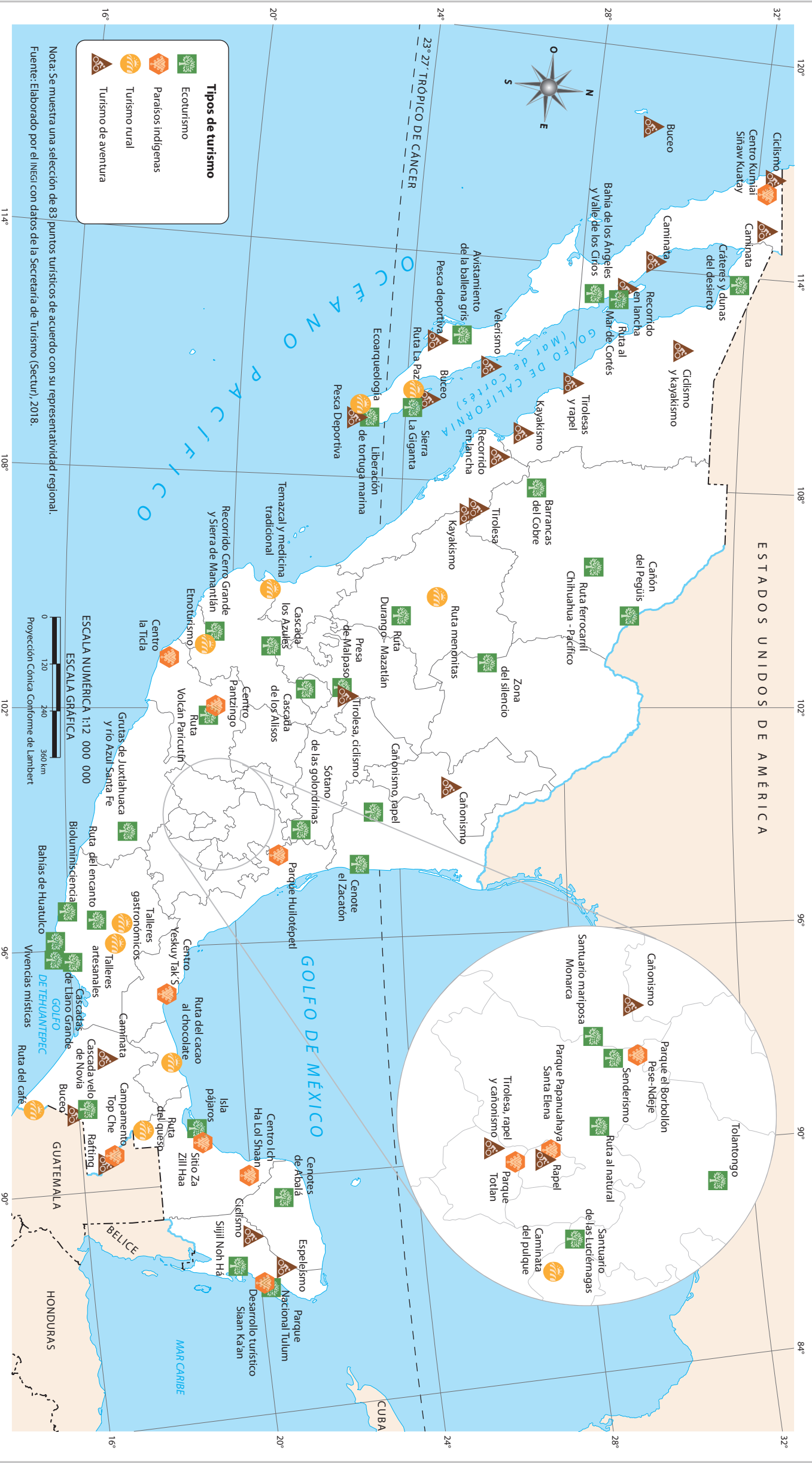
gastronomía, o Guanajuato, Puebla y Zacatecas por sus pueblos y ciudades coloniales.

De acuerdo con la Organización Mundial del Turismo, México ocupa el sexto lugar en turismo a nivel mundial. Observa el mapa e identifica cuántos destinos hay en tu estado. ¿Cuáles conoces o te gustaría conocer y por qué? ¿Qué otro destino agregarías al mapa?



Con apoyo de tu maestro o de un adulto, elabora un periódico mural en el que representes los atractivos de diferentes destinos turísticos de nuestro país. Investiga sobre los destinos elegidos, elabora textos explicativos breves y complementa con dibujos, fotografías o recortes.

Turismo de naturaleza



El turismo de naturaleza es una actividad económica que promueve el aprovechamiento sustentable de los recursos naturales. Es fuente de empleos, propicia el desarrollo de las comunidades y permite conocer el patrimonio del país.

Los lugares para llevar a cabo el ecoturismo y el turismo de aventura se encuentran

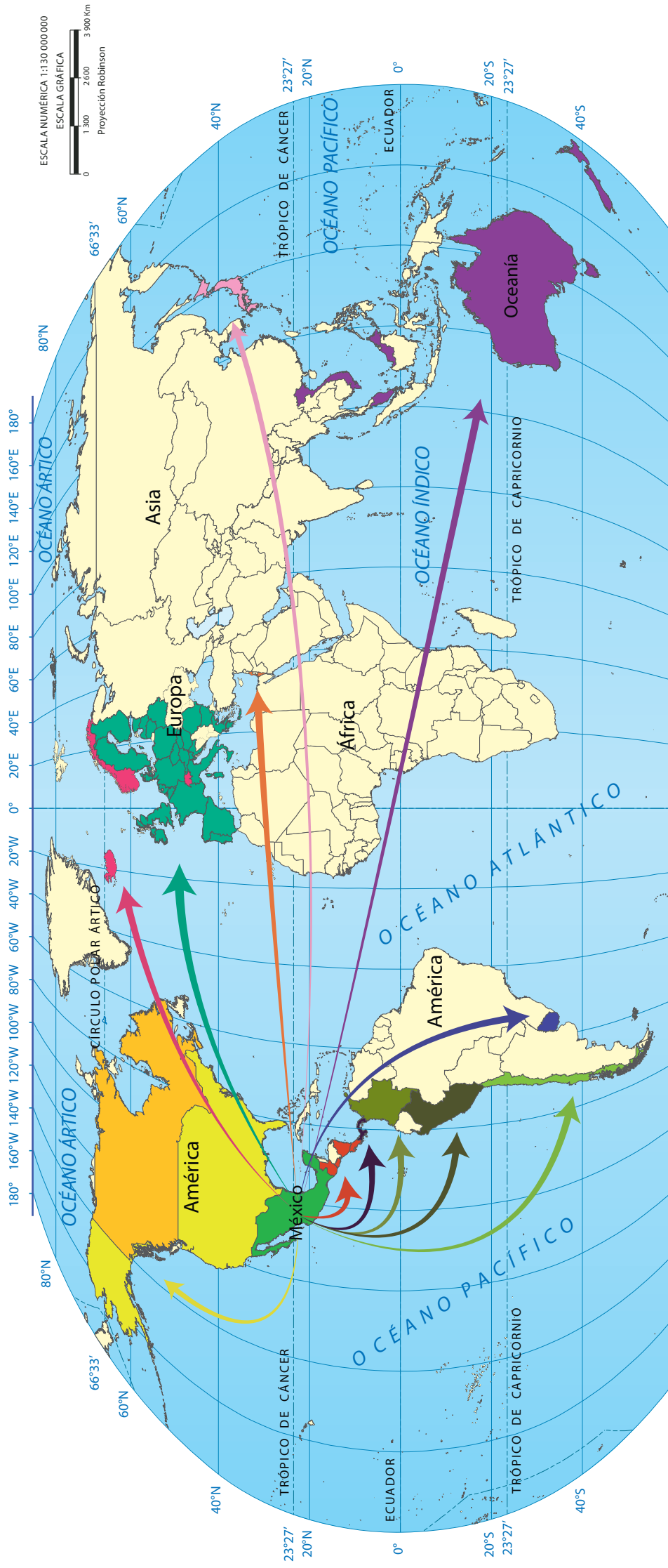
dispersos a lo largo y ancho del territorio nacional, mientras que los sitios con paraisos indígenas y de turismo rural se localizan, sobre todo, en el centro y sur.

Observa el mapa e identifica los tipos de turismo de naturaleza presentes en tu estado. ¿Cuál es el más común?, ¿a qué crees que se debe esto? Reflexiona sobre las razo-

nes por las que el turismo rural y de paraisos indígenas se localiza, primordialmente, en los estados del centro y del sur de México.

Elige un tipo de turismo de naturaleza e investiga sobre las actividades que involucra y los impactos económicos, ambientales, sociales y culturales que produce. Con la información, prepara un cartel sobre los aspectos positivos y negativos de dicha actividad turística.

Principales tratados comerciales



Tratados de libre comercio

Colombia	1995		Chile	1999		Unión Europea (TLCUEM)	2000		Israel	2000		Asociación Europea de Libre Comercio (AELC)	2001	 	Uruguay	2004		Japón	2005		Centroamérica	2013	 	Panamá	2015		Alianza del Pacífico	2016	 	Tratado Integral y Progresista de Asociación Transpacífico (CPTPP)	2018	 	América del Norte (T-MEC)	2020	
----------	------	--	-------	------	--	------------------------	------	--	--------	------	--	---	------	--------------	---------	------	--	-------	------	--	---------------	------	--------------	--------	------	--	----------------------	------	----------	--	------	--------------------------	---------------------------	------	------

Nota: El año corresponde a la entrada en vigor de cada uno de los tratados de libre comercio.

Fuente: Elaborado por el INEGI con datos de la Secretaría de Economía (SE), 2018.

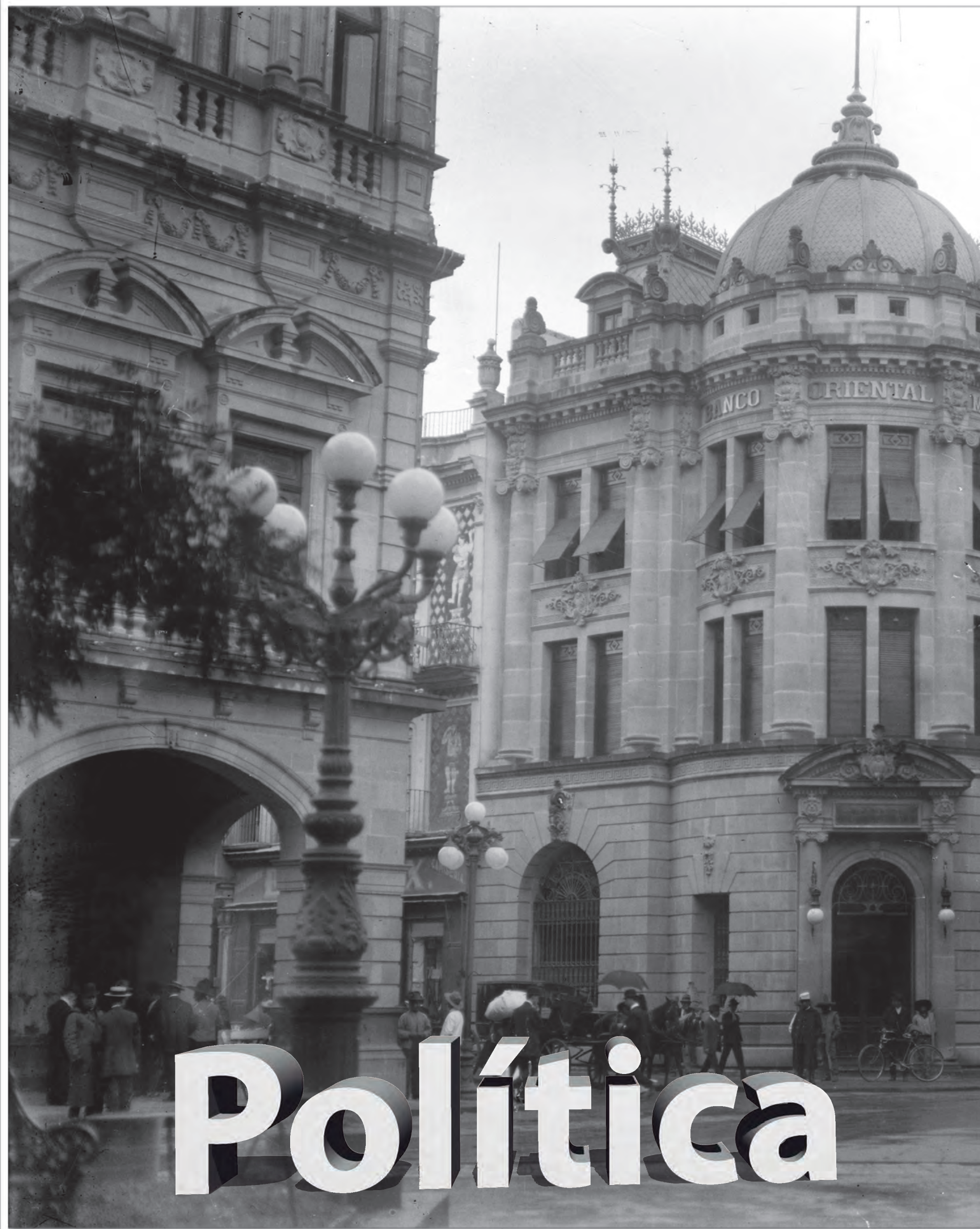
Q Los *tratados de libre comercio* son acuerdos legales entre dos o más naciones que se comprometen, de forma obligada, a cumplir reglas y condiciones en temas comerciales. La finalidad de estos pactos es facilitar las relaciones

comerciales entre los países involucrados, promover la captación de inversión privada y crear convenios estables que permitan el libre flujo de mercancías y servicios. México tiene tratados comerciales con países vecinos, como Estados Unidos y Guate-

mala, y con naciones distantes, como Japón. Elabora una tabla con los nombres de los bloques comerciales en los que México participa y los países que los integran. ¿Cuántos tratados de libre comercio tiene México?

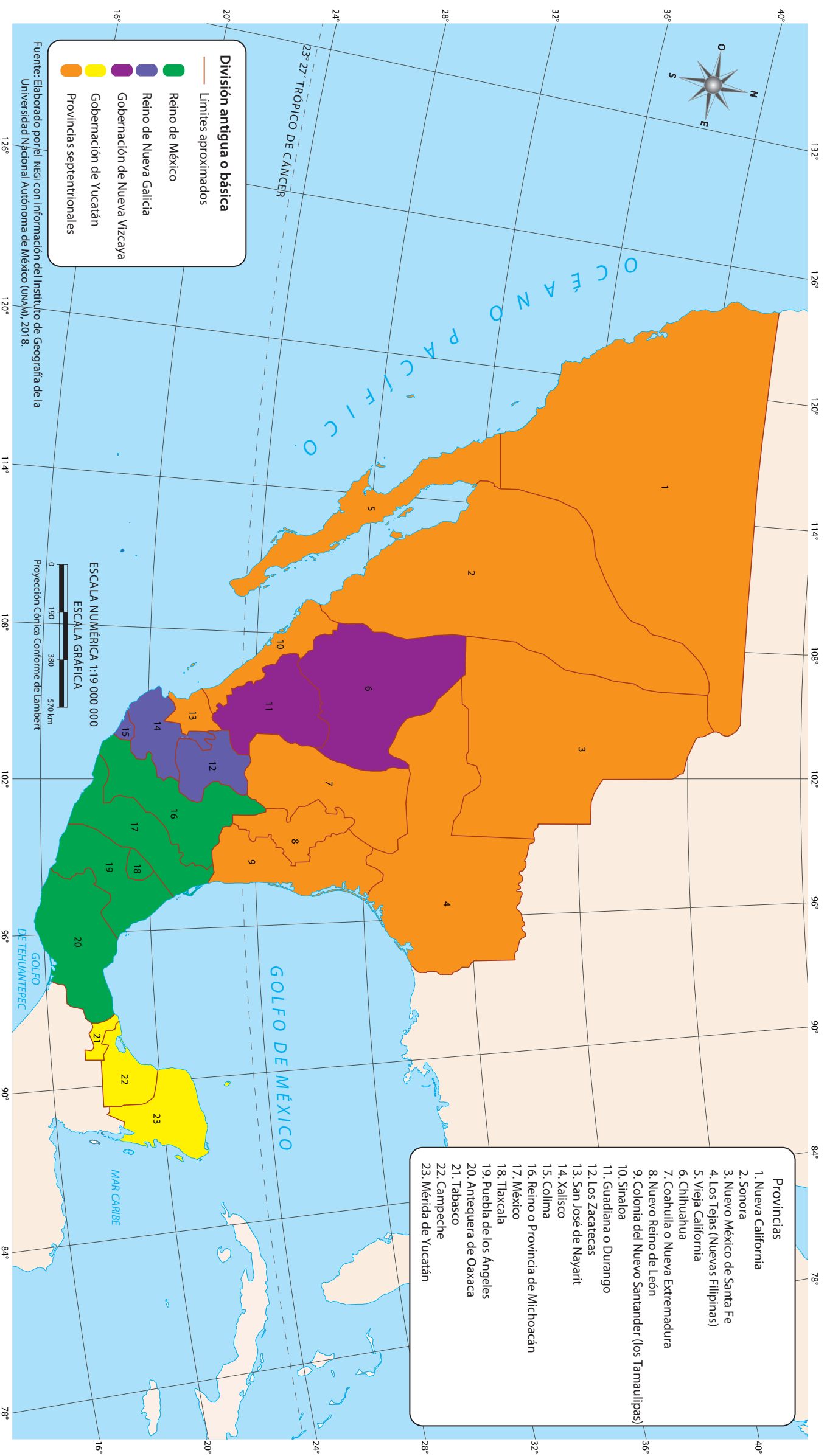


México, Estados Unidos y Canadá cuentan con un tratado de libre comercio. Éste permite que las tres naciones cuenten con mayor variedad de productos para el consumo. Investiga qué productos provenientes de Estados Unidos y Canadá ingresan a nuestro país debido a este tratado.



Política

División antigua (provincias y reinos), 1550-1776



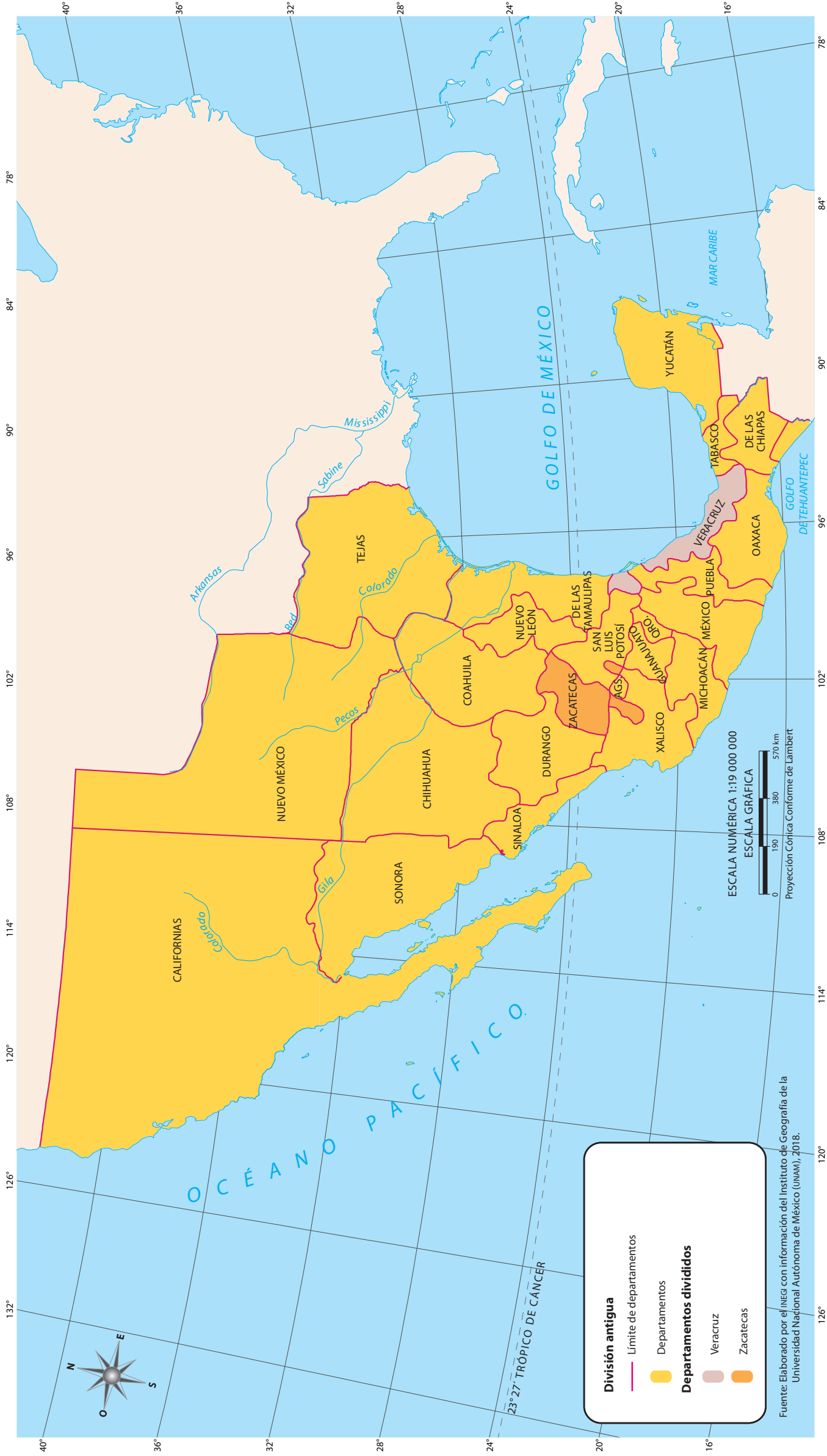
La *división antigua* refiere a que los españoles establecieron reinos y gobernaciones en el México antiguo. A los territorios dominados por los mexicas los llamaron Reino de México, a los controlados por los purépechas los nombraron Reino de Nueva Galicia, mientras que el área maya recibió el nombre de Gobernación de Yucatán.

En el norte, que fue colonizado para la explotación de minerales, establecieron el Reino de Nueva Vizcaya y las llamadas provincias septentrionales. La Nueva España se dividió en 23 provincias: cinco formaban el Reino de México; tres el Reino de la Nueva Galicia; dos la Gobernación de Nueva Vizcaya; tres la Gober-

nación de Yucatán; mientras que 12 fueron provincias septentrionales (del norte). Elabora una tabla de cuatro columnas y en cada una escribe: 1) las provincias del Reino de México, 2) las provincias del Reino de Nueva Galicia; 3) las provincias de la Gobernación de Yucatán, y 4) las provincias septentrionales.

¿Cuáles son las provincias que se ubicaron en lo que fue Mesoamérica? ¿Qué provincias formaron parte de tu entidad? Para responder a la pregunta, compara este mapa con uno actual de la República Mexicana.

División territorial, 1843-1846



Q Durante el siglo XIX, México estuvo en constante conflicto: enfrentó problemas con Francia y Estados Unidos, y de manera interna mantuvo una pugna entre gobiernos federalistas y centralistas. En este mismo periodo, el territorio de Texas estaba por anexarse a Estados Unidos, situación que no era conveniente para México.

En 1843, el país se dividió en 24 departamentos, con la finalidad de tener un mayor control sobre el territorio desde el centro del país. Esta organización se mantuvo hasta 1846. El Distrito Federal se incorporó al departamento de México, y la Alta California y la Baja California quedaron unidas en un solo departamento.

Compara este mapa con el de "División antigua (provincias y reinos), 1550-1776", de la página 72, y con el "Mapa de los Estados Unidos de Méjico, 1828", de la página 74. En tu cuaderno escribe cuáles han sido los cambios en la división del territorio nacional, así como las similitudes que encuentras entre los mapas.



Como has visto, en nuestro país se modificó la división política del territorio en varias ocasiones, debido a conflictos o diferencias políticas internas. Observa el mapa "División territorial" de la página 76 y compara: ¿qué estados de la República no existían entre 1843-1846? Señala los territorios que ya no sean parte de México.

Mapa de los Estados Unidos de Méjico, 1828



División territorial



Fuente: Elaborado por el INEGI con datos del Marco Geoestadístico, 2020.

Simbología

- Capital del país
- Capital de estado
- Límite internacional
- Límite estatal
- Río limitrofe

La **división territorial** es la forma en que un territorio es organizado para hacer más fácil su gobierno y administración. México está dividido en “estados de la federación” o “entidades federativas”, los cuales a su vez se dividen en espacios más pequeños denominados “municipios”. En nuestro país existen 2 469 municipios.

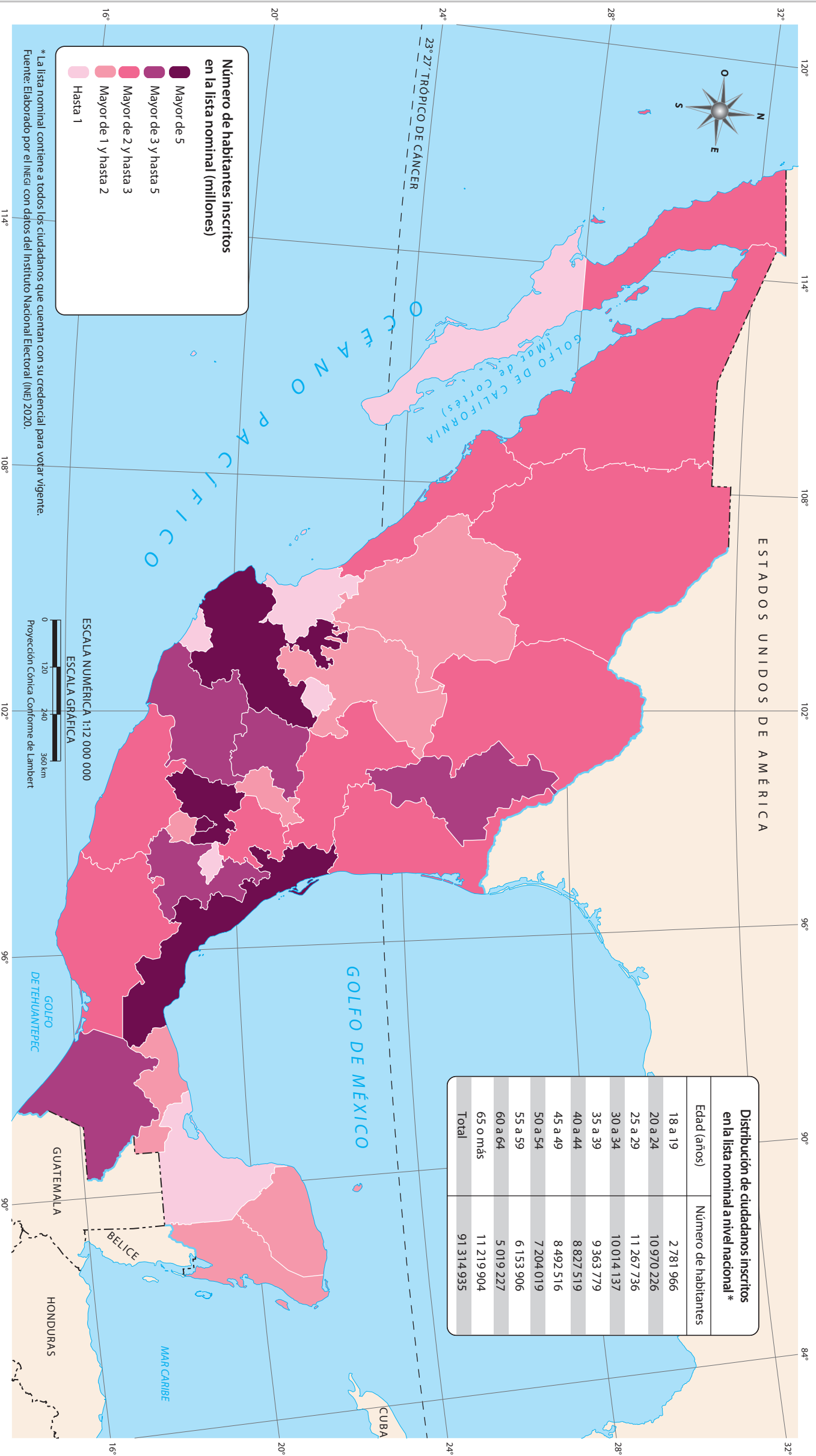
En este mapa puedes ver que el territorio mexicano está dividido en 32 entidades. Cada estado también cuenta con una ciudad capital donde se concentra el poder político (ejecutivo, legislativo y judicial).

Observa el mapa y localiza el estado en el que vives. Anota en tu cuaderno el nombre de su ciudad capital y el de las entidades con las

que colinda. ¿Cuál es el océano, golfo o mar más cercano?, ¿cuál es el país más próximo a tu entidad? Escribe tres ventajas que tiene tu estado por su ubicación.

Entra a la página electrónica del INEGI, busca el subtema “Cuéntame” e investiga cuál es la entidad federativa que tiene menos municipios y cuál es la que tiene más. ¿Cuántos municipios hay en tu entidad? ¿Cuál es la ventaja o desventaja de que tenga ese número?

Ciudadanos con credencial para votar



La credencial para votar es una identificación oficial que avala la ciudadanía mexicana y se emplea para ejercer el derecho al voto en México y en el extranjero, así como para realizar diversos trámites oficiales. Es expedida por el Instituto Nacional Electoral (INE) a las personas de 18 años y más.

Las entidades con mayor número de personas inscritas en la lista nominal del INE son Estado de México, Ciudad de México, Jalisco y Veracruz. En contraste, Aguascalientes, Tlaxcala, Nayarit, Campeche, Baja California Sur y Colima son los estados con el menor número de ciudadanos con credencial para votar.

Reflexiona y señala: ¿cuál es el número de habitantes inscritos en tu entidad?, ¿cuál es el rango de edad con el menor número de ciudadanos con credencial? Si fueras candidato de un partido político y tuvieras que elegir a dos grupos de población para obtener el mayor número de votos, ¿a quiénes dirigirías el mensaje de tu campaña política?, ¿por qué?

Pide a los adultos de tu casa que te muestren sus credenciales para votar e identifica el tipo de información que contienen y haz una lista de lo que encontraste. ¿Todas tienen la misma información?, ¿por qué?

Censo de Población y Vivienda

¿QUÉ ES UN CENSO DE POBLACIÓN?

Es el recuento de todas las personas y viviendas de un país en un momento determinado. El censo permite saber cuántos somos, cómo somos, dónde vivimos y cómo vivimos.



¿PARA QUÉ SIRVE EL CENSO?

Para obtener información sobre la población de un país, los grupos de edad que la componen, sus características sociales, culturales y económicas, y su distribución en el territorio. También permite conocer datos sobre el número de viviendas y sus principales características.

La información recabada con el censo y los resultados se usan para planear, organizar y desarrollar acciones de gobierno que permitan mejorar las condiciones de vida de los ciudadanos. Estos datos también se utilizan en investigaciones académicas.

¿CÓMO SE REALIZA EL CENSO?

Cada 10 años, miles de entrevistadores visitan las casas del país para obtener, de los jefes o jefas de familia, información relativa a las personas residentes en su vivienda, así como de las características físicas de ésta. Entre la información que se recaba con el censo está el número de personas que habitan la casa, la edad de cada una, su ocupación y nivel de estudios, el número de hombres, mujeres, niñas y niños, además del número de habitaciones que tiene la vivienda y los servicios con los que cuenta (drenaje, agua potable, energía eléctrica).



Año 1116 Época prehispánica

- Se realiza un censo durante la segunda migración de tribus chichimecas al Valle de México. Se utilizan piedras para hacer el conteo.



1790-1791 Época colonial

- Se lleva a cabo un conteo de población conocido como "Censo de Revillagigedo". El reporte de población es de 3 865 529 habitantes.



1895 Primer censo del México independiente

- Se realiza el primer conteo del México independiente: Censo General de la República Mexicana. El país tiene 12 491 573 habitantes.



1960 VIII Censo General de Población

- México cuenta con 34 923 000 habitantes. Por primera vez se reporta que la población urbana es mayor que la población rural.



1983 Creación del INEGI

- Se crea el Instituto Nacional de Estadística y Geografía (INEGI), organismo responsable de organizar, aplicar y difundir información sobre México, en cuanto a su territorio, recursos, población y economía.

Época actual

En la actualidad, el INEGI es el organismo responsable de organizar y aplicar el censo en toda la República Mexicana.



PIRAMIDE DE PAPANTLA (Veracruz).



RUINAS DE TZAPEN (Veracruz).



IOCHICALCO (Aforelos).



TEOTIHUACAN (Mazatlán).



Cultura



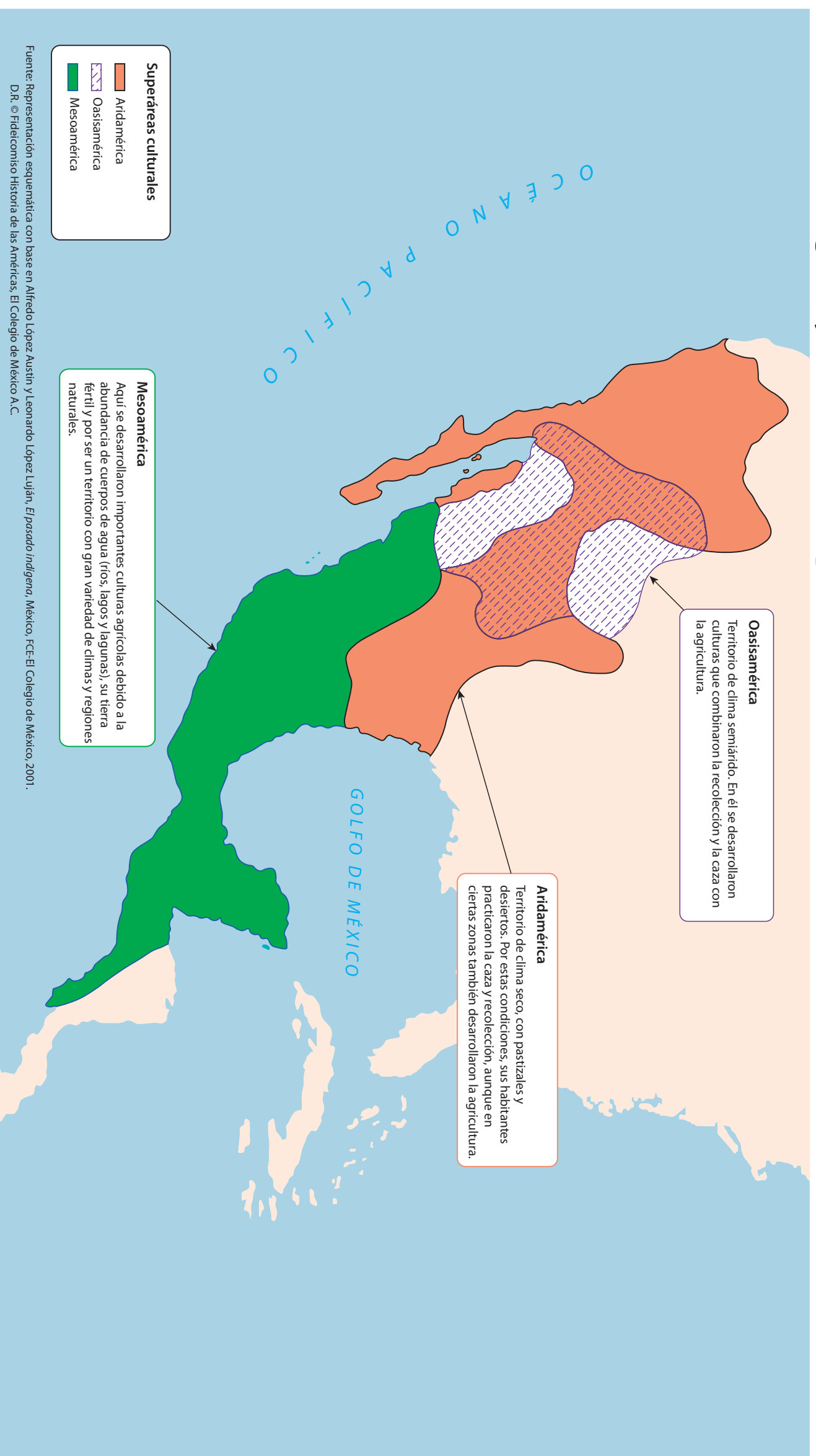
El idioma que hablas, la religión que practicas, los alimentos que consumes, la ropa que usas, las tradiciones del lugar donde vives y los valores que te inculcaron desde que naciste son parte de la cultura de tu comunidad.

Este conjunto de **creencias, prácticas y costumbres** representa la forma de vida del grupo social al que perteneces, distingue a tu comunidad de otras y le **otorga identidad**. Esa riqueza cultural forma parte de la esencia de nuestro país.

Las construcciones, la gastronomía, la vestimenta y el baile son también manifestaciones culturales. En ellas se plasman y reflejan las características del entorno y la visión que tiene del mundo cada grupo social.

México es un país pluricultural y los mapas de este capítulo te ayudarán a comprender, valorar y respetar la diversidad de manifestaciones culturales de los grupos que lo integran.

México antiguo y sus tres superáreas culturales



Se han identificado tres superáreas culturales de la época prehispánica: Aridamérica, Oasisamérica y Mesoamérica. Una superárea cultural se identifica por las características económicas, sociales y culturales que le dan unidad,



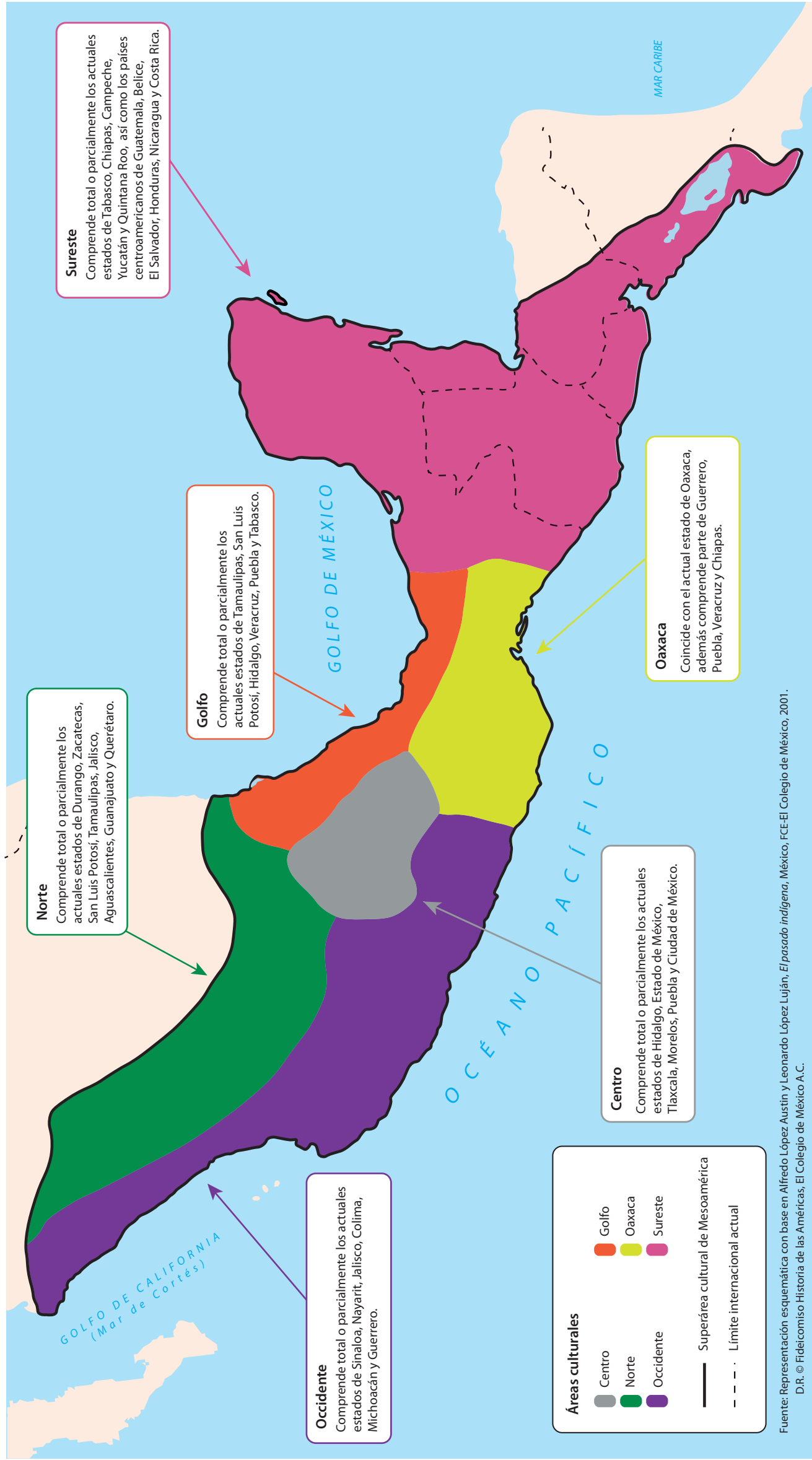
cuyo resultado son las tradiciones e historia que comparten sus habitantes. Aridamérica se extiende desde el noroeste hasta la península de Baja California; Oasisamérica se ubica en el noroeste, ambas abarcan buena parte de Estados Unidos de

América. Mesoamérica va de la mitad sur de México hasta Costa Rica, pasando por Guatemala, Belice, Honduras, El Salvador y Nicaragua.



Con ayuda del mapa "División territorial", de la pág. 76, identifica las entidades que forman parte de cada superárea cultural. Escribe una carta dirigida a un estudiante de una entidad distinta a la tuya, dile en qué superárea cultural se ubica tu localidad. Describe cómo son los ríos, lagos o montañas, y qué tipo de clima prevalece, así como la vegetación que hay alrededor. Explicale cómo crees que vivían los antiguos pobladores en el lugar en donde vives.

Mesoamérica y sus áreas culturales



Q Mesoamérica es una superárea geográfica y cultural que abarca gran parte del territorio del México actual y se extiende a Belice, Guatemala, El Salvador, Nicaragua, Honduras y Costa Rica.

En Mesoamérica se desarrollaron las grandes culturas agrícolas del México antiguo. Los cultivos, base de la alimentación,

fueron el maíz, la calabaza, el jitomate y el chile. También fueron notables los avances en la ciencia y el arte.

Las áreas culturales de Mesoamérica tuvieron intensas relaciones comerciales, políticas, bélicas y religiosas.

Observa el mapa, señala cuantas áreas culturales integran Mesoamérica; investiga

el nombre de dos culturas de cada área y escribe en tu cuaderno los resultados de tu investigación. ¿La entidad donde vives se encuentra en Mesoamérica? ¿Cómo lo sabes?



Busca imágenes de cada cultura y elabora en media cartulina un collage, procura agrupar por área cultural. Pregúnta a tus familiares si en tu localidad existe alguna tradición o festividad de origen prehispánico, o bien, si hay algún platillo que sea herencia de aquellas culturas.

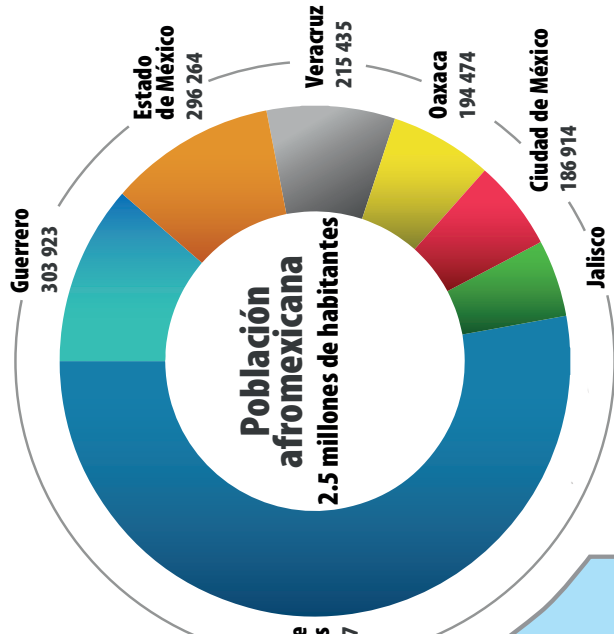
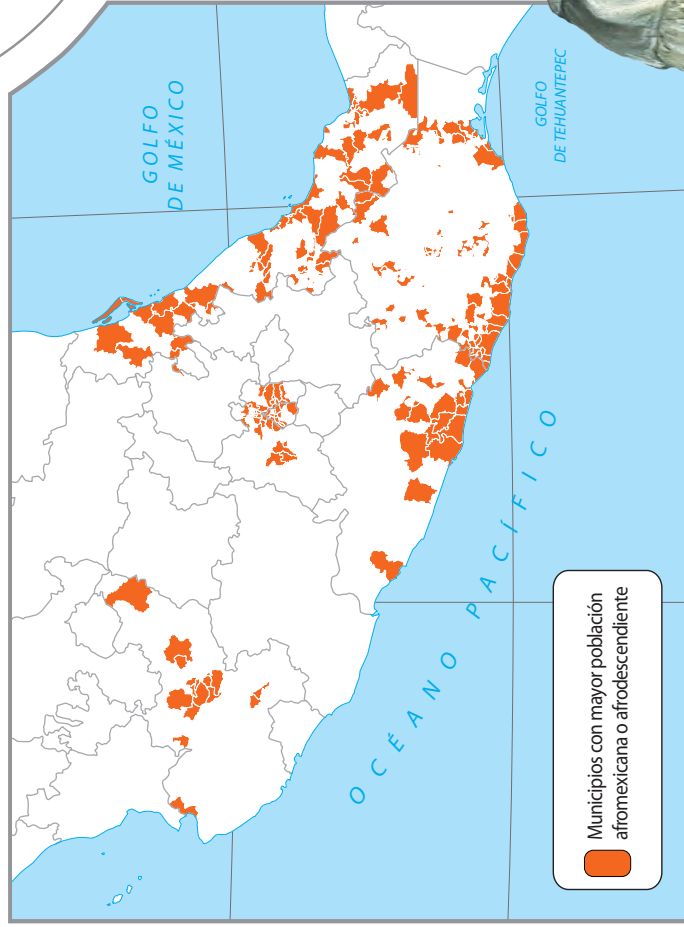
Comunidades afromexicanas

Origen de las comunidades afromexicanas

El término *afromexicano* identifica a personas de origen africano que viven en México. Con la conquista española del siglo XVI, miles de africanos fueron forzados a venir a la Nueva España como esclavos para trabajar en minas, plantaciones de caña, café, tabaco y estancias ganaderas, así como en labores domésticas y de servicio.

Localización

Las personas afromexicanas se encuentran distribuidas en todo el territorio nacional. Se ha identificado que el asentamiento principal de estas comunidades se encuentra en Ciudad de México, Estado de México, Guerrero, Jalisco, Oaxaca y Veracruz.



Gastronomía

Con la conquista española se introdujeron alimentos de origen africano, como el ajonjolí, las lentejas, el plátano, el café y la flor de Jamaica; y en la cocina mexicana se encuentran platillos como empanadas de yuca, moros y cristianos (arroz con frijoles), frijoles puercos, carnitas, chicharrón, menudo y tripas.

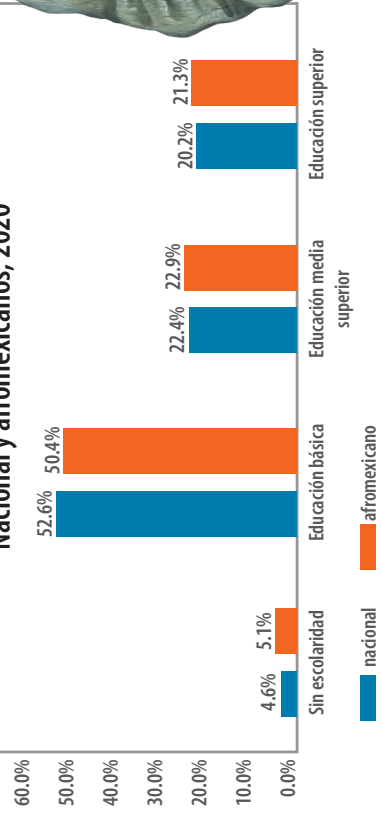
Palabras de origen africano

Al español de México se han incorporado diversas palabras africanas que lo han enriquecido: fandango, pachanga, zombi, marimba, rumba, caramba, tumba, chunga, cumbia, dengue, banana y mucama.

Derechos de la población afromexicana

En el artículo 2° de la Constitución Política de los Estados Unidos Mexicanos se reconoce a los pueblos y comunidades afromexicanas como parte de la composición pluricultural de nuestro país y se establecen los derechos que garantizan su libre determinación, autonomía, desarrollo e inclusión social. De esta manera se contrarresta la invisibilidad y exclusión que han enfrentado a lo largo de 500 años.

Nivel de escolaridad de la población de 12 años y más de edad. Nacional y afromexicanos, 2020



Música

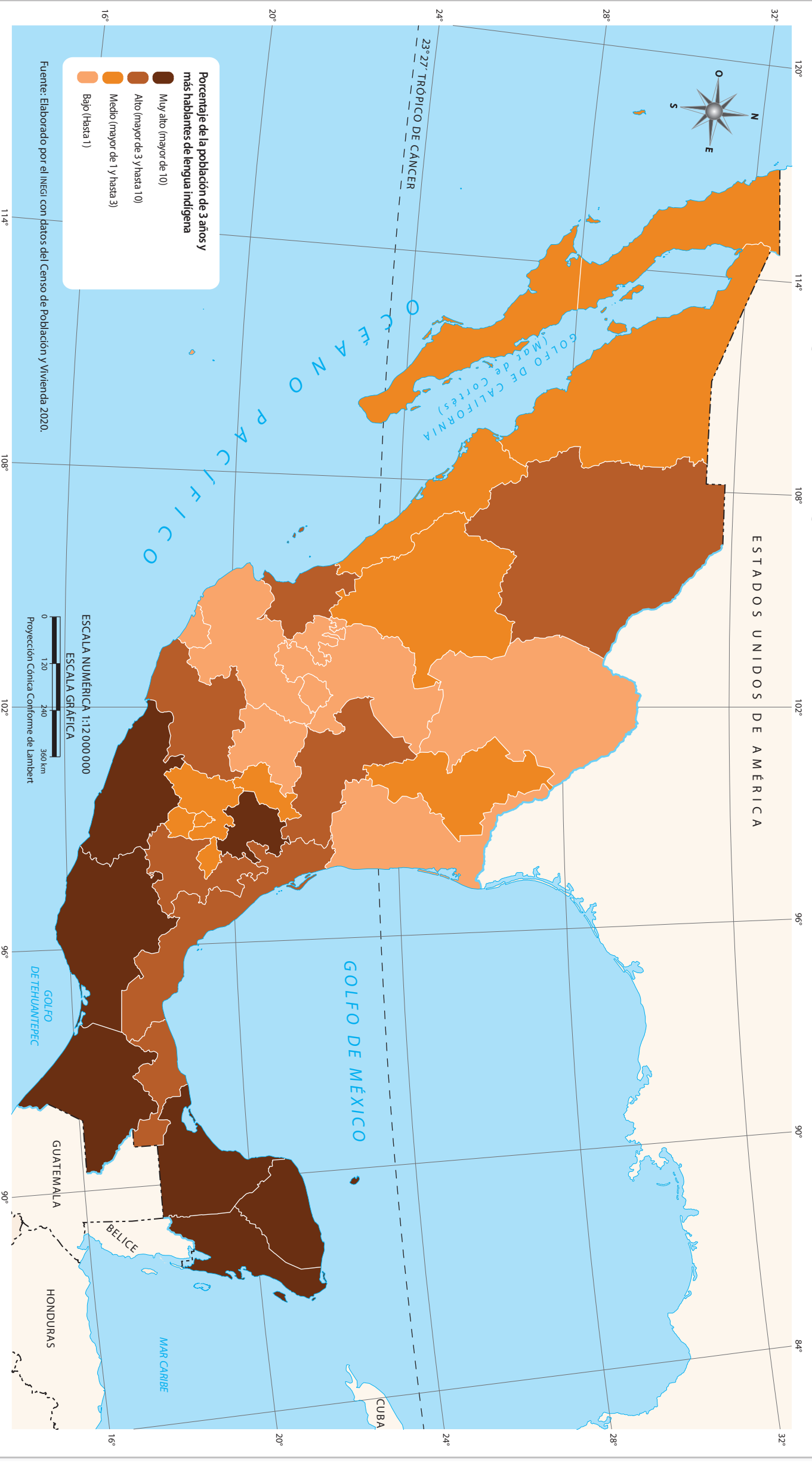
Algunos ritmos con influencia africana en América y México son el cha cha chá, el danzón, el merengue, la cumbia y el tango, entre otros. En su interpretación se ocupan instrumentos musicales como el bongó, las maracas, el güiro, la marimba y la charrasca (quijada de burro).

Danza y baile

Los Diablos, La Tortuga, El Macho Mula y El Toro de Petate son danzas que recrean aspectos de la vida cotidiana de los esclavos africanos durante la Colonia. Por ejemplo, *El Son de la Arresa* se baila sobre una tarima o un cajón de madera (artesa) con formas labradas de toros, vacas o caballos. El zapateado simboliza el desquite sobre el amo blanco.



Hablantes de lenguas indígenas



Los *hablantes de lenguas indígenas* pertenecen a grupos descendientes de las poblaciones originarias que habitaron el actual territorio nacional antes de la Conquista española. En este mapa se observa que, principalmente en algunas entidades del sur y sureste del país, se cuenta con una



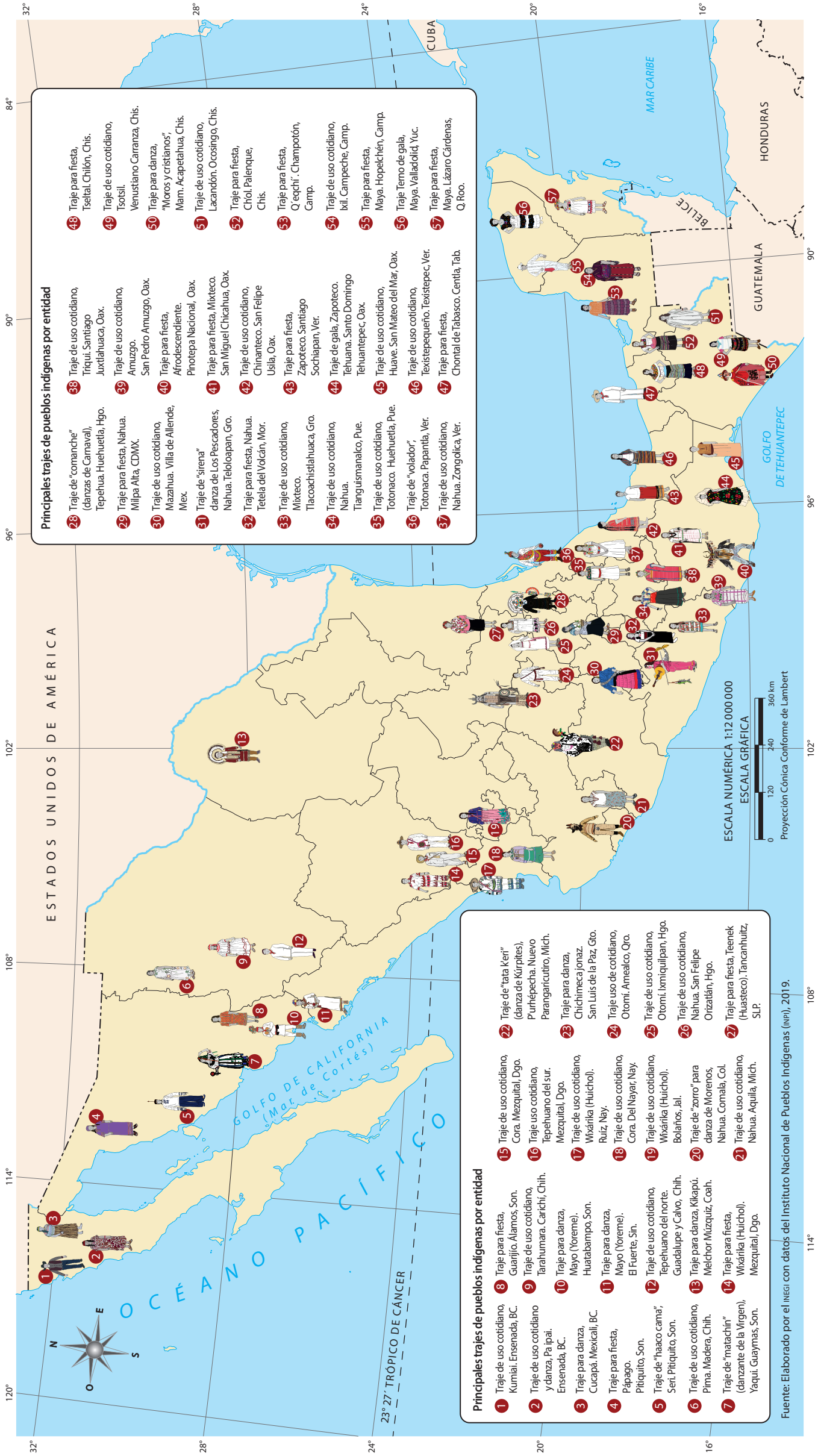
gran cantidad de hablantes de lengua indígena, mientras que en otros estados el número es más bajo. Observa el mapa y localiza tres entidades que tengan muy alto porcentaje de hablantes de lengua indígena. ¿En qué nivel se encuentra tu entidad?

Compara este mapa con el de “Pueblos indígenas”, de la página 33, y responde la siguiente pregunta: ¿cuáles pueblos habitan en los estados con mayor porcentaje de población hablante de lengua indígena?



Investiga cuántas lenguas indígenas existen actualmente en el país y cuáles se hablan en tu entidad. Busca cinco palabras de origen indígena que formen parte del español de México y escribe el significado de cada una. Reflexiona: ¿por qué es importante preservar y fortalecer estas lenguas?

Vestimenta indígena



Investiga sobre el pueblo indígena más cercano al lugar donde vives. Describe su vestimenta típica y qué uso se le da. Explica: ¿cómo crees que se relaciona el diseño de este traje con las características del lugar? Haz un dibujo de la vestimenta en el que plasmes los rasgos más sobresalientes.

les y en el uso que se les da, ya que pueden ser para la vida diaria, los días de fiesta o las danzas tradicionales.

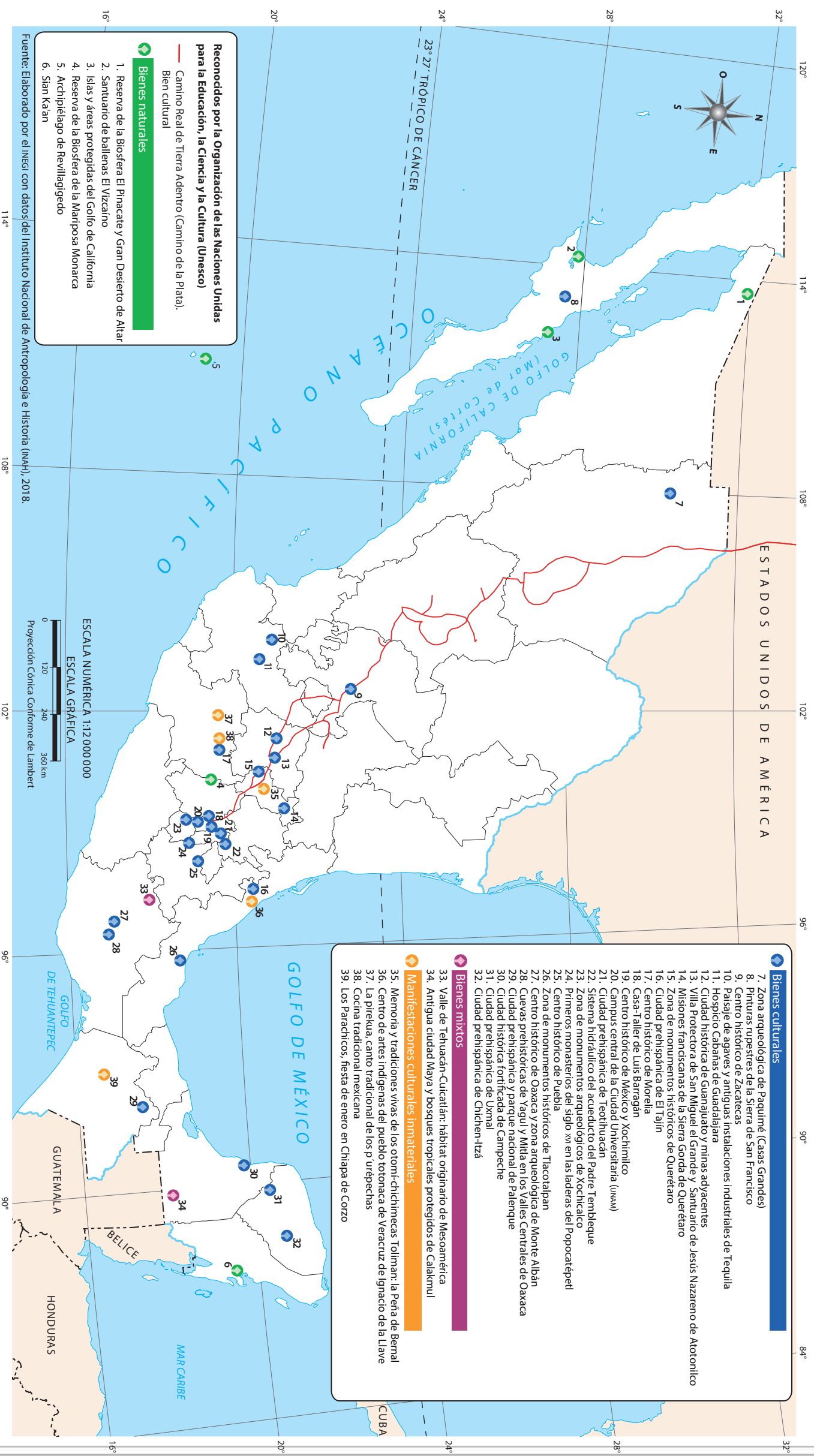
Compara el mapa con el de "Pueblos indígenas", en la página 33. ¿Qué relación encuentras entre ambos mapas?, ¿qué vestimenta te gusta más?, ¿por qué?

lugar y tanto los materiales como los diseños consideran las características del clima, la vegetación y la fauna de la región.

La distribución de los trajes en el mapa corresponde a las zonas en las que existen pueblos indígenas. Estos atuendos son muy distintos en el diseño, el color, los materiales y los recursos disponibles de cada

La *vestimenta indígena* está constituida por prendas de vestir, accesorios y adornos personales. Es un elemento de identidad de los grupos indígenas, ya que expresa sus costumbres, visión del mundo y relación con la naturaleza. Generalmente, se elabora con los recursos disponibles de cada

Patrimonio Mundial



La idea de *Patrimonio Mundial* surgió en 1972, durante una convención de la Organización de las Naciones Unidas para la Educación, la Ciencia y la Cultura (Unesco, por sus siglas en inglés). Los bienes que forman parte de ese patrimonio tienen un valor excepcional para la humanidad y su pérdida sería irrecuperable. Los países miembros de la Unesco están comprometidos con proteger, conservar y transmitir a las generaciones futuras el aprecio por su patrimonio.

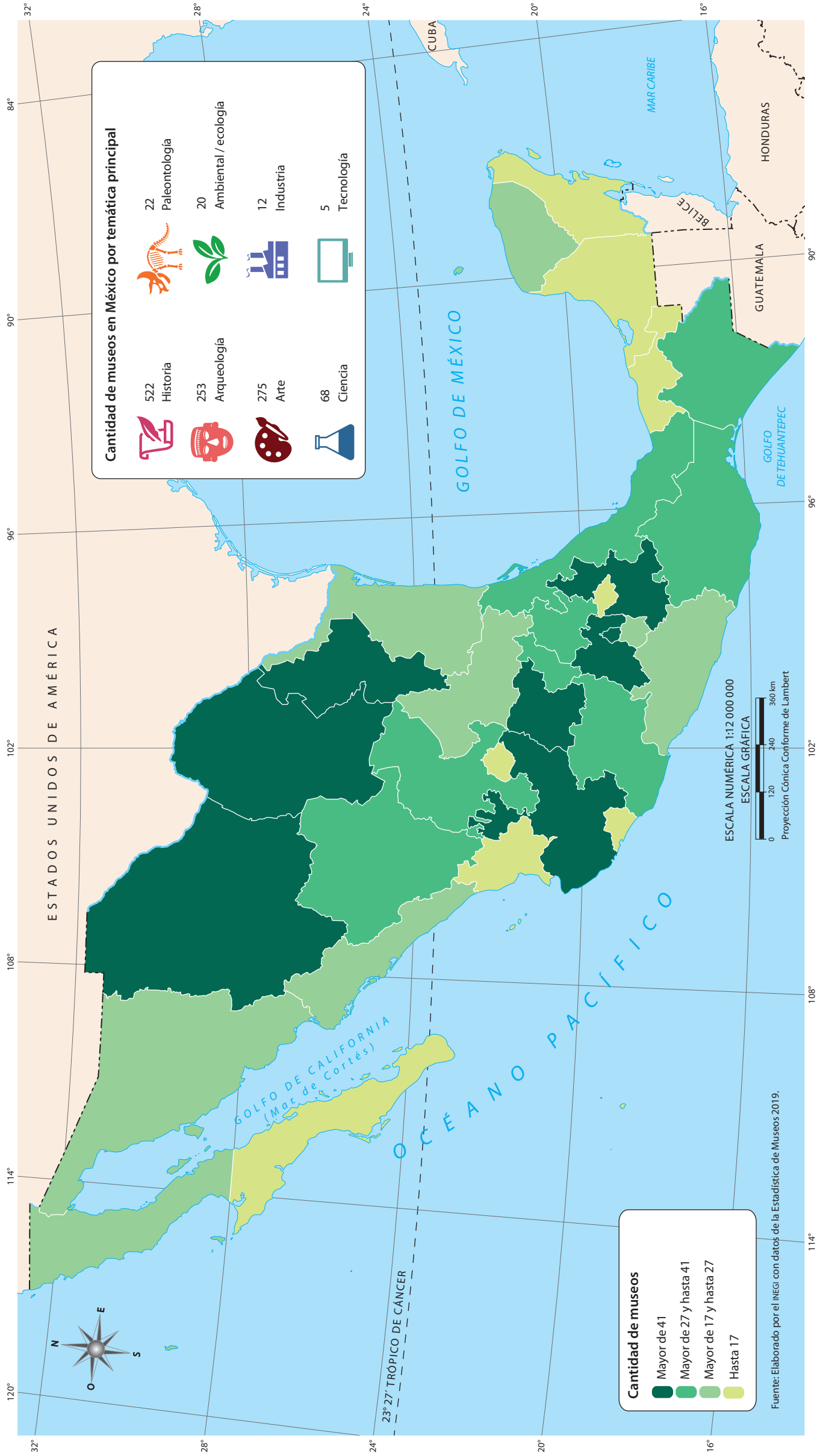
México es un país con una amplia riqueza de bienes considerados Patrimonio Mundial. Entre éstos se encuentran los naturales (santuarios y reservas ecológicas), culturales (edificios y monumentos), mixtos (edificios

con valor cultural en reservas ecológicas) e inmateriales (música, cocina tradicional, festividades, costumbres).
Observa el mapa e identifica en qué parte del territorio nacional se concentra el mayor número de bienes del patrimonio que México aporta al mundo. ¿En qué entidades hay un mayor número de bienes naturales?



Elige un bien del patrimonio de México e investiga los aspectos relacionados con él, por ejemplo, ubicación, principales características, función que tiene o tuvo en el pasado y otros que tú decidas según tu elección. Elabora un díptico con la información recabada. ¿Por qué crees que ese bien fue declarado Patrimonio Mundial?

Museos



Q Un museo es un espacio o recinto abierto al público donde se exhiben colecciones artísticas, históricas, paleontológicas, arqueológicas, científicas, tecnológicas, ambientales e industriales, entre otras. Los museos son muy importantes para la sociedad, pues permiten conocer aspectos de nuestra historia y de muchos otros temas.

En México, existe una gran cantidad de museos que exponen colecciones de temas variados. En nuestro país, hay ocho entidades federativas que cuentan con más de 41 museos cada una; la mayoría de éstas se localiza en el centro del país. En contraste, hay ocho estados que tienen 17 museos o menos.

Observa el mapa. ¿Qué estados de la República tienen más museos?, ¿cuáles tienen menos? Según el mapa, ¿la entidad donde vives cuenta con muchos o pocos recintos? ¿A qué crees que se deba esto?



Investiga con un adulto de tu familia el nombre y la temática de tres museos de tu entidad. Después, elabora un cartel para animar a las personas a visitarlos.

Gastronomía




En las infografías de Artesanías y Gastronomía se incluye sólo un platillo o tipo de artesanía por entidad federativa, lo cual no significa que sean las únicas expresiones culturales. La intención del Atlas es exponer una muestra representativa de la diversidad cultural con que cuenta México.

- Tamal de bolaChiapas
- Mole de convento.....Guanajuato
- Mole rosaGuerrero
- Pollo al cuñete.....Querétaro
- Mole oaxaqueño.....Oaxaca
- Mole poblano.....Puebla
- Pollo a la TocatlánTlaxcala

La gastronomía es el conjunto de conocimientos y actividades relacionados con los ingredientes, las recetas y las técnicas de la cocina. En su desarrollo influyen las características geográficas de las regiones, el clima, la producción de alimentos y las tradiciones culturales de las comunidades.

La gran variedad de ingredientes prehispánicos son producto de la fusión de la biodiversidad de Mesoamérica con la diversidad cultural de los pueblos que la habitaron. La base de la cocina mexicana son tres ingredientes: el maíz, el frijol y el chile. Tan sólo con el maíz, en México se han documentado más de 600 platillos distintos.



- BirriaAguascalientes
- Borrego tatemadoBaja California
- Dzic de venadoChiapas
- CabritoCoahuila
- SopitosColima
- Caldillo duranguenseDurango
- MixiotesHidalgo
- Borrego al pastorJalisco
- Cecina de YecapixtlaMorelos
- Fritada de cabritoNuevo León
- TasajoOaxaca
- CabritoSan Luis Potosí
- MachacaSonora
- Empanada de cabeza de cabritoTamaulipas
- Lengua en salsa de almendrasZacatecas
- BarbacoaHidalgo

- LechónAguascalientes
- Frijol con puercoCampeche
- ButifarrasChiapas
- Tacos al pastorCiudad de México
- Asado de puercoCoahuila
- PozoleJalisco
- CarnitasMichoacán
- Gorditas de migajasQuerétaro
- GuaxmoleMorelos
- PanuchosQuintana Roo
- MoneTabasco
- Cochinita pibilYucatán
- Asado de puercoNuevo León
- Asado de bodasZacatecas
- Tamales de cabeza de puercoChihuahua
- Mole de ollaSan Luis Potosí

- PejelagartoTabasco
- Langosta estilo Puerto NuevoBaja California
- Cangrejo arañaBaja California
- Almeja ahumadaBaja California
- Escabeche de mariscosBaja California Sur
- Tamales fajadosBaja California Sur
- Salpicón de pulpoColima
- Chicharrón de pescadoNayarit
- Pescado zarandeadoNayarit
- TlaxtihuilíNayarit
- Tamales de camarónNayarit
- Sopes de ostiónNayarit
- Caldo de piedraOaxaca
- AguachileSinaloa
- Ceviche de camarón y sierraSinaloa
- Tacos gobernadorSinaloa
- Jaibas rellenasTamaulipas
- Pescado a la veracruzanaVeracruz
- Arroz a la tumbadaVeracruz
- Pescado Tikin-XicYucatán
- Itzacol de langostaYucatán

- Mixiote de escamolesEstado de México
- Tamal de caracolEstado de México
- EscamolesGuanajuato
- JumilesGuerrero
- ChapulinesOaxaca
- ChinicuilHidalgo, Tlaxcala



Fuente: Elaborado por la Secretaría de Educación Pública (SEP) con datos del Sistema de Información Cultural (SIC), 2018. Disponible en https://sic.cultura.gob.mx/lista.php?table=gastronomia&disciplina=&estado_id= (Consultado en mayo de 2019).

Elaborado por la Secretaría de Educación Pública (SEP) con datos de México. Rutas gastronómicas, 2010. Disponible en http://rutasgastronomicas.sectur.gob.mx/descargas/guia_rapida.pdf (Consultado en mayo de 2019).

Artesanías



Alfarería

Barro negro

Cántaros, jarras, apaxtles, ollas y reinterpretaciones de éstas caladas; campanas y candelabros; juguetes como silbatos y alcancías; figuras decorativas religiosas, esculturas con motivos costumbristas, recreaciones prehispánicas, joyería.

San Bartolo Coyotepec, Oaxaca

Talavera de Puebla

Vajillas, tibores, lebrillos, macetas, cajas, fruteros, candelabros y azulejos.

Puebla, Puebla

Barro vidriado de Concordia

Salseros, braceros en forma de pez y cochinito, ceniceros, molcajetes con mano.

Concordia, Sinaloa

Talavera de Tlaxcala

Vajillas, tibores, lebrillos, macetas, cajas, fruteros.

San Pablo del Monte, Tlaxcala



Textiles

Lana tejida

Indumentaria para hombres y mujeres del diario y ceremonial: chamarro, enredo, huipil, faja, cubrecabeza, chal. Objetos para el turismo: morrales, muñecos vestidos, chuj abierto.

Chamula, Chiapas

Sarapes de Guadalupe

Sarapes y jorongos para trajes de charro, así como tapices y gobelinos.

Guadalupe, Zacatecas

Rebozos de Santa María del Río

Rebozos tamaño ratón, mediano y grande.

Santa María del Río, San Luis Potosí

Lana tejida de Hueyapan

Tejido de lana para la confección de vestimenta de uso cotidiano como chincuetes o enredos, rebozos, gabanes y fajas.

Tetela del Volcán, Morelos



Madera

Máscaras de madera de tzompante

Máscaras zoomorfas (coyote, jaguar, tecolote, chivo, burro, gallo, gato), y antropomorfas (bartolo, morenos y alegóricas como el tiempo y el diablo).

Comala, Colima

Máscaras de la danza del Pochó

Máscaras de acaste, cedro, ceiba, chaca, chichicaste, chute o palo mulato, pintura de aceite.

Tenosique, Tabasco

Talla en madera

Esculturas de maderas duras tropicales y tallados a bajo relieve en maderas preciosas.

Felipe Carrillo Puerto, Quintana Roo

Madera tallada

Talla en madera de objetos decorativos y utilitarios, enseres domésticos, muebles rústicos y herramientas.

Hopelchén, Campeche

Instrumentos musicales

Laudería y fabricación de instrumentos musicales de cuerda.

Xalapa-Enríquez, Veracruz*



Metalistería

Arracadas y collares

Arracadas y collares elaborados en plata y alambre de plata mediante las técnicas del recortado y la filigrana.

San Felipe del Progreso, Estado de México

Cobre martillado

Cazos, jarras, floreros, centros de mesa, candelabros, joyería y miniaturas.

Salvador Escalante, Michoacán

Herrería artística

Balconería, rejas, faroles y herrería artística elaborados en hierro.

Jesús María, Aguascalientes

Cuchillos de materiales reciclados

Cuchillos, espuelas, machetes, dagas y cintos de uso doméstico para el rancho y pescador sudcaliforniano.

La Paz, Baja California Sur



Joyería

Joyería de filigrana de Mérida

Aretes, collares, anillos, pulseras, rosarios, gargantillas, cadenas y cruces.

Mérida, Yucatán

Joyería y orfebrería de Taxco

Joyería como aretes, collares, brazaletes, anillos en juegos o por separado. En la orfebrería juegos de té y café, jarras con asas de madera o aves, cajitas con tapas decoradas, cuchillería. Objetos escultóricos como figuras religiosas, humanas y de animales.

Taxco de Alarcón, Guerrero

Joyería de chaquiras

Gargantillas, collares pequeños y pectoral.

Mexicali, Baja California

Canastas de mimbre, ópalos y hierro forjado

Trabajos delicados hechos con vara de sauz y raíz de sabino, así como canastitas tejidas de palma y mimbre y joyería adornada con ópalos, vidrios y cuarzos, y trabajos de hierro forjado.

Tequisquiapan, Querétaro



Fibras vegetales

Ayates de ixtle

Ayates; esponjillas redondas o cuadradas; bolsas y bolsitas con asa.

Ixmiquilpan, Hidalgo

Morrales de ixtle

Redes tejidas elaboradas con fibra de ixtle de maguey, conocida como *pita*, anilinas y rafia de plástico.

Mezquital, Durango

Cestería seri

Elaboración de coritas extendidas tipo bandeja y canastas redondas con boca y de diversos tamaños.

Hermosillo, Sonora

Cestería de palmilla y sotol

Waritos (cestos pequeños) y *wares* (cestos) de hoja de pino u hoja de pino con sotol, con o sin tapa, en forma triangular, cuadrada, cilíndrica, como nidos de cestos, con boca lisa o en estrella.

Guachochi, Chihuahua



Cartonería y papel

Piñatas

Piñatas de cartón, papel periódico, engrudo, blanco de España, olla de barro (opcional) y papel de china para diversas fiestas y celebraciones.

Cuahtémoc, Ciudad de México

Judas y calaveras

Tradicionales judas y calaveras. Elaboración de juguetes populares como muñecas, jinetes, cascos, espadas, cabezas para caballitos, sonajas y máscaras de animales, diablos y muertes.

Celaya, Guanajuato

Máscaras ceremoniales de La Judea

Máscaras para la celebración de La Judea, en Semana Santa, fabricadas de cartón, engrudo, tintes vegetales y anilinas con aditamentos diversos.

Del Nayar, Nayarit



Talabartería

Piel de venado bordada

Tehuas (mocasines) para los pies, binchas (cintas y cintos que se colocan en la frente y alrededor de la cabeza), mitazos (chaparreras), chalecos y camisas, monederos y bolsos.

Múzquiz, Coahuila

Piel piteada

Sillas de montar, chaparreras, sombreros, cinturones, fundas para machete, cuchillos, navajas y pistolas; accesorios para caballero y dama, chalecos, chamarras, bolsas, botas, zapatillas, entre otros.

Colotlán, Jalisco

Cuera

Cuera para hombre y para mujer, falda y marroquinería.

Tula, Tamaulipas

Talabartería

Sillas de montar, tanto ranchera, charra, tejana o americana; artículos para la charrería o el manejo del caballo como bridas, látigos, cuartas, fundas, petos.

Hualahuis, Nuevo León

Fuente: Elaborado por la Secretaría de Educación Pública (SEP) con datos del Sistema de Información Cultural (SIC), 2018. Disponible en https://sic.cultura.gob.mx/lista.php?table=artepmex&disciplina=&estado_id=0 (Consultado en mayo de 2019). | * No se incluye en el sic.



Entidades federativas

Actividades con los mapas estatales

En este capítulo de tu *Atlas* puedes consultar los mapas de las 32 entidades federativas de nuestro país, los cuales están ordenados alfabéticamente. Para saber más de la entidad donde vives busca el mapa de tu estado, explóralo, observa con atención cada detalle y realiza las actividades que se proponen. No es necesario que hagas todas en un mismo momento, las puedes hacer poco a poco y en el orden que quieras de acuerdo a lo que te interese.

Mi entidad

1. Escribe el nombre de la entidad donde vives:

2. Ahora anota cómo se llama la capital del estado:

3. Busca el número de municipios y escríbelo:

¿Cómo se llama el municipio donde vives?

4. La extensión territorial se refiere al número de km² de superficie que tiene la entidad,

¿cuál es la extensión territorial de tu estado?

La rosa de los vientos

1. La rosa de los vientos es un elemento del mapa.

Escribe para qué piensas que sirve:

La escala

Coloca una regla o una escuadra graduada sobre la escala gráfica que aparece en el mapa. Mide un centímetro a partir del cero, ahí aparecerá un número, éste indica la cantidad de kilómetros a los que equivale ese centímetro. Por ejemplo, si al medir un centímetro aparece 18 km, esto significa que un centímetro en el mapa equivale a 18 kilómetros en la realidad.

1. Usando la escala, calcula la distancia entre dos lugares de tu entidad:

De a hay kilómetros

De a hay kilómetros

Elementos naturales

Los elementos naturales contenidos en los mapas de las entidades son, por ejemplo, ríos, lagos, lagunas, cascadas, cenotes, cerros, volcanes, flora y fauna, entre otros. ¿Cuáles existen en tu estado?

1. Señala qué elementos naturales encuentras en los puntos cardinales de tu entidad:

En el norte:

En el sur:

En el este:

En el oeste:

2. Elige uno de los elementos naturales cercano a tu localidad e investiga sobre él.

Los habitantes de la entidad

1. Escribe la cantidad de habitantes:

2. ¿Quién predomina en la entidad, las mujeres o los hombres?

3. ¿Cuál es el grupo de edad más numeroso? Haz un plan de gobierno que atienda las necesidades más importantes de ese grupo de edad.

1.

2.

4. Ahora identifica las tres localidades más pobladas.

3.

Actividades económicas

1. Escribe en el cuadro 5 actividades económicas de tu entidad:

1.
2.
3.
4.
5.

¿Conoces personas que realicen alguna de estas actividades? Pide que te cuenten sus experiencias.

Turismo

El turismo es una actividad económica que propicia el desarrollo de infraestructura y genera empleos y recursos económicos.

1. Anota cinco puntos turísticos de tu entidad:

1.	2.	3.
4.	5.	

2. ¿Cuál sitio te gustaría conocer? ¿Por qué?

Elementos culturales

1. Escribe en la tabla el nombre de tres museos, sitios históricos y arqueológicos de tu entidad:

Museos	Sitios históricos	Sitios arqueológicos
1.	1.	1.
2.	2.	2.
3.	3.	3.

Selecciona un museo, un sitio histórico o arqueológico e investiga por qué es importante para tu entidad.

Nuestros vecinos

1. Anota el nombre de las entidades vecinas de tu estado (toma en cuenta que también puede colindar con algún país, océano o golfo).

2. Consulta la extensión territorial de los estados vecinos y anota cuál es el más grande y el más chico:

El más grande es: _____ Anota el nombre de la capital de este estado: _____

El más chico es: _____ Anota el nombre de la capital de este estado: _____

3. ¿Cuál estado vecino es el que tiene más población? _____ ¿Cuál tiene menos? _____

4. Compara el mapa de tu entidad con un estado vecino y escribe tres similitudes y diferencias en el cuadro.

Estado elegido para hacer la comparación: _____

Similitudes
1.
2.
3.

Diferencias
1.
2.
3.

Aguascalientes

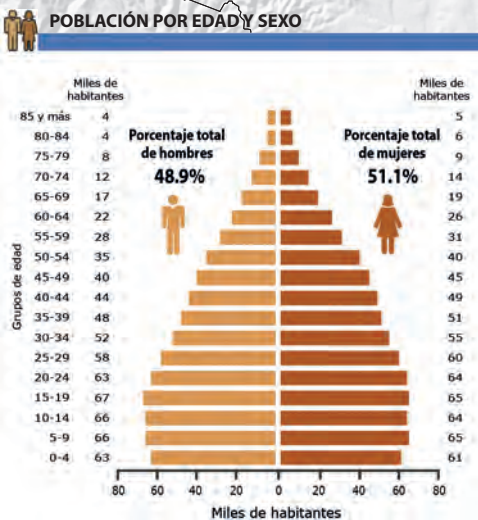
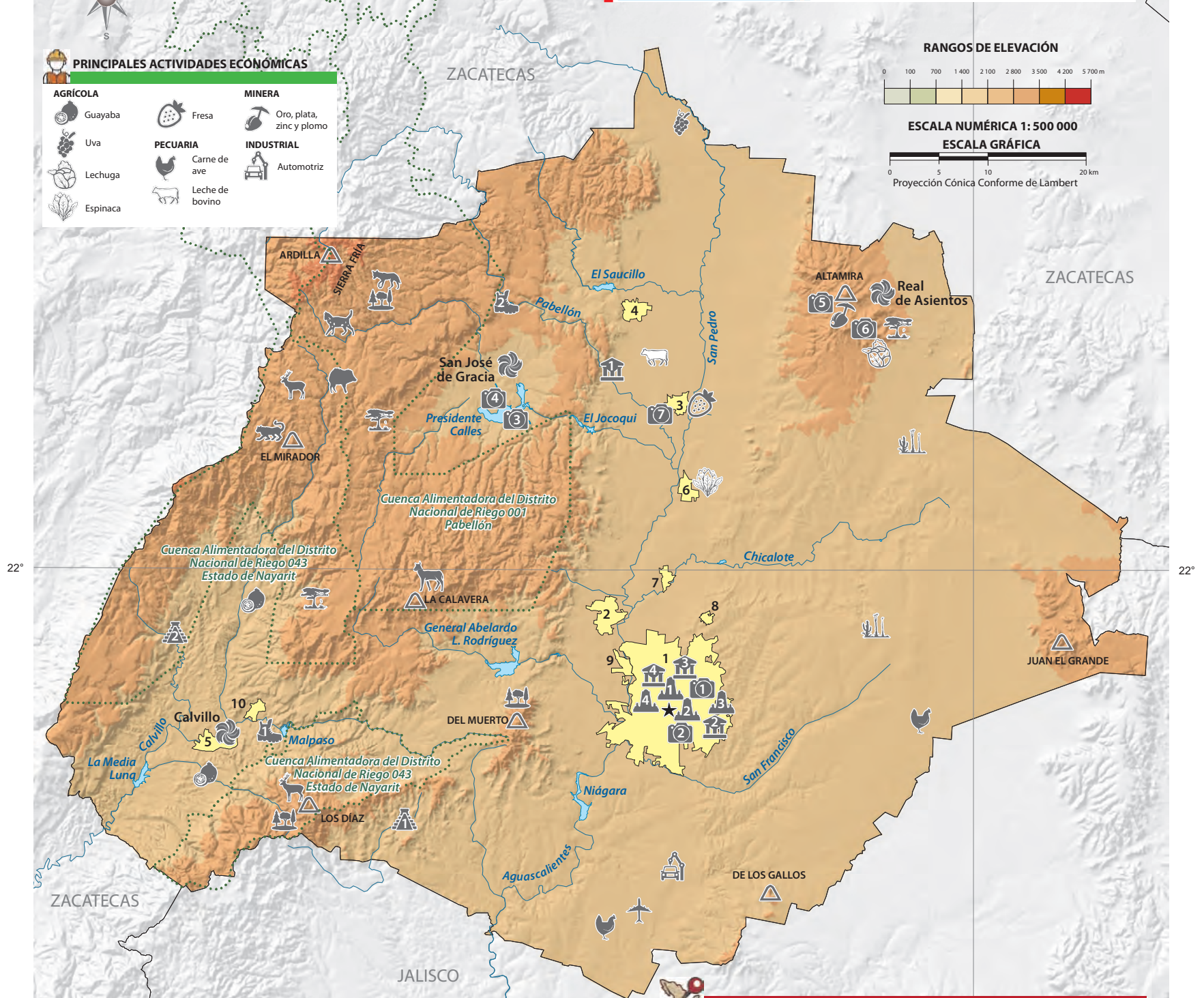
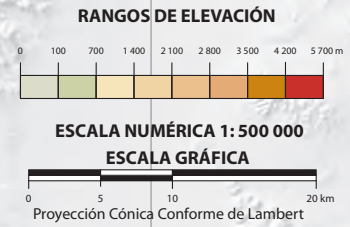


Capital: Aguascalientes
Extensión: 5 615.7 km², 0.3% del territorio nacional
Municipios: 11
Población: 1 425 607 habitantes, 1.1% del total del país



PRINCIPALES ACTIVIDADES ECONÓMICAS

AGRÍCOLA	MINERA
Guayaba	Oro, plata, zinc y plomo
Uva	
Lechuga	PECUARIA
Espinaca	Carne de ave
	Leche de bovino
	INDUSTRIAL
	Automotriz



- LOCALIDADES MÁS POBLADAS**
- 1 Aguascalientes
 - 2 Jesús María
 - 3 Pabellón de Arteaga
 - 4 Rincón de Romos
 - 5 Calvillo
 - 6 San Francisco de los Romo
 - 7 Jesús Gómez Portugal
 - 8 La Ribera
 - 9 Pocitos
 - 10 Ojocaliente

GENERAL	NATURALEZA	Coyote
★ CAPITAL DEL ESTADO	● ÁREA NATURAL PROTEGIDA	Pecari de collar
— LÍMITE ESTATAL	HIDROGRAFÍA	Ciervo rojo
📍 LOCALIDADES MÁS POBLADAS	— Río perenne	
INFRAESTRUCTURA	🌊 Presa	
✈️ AEROPUERTO INTERNACIONAL Jesús Terán	▲ PRINCIPAL ELEVACIÓN Cerro	TURISMO
CULTURA	ECOSISTEMA	PUNTO TURÍSTICO
🏛️ MUSEO	🌳 Bosque templado	1. Exedra
1. De la Insurgencia de Pabellón de Hidalgo	🌾 Matorral	2. Jardín de San Marcos
2. De Aguascalientes	🌿 Pastizal	3. Santuario del Cristo Roto
3. José Guadalupe Posada	FAUNA	4. Presa Presidente Calles
4. Escárcega	Puma	5. Mina Real de Asientos
SITIO ARQUEOLÓGICO	Venado	6. Ex-Convento del Señor del Tepezán
1. Pinturas rupestres el Ocoté	Gato montés	7. Ex-Hacienda de San Luis de Letras
2. Pinturas rupestres el Tepezán		PUEBLO MÁGICO
SITIO HISTÓRICO		PUEBLO MÁGICO
1. Teatro Morelos		TURISMO DEPORTIVO
2. Palacio de Gobierno		1. Cañón y presa de Malpaso, ecoturismo y turismo de aventura
3. Antigua Estación de Ferrocarril		2. Túnel de Potrerillo, ecoturismo
4. Templo de San Marcos		

Baja California

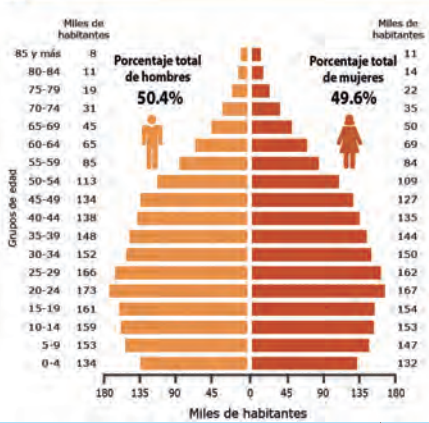
Capital: Mexicali
Extensión: 71 450.0 km², 3.6% del territorio nacional
Municipios: 6
Población: 3 769 020 habitantes, 3.0% del total del país



LOCALIDADES MÁS POBLADAS

- 1 Tijuana
- 2 Mexicali
- 3 Ensenada
- 4 Playas de Rosarito
- 5 Tecate
- 6 Villa del Campo
- 7 Rodolfo Sánchez Taboada
- 8 Ciudad Guadalupe Victoria
- 9 Lázaro Cárdenas
- 10 San Felipe

POBLACIÓN POR EDAD Y SEXO




ESCALA NUMÉRICA 1:1 900 000

ESCALA GRÁFICA



RANGOS DE ELEVACIÓN

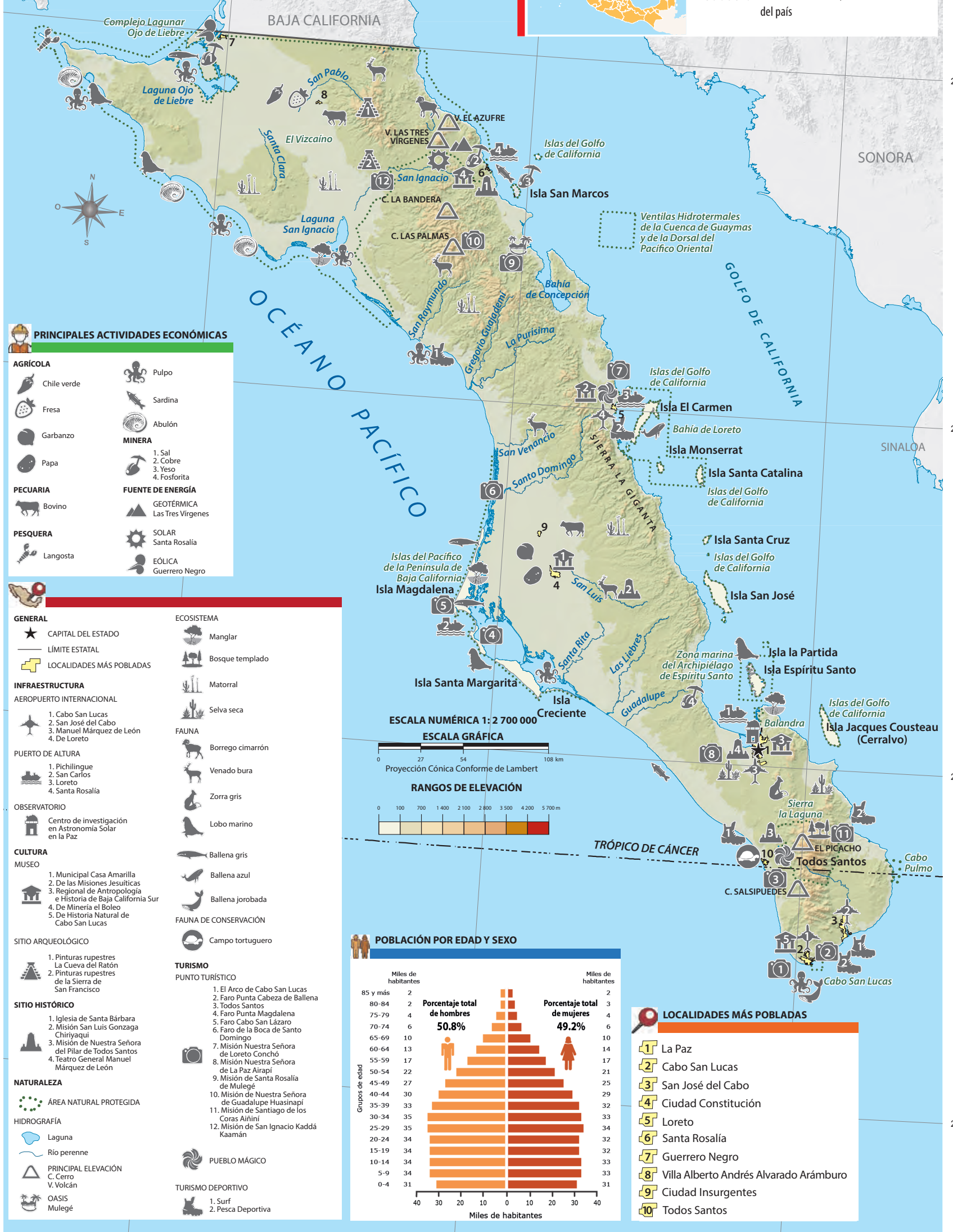


PRINCIPALES ACTIVIDADES ECONÓMICAS

- | | | |
|-----------------|-----------------|---|
| AGRÍCOLA | PESQUERA | MINERA |
| Algodón | Abulón | Oro |
| Trigo | Langosta | INDUSTRIAL |
| Fresa | Macarela | Automotriz |
| Uva | Tiburón | 1. Electrodomésticos |
| Espinaca | Sardina | 2. Aeroespacial |
| Cebolla | Ostión | 3. Cervecería |
| Tomate | Pulpo | 4. Vinícola |
| Alfalfa | Atún | 5. Equipo de computación y comunicación |
| PECUARIA | | 6. Componentes electrónicos |
| Carne de bovino | | FUENTES DE ENERGÍA |
| | | GEOTÉRMICA |
| | | Cerro Prieto |
| | | SOLAR |
| | | Cerro Prieto |

Baja California Sur

Capital: La Paz
Extensión: 73 909.4 km², 3.8% del territorio nacional
Municipios: 5
Población: 798 447 habitantes, 0.6% del total del país



PRINCIPALES ACTIVIDADES ECONÓMICAS

AGRÍCOLA	
	Chile verde
	Fresa
	Garbanzo
	Papa
PECUARIA	
	Bovino
PESQUERA	
	Langosta
	Pulpo
	Sardina
	Abulón
MINERA	
1. Sal	2. Cobre
3. Yeso	4. Fosforita
FUENTE DE ENERGÍA	
	GEOTÉRMICA Las Tres Vírgenes
	SOLAR Santa Rosalía
	EÓLICA Guerrero Negro

GENERAL

- CAPITAL DEL ESTADO
- LÍMITE ESTATAL
- LOCALIDADES MÁS POBLADAS

INFRAESTRUCTURA

AEROPUERTO INTERNACIONAL

- Cabo San Lucas
- San José del Cabo
- Manuel Márquez de León
- De Loreto

PUERTO DE ALTURA

- Pichilingue
- San Carlos
- Loreto
- Santa Rosalía

OBSERVATORIO

- Centro de investigación en Astronomía Solar en la Paz

CULTURA

MUSEO

- Municipal Casa Amarilla
- De las Misiones Jesuíticas
- Regional de Antropología e Historia de Baja California Sur
- De Minería el Boleo
- De Historia Natural de Cabo San Lucas

SITIO ARQUEOLÓGICO

- Pinturas rupestres La Cueva del Ratón
- Pinturas rupestres de la Sierra de San Francisco

SITIO HISTÓRICO

- Iglesia de Santa Bárbara
- Misión San Luis Gonzaga Chiriyahuí
- Misión de Nuestra Señora del Pilar de Todos Santos
- Teatro General Manuel Márquez de León

NATURALEZA

- ÁREA NATURAL PROTEGIDA

HIDROGRAFÍA

- Laguna
- Río perenne

PRINCIPAL ELEVACIÓN

- C. Cerro
- V. Volcán

OASIS

- Mulegé

ECOSISTEMA

- Manglar
- Bosque templado
- Matorral
- Selva seca

FAUNA

- Borrego cimarrón
- Venado bura
- Zorra gris
- Lobo marino
- Ballena gris
- Ballena azul
- Ballena jorobada

FAUNA DE CONSERVACIÓN

- Campo tortuguero

TURISMO

PUNTO TURÍSTICO

- El Arco de Cabo San Lucas
- Faro Punta Cabeza de Ballena
- Todos Santos
- Faro Punta Magdalena
- Faro Cabo San Lázaro
- Faro de la Boca de Santo Domingo
- Misión Nuestra Señora de Loreto Conchó
- Misión Nuestra Señora de La Paz Airapi
- Misión de Santa Rosalía de Mulegé
- Misión de Nuestra Señora de Guadalupe Huasinapí
- Misión de Santiago de los Coras Añihini
- Misión de San Ignacio Kaddá Kaamán

PUEBLO MÁGICO

TURISMO DEPORTIVO

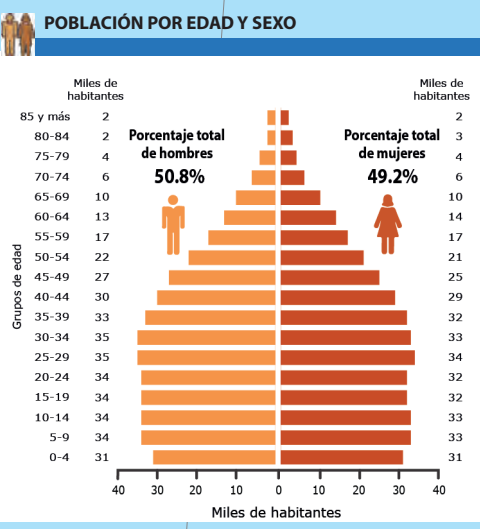

- Surf
- Pesca Deportiva

ESCALA NUMÉRICA 1: 2 700 000
 ESCALA GRÁFICA



Proyección Cónica Conforme de Lambert

RANGOS DE ELEVACIÓN



- ### LOCALIDADES MÁS POBLADAS
- La Paz
 - Cabo San Lucas
 - San José del Cabo
 - Ciudad Constitución
 - Loreto
 - Santa Rosalía
 - Guerrero Negro
 - Villa Alberto Andrés Alvarado Arámburo
 - Ciudad Insurgentes
 - Todos Santos

Campeche

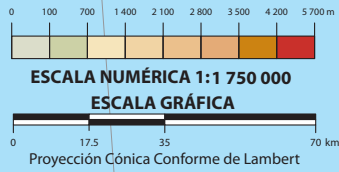


Capital: San Francisco de Campeche
Extensión: 57 484.9 km², 2.9% del territorio nacional
Municipios: 12
Población: 928 363 habitantes, 0.7% del total del país

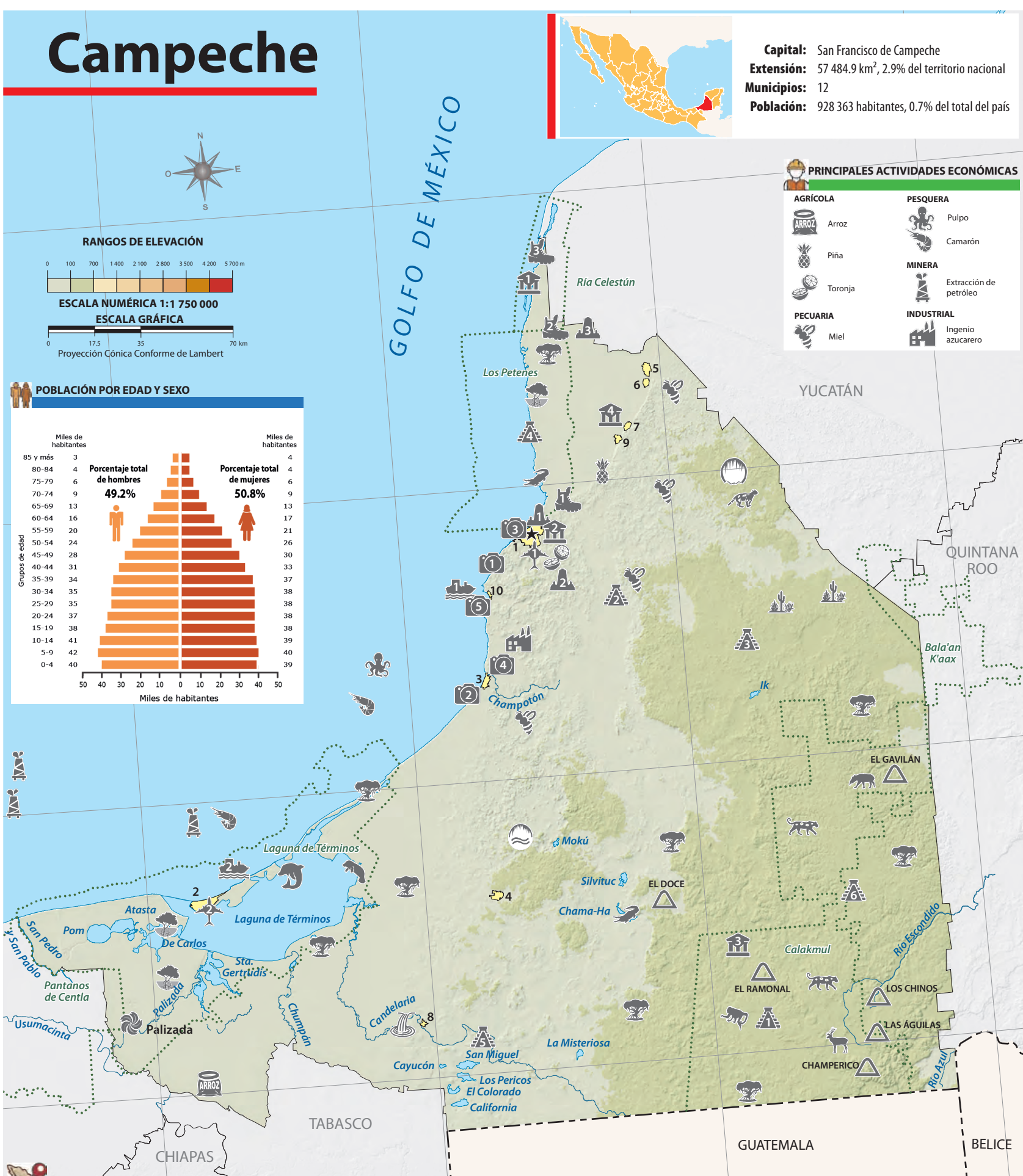
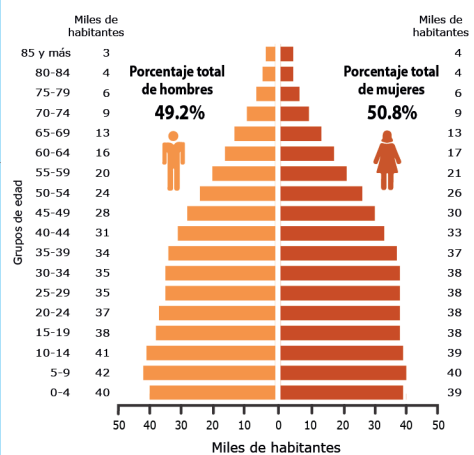
PRINCIPALES ACTIVIDADES ECONÓMICAS

AGRÍCOLA	PESQUERA
Arroz	Pulpo
Piña	Camarón
Toronja	MINERA
	Extracción de petróleo
PECUARIA	INDUSTRIAL
Miel	Ingenio azucarero

RANGOS DE ELEVACIÓN



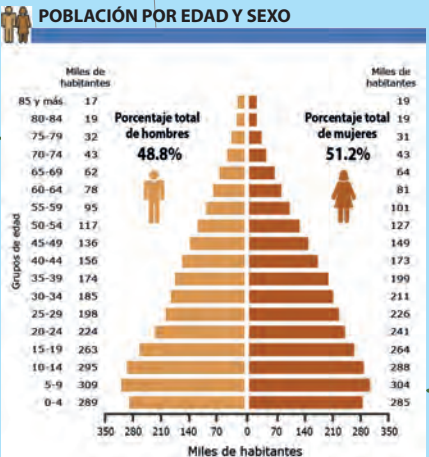
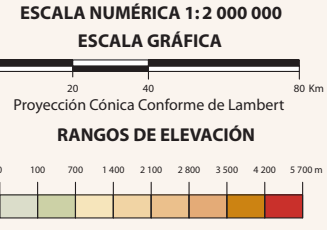
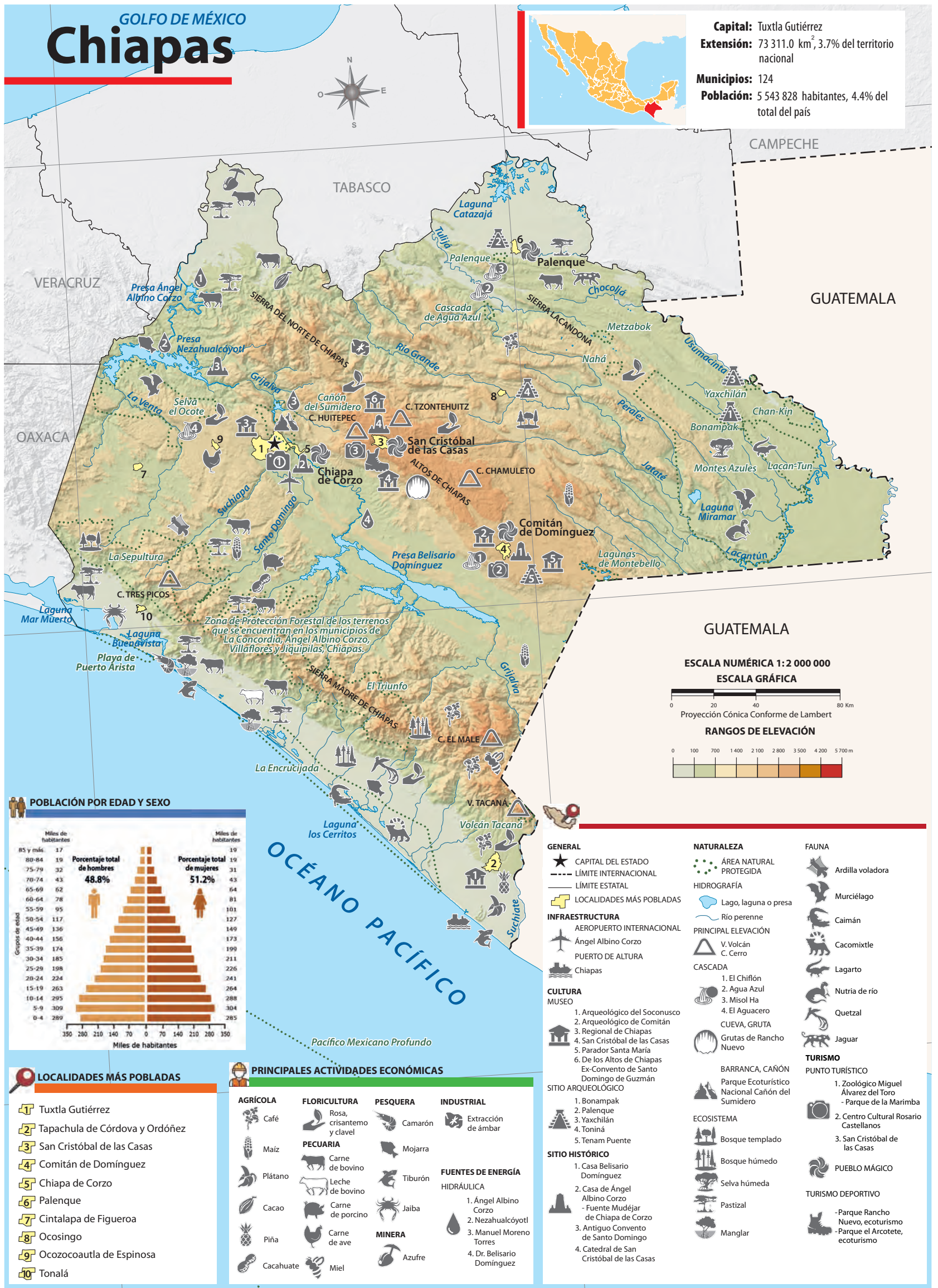
POBLACIÓN POR EDAD Y SEXO



GENERAL ★ CAPITAL DEL ESTADO --- LÍMITE INTERNACIONAL - - - LÍMITE ESTATAL + LOCALIDADES MÁS POBLADAS INFRAESTRUCTURA AEROPUERTO INTERNACIONAL 1. Ingeniero Alberto Acuña Ongay 2. De Ciudad del Carmen PUERTO DE ALTURA 1. Seybaplaya 2. Isla del Carmen CULTURA MUSEO 1. Pedro Infante 2. Arqueológico de Campeche 3. De la Naturaleza y Arqueología de Calakmul 4. Arqueológico del Camino Real de Hecelchakán	SITIO ARQUEOLÓGICO 1. Calakmul 2. Edzná 3. Hochob 4. Isla Jaina 5. El Tigre 6. Becán SITIO HISTÓRICO 1. Ciudad Histórica Fortificada de Campeche y Fuerte de San Miguel 2. Hacienda Uayamón 3. Ex-Hacienda Tankuché NATURALEZA ÁREA NATURAL PROTEGIDA HIDROGRAFÍA Lago o laguna Río perenne	PRINCIPAL ELEVACIÓN Cerro CASCADA Salto Grande CENOTE Miguel Colorado CUEVA, GRUTA Grutas de Itzacumbil-Xunán ECOSISTEMA Selva seca Selva húmeda Manglar	FAUNA Tapir Jaguar Cocodrilo de pantano Delfín nariz de botella Tigrillo Mono aullador Venado cola blanca Manatí	TURISMO PUNTO TURÍSTICO 1. Playa Bonita 2. Champotón 3. Malecón de San Francisco de Campeche 4. Playa Boca del Río 5. Balneario popular Payucán PUEBLO MÁGICO TURISMO DEPORTIVO 1. Ich Ha Lool Xaan, ecoturismo 2. El Remate, ecoturismo 3. El Santuario del Sábalo, pesca deportiva	LOCALIDADES MÁS POBLADAS 1 San Francisco de Campeche 2 Ciudad del Carmen 3 Champotón 4 Escárcega 5 Calkiní 6 Dzitbalché 7 Hecelchakán 8 Candelaria 9 Pomuch 10 Seybaplaya
---	--	--	---	--	--

GOLFO DE MÉXICO Chiapas

Capital: Tuxtla Gutiérrez
Extensión: 73 311.0 km², 3.7% del territorio nacional
Municipios: 124
Población: 5 543 828 habitantes, 4.4% del total del país



- LOCALIDADES MÁS POBLADAS**
- Tuxtla Gutiérrez
 - Tapachula de Córdova y Ordóñez
 - San Cristóbal de las Casas
 - Comitán de Domínguez
 - Chiapa de Corzo
 - Palenque
 - Cintalapa de Figueroa
 - Ocosingo
 - Ocozacoautla de Espinosa
 - Tonalá

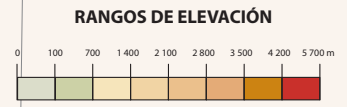
- PRINCIPALES ACTIVIDADES ECONÓMICAS**
- | AGRÍCOLA | FLORICULTURA | PESQUERA | INDUSTRIAL |
|-----------|---------------------------|----------|---------------------|
| Café | Rosa, crisantemo y clavel | Camarón | Extracción de ámbar |
| Maíz | | Mojarra | |
| Plátano | Carne de bovino | Tiburón | |
| Cacao | Leche de bovino | Jaiba | |
| Piña | Carne de porcino | | |
| Cacahuete | Carne de ave | | |
| | Miel | | |
- FUENTES DE ENERGÍA HIDRÁULICA**
- Ángel Albino Corzo
 - Nezahualcóyotl
 - Manuel Moreno Torres
 - Dr. Belisario Domínguez

- GENERAL**
- CAPITAL DEL ESTADO
 - LÍMITE INTERNACIONAL
 - LÍMITE ESTATAL
 - LOCALIDADES MÁS POBLADAS
- INFRAESTRUCTURA**
- AEROPUERTO INTERNACIONAL
 - PUERTO DE ALTURA
 - Chiapas
- CULTURA MUSEO**
- Arqueológico del Soconusco
 - Arqueológico de Comitán
 - Regional de Chiapas
 - San Cristóbal de las Casas
 - Parador Santa María
 - Ex-Convento de Santo Domingo de Guzmán
- SITIO ARQUEOLÓGICO**
- Bonampak
 - Palenque
 - Yaxchilán
 - Toniná
 - Tenam Puento
- SITIO HISTÓRICO**
- Casa Belisario Domínguez
 - Casa de Ángel Albino Corzo - Fuente Mudéjar de Chiapa de Corzo
 - Antiguo Convento de Santo Domingo
 - Catedral de San Cristóbal de las Casas
- NATURALEZA**
- ÁREA NATURAL PROTEGIDA
 - HIDROGRAFÍA
 - Lago, laguna o presa
 - Río perenne
 - PRINCIPAL ELEVACIÓN
 - V. Volcán
 - C. Cerro
 - CASCADA
 - 1. El Chiflón
 - 2. Agua Azul
 - 3. Misol Ha
 - 4. El Aguacero
 - CUEVA, GRUTA
 - Grutas de Rancho Nuevo
 - BARRANCA, CAÑÓN
 - Parque Ecoturístico Nacional Cañón del Sumidero
 - ECOSISTEMA
 - Bosque templado
 - Bosque húmedo
 - Selva húmeda
 - Pastizal
 - Manglar
- FAUNA**
- Ardilla voladora
 - Murciélago
 - Caimán
 - Cacomixtle
 - Lagarto
 - Nutria de río
 - Quetzal
 - Jaguar
- TURISMO**
- PUNTO TURÍSTICO**
- Zoológico Miguel Álvarez del Toro - Parque de la Marimba
 - Centro Cultural Rosario Castellanos
 - San Cristóbal de las Casas
- PUEBLO MÁGICO**
- TURISMO DEPORTIVO**
- Parque Rancho Nuevo, ecoturismo
 - Parque el Arcotete, ecoturismo

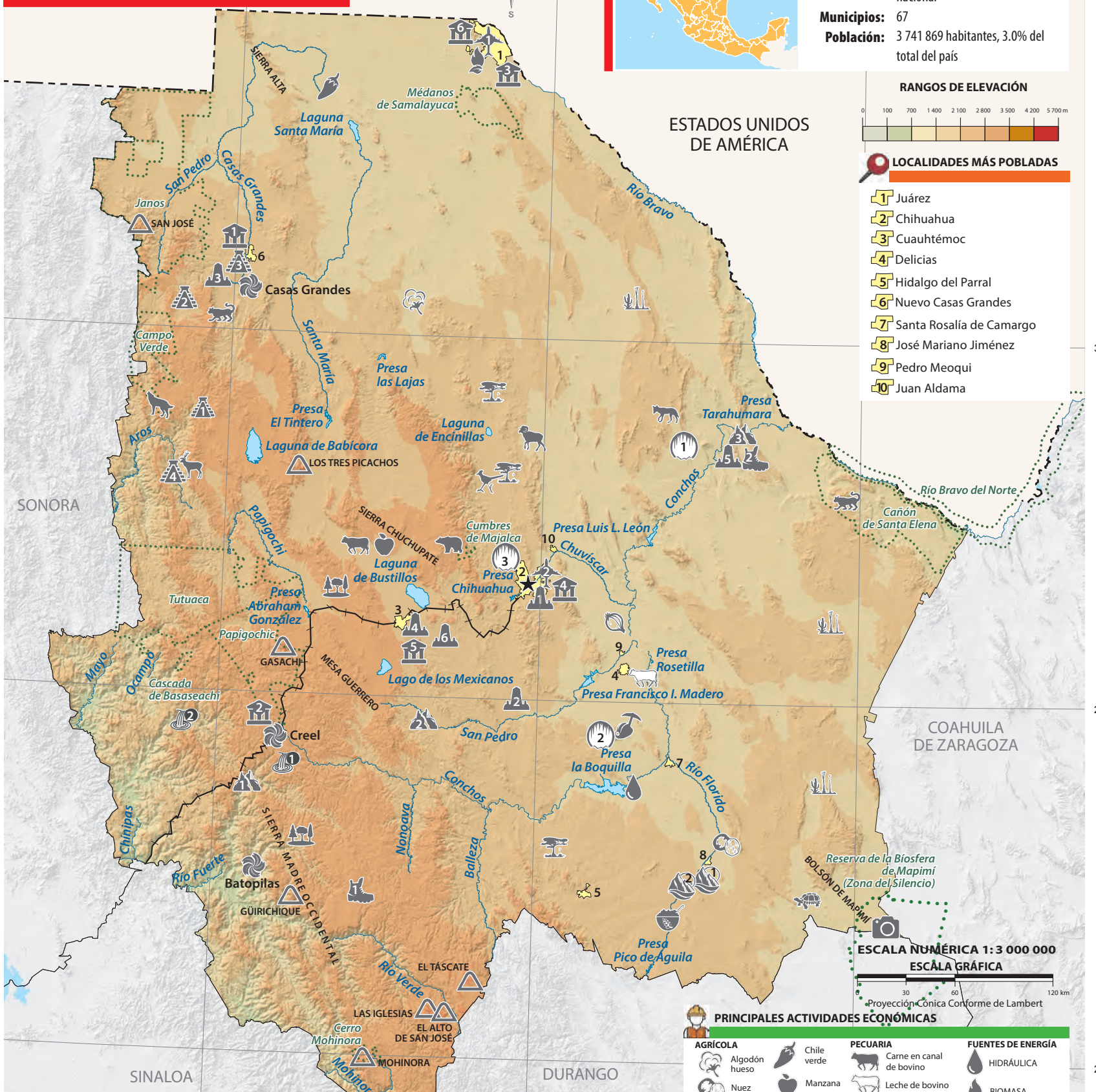
Chihuahua



Capital: Chihuahua
Extensión: 247 412.6 km², 12.6% del territorio nacional
Municipios: 67
Población: 3 741 869 habitantes, 3.0% del total del país

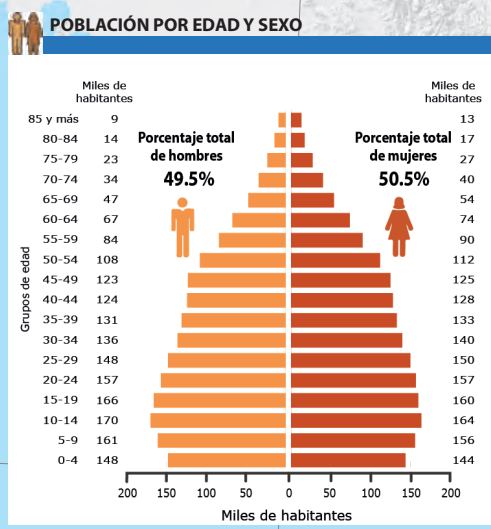


- LOCALIDADES MÁS POBLADAS**
- Juárez
 - Chihuahua
 - Cuauhtémoc
 - Delicias
 - Hidalgo del Parral
 - Nuevo Casas Grandes
 - Santa Rosalía de Camargo
 - José Mariano Jiménez
 - Pedro Meoqui
 - Juan Aldama



PRINCIPALES ACTIVIDADES ECONÓMICAS

AGRICOLA	Algodón, Nuez, Avena	Chile verde, Manzana, Cebolla	PECUARIA	Carne en canal de bovino, Leche de bovino	FUENTES DE ENERGÍA	HIDRÁULICA, BIOMASA
			MINERA	Zinc y plomo		



- GENERAL**
- CAPITAL DEL ESTADO
 - LÍMITE INTERNACIONAL
 - LÍMITE ESTATAL
 - LOCALIDADES MÁS POBLADAS
- INFRAESTRUCTURA**
- AEROPUERTO INTERNACIONAL
 - Abraham González
 - General Roberto Fierro Villalobos
- CULTURA**
- MUSEO
 - De las Culturas del Norte
 - Casa de las Artesanías del Estado de Chihuahua
 - De Arte de Ciudad Juárez
 - Histórico de la Revolución
 - Histórico de Cusiuhiriachi
 - Histórico de Ciudad Juárez
 - Ex-Aduana Fronteriza
- SITIO ARQUEOLÓGICO**
- Las Cuarenta Casas
 - Cueva de la Olla
 - Paquimé
 - Cueva Grande
- SITIO HISTÓRICO**
- Palacio de Gobierno
 - Misión del Santo Ángel Custodio de Satevó
 - Centro histórico de Casas Grandes
 - Ex-Hacienda de Bustillos
 - Cuchillo Parado
 - Plaza de toros
- NATURALEZA**
- ÁREA NATURAL PROTEGIDA
 - HIDROGRAFÍA
 - Río perenne
 - Lago, laguna o presa
 - PRINCIPAL ELEVACIÓN
 - Cerro
- CUEVA, GRUTA**
- De Coyame
 - De las Espadas, Mina de Naica
 - De Nombre de Dios
- CASCADA**
- Cusáre
 - De Basaseachi
- MANANTIAL**
- Ojo de Dolores
 - Ojo de Atotonilco
- BARRANCA, CAÑÓN**
- Del Cobre
 - De Namurachi
 - Del Pegüis
- ECOSISTEMA**
- Matorral
 - Bosque templado
 - Pastizal
- FAUNA**
- Coyote
 - Tortuga del desierto
 - Venado cola blanca
 - Oso negro
 - Puma
 - Correcaminos
 - Borrego cimarrón
 - Lobo mexicano
- TURISMO**
- PUNTO TURÍSTICO
 - Zona del Silencio
 - Ruta del tren Chihuahua - Pacífico
 - PUEBLO MÁGICO
 - TURISMO DEPORTIVO
 - Ultra Maratón de los Cañones, turismo de aventura
 - Cañón del Pegüis, turismo de aventura

Ciudad de México

99°



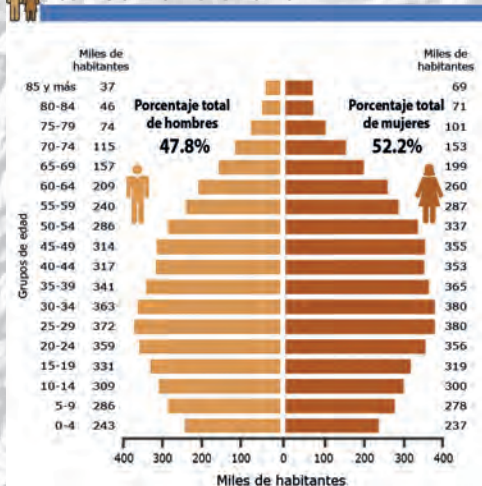
Capital de los Estados Unidos Mexicanos

Extensión: 1 494.3 km², 0.1% del territorio nacional

Demarcaciones territoriales: 16

Población: 9 209 944 habitantes, 7.3% del total del país

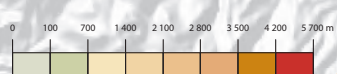
POBLACIÓN POR EDAD Y SEXO



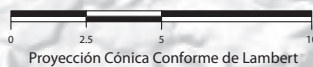
DEMARCAIONES MÁS POBLADAS

- 1 Iztapalapa
- 2 Gustavo A. Madero
- 3 Álvaro Obregón
- 4 Tlalpan
- 5 Coyoacán
- 6 Cuauhtémoc
- 7 Venustiano Carranza
- 8 Xochimilco
- 9 Benito Juárez
- 10 Azcapotzalco

RANGOS DE ELEVACIÓN



ESCALA NUMÉRICA 1: 250 000
ESCALA GRÁFICA



Proyección Cónica Conforme de Lambert

PRINCIPALES ACTIVIDADES ECONÓMICAS

- | | |
|-----------------|-----------------------------|
| AGRÍCOLA | FLORICULTURA |
| Romeritos | 1. Nochebuena
2. Rosa |
| Nopal | PECUARIA |
| Amaranto | Carne de ovino |
| Espinaca | COMERCIO Y SERVICIOS |
| | Comercio |

GENERAL

- LÍMITE ESTATAL
- DEMARCAIONES MÁS POBLADAS

INFRAESTRUCTURA

- AEROPUERTO INTERNACIONAL Benito Juárez

SITIO ARQUEOLÓGICO

1. Templo Mayor
2. Cuicuilco

SITIO HISTÓRICO

1. Palacio Nacional - Catedral Metropolitana - Antiguo Colegio de San Ildefonso
2. Ex-Convento de Churubusco
3. Plaza de las Tres Culturas
4. Molino del Rey

CULTURA

- Monumento a la Revolución
 - Palacio de Bellas Artes
 - Ciudad Universitaria
- MUSEO**
1. Nacional de Antropología - Tamayo Arte Contemporáneo - De Arte Moderno
 2. Nacional de Arte - Nacional de la Estampa - Nacional de San Carlos
 3. Casa Estudio Diego Rivera y Frida Kahlo
 4. Museo Nacional de Historia

NATURALEZA

- ÁREA NATURAL PROTEGIDA

HIDROGRAFÍA

- Lago
- Río perenne
- PRINCIPAL ELEVACIÓN C. Cerro V. Volcán

ECOSISTEMA

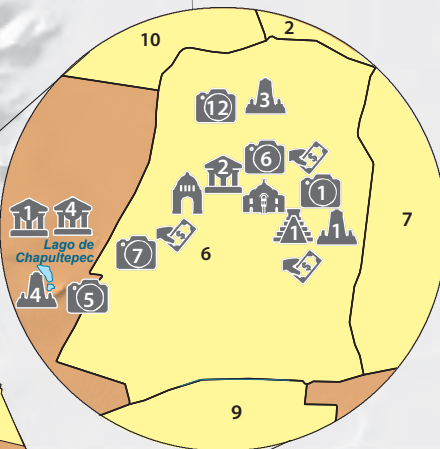
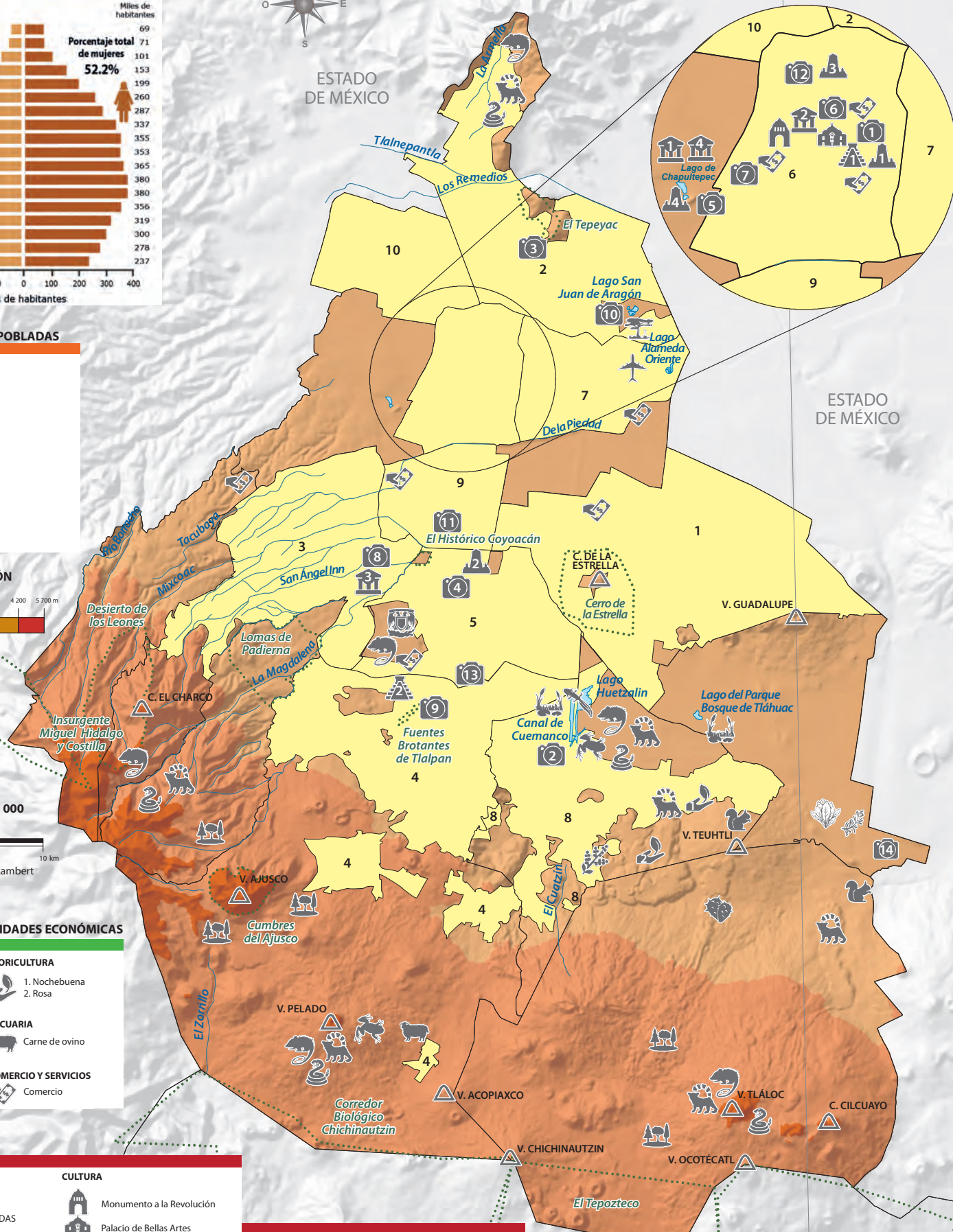
- Bosque templado
- Humedales
- Pastizal

FAUNA

- Vibora de cascabel
- Ranita fisgona del Pedregal
- Ardilla
- Tlacuache
- Ajolote
- Cacomixtle

TURISMO

- PUNTO TURÍSTICO**
1. Centro Histórico de la Ciudad de México
 2. Xochimilco
 3. Basílica de Guadalupe
 4. Centro de Coyoacán
 5. Complejo Cultural Chapultepec
 6. Plaza Garibaldi
 7. Ángel de la Independencia
 8. San Ángel
 9. Centro de Tlalpan
 10. Zoológico de San Juan de Aragón
 11. Cineteca Nacional
 12. Biblioteca Vasconcelos
 13. Estadio Azteca
 14. San Andrés Mixquic



19°

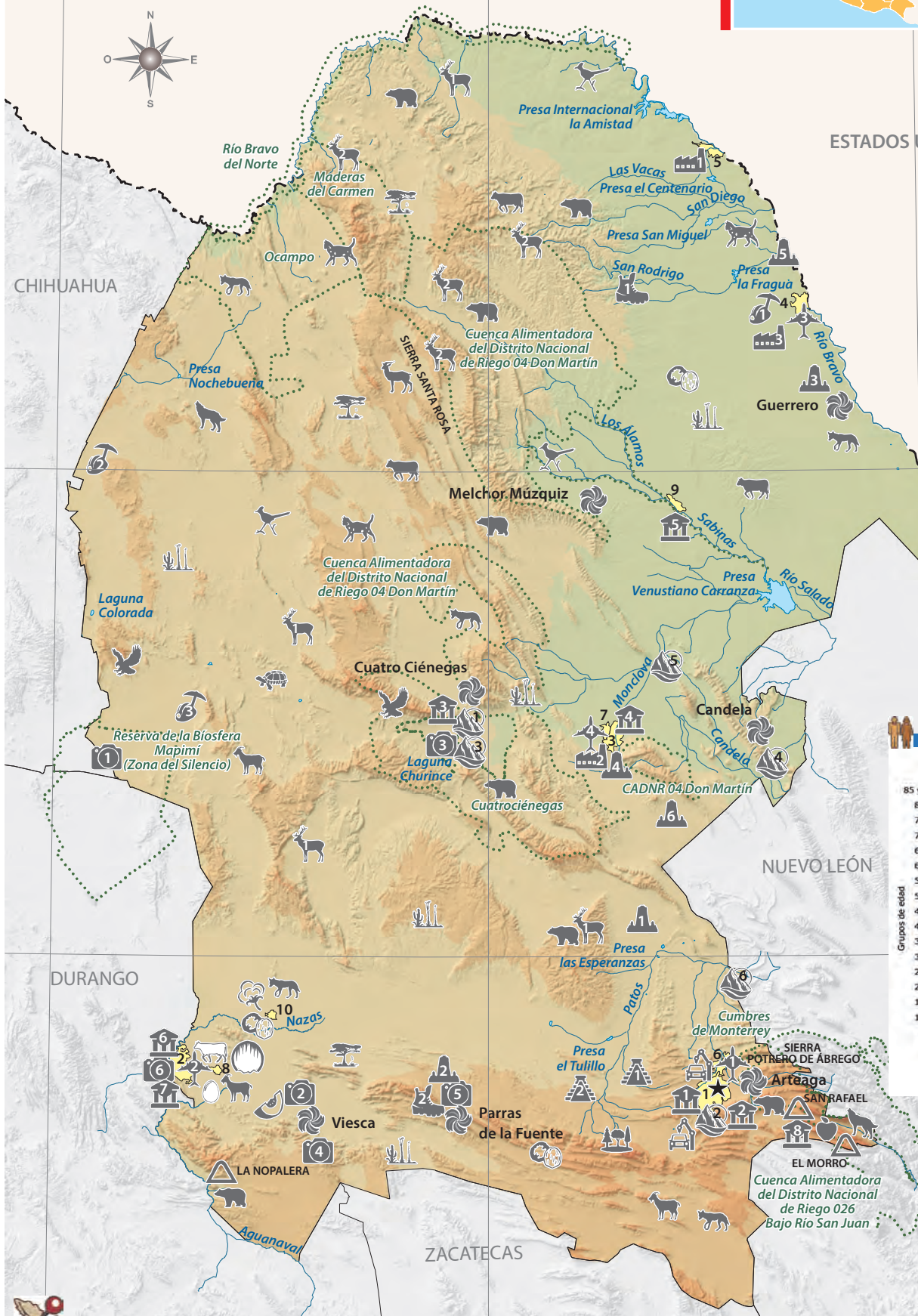
19°

99°

Coahuila de Zaragoza



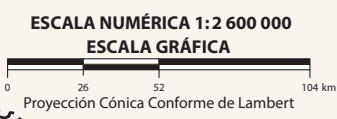
Capital: Saltillo
Extensión: 151 594.8 km², 7.7% del territorio nacional
Municipios: 38
Población: 3 146 771 habitantes, 2.5% del total del país



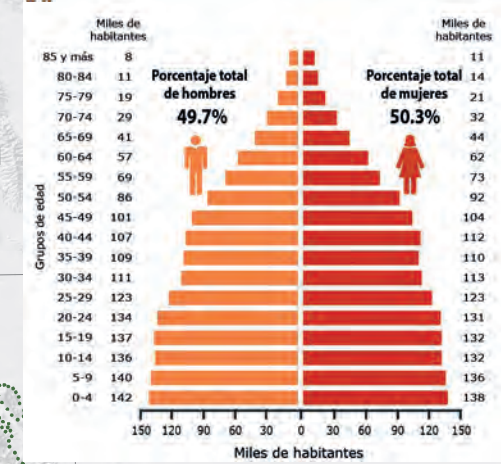
ESTADOS UNIDOS DE AMÉRICA

LOCALIDADES MÁS POBLADAS

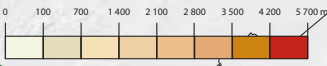
- 1 Saltillo
- 2 Torreón
- 3 Monclova
- 4 Piedras Negras
- 5 Ciudad Acuña
- 6 Ramos Arizpe
- 7 Frontera
- 8 Matamoros
- 9 Sabinas
- 10 San Pedro



POBLACIÓN POR EDAD Y SEXO



RANGOS DE ELEVACIÓN



PRINCIPALES ACTIVIDADES ECONÓMICAS

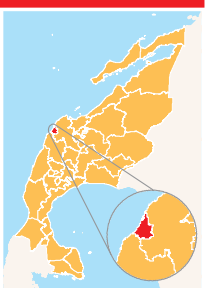
- | | |
|--------------------------|-------------------|
| AGRÍCOLA | MINERA |
| Algodón | 1. Carbón |
| Melón | 2. Hierro |
| Nuez | 3. Sulfatos |
| Manzana | INDUSTRIAL |
| PECUARIA | Automotriz |
| Carne en canal de bovino | 1. Maquiladora |
| Leche de bovino | 2. Electrónica |
| Carne de caprino | 3. Metalurgia |
| Huevo | 3. Cervecería |

- | | |
|---------------------------------|---|
| GENERAL | SITIO ARQUEOLÓGICO |
| ★ CAPITAL DEL ESTADO | 1. Zona de fósiles de dinosaurios Rincón Colorado |
| --- LÍMITE INTERNACIONAL | 2. Petroglifos Valle de Narigua |
| — LÍMITE ESTATAL | SITIO HISTÓRICO |
| 📍 LOCALIDADES MÁS POBLADAS | 1. Hacienda Plan de Guadalupe |
| INFRAESTRUCTURA | 2. Ex-Hacienda Casa Madero |
| AEROPUERTO INTERNACIONAL | 3. Misión de San Bernardo |
| 1. Plan de Guadalupe | 4. Estación de Ferrocarril |
| 2. Francisco Sarabia | 5. Presidio de Monclova Viejo |
| 3. De Piedras Negras | 6. Prendimiento de Miguel Hidalgo y Costilla |
| 4. Venustiano Carranza | NATURALEZA |
| CULTURA | ● ÁREA NATURAL PROTEGIDA |
| MUSEO | HIDROGRAFÍA |
| 1. De las Aves | 🌊 Lago, laguna o presa |
| 2. Del Desierto | 🌊 Río perenne |
| 3. Casa Venustiano Carranza | ⚡ PRINCIPAL ELEVACIÓN Cerro |
| 4. De Coahuila y Texas | |
| 5. Francisco Villa | |
| 6. Casa del Cerro | |
| 7. Regional de la Laguna | |
| 8. De las Momias | |

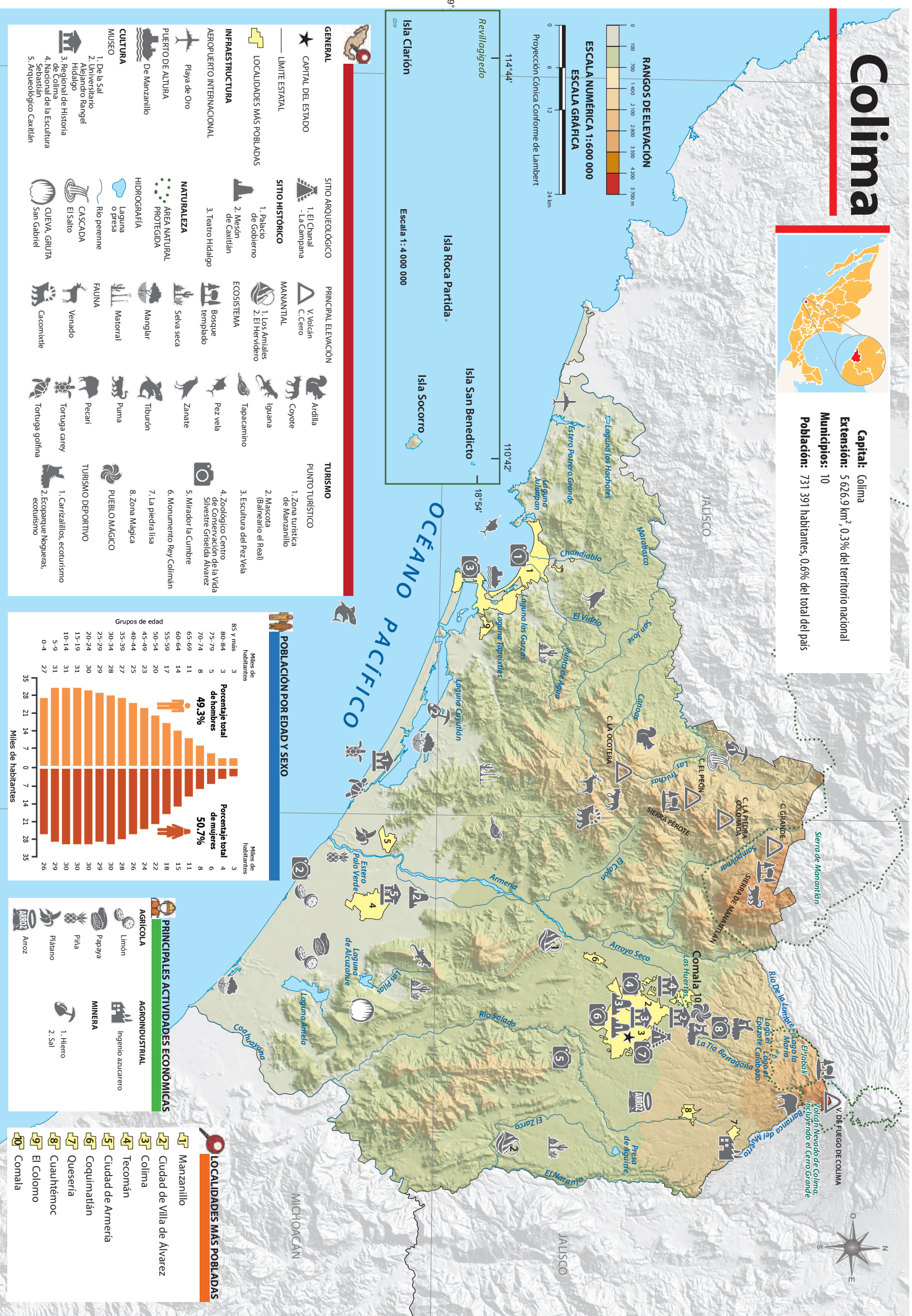
- | | |
|-------------------------------------|------------------------|
| MANANTIAL | FAUNA |
| 1. Poza Azul | 🐾 Coyote |
| 2. Cañón de San Lorenzo | 🐾 Lobo mexicano |
| 3. Poza de la Becerra | 🐾 Oso negro |
| 4. Balneario las Lajas | 🐾 Gato montés |
| 5. Aguas Termales Estación Hermanas | 🐾 Águila real |
| 6. Las Termas de San Joaquín | 1. Venado burea |
| CUEVA, GRUTA Del Tabaco | 2. Venado cola blanca |
| ECOSISTEMA | 🐾 Berrendo |
| 🌿 Matorral | 🐾 Correcaminos |
| 🌳 Bosque templado | 🐾 Tortuga del desierto |
| 🌿 Pastizal | |

- | | |
|-----------------------------------|--|
| TURISMO | TURISMO DEPORTIVO |
| PUNTO TURÍSTICO | 1. Rancho Tío Tacho, ecoturismo |
| 1. Zona del Silencio | 2. Cañón de la Lima, turismo de aventura |
| 2. Dunas de Bilbao | |
| 3. Dunas de Yeso | |
| 4. Procesión del Silencio | |
| 5. Cerro Iglesia del Santo Madero | |
| 6. Viacrucis Cerro de las Noas | |
| PUEBLO MÁGICO | |

Colima



Capital: Colima
Extensión: 5 626,9 km², 0,3% del territorio nacional
Municipios: 10
Población: 731 391 habitantes, 0,6% del total del país



RANGOS DE ELEVACIÓN
 ESCALA NUMÉRICA 1:600 000
 ESCALA GRÁFICA

0 100 200 1 400 2 100 2 800 3 500 4 200 5 700 m

Proyección Cónica Conforme de Lambert
 0 6 12 24 km

114°44' 110°42' 18°54' 19°

Isla Clarión Isla Roca Partida Isla San Benedito Isla Socorro

Escala 1:4 000 000

GENERAL
 CAPITAL DEL ESTADO
 LIMITE ESTATAL
 LOCALIDADES MÁS POBLADAS

INFRAESTRUCTURA
 AEROPUERTO INTERNACIONAL
 Playa de Oro
 PUERTO DE AGUA
 De Manzanillo

CULTURA
 MUSEO
 1. De la Sal
 2. Antracénico Hidalgo
 3. Regional de Historia Sebastián
 4. Nacional de la Escultura Sebastián
 5. Arqueológico Caxtilán

SITIO ARQUEOLÓGICO
 1. El Chanal
 - La Campana

SITIO HISTÓRICO
 1. Palacio de Gobierno
 2. Mesón de Caxtilán

PRINCIPAL ELEVACIÓN
 V. Volcan C. Cerro

MANANTIAL
 1. Los Amaltes
 2. El Hervidero

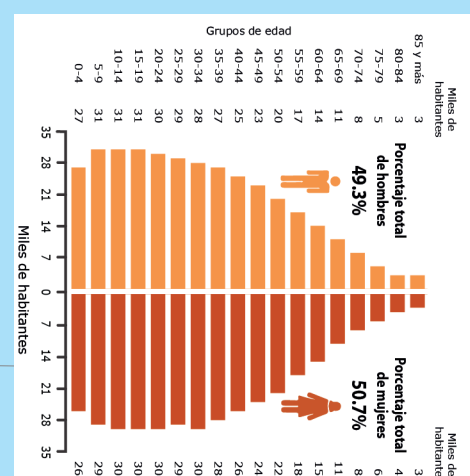
ECOSISTEMA
 Bosque templado
 Selva seca
 Manglar

NATURALEZA
 ÁREA NATURAL PROTEGIDA
 HIDROGRAFÍA
 Laguna o presa
 Río perenne
 CASCADA
 El Salto
 CUEVA, GRUTA
 San Gabriel

FAUNA
 Venado
 Puma
 Tiburón
 Zanate
 Pez vela
 Tapacumino
 Iguana
 Coyote
 Ardilla

TURISMO
 PUNTO TURÍSTICO
 1. Zona turística (balneario el Real)
 2. Mascota
 3. Escultura del Pez Vela
 4. Zoológico Centro de Conservación de la Vida Silvestre Griselda Álvarez
 5. Mirador la Cumbre
 6. Monumento Rey Colimán
 7. La piedra lisa
 8. Zona Mágica

PUERBLO MÁGICO
 1. Carrizalillos, ecoturismo
 2. Ecoparque Noguearas, ecoturismo



PRINCIPALES ACTIVIDADES ECONÓMICAS

AGROINDUSTRIAL
 Ingenio azucarero

MINERÍA
 1. Hierro
 2. Sal

AGRICOLA
 Limón
 Papaya
 Piña
 Plátano
 Arroz

LOCALIDADES MÁS POBLADAS

- Manzanillo
- Ciudad de Villa de Álvarez
- Colima
- Tecomán
- Ciudad de Armería
- Coquimatlán
- Quesería
- Cuauhémoc
- El Colomo
- Comala

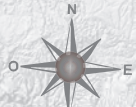
Durango

CHIHUAHUA

104°



Capital: Victoria de Durango
Extensión: 123 364.0 km², 6.3% del territorio nacional
Municipios: 39
Población: 1 832 650 habitantes, 1.5% del total del país



26°

26°

24°

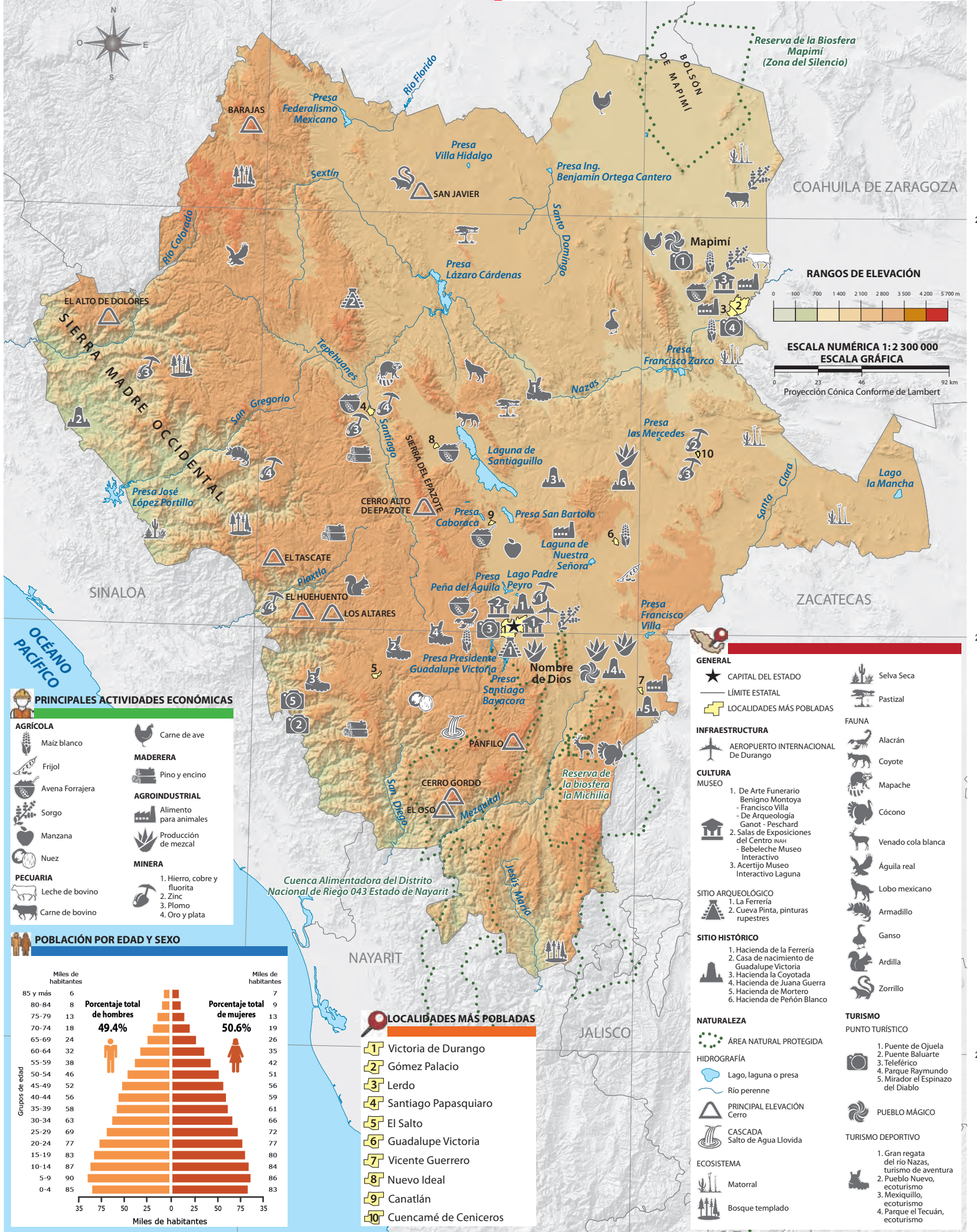
24°

22°

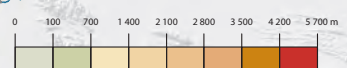
22°

106°

104°



RANGOS DE ELEVACIÓN



ESCALA NUMÉRICA 1:2 300 000

ESCALA GRÁFICA

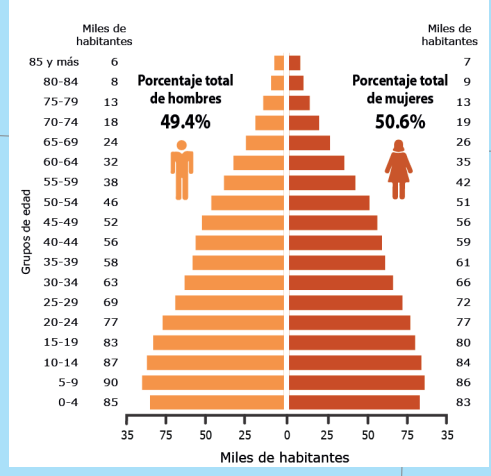


Proyección Cónica Conforme de Lambert

PRINCIPALES ACTIVIDADES ECONÓMICAS

- AGRICOLA**
 - Maíz blanco
 - Frijol
 - Avena Forrajera
 - Sorgo
 - Manzana
 - Nuez
- MADERERA**
 - Carne de ave
 - Pino y encino
- AGROINDUSTRIAL**
 - Alimento para animales
 - Producción de mezzal
- MINERA**
 - 1. Hierro, cobre y fluorita
 - 2. Zinc
 - 3. Plomo
 - 4. Oro y plata
- PECUARIA**
 - Leche de bovino
 - Carne de bovino

POBLACIÓN POR EDAD Y SEXO



LOCALIDADES MÁS POBLADAS

- Victoria de Durango
- Gómez Palacio
- Lerdo
- Santiago Papasquiaro
- El Salto
- Guadalupe Victoria
- Vicente Guerrero
- Nuevo Ideal
- Canatlán
- Cuencamé de Ceniceros

GENERAL

- CAPITAL DEL ESTADO
- LÍMITE ESTATAL
- LOCALIDADES MÁS POBLADAS
- AEROPUERTO INTERNACIONAL De Durango
- MUSEO
 - De Arte Funerario Benigno Montoya - Francisco Villa - De Arqueología Ganot - Peschard
 - Salas de Exposiciones del Centro INAH - Bebeche Museo Interactivo
 - Acertijo Museo Interactivo Laguna
- SITIO ARQUEOLÓGICO
 - La Ferrería
 - Cueva Pinta, pinturas rupestres
- SITIO HISTÓRICO
 - Hacienda de la Ferrería
 - Casa de nacimiento de Guadalupe Victoria
 - Hacienda la Coyotada
 - Hacienda de Juana Guerra
 - Hacienda de Mortero
 - Hacienda de Peñón Blanco

FAUNA

- Selva Seca
- Pastizal
- Alacrán
- Coyote
- Mapache
- Cócono
- Venado cola blanca
- Águila real
- Lobo mexicano
- Armadillo
- Ganso
- Ardilla
- Zorrillo

NATURALEZA

- ÁREA NATURAL PROTEGIDA
- HIDROGRAFÍA
 - Lago, laguna o presa
 - Río perenne
- PRINCIPAL ELEVACIÓN Cerro
- CASCADA Salto de Agua Llovida
- ECOSISTEMA
 - Matorral
 - Bosque templado

TURISMO

- PUNTO TURÍSTICO
 - Puente de Ojuela
 - Puente Baluarte
 - Teleférico
 - Parque Raymundo
 - Mirador el Espinazo del Diablo
- PUEBLO MÁGICO
- TURISMO DEPORTIVO
 - Gran regata del río Nazas, turismo de aventura
 - Pueblo Nuevo, ecoturismo
 - Mexiquillo, ecoturismo
 - Parque el Tecuán, ecoturismo

Estado de México

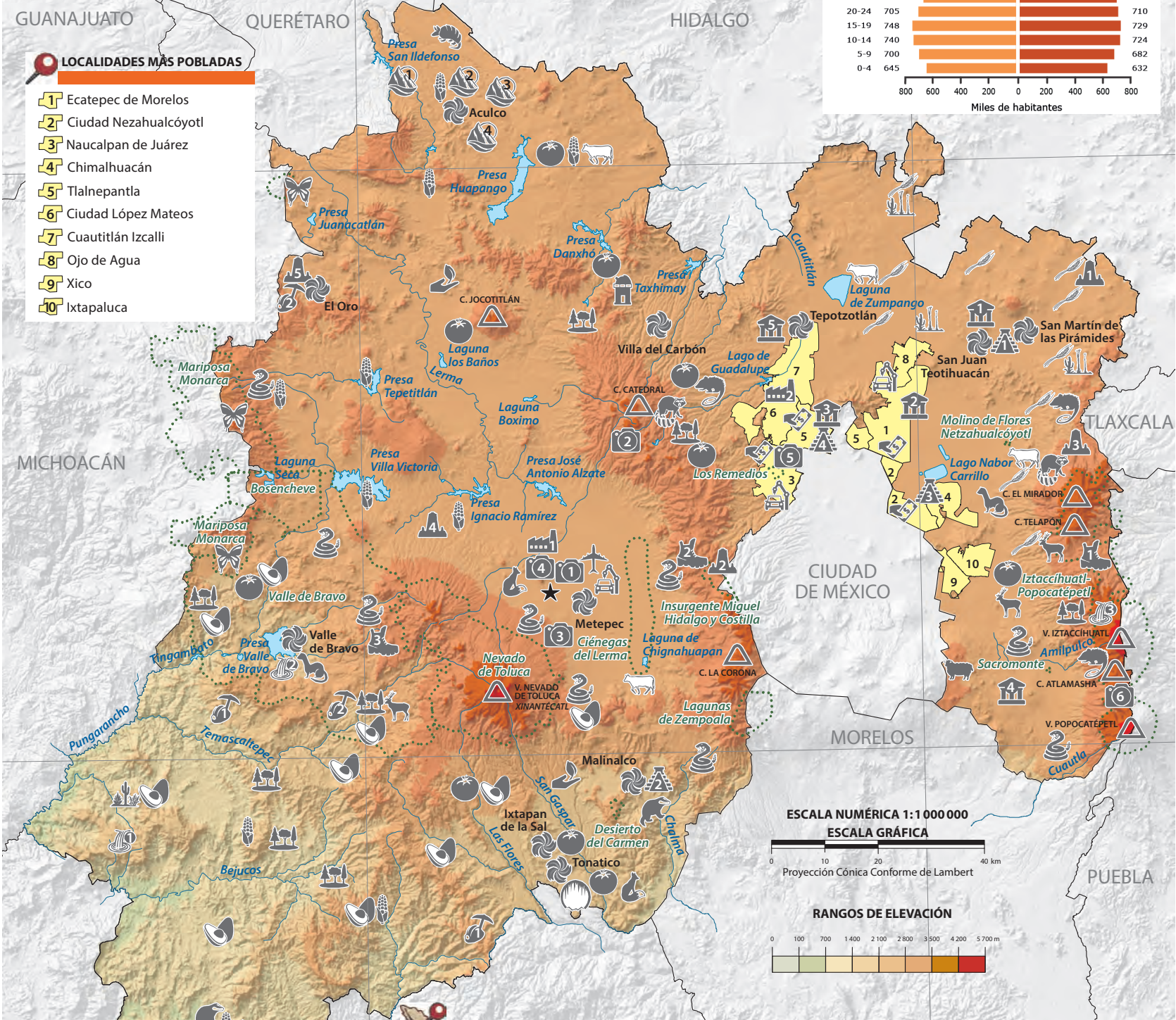


Capital: Toluca de Lerdo
Extensión: 22 351.8 km², 1.1% del territorio nacional
Municipios: 125
Población: 16 992 418 habitantes, 13.5% del total del país

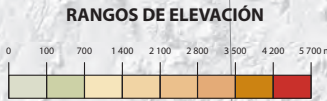



LOCALIDADES MÁS POBLADAS

- 1 Ecatepec de Morelos
- 2 Ciudad Nezahualcóyotl
- 3 Naucalpan de Juárez
- 4 Chimalhuacán
- 5 Tlalnepantla
- 6 Ciudad López Mateos
- 7 Cuautitlán Izcalli
- 8 Ojo de Agua
- 9 Xico
- 10 Ixtapaluca



ESCALA NUMÉRICA 1:1 000 000
 ESCALA GRÁFICA



PRINCIPALES ACTIVIDADES ECONÓMICAS

- | | |
|---------------------|-----------------------------------|
| AGRÍCOLA | PECUARIA |
| Maíz blanco | Carne de ovino |
| Cebada | Leche de bovino |
| Tomate rojo | 1. Oro, plata, plomo, cobre, zinc |
| Aguacate | 2. Oro y plata |
| FLORICULTURA | INDUSTRIAL |
| - Rosa | Automotriz |
| - Gerbera | 1. Alimentos y bebidas |
| | 2. Químicos - farmacéuticos |
| | COMERCIO Y SERVICIOS |
| | Comercio al por menor |

GENERAL

- ★ CAPITAL DEL ESTADO
- LÍMITE ESTATAL
- 📍 LOCALIDADES MÁS POBLADAS

INFRAESTRUCTURA

- ✈️ AEROPUERTO INTERNACIONAL
- De Toluca
- 🏠 OBSERVATORIO
- Las Ánimas, Chapa de Mota
- 🏛️ CULTURA
- 🏛️ MUSEO

1. De los Muros de Teotihuacán
2. Centro Comunitario Ecatepec Casa de Morelos
3. De la Escultura Mexica Eusebio Dávalos Hurtado
4. Casa de Sor Juana Inés de la Cruz
5. Nacional del Virreinato

SITIO ARQUEOLÓGICO

1. Teotihuacán
2. Malinalco - Cuauhtinchan
3. Los Pochotes
4. Tenayuca

SITIO HISTÓRICO

1. Acueducto del Padre Tembleque
2. Monte de las Cruces
3. Hacienda Molino de las Flores
4. Hacienda La Gavia
5. Teatro Juárez

NATURALEZA

- 🌿 ÁREA NATURAL PROTEGIDA

HIDROGRAFÍA

- 🌊 Río perenne
- 🌊 Lago, laguna o presa

PRINCIPAL ELEVACIÓN

- 🏔️ V. Volcán
- 🏔️ C. Cerro

CASCADA

1. Nanchititla
2. El Molino
3. Refugio de Novia
4. Refugio del Salto
5. Congelada de Tlalmanalco

MANANTIAL

1. Mastranto
2. El Ahuehueté Santa Anna
3. La Esperanza
4. Barrancas

GRUTA

- De la Estrella

ECOSISTEMA

- 🌳 Bosque templado
- 🌳 Selva seca
- 🌳 Matorral

FAUNA

- 🦋 Mariposa monarca
- 🐾 Zorra gris
- 🐾 Venado cola blanca
- 🐾 Armadillo

Vibora de cascabel

- 🐍 Mapache
- 🐍 Tlacuache
- 🐍 Tejón, tlacoyote
- 🐍 Comadreja

TURISMO

PUNTO TURÍSTICO

1. Cosmovital Jardín Botánico
2. Centro Ceremonial Otomí
3. Zoológico de Zacango
4. Teatro Morelos
5. Torres de Satélite
6. Paso de Cortés

PUEBLO MÁGICO

TURISMO DEPORTIVO

1. Parque Nacional Ixta - Popo, ecoturismo
2. La Marquesa, ecoturismo
3. Corral de Piedra, ecoturismo

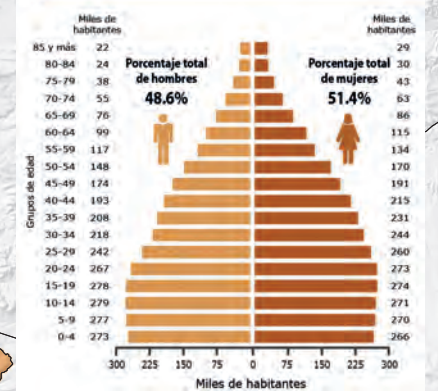
Guanajuato

Capital: Guanajuato
Extensión: 30 606.7 km², 1.6% del territorio nacional
Municipios: 46
Población: 6 166 934 habitantes, 4.9% del total del país

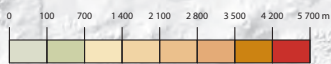
LOCALIDADES MÁS POBLADAS

- 1 León de los Aldama
- 2 Irapuato
- 3 Celaya
- 4 Salamanca
- 5 Silao de la Victoria
- 6 San Francisco del Rincón
- 7 Valle de Santiago
- 8 San Miguel de Allende
- 9 Guanajuato
- 10 Cortazar

POBLACIÓN POR EDAD Y SEXO



RANGOS DE ELEVACIÓN



ESCALA NUMÉRICA 1:1 200 000

ESCALA GRÁFICA

Proyección Cónica Conforme de Lambert

GENERAL

- ★ CAPITAL DEL ESTADO
- LÍMITE ESTATAL
- 📍 LOCALIDADES MÁS POBLADAS

INFRAESTRUCTURA

- ✈️ AEROPUERTO INTERNACIONAL Del Bajío
- 🏠 OBSERVATORIO La Azotea

CULTURA

- ### MUSEO
1. Regional de Guanajuato. La Alhóndiga de Granaditas - De Historia de Mineral de Pozos
 2. De Arte e Historia de Guanajuato - Centro de Ciencias Explora
 3. Centro Interactivo de Ciencia y Tecnología La Nave
 4. José y Tomás Chávez Morado - Del Automóvil en Guanajuato
 5. De la Ciudad Francisco Orozco Muñoz
 6. De la Ciudad de Irapuato
 7. De la Independencia Nacional - Casa Museo José Alfredo Jiménez
 8. Casa del Mayorazgo de la Canal - La Esquina, Museo del Juguete Popular

SITIO ARQUEOLÓGICO

1. El Cópore
2. Cañada de la Virgen
3. Peralta
4. Plazuelas
5. Arroyo Seco

SITIO HISTÓRICO

1. Hacienda Corralejo
2. Minas adyacentes a la ciudad de Guanajuato
3. Teatro Juárez
4. Ciudad Protectora de San Miguel
5. Santuario de Jesús Nazareno de Atotonilco
6. Ex-Hacienda Jaral de Berrios
7. Ex-Convento Agustino de Fray Juan de Sahagún
8. Casa del Dr. José María Luis Mora Curato de Dolores
9. Ex-Convento Agustino de San Pablo
10. Casa de Allende
11. Casa de Hidalgo, La Francia Chiquita

PATRIMONIO DE LA HUMANIDAD

9. Ferrocarriler José Cardozo Téllez - Waldemar Julsrud

NATURALEZA

HIDROGRAFÍA

- 🌿 ÁREA NATURAL PROTEGIDA
- 🌊 Lago, laguna o presa
- 🌊 Río perenne
- ⚠️ PRINCIPAL ELEVACIÓN Cerro

ECOSISTEMA

- 🌳 Matorral
- 🌳 Pastizal
- 🌳 Bosque templado
- 🌳 Selva seca

FAUNA

- 🐾 Tlacuache
- 🐾 Zorra
- 🐾 Zorrillo
- 🐾 Tuza

- 🐦 Pájaro carpintero
- 🐆 Tejón
- 🐇 Venado cola blanca
- 🐭 Armadillo
- 🐈 Gato montés
- 🐍 Vibora de cascabel
- 🐍 Vibora coralillo
- 🐍 Vibora chirrionera

TURISMO

- #### PUNTO TURÍSTICO
1. Las Siete Luminarias
 2. Parque Metropolitano de León
 3. Monumento al Pipila
 4. Museo de las Momias de Guanajuato

PUEBLO MÁGICO

- #### TURISMO DEPORTIVO
- Parque San Luis de los Agustinos, ecoturismo

PRINCIPALES ACTIVIDADES ECONÓMICAS

AGRÍCOLA

- 🌿 Agave
- 🍓 Fresa
- 🥦 Brócoli
- 🌿 Espinaca
- 🍷 Ajo
- 🥬 Lechuga

PECUARIA

- 🐄 Leche de bovino
- 🐷 Carne de porcino

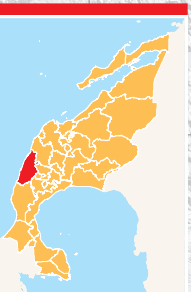
MINERA

- 🐔 Carne de ave
- 🥚 Huevo
- 🐷 Carne de ovino
- 🏠 Oro y plata

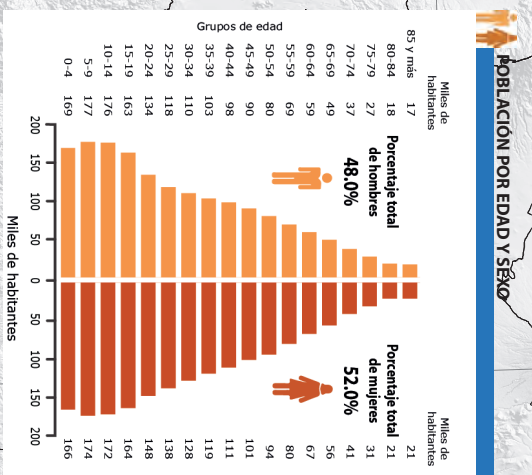
INDUSTRIAL

- 🏭 Automotriz
- 🍇 Vinícola
- 1. Calzado
- 2. Refinería
- 3. Textil

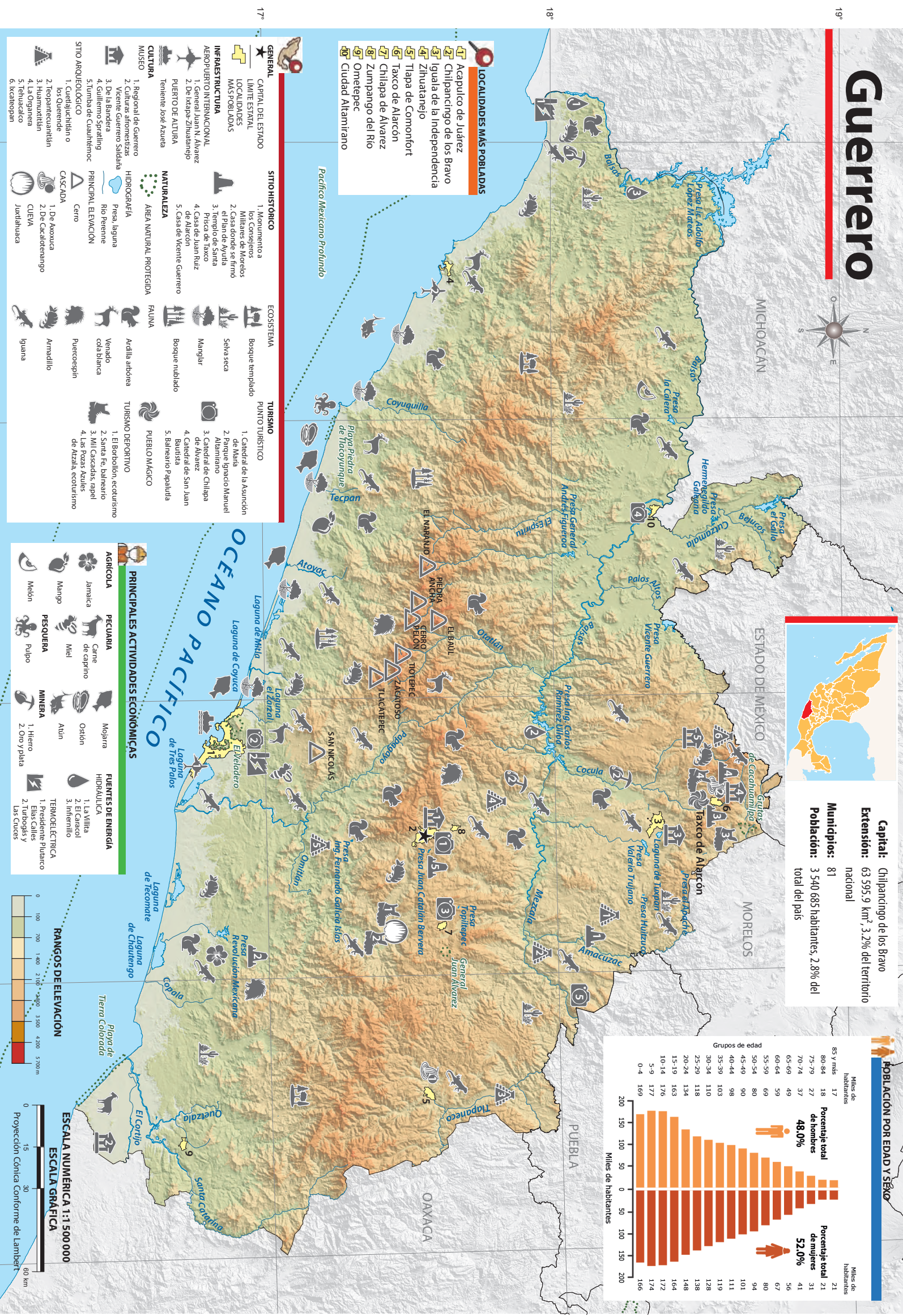
Guerrero



Capital: Chilpancingo de los Bravo
Extensión: 63 595,9 km², 3,2% del territorio nacional
Municipios: 81
Población: 3 540 685 habitantes, 2,8% del total del país



- ### LOCALIDADES MÁS POBLADAS
- 1 Acapulco de Juárez
 - 2 Chilpancingo de los Bravo
 - 3 Iguala de la Independencia
 - 4 Zihuatanejo
 - 5 Tiapa de Comonfort
 - 6 Taxco de Alarcón
 - 7 Chilapa de Álvarez
 - 8 Zumpango del Río
 - 9 Ometpec
 - 10 Ciudad Altamirano



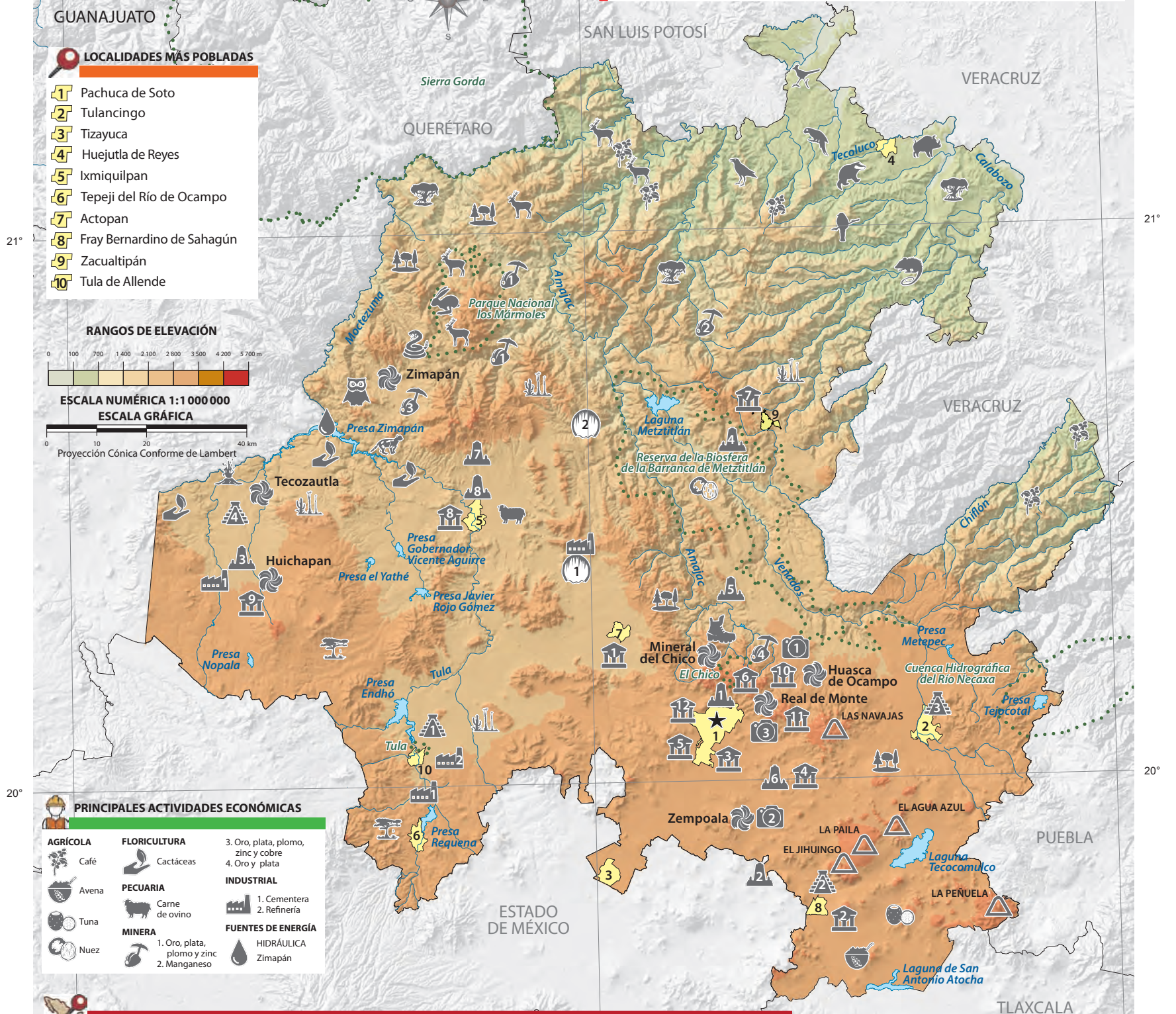
- ### GENERAL
- CAPITAL DEL ESTADO:** Chilpancingo de los Bravo
 - LÍMITE ESTADAL:** Michoacán, Morelos, Puebla, Oaxaca
 - LOCALIDADES MÁS POBLADAS:** Acapulco de Juárez, Chilpancingo de los Bravo, Iguala de la Independencia, Zihuatanejo, Tiapa de Comonfort, Taxco de Alarcón, Chilapa de Álvarez, Zumpango del Río, Ometpec, Ciudad Altamirano
- ### SITIO HISTÓRICO
1. Monumento a los Consejeros Militares de Morelos
 2. Casa donde se firmó el Plan de Ayutla
 3. Templo de Santa Prisca de Taxco
 4. Casa de Juan Ruiz de Alarcón
 5. Casa de Vicente Guerrero
- ### ECOSISTEMA
- Bosque templado**
 - Selva seca**
 - Manglar**
 - Bosque nuboso**
- ### TURISMO
- #### PUNTO TURÍSTICO
1. Catedral de la Asunción de Maná
 2. Parque Ignacio Manuel Altamirano
 3. Catedral de Chilapa de Álvarez
 4. Catedral de San Juan Bautista
 5. Balneario Papulula
- ### NATURALIEZA
- ÁREA NATURAL PROTEGIDA**
 - FAUNA:** Águila aboírea, Venado cola blanca, Puercoespín, Armadillo, Iguana
 - TURISMO DEPORTIVO:** 1. El Bolebón, ecoturismo; 2. Santa Fe, balneario; 3. Mil Cascadas, rapel; 4. Las Pozas Azules, de Atzala, ecoturismo
- ### CULTURA
- MUSEO:** 1. Regional de Guerrero; 2. Culturas atomestizas; 3. Vicente Guerrero Saldaña; 4. Guillermo Sprattling; 5. Tumba de Cuauhtémoc
 - SITIO ARQUEOLÓGICO:** 1. Cuicatlanitlán o los Quereúde; 2. Teopanrecantlán; 3. Huanuxtitlán; 4. La Ogrera; 5. Tehuacalco; 6. Kacotecapan
 - CASCADA:** 1. De Axoxuca; 2. De Cacalotengo; 3. De la Bandera; 4. Güilermo Sprattling; 5. Tumba de Cuauhtémoc
 - PRINCIPAL ELEVACIÓN:** Cerro
 - CUERVA:** 1. De Axoxuca; 2. De Cacalotengo; 3. Huanuxtitlán; 4. La Ogrera; 5. Tehuacalco; 6. Kacotecapan

- ### PRINCIPALES ACTIVIDADES ECONÓMICAS
- AGRICOLA:** Jamaica, Mango, Melón
 - PECUARIA:** Carne de caprino, Miel
 - PESQUERA:** Pulpo
 - MINERA:** 1. Hierro; 2. Oro y plata
 - FUENTES DE ENERGÍA:** 1. La Villa; 2. El Canacol; 3. Infantil
 - TERMOELÉCTRICA:** 1. Elas Calles; 2. Turbogás y Las Cruces
- ### RANGOS DE ELEVACIÓN
-
- ### ESCALA NUMÉRICA 1:1 500 000
- ### ESCALA GRÁFICA
- Proyección Cónica Conforme de Lambert

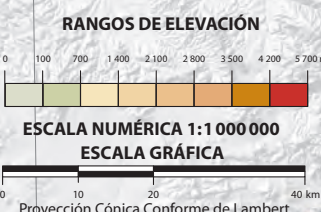
Hidalgo



Capital: Pachuca de Soto
Extensión: 20 821.4 km², 1.1% del territorio nacional
Municipios: 84
Población: 3 082 841 habitantes, 2.4% del total del país



- LOCALIDADES MÁS POBLADAS**
- Pachuca de Soto
 - Tulancingo
 - Tizayuca
 - Huejutla de Reyes
 - Ixmiquilpan
 - Tepeji del Río de Ocampo
 - Actopan
 - Fray Bernardino de Sahagún
 - Zacualtipán
 - Tula de Allende



- PRINCIPALES ACTIVIDADES ECONÓMICAS**
- | | | |
|-----------------|-----------------------------|------------------------------------|
| AGRÍCOLA | FLORICULTURA | 3. Oro, plata, plomo, zinc y cobre |
| Café | Cactáceas | 4. Oro y plata |
| Avena | PECUARIA | INDUSTRIAL |
| Tuna | Carne de ovino | 1. Cementera |
| Nuez | MINERA | 2. Refinería |
| | 1. Oro, plata, plomo y zinc | FUENTES DE ENERGÍA |
| | 2. Manganeso | HIDRÁULICA |
| | | Zimapan |

GENERAL

- CAPITAL DEL ESTADO
- LÍMITE ESTATAL
- LOCALIDADES MÁS POBLADAS

CULTURA

- MUSEO**
- Colonial del Ex-Convento de San Nicolás Tolentino
 - Arqueológico de Tepeapulco
 - Nacional de la Fotografía
 - Ex-Convento de San Andrés Apóstol
 - De Minería
 - De Medicina Laboral
 - Felipe Ángeles
 - De la Cultura Hñähñu
 - Arqueología e Historia de Huichapan
 - Sitio Mina de Acosta
 - De Sitio y Centro de Interpretación Mina la Dificultad
 - Del Fútbol

SITIO ARQUEOLÓGICO

- Tula
- Xihuingo
- Huapalcalco
- Pañhú

SITIO HISTÓRICO

- Reloj Monumental de Pachuca
- Acueducto del Padre Tembleque
- Museo el Chapitel
- Templo y Ex-Convento de los Santos Reyes
- Templo y Ex-Convento de San Agustín
- Ex-Convento de San Andrés
- Ex-Convento de San Miguel Arcángel
- La Diana Cazadora

NATURALEZA

- ÁREA NATURAL PROTEGIDA

HIDROGRAFÍA

- Laguna o presa
- Río perenne

PRINCIPAL ELEVACIÓN

- Cerro

CUEVA, GRUTA

- Xoxafi
- Tolantongo

GÉISER

- Matorral

ECOSISTEMA

- Pastizal
- Bosque templado
- Selva húmeda

FAUNA

- Correcaminos
- Liebre cola negra
- Búho
- Vibora de cascabel
- Tejón
- Venado cola blanca
- Calandria
- Cuervo

FAUNA

- Loro huasteco
- Tlacuache
- Jabalí
- Tigrillo

TURISMO

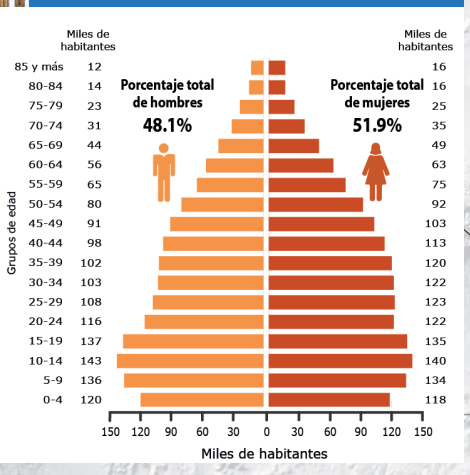
PUNTO TURÍSTICO

- Prismas basálticos
- Hacienda San Juan Pueblilla
- Panteón inglés de Mineral del Monte

PUEBLO MÁGICO

- Mineral del Chico, pesca deportiva y campismo

POBLACIÓN POR EDAD Y SEXO



Jalisco

104°

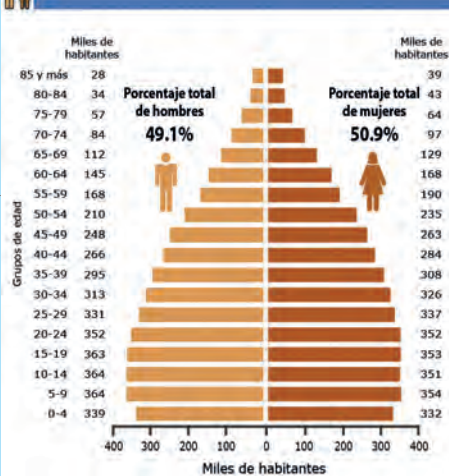
102°

Capital: Guadalajara
Extensión: 78 595.9 km², 4.0% del territorio nacional
Municipios: 125
Población: 8 348 151 habitantes, 6.6% del total del país

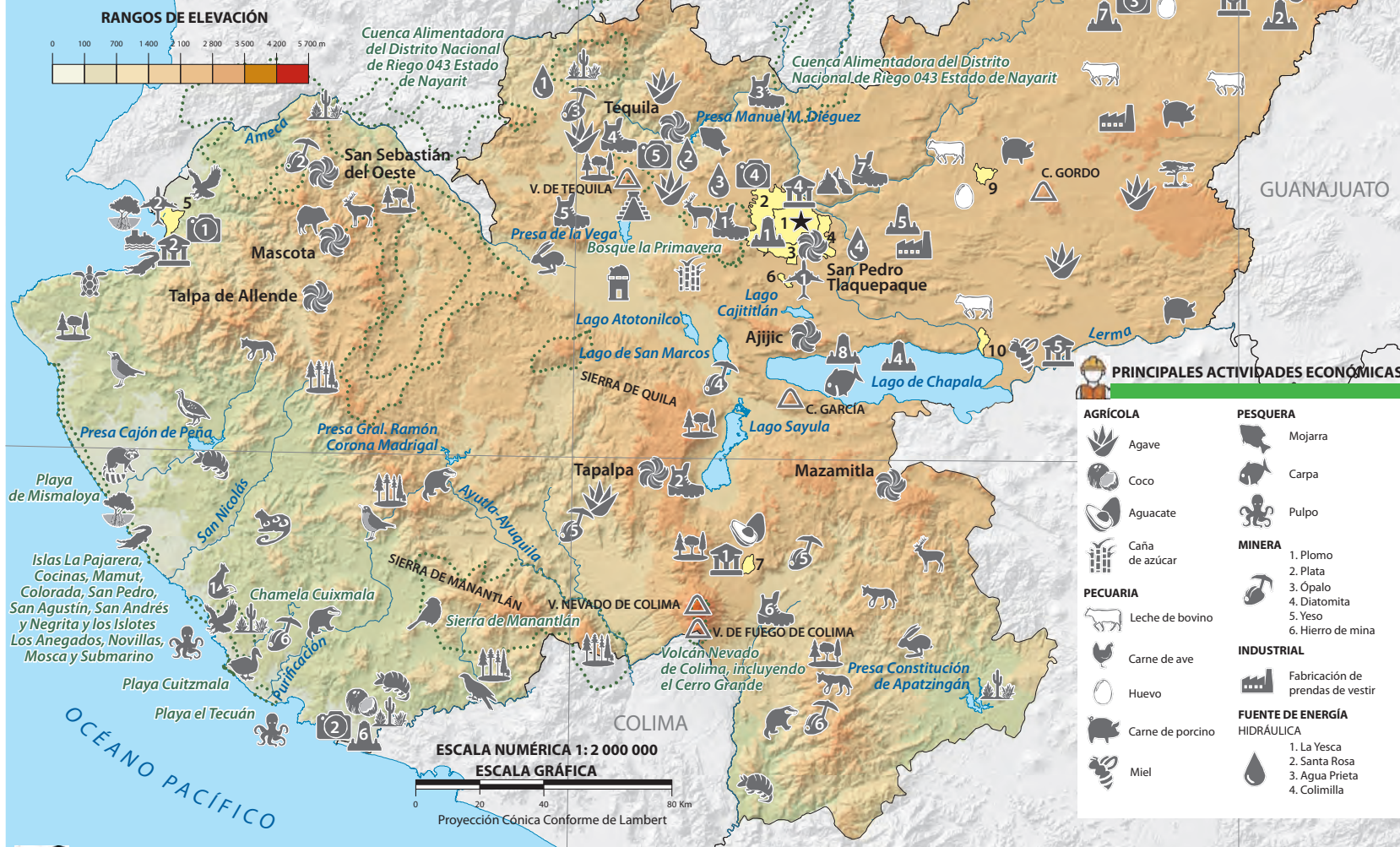
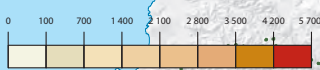


SINALOYA DURANGO ZACATECAS SAN LUIS POTOSÍ

POBLACIÓN POR EDAD Y SEXO



RANGOS DE ELEVACIÓN



PRINCIPALES ACTIVIDADES ECONÓMICAS

AGRÍCOLA	PESQUERA
Agave	Mojarra
Coco	Carpa
Aguacate	Pulpo
Caña de azúcar	MINERA
	1. Plomo
	2. Plata
	3. Ópalo
	4. Diatomita
	5. Yeso
	6. Hierro de mina
PECUARIA	INDUSTRIAL
Leche de bovino	Fabricación de prendas de vestir
Carne de ave	
Huevo	FUENTE DE ENERGÍA HIDRÁULICA
Carne de porcino	1. La Yesca
Miel	2. Santa Rosa
	3. Agua Prieta
	4. Colimilla

ESCALA NUMÉRICA 1: 2 000 000

ESCALA GRÁFICA

Proyección Cónica Conforme de Lambert

GENERAL

- CAPITAL DEL ESTADO
- LÍMITE ESTATAL
- LOCALIDADES MÁS POBLADAS
- INFRAESTRUCTURA
- AEROPUERTO INTERNACIONAL
- PUERTO DE ALTURA
- OBSERVATORIO
- CULTURA
- MUSEO

SITIO ARQUEOLÓGICO

- Guachimontones
- SITIO HISTÓRICO

PRINCIPAL ELEVACIÓN

- C. Cerro
- V. Volcán
- BARRANCA
- ECOSISTEMA
- FAUNA

TURISMO

- PUNTO TURÍSTICO
- PUEBLO MÁGICO
- TURISMO DEPORTIVO

LOCALIDADES MÁS POBLADAS

- Guadalajara
- Zapopan
- Tlaquepaque
- Tonalá
- Puerto Vallarta
- Hacienda Santa Fe
- Ciudad Guzmán
- Lagos de Moreno
- Tepatitlán de Morelos
- Ocotlán

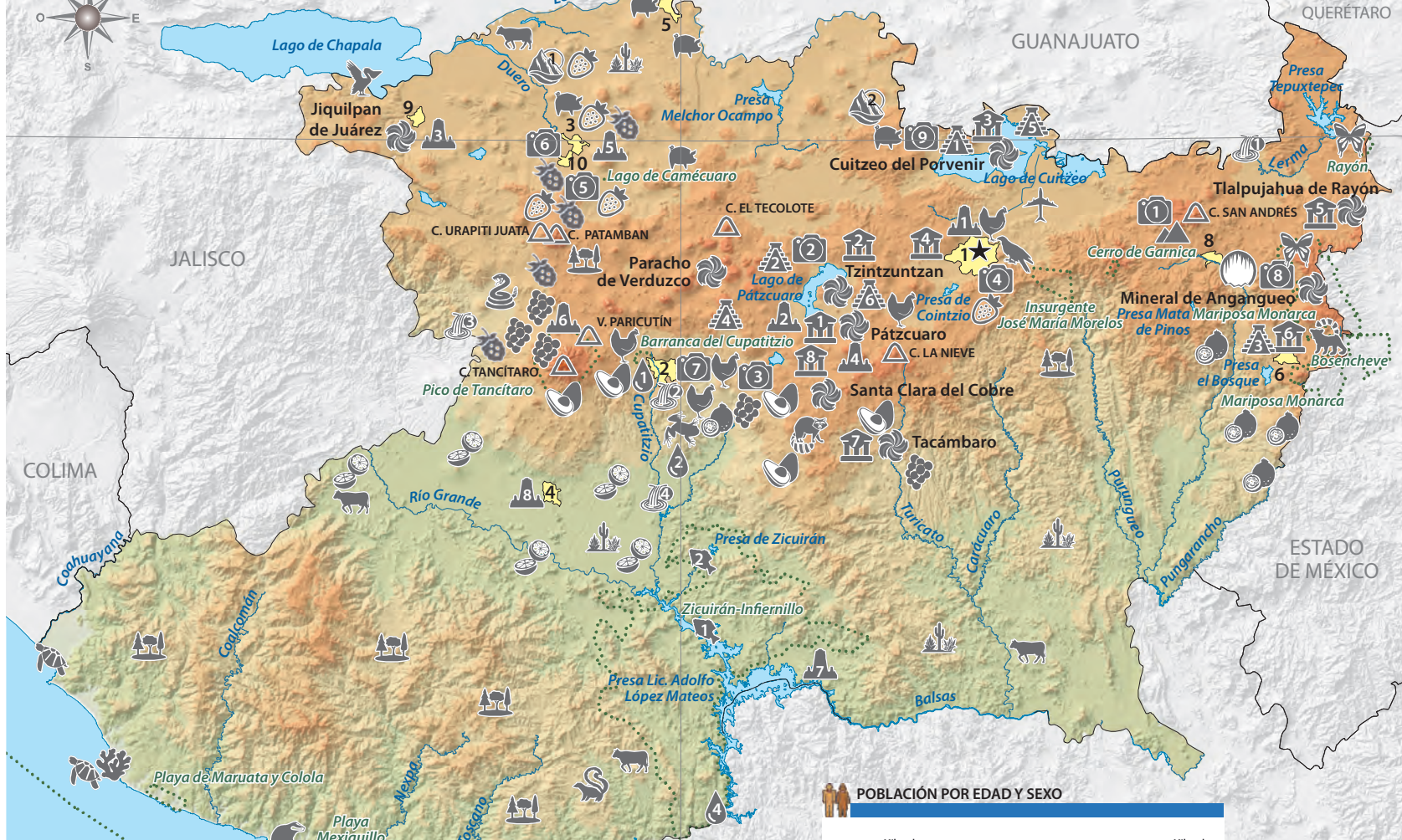
104°

102°

Michoacán



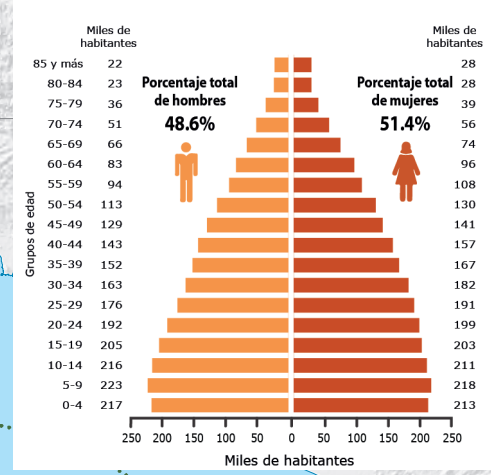
Capital: Morelia
Extensión: 58 598.7 km², 3.0% del territorio nacional
Municipios: 113
Población: 4 748 846 habitantes, 3.8% del total del país



PRINCIPALES ACTIVIDADES ECONÓMICAS

- AGRÍCOLA**
 - Aguacate
 - Frambuesa
 - Fresa
 - Guayaba
 - Limón
 - Zarzamora
- PESQUERA**
 - 1. Mojarra
 - 2. Carpa
- MINERA**
 - Hierro
- FUENTE DE ENERGÍA**
 - GEOTÉRMICA**
Los Azufres
 - HIDRÁULICA**
 - 1. Cupatitzio
 - 2. El Cóbano
 - 3. La Villita
 - 4. Infernillo
- PECUARIA**
 - Carne de bovino
 - Carne de ave
 - Carne de porcino

POBLACIÓN POR EDAD Y SEXO



GENERAL

- CAPITAL DEL ESTADO**: Morelia
- LÍMITE ESTATAL**
- LOCALIDADES MÁS POBLADAS**
- INFRAESTRUCTURA**
 - AEROPUERTO INTERNACIONAL**: General Francisco J. Mújica
 - PUERTO DE ALTURA**: Lázaro Cárdenas
- CULTURA**
 - MUSEO**
 - De Artes e Industrias Populares de Pátzcuaro
 - Antiguo Convento Franciscano de Santa Ana
 - De la Estampa, Ex-Convento de Santa María Magdalena Cuitzeo
 - Archivo Histórico Casa de Morelos - Regional Michoacano - Dr. Nicolás León Calderón - De Sitio Casa de Morelos - Michoacano de las Artesanías
 - Tecnológico Minero Siglo XIX - Mina Dos Estrellas
 - Casona de la Estación
 - Del Centro Cultural Amalia Solórzano
 - Nacional del Cobre

SITIO ARQUEOLÓGICO

- Huandacareo
- Ihuatzio
- San Felipe de los Alzati
- Tingambato
- Tres Cerritos
- Tzintzuntzan

SITIO HISTÓRICO

- Catedral de la Transfiguración del Señor de Morelia - Monumento Colegio Primitivo y Nacional de San Nicolás de Hidalgo - Acueducto de Morelia - Casa de la Conspiración - Casa de la Cultura de Morelia (Templo y Ex-Convento del Carmen)
- Monumento a José María Morelos y Pavón
- Casa Natal de Lázaro Cárdenas del Río
- Templo de Santiago Apóstol
- Ex-Palacio Episcopal
- Ruinas del Templo de San Juan Viejo
- Iglesia Hundida en Churumuco
- Casa de la Constitución

NATURALEZA

- ÁREA NATURAL PROTEGIDA

HIDROGRAFÍA

- Lago, laguna o presa
- Río perenne
- PRINCIPAL ELEVACIÓN**: C. Cerro V. Volcán
- CASCADA**
 - El Salto
 - Tzaráruca
 - Chorros del Varal
 - El Huaco
- GRUTA**: De Tziranda
- ARRECIFE**: El Zapote de Madero
- MANANTIAL**
 - Ixtlán de los Hervores
 - Los Arcos
- ECOSISTEMA**
 - Selva seca
 - Bosque templado
 - Manglar


FAUNA

- Cacomixtle
- Zorrillo
- Tlalcoyote
- Mapache
- Vibora de cascabel
- Ranita arborícola
- Langosta
- Pelicano borregón
- Aguililla cola roja
- Mariposa monarca
- Tortuga laúd
- Tortuga golfina
- Tiburón

TURISMO

- PUNTO TURÍSTICO**
 - Los Azufres
 - Lago de Pátzcuaro
 - Lago de Zirahuén
 - Zoológico Benito Juárez - Centro Histórico de Morelia
 - Santuario Diocesano de Nuestra Señora de Guadalupe
 - Antigua Fábrica de San Pedro de Hilados y Tejidos
 - Túnel Turístico de San Simón
 - Balnearios de Huandacareo
- PUEBLO MÁGICO**

RANGOS DE ELEVACIÓN



ESCALA NUMÉRICA 1:1 800 000



LOCALIDADES MÁS POBLADAS

- Morelia
- Uruapan
- Zamora de Hidalgo
- Apatzingán de la Constitución
- La Piedad de Cabadas
- Heroica Zitácuaro
- Ciudad Lázaro Cárdenas
- Ciudad Hidalgo
- Sahuayo de Morelos
- Jacona de Plancarte

Morelos



Capital: Cuernavaca
Extensión: 4 878.9 km², 0.2% del territorio nacional
Municipios: 36
Población: 1 971 520 habitantes, 1.6% del total del país

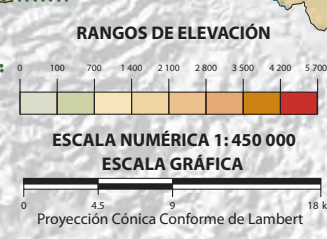
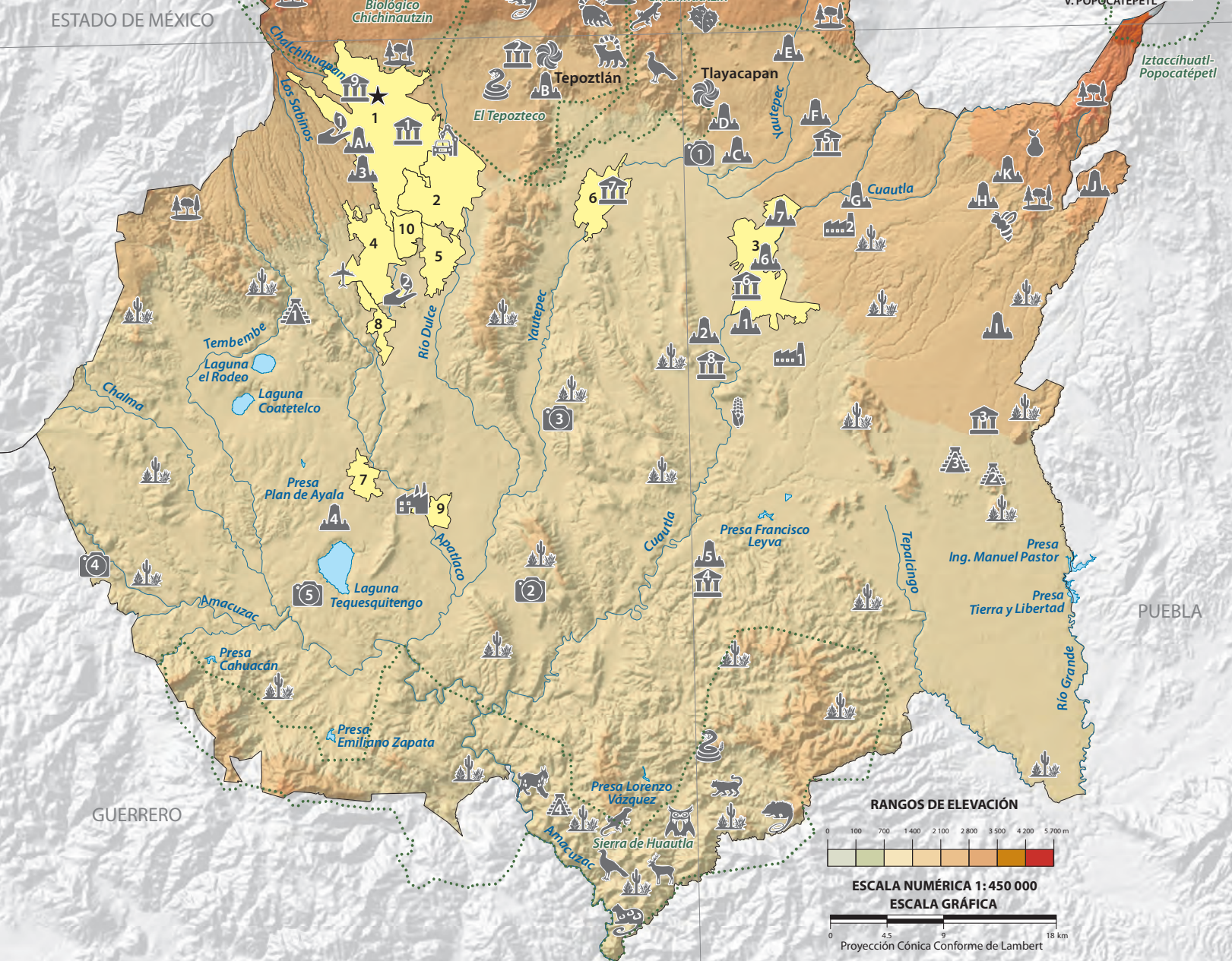


PRINCIPALES ACTIVIDADES ECONÓMICAS

- | | |
|---------------------|---|
| AGRÍCOLA | PECUARIA |
| Nopal | Miel |
| Elote | INDUSTRIAL |
| Pera | Ingenio Azucarero |
| FLORICULTURA | 1. Parque industrial Cuautla
PEMEX Refinación |
| 1. Nochebuena | 2. Parque industrial Yecapixtla
Textiles |
| 2. Rosa | Ciudad Industrial del Valle de Cuernavaca
Automotriz |

LOCALIDADES MÁS POBLADAS

- 1 Cuernavaca
- 2 Jiutepec
- 3 Cuautla
- 4 Temixco
- 5 Emiliano Zapata
- 6 Yautepec de Zaragoza
- 7 Xoxocotla
- 8 Xochitepec
- 9 Zacatepec de Hidalgo
- 10 Tres de Mayo

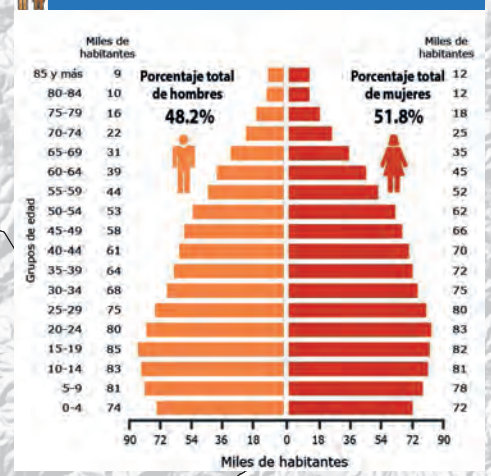


- GENERAL**
- ★ CAPITAL DEL ESTADO
 - LÍMITE ESTATAL
 - 📍 LOCALIDADES MÁS POBLADAS
- INFRAESTRUCTURA**
- AEROPUERTO INTERNACIONAL**
- Mariano Matamoros
- CULTURA**
- MUSEO**
1. Jardín Etnobotánico y de la Medicina Tradicional - Ciencias de Morelos - Proyecto Siqueiros: Sala de Arte Público Siqueiros - La Tallería - Morelense de Arte Contemporáneo Juan Soriano - Morelense de Arte Popular (MMAPO)
 2. Centro de Documentación Ex-Convento de Tepoztlán
 3. Mariano Matamoros
 4. Museo de Agrarismo Ex-Hacienda de Chinameca
 5. Histórico y Natural Calmecac
 6. Museo Vivencial 279
 7. Del Chinelo
 8. De la Caricatura y la Historieta
 9. Jardín Borda

- ZONA ARQUEOLÓGICA**
1. Xochicalco
 2. Chalcatzingo
 3. Las Pilas
 4. Chimalcatlán
- SITIO HISTÓRICO**
1. Ex-Hacienda de Coahuixtla
 2. Casa de Emiliano Zapata (Aneneuilco)
 3. Palacio de Cortés
 4. Hacienda de San José Vista Hermosa
 5. Ex-Hacienda de Chinameca
 6. Palacio Municipal de Cuautla
 7. Acueducto de Cuautla
- Ruta de Conventos:**
- A. La Asunción
 - B. La Natividad
 - C. Santo Domingo de Guzmán
 - D. San Juan Bautista
 - E. San Guillermo
 - F. San Mateo Apóstol
 - G. San Juan Bautista
 - H. Santiago Apóstol
 - I. La Inmaculada Concepción
 - J. Santo Domingo de Guzmán
 - K. San Juan Bautista
- NATURALEZA**
- ÁREA NATURAL PROTEGIDA**
- HIDROGRAFÍA**
- Lago, laguna o presa
 - Río perenne

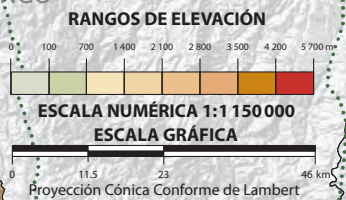
- PRINCIPAL ELEVACIÓN**
- C. Cerro
 - V. Volcán
- ECOSISTEMA**
- Bosque templado
 - Selva seca
- FAUNA**
- Tecolote
 - Zacatuche
 - Gallina de monte
 - Puma
 - Venado cola blanca
 - Lince
 - Iguana
- TURISMO**
- PUNTO TURÍSTICO**
1. Centro Vacacional IMSS
 2. Parque acuático en Tlalquitenango
 3. Parque Natural las Estacas
 4. Zoológico de Teacalco
 5. Jardín botánico Jardines de México
 6. Tepozteco
- PUEBLO MÁGICO**

POBLACIÓN POR EDAD Y SEXO



Nayarit

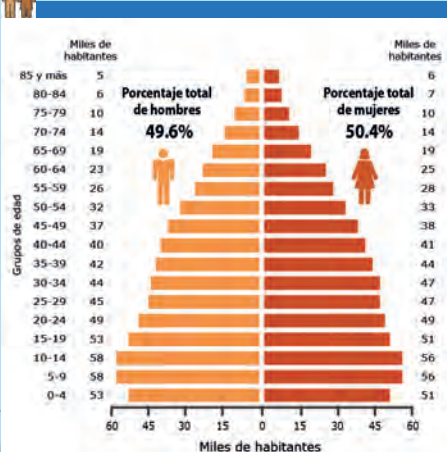
Capital: Tepic
Extensión: 27 856.5 km², 1.4% del territorio nacional
Municipios: 20
Población: 1 235 456 habitantes, 1.0% del total del país



- LOCALIDADES MÁS POBLADAS**
- 1 Tepic
 - 2 Xalisco
 - 3 San Vicente
 - 4 San José del Valle
 - 5 Ixtlán del Río
 - 6 Mezcales
 - 7 Tuxpan
 - 8 Compostela
 - 9 Acaponeta
 - 10 Santiago Ixcuintla

- PRINCIPALES ACTIVIDADES ECONÓMICAS**
- | AGRICOLA | PESQUERA |
|-----------------|--------------------------------------|
| Aguaate | Camarón |
| Arroz | Mojarra |
| Mango | Sardina |
| Agave | INDUSTRIAL |
| Jamaica | Ingenio azucarero |
| PECUARIA | FUENTES DE ENERGÍA HIDRÁULICA |
| Huevo | 1. Solidaridad |
| | 2. Leonardo Rodríguez Alcaine |
| | 3. Alfredo Elías Ayub |

POBLACIÓN POR EDAD Y SEXO



- GENERAL**
- ★ CAPITAL DEL ESTADO
 - LÍMITE ESTATAL
 - 📍 LOCALIDADES MÁS POBLADAS
- INFRAESTRUCTURA**
- ✈️ AEROPUERTO INTERNACIONAL Amado Nervo
 - 🚢 PUERTO DE ALTURA De San Blas
- CULTURA**
- 🏛️ MUSEO
 - 🏛️ SITO ARQUEOLÓGICO Los Toriles

- SITO HISTÓRICO**
1. Fuerte la Contaduría
 2. Museo de sitio de fábrica textil Bellavista - Casa Amado Nervo
 3. Basílica Lateranense de Nuestra Señora de la Asunción
- NATURALEZA**
- 🌿 ÁREA NATURAL PROTEGIDA
- HIDROGRAFÍA**
- 🌊 Laguna o presa
 - 🌊 Río perenne
- PRINCIPAL ELEVACIÓN**
- ⚡ C. Cerro V. Volcán
 - 🏔️ CASCADA El Cora
 - 🌊 MANANTIAL La Tovará

- ECOSISTEMA**
- 🌳 Pastizal
 - 🌳 Bosque templado
 - 🌳 Selva seca
 - 🌳 Bosque nublado
 - 🌳 Manglar
- FAUNA**
- 🐭 Armadillo
 - 🐻 Ballena jorobada
 - 🐊 Cocodrilo
 - 🐬 Delfín nariz de botella

- 🐸 Guajolote
- 🦎 Iguana verde
- 🐘 Jabalí
- 🐘 Jabalí de collar
- 🐆 Jaguar
- 🦉 Murciélago
- 🐆 Ocelote
- 🦉 Pato tepalcate
- 🐆 Puma
- 🐸 Salamandra
- 🐇 Tejón
- 🐢 Tortuga golfina
- 🐕 Venado cola blanca
- 🦅 Águila real
- TURISMO**
- PUNTO TURÍSTICO**

Nuevo León

100°

98°

28°

28°

26°

26°

24°

24°

100°

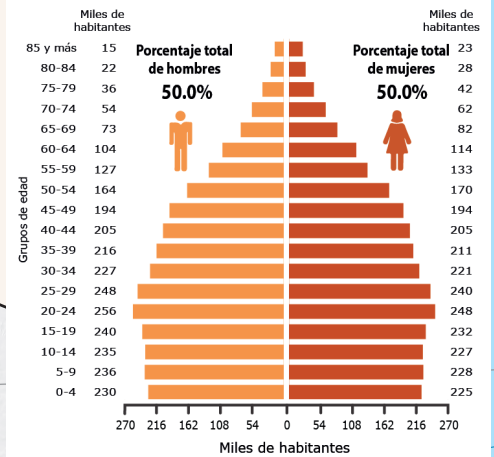
98°

Capital: Monterrey
Extensión: 64 156.2 km², 3.3% del territorio nacional
Municipios: 51
Población: 5 784 442 habitantes, 4.6% del total del país

LOCALIDADES MÁS POBLADAS

- 1 Monterrey
- 2 Guadalupe
- 3 Ciudad Apodaca
- 4 Ciudad General Escobedo
- 5 San Nicolás de los Garza
- 6 Ciudad Benito Juárez
- 7 Ciudad Santa Catarina
- 8 García
- 9 San Pedro Garza García
- 10 Cadereyta Jiménez

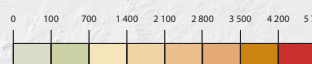
POBLACIÓN POR EDAD Y SEXO



ESCALA NUMÉRICA 1:2 000 000
 ESCALA GRÁFICA

Proyección Cónica Conforme de Lambert

RANGOS DE ELEVACIÓN



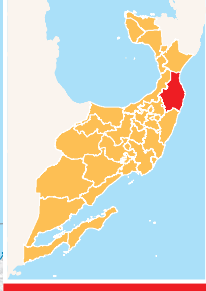
- | | | |
|---|---|--|
| GENERAL
<ul style="list-style-type: none"> ★ CAPITAL DEL ESTADO --- LÍMITE INTERNACIONAL — LÍMITE ESTATAL 📍 LOCALIDADES MÁS POBLADAS | NATURALEZA
<ul style="list-style-type: none"> 🌿 ÁREA NATURAL PROTEGIDA | <ul style="list-style-type: none"> 🦉 Tlacuache 🦅 Águila real 🦊 Murciélago 🐻 Oso negro americano 🐼 Cacomixtle 🐭 Musaraña 🐸 Lechuga de campanario 🐿 Zorrillo 🐇 Venado cola blanca |
| INFRAESTRUCTURA
<ul style="list-style-type: none"> ✈️ AEROPUERTO INTERNACIONAL ✈️ Mariano Escobedo | HIDROGRAFÍA
<ul style="list-style-type: none"> 🌊 Presa 🌊 Río perenne | MANANTIAL
<ul style="list-style-type: none"> 1. Ojo de agua de Sabinas 2. Ojo de agua de Lampazos |
| CULTURA
<ul style="list-style-type: none"> 🏛️ MUSEO 1. Regional de Nuevo León, El Obispedo - Metropolitano de Monterrey - Salón de la Fama del Beisbol Mexicano - De Arte Contemporáneo - De Historia Mexicana - Del Ferrocarril 2. Planetario Alfa 3. De la Memoria Viva 4. Histórico y Casa de la Cultura Valle del Pilón | PRINCIPAL ELEVACIÓN Cerro
<ul style="list-style-type: none"> 🏔️ CASCADA Cola de caballo | CUEVA, GRUTA
<ul style="list-style-type: none"> 1. Grutas de Bustamante 2. Grutas de García |
| SITIO ARQUEOLÓGICO
<ul style="list-style-type: none"> 🏛️ 1. Icamole 2. Boca de Potrerillos | ECOSISTEMA
<ul style="list-style-type: none"> 🌳 Matorral 🌳 Pastizal 🌳 Bosque templado | PUNTO TURÍSTICO
<ul style="list-style-type: none"> 1. Parque Fundidora 2. Parque el Salto 3. Parque Chipinque - Parque la Huasteca 4. Bioparque Estrella 5. Parque el Sabinal 6. Puente colgante de Hualahuisés 7. Puente Solidaridad - Colombia |
| SITIO HISTÓRICO
<ul style="list-style-type: none"> 🏛️ 1. Museo Bernabé de las Casas 2. Estatua ecuestre de Mariano Escobedo 3. Catedral de San Felipe Apóstol 4. Palacio del Obispedo - Catedral de Monterrey - Antiguo palacio municipal de Monterrey - Edificio del Colegio Civil - Antigua Estación del Golfo 5. Casa del Campesino | FAUNA
<ul style="list-style-type: none"> 🐺 Coyote 🐾 Correcaminos 🐺 Lince 🐾 Zorra gris 🐢 Tortuga terrestre 🐾 Perrito de la pradera | TURISMO DEPORTIVO
<ul style="list-style-type: none"> 1. Matacanes, ecoturismo 2. Potrero Chico, parque recreativo 3. Anahuac, caza deportiva 4. General Terán, caza deportiva 5. Dolina Pozo del Gavilán, ecoturismo |

PRINCIPALES ACTIVIDADES ECONÓMICAS

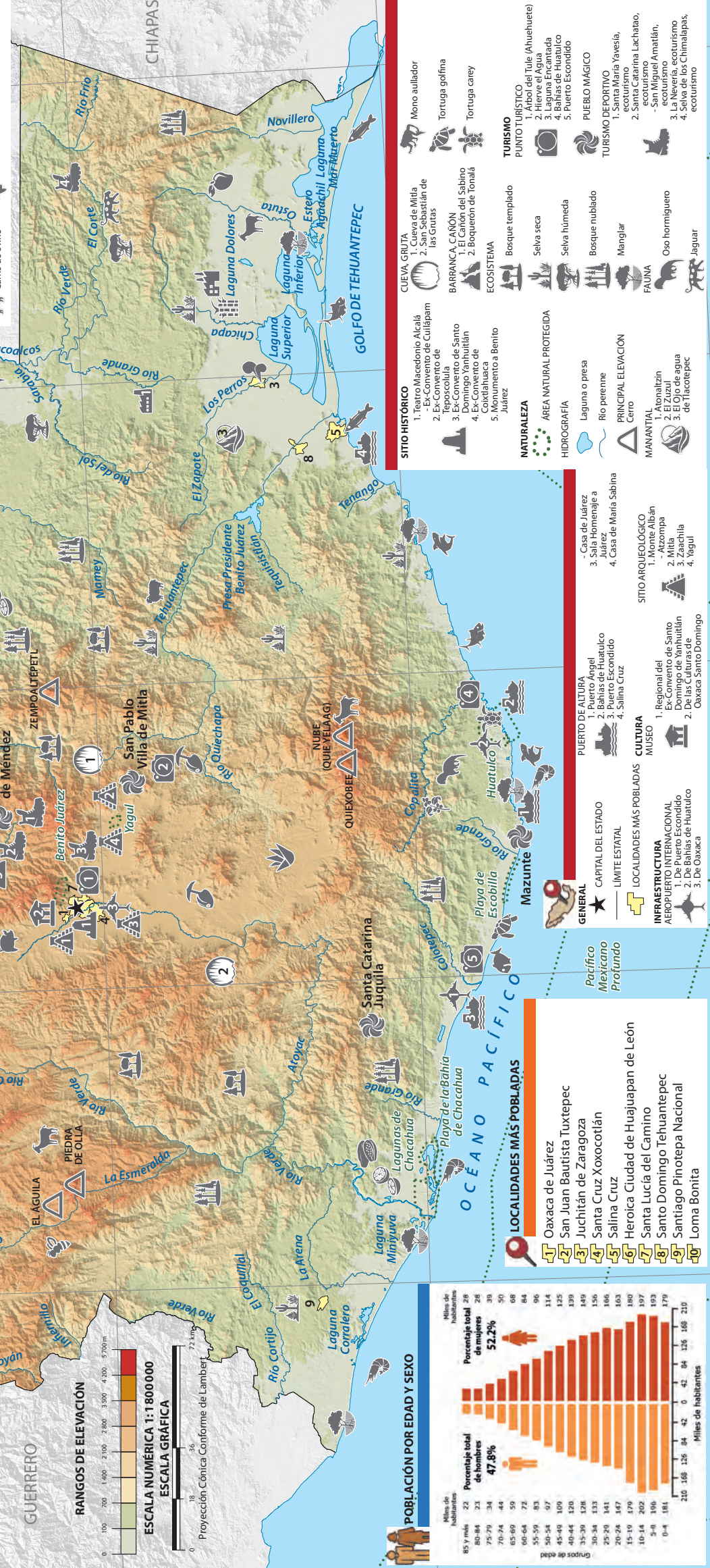
- | | |
|--|--|
| AGRÍCOLA
<ul style="list-style-type: none"> 🍊 Naranja y toronja 🥜 Nuez 🍏 Manzana 🌿 Ajo | <ul style="list-style-type: none"> 🐐 Carne de caprino 🥚 Huevo |
| PECUARIA
<ul style="list-style-type: none"> 🐔 Carne de ave | INDUSTRIAL
<ul style="list-style-type: none"> 🏭 1. Hierro y acero 2. Refinería |

Oaxaca

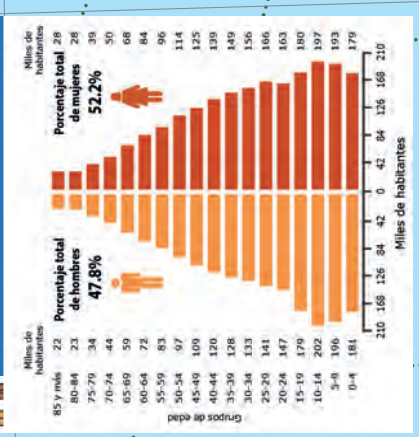
Capital: Oaxaca de Juárez
Extensión: 93 757.6 km², 4.8% del territorio nacional
Municipios: 570
Población: 4 132 148 habitantes, 3.3% del total del país



- ### PRINCIPALES ACTIVIDADES ECONÓMICAS
- AGRICOLA**
 - Caña de azúcar
 - Limón
 - Mango
 - Papaya
 - Agave
 - Café
 - PECUARIA**
 - Carne de caprino
 - Miel
 - Carne de porcino
 - Camaron
 - Huachinango
 - Tiburón
 - Atún
 - Sardina
 - Carne de ovino
 - INDUSTRIAL**
 - 1. Cementera
 - 2. Celulosa
 - PEQUERA**
 - Ingenio azucarero
 - FUENTES DE ENERGÍA**
 - EOLICA
 - La Venta
 - HIDRAULICA
 - Temascal II



POBLACIÓN POR EDAD Y SEXO



LOCALIDADES MÁS POBLADAS

- Oaxaca de Juárez
- San Juan Bautista Tuxtepec
- Juchitán de Zaragoza
- Santa Cruz Xoxocotlán
- Salina Cruz
- Heroica Ciudad de Huajuapán de León
- Santa Lucía del Camino
- Santo Domingo Tehuantepec
- Santiago Pinotepec Nacional
- Loma Bonita

- ### GENERAL
- ★ CAPITAL DEL ESTADO
 - LÍMITE ESTATAL
 - LOCALIDADES MÁS POBLADAS
- ### INFRAESTRUCTURA AEROPUERTO INTERNACIONAL
- De Puerto Escondido
 - De las Culturas de Oaxaca-Santo Domingo
 - De Huatulco
- ### CULTURA MUSEO
- Regional del Ex-Convento de Santo Domingo de Yanhuitlán
 - De las Culturas de Oaxaca-Santo Domingo
 - Zaachila
 - Yagul

- ### PUERTO DE ALTURA
- Puerto Ángel
 - Puerto Huelmo
 - Puerto Escondido
 - Salina Cruz
- ### SITIO ARQUEOLÓGICO
- Monte Albán
 - Atzompa
 - Mitla
 - Zaachila
 - Yagul

- ### PUERTO DE ALTIURA
- Puerto Ángel
 - Puerto Huelmo
 - Puerto Escondido
 - Salina Cruz
- ### SITIO ARQUEOLÓGICO
- Monte Albán
 - Atzompa
 - Mitla
 - Zaachila
 - Yagul

- ### SITIO HISTÓRICO
- Teatro Macedonio Alcalá
 - Ex-Convento de Cuilapam
 - Ex-Convento de Teoscolula
 - Ex-Convento de Santo Domingo Yanhuitlán
 - Ex-Convento de Coxtilahuaca
 - Monumento a Benito Juárez
- ### NATURALEZA
- ÁREA NATURAL PROTEGIDA
 - Laguna o presa
 - Río perenne
 - PRINCIPAL ELEVACIÓN
 - Cerro
 - MANANTIAL
 - 1. Atonalzih
 - 2. El Zuzul
 - 3. El Ojo de agua de Itatepec
- ### HIDROGRAFÍA
- Laguna o presa
 - Río perenne
- ### SITIO HISTÓRICO
- Cueva Gruta
 - Cueva de Mitla
 - San Sebastián de las Grutas
- ### BARRANCA CAÑÓN
- El Cañón del Sabino
 - Boquerón de Itonalá
- ### ECOSISTEMA
- Bosque templado
 - Selva seca
 - Selva húmeda
 - Bosque nublado
 - Manglar
- ### FAUNA
- Oso hormiguero
 - Jaguar
- ### TURISMO PUNTO TURÍSTICO
- Arbol del Tule (Ahuehuete)
 - Hierve el Agua
 - Laguna Encantada
 - Las Grutas de Juanico
 - Puerto Escondido
- ### PUERTO MÁGICO
- Santa María Yavesia, ecoturismo
 - Santa Catarina Lachatao, ecoturismo
 - San Mateo Amatlán, ecoturismo
 - La Naveja, ecoturismo
 - Selva de los Chimalapas, ecoturismo
- ### TURISMO DEPORTIVO
- Santa María Yavesia, ecoturismo
 - Santa Catarina Lachatao, ecoturismo
 - San Mateo Amatlán, ecoturismo
 - La Naveja, ecoturismo
 - Selva de los Chimalapas, ecoturismo

Puebla

Capital: Heroica Puebla de Zaragoza
Extensión: 34 309.6 km², 1.7% del territorio nacional
Municipios: 217
Población: 6 583 278 habitantes, 5.2% del total del país

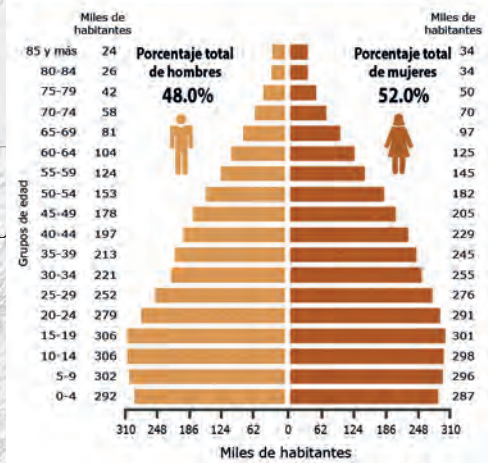


PRINCIPALES ACTIVIDADES ECONÓMICAS

AGRÍCOLA	Carne de ovino	INDUSTRIAL
Amaranto	Carne de caprino	Automotriz
Elote	Carne de ave	Ingenio azucarero
Pera		
EXPLORACIÓN FORESTAL		
Oyamel		
AGROINDUSTRIAL		FUENTES DE ENERGÍA
Sidra		GEOTÉRMICA
PECUARIA	MINERA	Los Humeros
Huevo	Sal	HIDRÁULICA
Carne de porcino		1. Central Necaxa
		2. Central Tepexic
		3. Central Patla
		4. Mazatepec

GOLFO DE MÉXICO

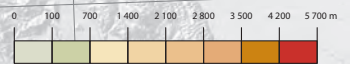
POBLACIÓN POR EDAD Y SEXO



LOCALIDADES MÁS POBLADAS

- Heroica Puebla de Zaragoza
- Tehuacán
- Cholula de Rivadavia
- San Bernardino Tlaxcalancingo
- Amozoc de Mota
- Atlixco
- San Martín Texmelucan de Labastida
- Teziutlán
- Huachinango
- Izúcar de Matamoros

RANGOS DE ELEVACIÓN



ESCALA NUMÉRICA 1:1 300 000
 ESCALA GRÁFICA

Proyección Cónica Conforme de Lambert

GENERAL

- CAPITAL DEL ESTADO
- LÍMITE ESTATAL
- LOCALIDADES MÁS POBLADAS
- INFRAESTRUCTURA**
- AEROPUERTO INTERNACIONAL
- 1. Hermanos Serdán
- 2. Tehuacán
- OBSERVATORIO**
- 1. Gran Telescopio Milimétrico Alfonso Serrano y Observatorio de Rayos Gamma HAWC
- 2. Observatorio Astrofísico Nacional Tonantzintla

CULTURA

- MUSEO**
- 1. Nacional de los Ferrocarriles Mexicanos
- 2. Ex-Convento de Huejotzingo
- 3. Museo de la Evangelización
- 4. Del Valle de Tehuacán
- 5. Regional Mixteco Tlayúa
- 6. Comunitario Paleontológico de San Juan Raya
- SITIO ARQUEOLÓGICO**
- 1. Cholula
- 2. Los Cerritos
- 3. Tepapayeca
- 4. Tehuacán Viejo
- 5. Yohualichan

SITIO HISTÓRICO

- Fuerte de Guadalupe
- Cholula
- Ex-Hacienda de Chautla
- Ex-Convento San Miguel Arcángel, Huejotzingo
- Ex-Convento de San Andrés Calpan
- NATURALEZA**
- ÁREA NATURAL PROTEGIDA
- HIDROGRAFÍA**
- Lago o laguna
- Río perenne
- PRINCIPAL ELEVACIÓN**
- V. Volcán
- C. Cerro

CASCADA

- De Akuatipak
- Las Golondrinas
- El Salto de Quetzalapa
- De Puxtla
- De Tulimán
- Cola de Caballo
- CAVERNA**
- Puente de Dios
- ECOSISTEMA**
- Matorral
- Pastizal
- Bosque templado

FAUNA

- Selva seca
- Selva húmeda
- Zorra gris
- Lagarto de Gila
- Pecarí de collar
- Zopilote
- Tlacuache

TURISMO

- PUNTO TURÍSTICO**
- 1. Centro de Puebla
- 2. Laguna de Chignahuapan o de Almoloya
- 3. Granjas piscícolas de Atlixco
- 4. Paraísos Indígenas Hostel Tosepan Kali
- PUEBLO MÁGICO**
- TURISMO DEPORTIVO**
- Río San Marcos, caminata

Querétaro



Capital: Santiago de Querétaro
Extensión: 11 690.6 km²,
 0.6% del territorio nacional
Municipios: 18
Población: 2 368 467 habitantes,
 1.9% del total del país

LOCALIDADES MÁS POBLADAS

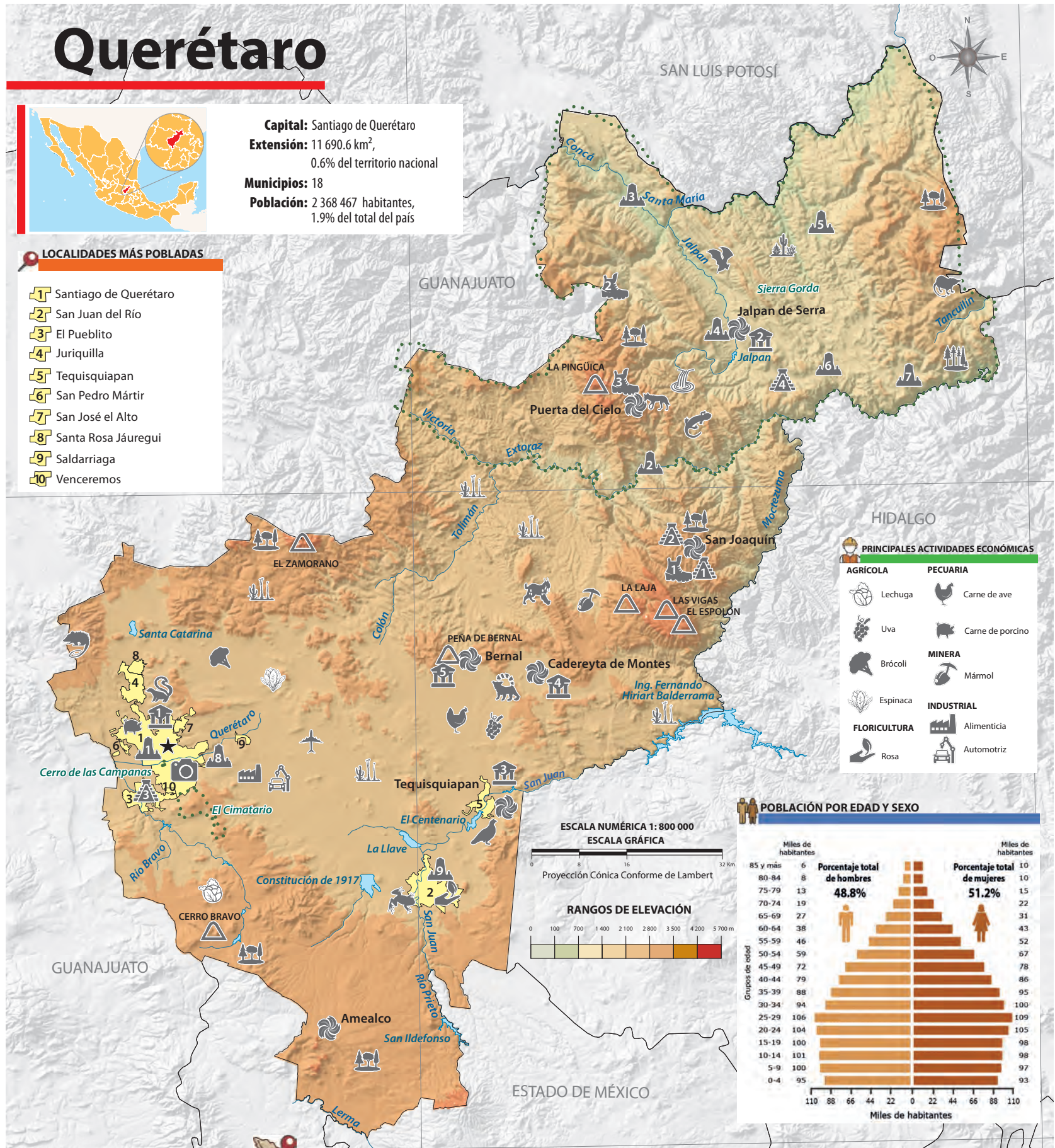
- 1 Santiago de Querétaro
- 2 San Juan del Río
- 3 El Pueblito
- 4 Juriquilla
- 5 Tequisquiapan
- 6 San Pedro Mártir
- 7 San José el Alto
- 8 Santa Rosa Jáuregui
- 9 Saldarriaga
- 10 Venceremos

21°

21°

20°

20°

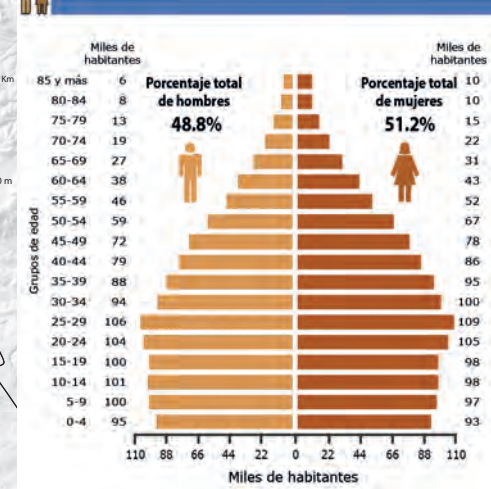


HIDALGO

PRINCIPALES ACTIVIDADES ECONÓMICAS

AGRÍCOLA	PECUARIA	MINERA	INDUSTRIAL
Lechuga	Carne de ave	Mármol	Alimenticia
Uva	Carne de porcino		Automotriz
Brócoli			
Espinaca			
Rosa			

POBLACIÓN POR EDAD Y SEXO



- GENERAL**
- CAPITAL DEL ESTADO
 - LÍMITE ESTATAL
 - LOCALIDADES MÁS POBLADAS
- INFRAESTRUCTURA**
- AEROPUERTO INTERNACIONAL
 - Intercontinental de Querétaro
- CULTURA**
- MUSEO
 - 1. Regional de Querétaro
 - 2. Histórico de la Sierra Gorda de Querétaro
 - 3. Del Queso y el Vino Tierra de Alonso
 - 4. Planetario Dr. José Hernández Moreno
 - 5. Del Cine Nacional Rosalío Solano - De la Máscara
- SITIO ARQUEOLÓGICO**
- 1. Toluquilla
 - 2. Ranas
 - 3. El Cerrito
 - 4. Tancamá

- SITIO HISTÓRICO**
- Cerro de las Campanas
 - Acueducto
 - Teatro de la República
 - Estación de Ferrocarril
 - Misión de Bucareli
 - Misión de San Miguel Conca
 - Misión de Jalpan
 - Misión de Nuestro Señor Santiago Apóstol
 - Misión de Nuestra Señora de la Luz de Tancoyol
 - Misión Landa de Matamoros
 - Misión de San Francisco de Asís del Valle de Tilaco
 - Iglesia Chiquita de la Cañada
 - Fuente de la Historia
- NATURALEZA**
- HIDROGRAFÍA**
- ÁREA NATURAL PROTEGIDA
 - Presa
 - Río perenne
- PRINCIPAL ELEVACIÓN**
- Cerro

- CASCADA**
- El Chuveje
- ECOSISTEMA**
- Matorral
 - Bosque templado
 - Bosque nublado
 - Selva seca
 - Pastizal
- FAUNA**
- Coyote
 - Zorrillo

- Huilota
 - Murciélago
 - Rana leopardo de Moctezuma
 - Lince
 - Tlacuache
 - Cacomixtle
 - Musaraña
 - Salamandra
- TURISMO**
- PUNTO TURÍSTICO**
- Zona de Monumentos Históricos de Querétaro
 - Templo Santa Rosa de Viterbo
 - Templo de la Santa Cruz
- PUEBLO MÁGICO**
- TURISMO DEPORTIVO**
- Grutas los Herrera, senderismo, campismo, paseos
 - Sótano del Barro, senderismo, paseos
 - Puerta del Cielo, senderismo, campismo

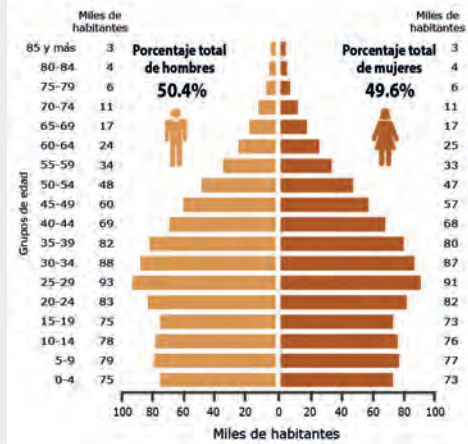
Quintana Roo GOLFOS DE MÉXICO

22°



Capital: Chetumal
Extensión: 44 705.2 km², 2.3% del territorio nacional
Municipios: 11
Población: 1 857 985 habitantes, 1.5% del total del país

POBLACIÓN POR EDAD Y SEXO



YUCATÁN

20°

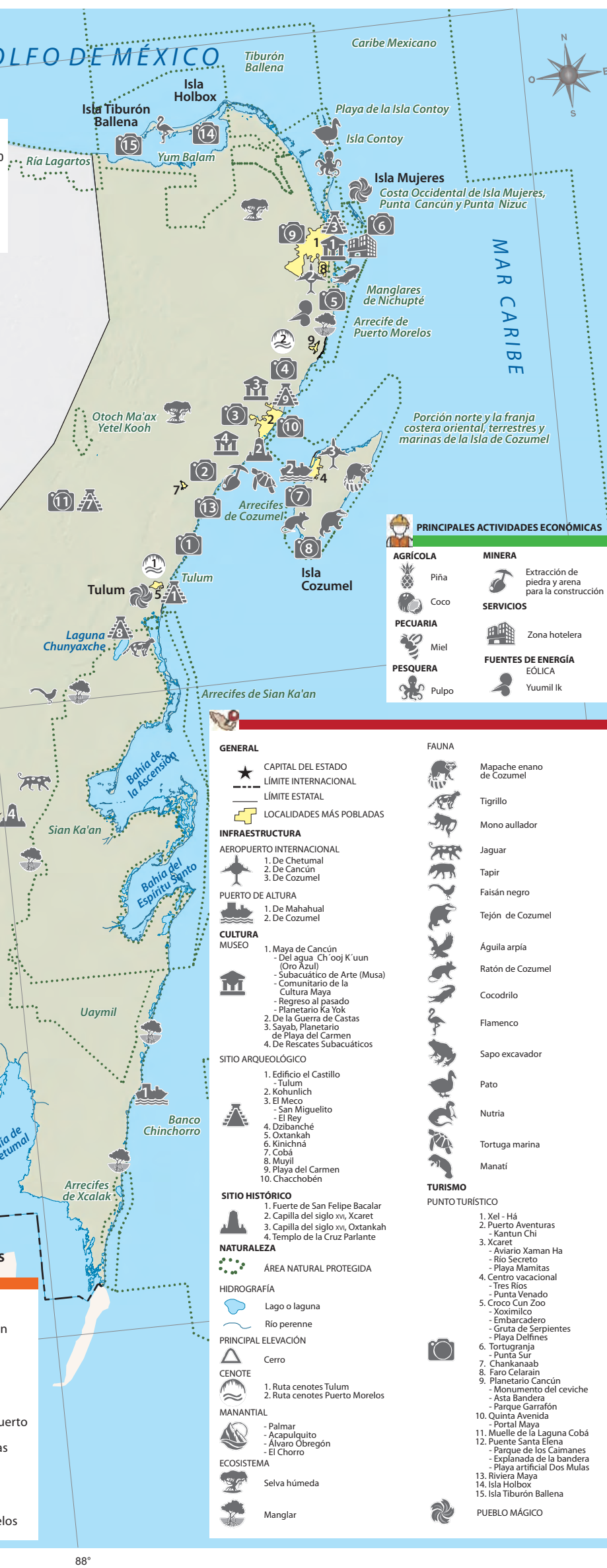
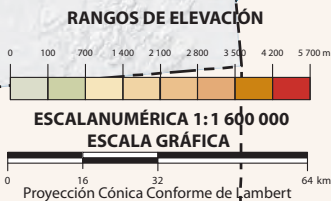
18°

CAMPECHE

BELICE

LOCALIDADES MÁS POBLADAS

- 1 Cancún
- 2 Playa del Carmen
- 3 Chetumal
- 4 Cozumel
- 5 Tulum
- 6 Felipe Carrillo Puerto
- 7 Puerto Aventuras
- 8 Alfredo V. Bonfil
- 9 Puerto Morelos
- 10 José María Morelos



PRINCIPALES ACTIVIDADES ECONÓMICAS

AGRÍCOLA	MINERA
Piña	Extracción de piedra y arena para la construcción
Coco	SERVICIOS
Miel	Zona hotelera
Pulpo	FUENTES DE ENERGÍA
	EÓLICA
	Yuumil Ik

GENERAL

- CAPITAL DEL ESTADO
- LÍMITE INTERNACIONAL
- LÍMITE ESTATAL
- LOCALIDADES MÁS POBLADAS

INFRAESTRUCTURA

AEROPUERTO INTERNACIONAL

- De Chetumal
- De Cancún
- De Cozumel

PUERTO DE ALTURA

- De Mahahual
- De Cozumel

CULTURA

MUSEO

- Maya de Cancún - Del agua Ch'ooj K'uun (Oro Azul) - Subacuático de Arte (Musa) - Comunitario de la Cultura Maya - Regreso al pasado Planetario Ka Yok
- De la Guerra de Castas
- Sayab, Planetario de Playa del Carmen
- De Rescates Subacuáticos

SITIO ARQUEOLÓGICO

- Edificio el Castillo - Tulum
- Kohunlich
- El Meco - San Miguelito - El Rey
- Dzibanché
- Oxtankah
- Kinichná
- Cobá
- Muyil
- Playa del Carmen
- Chacchobén

SITIO HISTÓRICO

- Fuerte de San Felipe Bacalar
- Capilla del siglo XVI, Xcaret
- Capilla del siglo XVI, Oxtankah
- Templo de la Cruz Parlante

NATURALEZA

ÁREA NATURAL PROTEGIDA

HIDROGRAFÍA

- Lago o laguna
- Río perenne

PRINCIPAL ELEVACIÓN

- Cerro

CENOTE

- Ruta cenotes Tulum
- Ruta cenotes Puerto Morelos

MANANTIAL

- Palmar
- Acapulquito
- Álvaro Obregón
- El Chorro

ECOSISTEMA

- Selva húmeda
- Manglar

FAUNA

- Mapache enano de Cozumel
- Tigrillo
- Mono aullador
- Jaguar
- Tapir
- Faisán negro
- Tejón de Cozumel
- Águila arpía
- Ratón de Cozumel
- Cocodrilo
- Flamenco
- Sapo excavador
- Pato
- Nutria
- Tortuga marina
- Manatí

TURISMO

PUNTO TURÍSTICO

- Xel - Há
- Puerto Aventuras - Kantun Chi
- Xcaret - Aviario Xaman Ha - Río Secreto - Playa Mamitas
- Centro vacacional - Tres Ríos - Punta Venado
- Croco Cun Zoo - Xoximilco - Embarcadero - Gruta de Serpientes - Playa Delfines
- Tortugranja - Punta Sur
- Chankanaab
- Faro Celarain
- Planetario Cancún - Monumento del ceviche - Asta Bandera - Parque Garrafón
- Quinta Avenida - Portal Maya
- Muelle de la Laguna Cobá
- Puente Santa Elena - Parque de los Caimanes - Explanada de la bandera - Playa artificial Dos Mulas
- Riviera Maya
- Isla Holbox
- Isla Tiburón Ballena

PUEBLO MÁGICO

88°

San Luis Potosí

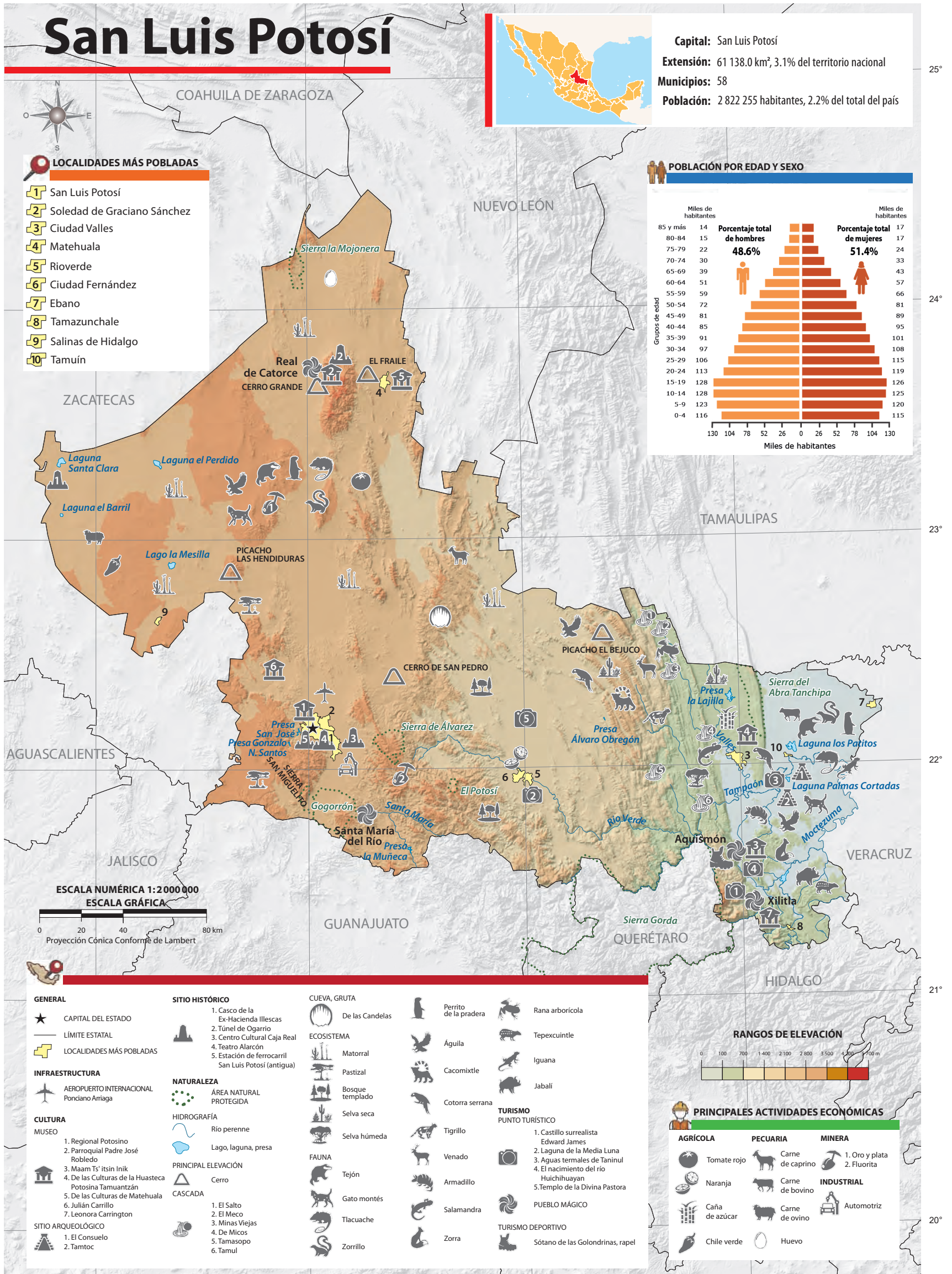
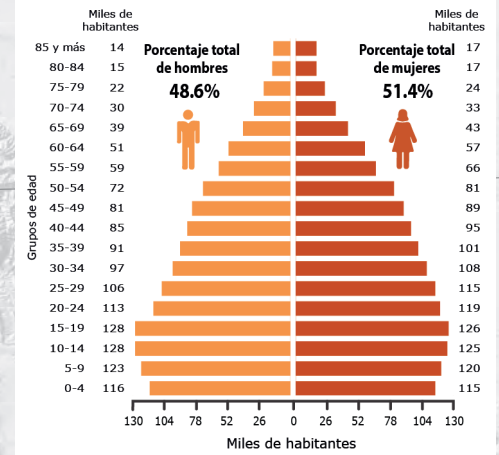


Capital: San Luis Potosí
Extensión: 61 138.0 km², 3.1% del territorio nacional
Municipios: 58
Población: 2 822 255 habitantes, 2.2% del total del país

LOCALIDADES MÁS POBLADAS

- 1 San Luis Potosí
- 2 Soledad de Graciano Sánchez
- 3 Ciudad Valles
- 4 Matehuala
- 5 Rioverde
- 6 Ciudad Fernández
- 7 Ebano
- 8 Tamazunchale
- 9 Salinas de Hidalgo
- 10 Tamuín

POBLACIÓN POR EDAD Y SEXO



- GENERAL**
- ★ CAPITAL DEL ESTADO
 - LÍMITE ESTATAL
 - 📍 LOCALIDADES MÁS POBLADAS
- INFRAESTRUCTURA**
- ✈️ AEROPUERTO INTERNACIONAL Ponce de León Arriaga
- CULTURA**
- MUSEO**
1. Regional Potosino
 2. Parroquial Padre José Robledo
 3. Maam Ts'itsin Inik
 4. De las Culturas de la Huasteca Potosina Tamuantzán
 5. De las Culturas de Matehuala
 6. Julián Carrillo
 7. Leonora Carrington
- SITIO ARQUEOLÓGICO**
1. El Consuelo
 2. Tamtoc

- SITIO HISTÓRICO**
1. Casco de la Ex-Hacienda Illescas
 2. Túnel de Ogarrio
 3. Centro Cultural Caja Real
 4. Teatro Alarcón
 5. Estación de ferrocarril San Luis Potosí (antigua)
- NATURALEZA**
- ÁREA NATURAL PROTEGIDA**
- HIDROGRAFÍA**
- 🌊 Río perenne
 - 🌊 Lago, laguna, presa
- PRINCIPAL ELEVACIÓN**
- 🏔️ Cerro
- CASCADA**
1. El Salto
 2. El Meco
 3. Minas Viejas
 4. De Micos
 5. Tamasopo
 6. Tamul

- CUEVA, GRUTA**
- 🕒 De las Candelas
- ECOSISTEMA**
- 🌿 Matorral
 - 🌿 Pastizal
 - 🌿 Bosque templado
 - 🌿 Selva seca
 - 🌿 Selva húmeda
- FAUNA**
- 🐾 Tejón
 - 🐾 Gato montés
 - 🐾 Tlacuache
 - 🐾 Zorrillo

- 🐾 Perrito de la pradera
- 🦅 Águila
- 🐾 Cacomixtle
- 🐾 Cotorra serrana
- 🐾 Tigrillo
- 🐾 Venado
- 🐾 Armadillo
- 🐾 Salamandra
- 🐾 Zorra

- 🐸 Rana arborícola
 - 🐸 Tepexcuinte
 - 🐸 Iguana
 - 🐾 Jabalí
- TURISMO**
- PUNTO TURÍSTICO**
1. Castillo surrealista Edward James
 2. Laguna de la Media Luna
 3. Aguas termales de Taninul
 4. El nacimiento del río Huichihuayan
 5. Templo de la Divina Pastora
- PUEBLO MÁGICO**
- TURISMO DEPORTIVO**
- 👟 Sótano de las Golondrinas, rapel

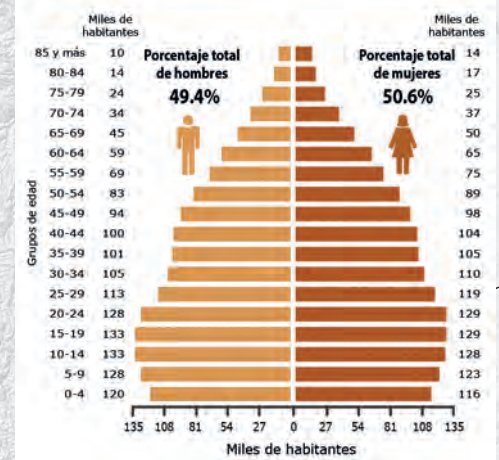
- RANGOS DE ELEVACIÓN**
-
- PRINCIPALES ACTIVIDADES ECONÓMICAS**
- AGRÍCOLA**
- 🍅 Tomate rojo
 - 🍊 Naranja
 - 🌾 Caña de azúcar
 - 🌿 Chile verde
- PECUARIA**
- 🐄 Carne de caprino
 - 🐄 Carne de bovino
 - 🐄 Carne de ovino
 - 🥚 Huevo
- MINERA**
1. Oro y plata
 2. Fluorita
- INDUSTRIAL**
- 🏭 Automotriz

Sinaloa



Capital: Culiacán Rosales
Extensión: 57 365.4 km², 2.9% del territorio nacional
Municipios: 18
Población: 3 026 943 habitantes, 2.4% del total del país

POBLACIÓN POR EDAD Y SEXO



LOCALIDADES MÁS POBLADAS


- 1 Culiacán Rosales
- 2 Mazatlán
- 3 Los Mochis
- 4 Guasave
- 5 Guamúchil
- 6 Escuinapa de Hidalgo
- 7 Licenciado Benito Juárez
- 8 Navolato
- 9 Costa Rica
- 10 Gabriel Leyva Solano

RANGOS DE ELEVACIÓN



ESCALA NUMÉRICA 1:2 000 000

ESCALA GRÁFICA



Proyección Cónica Conforme de Lambert



GENERAL

- ★ CAPITAL DEL ESTADO
 - LÍMITE ESTATAL
 - 📍 LOCALIDADES MÁS POBLADAS
- ### INFRAESTRUCTURA
- ✈️ AEROPUERTO INTERNACIONAL
 1. Federal de Culiacán
 2. General Rafael Buelna
 - 🚢 PUERTO DE ALTURA
 1. Topolobampo
 2. Mazatlán
- ### CULTURA
- #### MUSEO
1. Arqueológico de Mazatlán
 2. Centro de Ciencias de Sinaloa
 3. De Minería e Historia
 4. De Arte de Sinaloa
 5. Del Mar
 6. A Pedro Infante
- #### SITIO ARQUEOLÓGICO
- Las Labradas
- #### SITIO HISTÓRICO
1. Teatro Ángela Peralta
 2. Casa del Marino
 3. Templo de San Sebastián
 4. Colegio Civil Rosales
 5. Templo de San Francisco de Asís
 6. Aduana Marítima
 7. Escuela Benito Juárez

NATURALEZA

- 🌿 ÁREA NATURAL PROTEGIDA
- ### HIDROGRAFÍA
- 🌊 Río perenne
 - 🌊 Laguna y presa
 - ⚡ PRINCIPAL ELEVACIÓN Cerro
 - 🌊 CASCADA
 - Vado hondo
- ### ECOSISTEMA
- 🌿 Matorral
 - 🌳 Bosque templado
 - 🌿 Selva seca
 - 🌿 Manglar
- ### FAUNA
- 🦎 Lagarto escorpión
 - 🐼 Puercoespín
 - 🐻 Tlacoyote

- 🐍 Culebra suelera
 - 🐆 Ocelote
 - 🐾 Tayra
 - 🐊 Cocodrilo
 - 🐋 Ballena gris
 - 🦎 Iguana
- ### TURISMO
- #### PUNTO TURÍSTICO
1. Faro de Mazatlán
 2. Jardín Botánico de Culiacán
 - Puente Negro (ferroviario)
 - Zoológico de Culiacán
 3. Acuario de Mazatlán
 4. Altata
- #### PUEBLO MÁGICO



PRINCIPALES ACTIVIDADES ECONÓMICAS

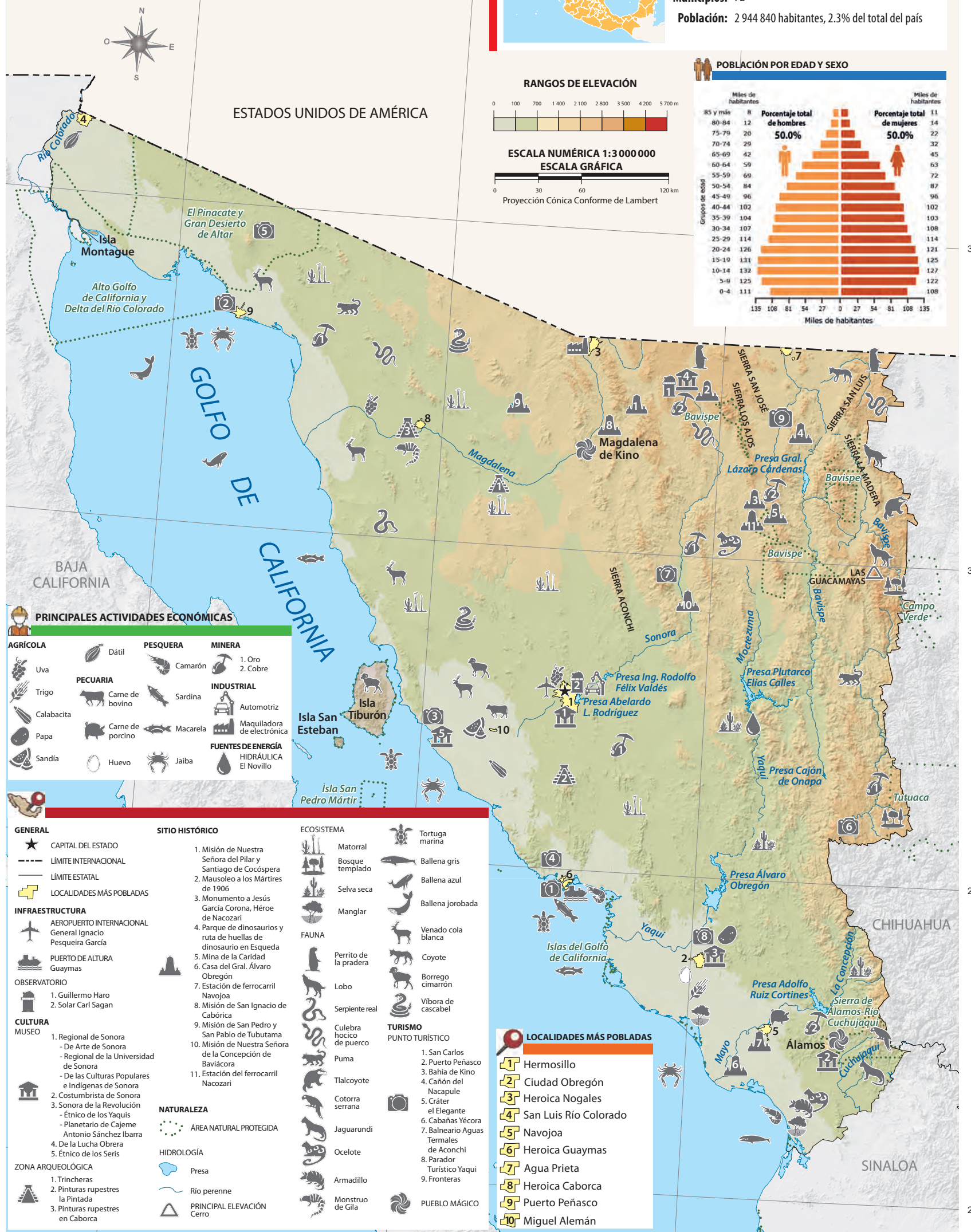
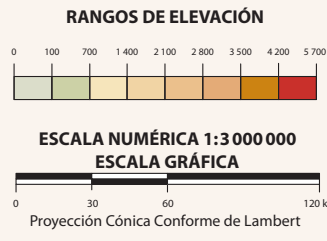
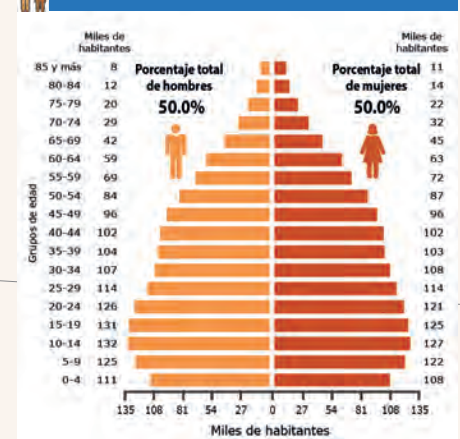
- | | | | | | | |
|-----------------|---------------|-------------------|-----------------|-----------|--------------------------------------|-------------|
| AGRÍCOLA | 🍅 Tomate rojo | 🌾 Papa | PESQUERA | 🐟 Camarón | MINERA | 🏠 Oro |
| | 🌾 Maíz | 🐄 Carne de bovino | | 🐟 Atún | FUENTES DE ENERGÍA HIDRÁULICA | 1. Huites |
| | 🌿 Chile verde | 🥚 Huevo | | 🐟 Sardina | | 2. Bacurato |
| | 🌾 Frijol | 🐔 Carne de ave | | | | 3. Humaya |
| | | | | | | 4. Comedero |

Sonora



Capital: Hermosillo
Extensión: 179 354.7 km², 9.1% del territorio nacional
Municipios: 72
Población: 2 944 840 habitantes, 2.3% del total del país

POBLACIÓN POR EDAD Y SEXO



PRINCIPALES ACTIVIDADES ECONÓMICAS

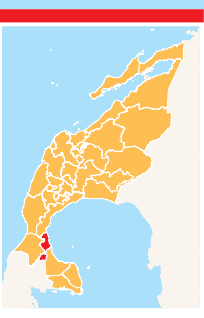
AGRÍCOLA	PESQUERA	MINERA
Uva	Camarón	1. Oro
Trigo	Carne de bovino	2. Cobre
Calabacita	Sardina	
Papa	Carne de porcino	INDUSTRIAL
Sandía	Huevo	Automotriz
		Maquiladora de electrónica
		FUENTES DE ENERGÍA
		HIDRÁULICA
		El Novillo

GENERAL	SITIO HISTÓRICO	ECOSISTEMA	FAUNA	TURISMO
★ CAPITAL DEL ESTADO	1. Misión de Nuestra Señora del Pilar y Santiago de Cocospera	Matorral	Tortuga marina	1. San Carlos
--- LÍMITE INTERNACIONAL	2. Mausoleo a los Mártires de 1906	Bosque templado	Ballena gris	2. Puerto Peñasco
— LÍMITE ESTATAL	3. Monumento a Jesús García Corona, Héroe de Nacoziari	Selva seca	Ballena azul	3. Bahía de Kino
📍 LOCALIDADES MÁS POBLADAS	4. Parque de dinosaurios y ruta de huellas de dinosaurio en Esqueda	Manglar	Ballena jorobada	4. Cañón del Nacapule
INFRAESTRUCTURA	5. Mina de la Caridad		Venado cola blanca	5. Cráter el Elegante
✈️ AEROPUERTO INTERNACIONAL	6. Casa del Gral. Álvaro Obregón		Coyote	6. Bañerío Aguas Termales de Aconchi
🚢 PUERTO DE ALTURA	7. Estación de ferrocarril Navojoa		Borrego cimarrón	7. Parador Turístico Yaqui
Guaymas	8. Misión de San Ignacio de Cabórica		Vibora de cascabel	8. Fronteras
OBSERVATORIO	9. Misión de San Pedro y San Pablo de Tubutama			
1. Guillermo Haro	10. Misión de Nuestra Señora de la Concepción de Baviácora			
2. Solar Carl Sagan	11. Estación del ferrocarril Nacoziari			
CULTURA				
MUSEO				
1. Regional de Sonora				
- De Arte de Sonora				
- Regional de la Universidad de Sonora				
- De las Culturas Populares e Indígenas de Sonora				
2. Costumbrista de Sonora				
- Étnico de los Yaquis				
- Planetario de Cajeme				
- Antonio Sánchez Ibarra				
3. Sonora de la Revolución				
- Étnico de los Seris				
4. De la Lucha Obrera				
5. Étnico de los Seris				
ZONA ARQUEOLÓGICA				
1. Trincheras				
2. Pinturas rupestres la Pintada				
3. Pinturas rupestres en Caborca				

LOCALIDADES MÁS POBLADAS

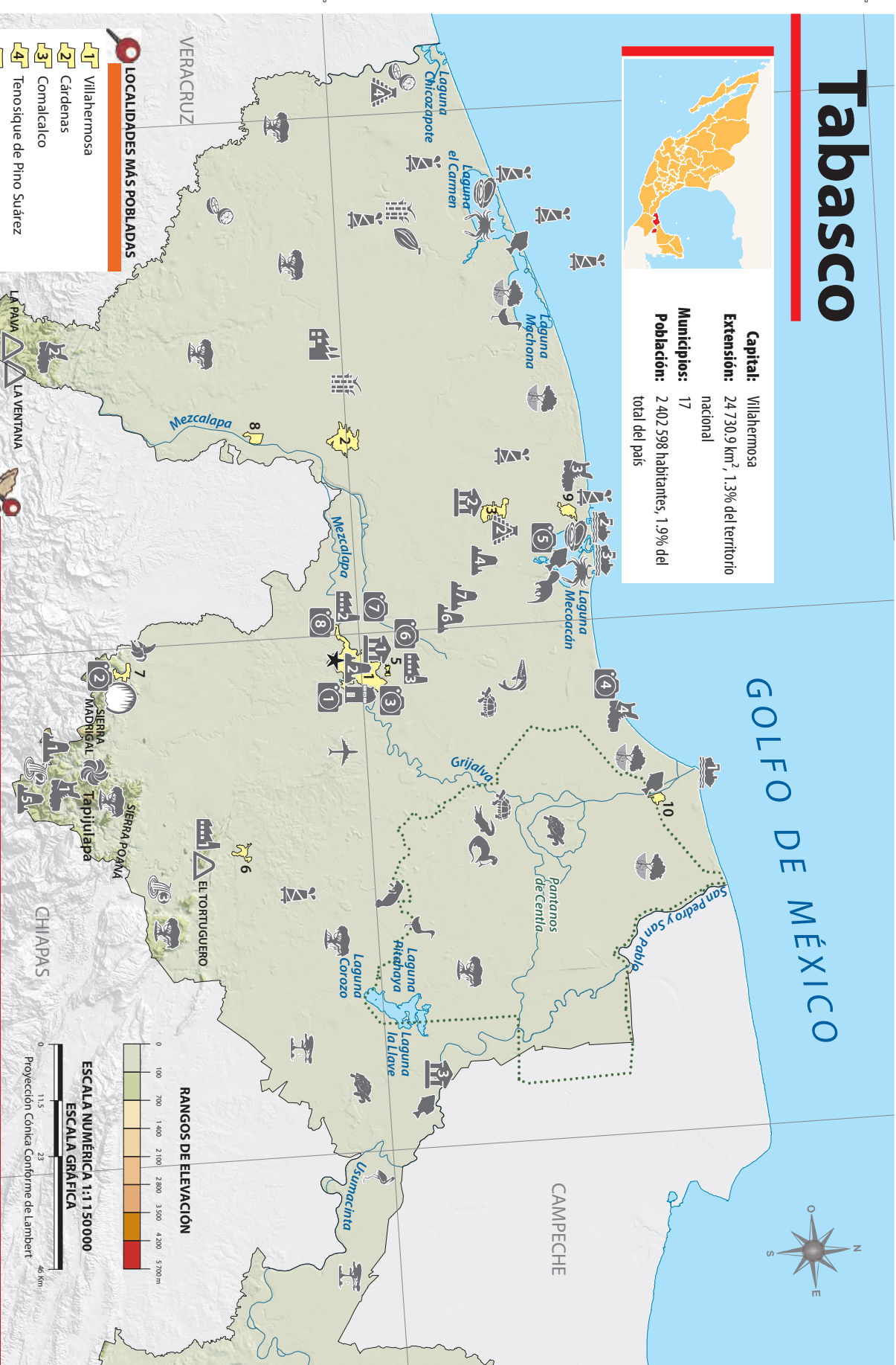
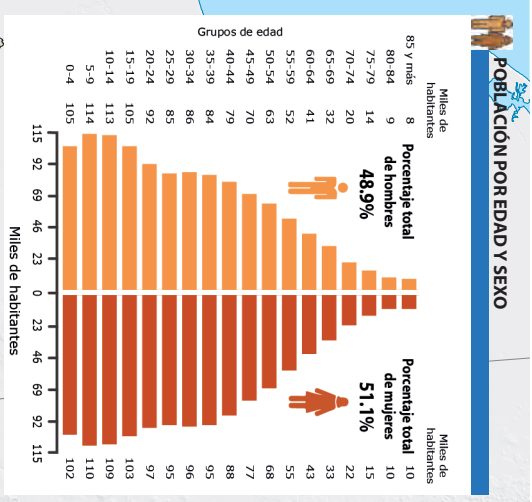
- Hermosillo
- Ciudad Obregón
- Heroica Nogales
- San Luis Río Colorado
- Navojoa
- Heroica Guaymas
- Agua Prieta
- Heroica Caborca
- Puerto Peñasco
- Miguel Alemán

Tabasco



Capital: Villahermosa
Extensión: 24 730.9 km², 1.3% del territorio nacional
Municipios: 17
Población: 2 402 598 habitantes, 1.9% del total del país

GOLFO DE MÉXICO



LOCALIDADES MÁS POBLADAS

- 1 Villahermosa
- 2 Cárdenas
- 3 Comalcalco
- 4 Tenosique de Pino Suárez
- 5 Pomoca
- 6 Macuspana
- 7 Teapa
- 8 Huimanguillo
- 9 Paraiso
- 10 Frontera

PRINCIPALES ACTIVIDADES ECONÓMICAS

- AGRICOLA**
 - Caña de azúcar
 - Limon
 - Carazo
 - Pilano
- PECUARIA**
 - Carne de bovino
 - Ostión
 - Jaba
- INDUSTRIAL**
 - 1. Cementera
 - 2. Parque Logístico Industrial Tabasco
 - 3. Parque Industrial DETI
- PESQUERA**
 - Mojarrá
 - Carpa
- MINERA**
 - Ingenio azucarero
 - Extracción de Petróleo

GENERAL

- CAPITAL DEL ESTADO**
- LÍMITE ESTADAL**
- LÍMITE INTERNACIONAL**
- LOCALIDADES MÁS POBLADAS**
- INFRAESTRUCTURA**
 - AEROPUERTO INTERNACIONAL Carlos Rovirosa Pérez
- PUERTO DE ALTURA**
 - 1. De Frontera
 - 2. Dos Bocas
 - 3. Marina Chilipepe
- OBSERVATORIO**
 - La Torre del Caballero

CULTURA

- MUSEO**
 - 1. De Antropología Carlos Pellicer Cámara
 - Parque Museo la Venta
 - Casa de los Azulejos
 - Interactivo Papagayo
 - 2. General Ortega
 - 3. Pínter Oñari Huerra Escalante
- SITIO ARQUEOLÓGICO**
 - 1. Moral - Reforma
 - 2. Comalcalco
 - 3. Frontera
 - 4. La Venta
- SITIO HISTÓRICO**
 - 1. Casa de Tomás Garrido Canabal
 - 2. Casa de Carlos Pellicer Cámara
 - 3. Catedral del Señor de Tabasco
 - 4. Santuario la Asunción de María

NATURALEZA

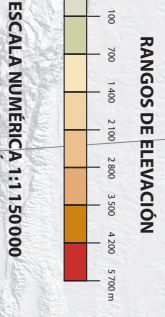
- ÁREA NATURAL PROTEGIDA**
- HIDROGRAFÍA**
 - Río perenne
 - Laguna
- PRINCIPAL ELEVACIÓN**
- CASCADA**
 - 1. Reforma
 - 2. Villa Luz
 - 3. Agua Blanca
 - 4. Cueva, Gruta
 - 5. Cuevas de Coconá

ECOSISTEMA

- Selva húmeda
- Pastizal
- Manglar
- Mono araña
- Mono aullador
- Zarigüeya
- Ciguëña americana
- Ocelote
- Tucán
- Pelejargato
- Pochitocque
- Nutria
- Manatí
- Cocodrillo
- Tortuga hircotea
- Pijle
- Guacamaya

TURISMO

- PUNTO TURÍSTICO**
 - 1. Parque Tomás Garrido Canabal
 - Fuente de los Niños Traviesos
 - Reloj Floral
 - 2. Bañero Río Puyacatevigo
 - 3. Centro de Interpretación de la Naturaleza Yumka
 - Monumento a Tabasco
 - 4. Pínter Pico de Oro
 - 5. Paradi or Turístico Puerto Ceiba
 - 6. Parque Tabasco Dora María
 - 7. Monumento al Coronel Andrés Sánchez Magallanes
 - 8. Monumento al Deportista
- PUEBLO MÁGICO**
- TURISMO DEPORTIVO**
 - 1. Ketchikan, campeón
 - Cueva de las Serpientes, Ciegas, rapel, espeleísmo, tirolesa
 - 2. Eco Parque Agua Salva, ecoturismo
 - 3. El Paraiso, deportes de playa, campismo
 - 4. Playa Miramar, deportes de playa, campismo



Proyección Conica Conforme de Lambert

94° 93° 92° 91°

19° 18° 17°

VERACRUZ

CHIAPAS

CAMPECHE

GUATEMALA

Tamaulipas

100°

98°



Capital: Ciudad Victoria
Extensión: 80 249.3 km², 4.1% del territorio nacional
Municipios: 43
Población: 3 527 735 habitantes, 2.8% del total del país

GENERAL

- ★ CAPITAL DEL ESTADO
- LÍMITE INTERNACIONAL
- LÍMITE ESTATAL
- 📍 LOCALIDADES MÁS POBLADAS

INFRAESTRUCTURA

- AEROPUERTO INTERNACIONAL**
1. Quetzalcóatl
 2. General Lucio Blanco
 3. General Servando Canales
 4. General Pedro José Méndez
 5. General Francisco Javier Mina

PUERTO DE ALTURA

1. De Altamira
2. Industrial Heroico Puerto de Tampico

CULTURA

- MUSEO**
1. De Historia Natural
 2. Trazos regionales
 3. Municipal de Camargo
 4. Histórico de Reynosa
 5. Del Agrarismo Mexicano - Casamata de Historia Regional
 6. Regional de Historia - Historia Natural - Tamux
 7. De Ciencia Centro Interpretativo Ecológico el Cielo
 8. Arqueológico Adela Piña
 9. Regional de Antropología e Historia de Aldama

SITIO ARQUEOLÓGICO

1. Viejo Padilla
2. Balcón de Montezuma
3. Los Janambres
4. Cuitzillo

SITIO HISTÓRICO

1. Parroquia de Nuestra Señora de Loreto
2. Escuela Primaria Apolonio Falcón y Guerra
3. Catedral del Sagrado Corazón de Jesús
4. Presidencia Municipal de Ciudad Victoria
5. Ex-Hacienda La Sautería
6. Casa Cross

NATURALEZA

- 🌿 ÁREA NATURAL PROTEGIDA

HIDROGRAFÍA

- 🌊 Laguna o Presa
- 🌊 Río perenne

PRINCIPAL ELEVACIÓN

- 🏔 Cerro

CENOTE

1. Poza Aldama
2. El Zacatón
3. Poza Verde

CAÑÓN

- 🏞 Cañón el Novillo

ECOSISTEMA

- 🌳 Manglar
- 🌳 Bosque templado
- 🌳 Matorral
- 🌳 Selva seca

FAUNA

- 🐍 Vibora de cascabel
- 🐆 Jaguarundi
- 🐊 Cocodrilo
- 🐿 Zorrillo espalda blanca
- 🐭 Tuza
- 🦎 Lagartija cornuda texana
- 🐇 Venado cola blanca

TURISMO

- PUNTO TURÍSTICO**
1. Centro Cultural Tamaulipas - Parque Tamaulipas Siglo XXI - Zoológico Tamatán
 2. Parque Paseo Méndez
 3. Parque Laguna del Carpintero
 4. Parque la Vega Escondida - Parque la Casa de la Naturaleza - Playa Miramar
 5. Parque Laguna de Champayán
 6. Parras de la Fuente
 7. Ex-Hacienda la Mesa
 8. Santuario Virgen del Contadero
 9. Santuario el Chorrillo
 10. Playa Barra del Tordo
 11. Playa Tesoro
 12. Playa la Pesca
 13. Playa la Carbonera
 14. Playa Bagdad
 15. Playa el Mezquitil

TURISMO DEPORTIVO

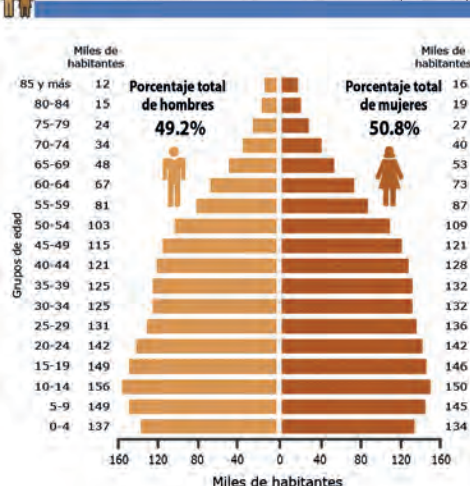
1. Presa Vicente Guerrero, pesca
2. Cabañas en Miquihuana, deporte terrestre
3. Parque Recreativo Ecológico Fray Andrés de Olmos, deporte terrestre

PUEBLO MÁGICO

LOCALIDADES MÁS POBLADAS


1. Reynosa
2. Heroica Matamoros
3. Nuevo Laredo
4. Ciudad Victoria
5. Tampico
6. Ciudad Madero
7. Miramar
8. Ciudad Río Bravo
9. Altamira
10. Ciudad Mante

POBLACIÓN POR EDAD Y SEXO




ESTADOS UNIDOS DE AMÉRICA

ESCALA NUMÉRICA 1:2 100 000
 ESCALA GRÁFICA



RANGOS DE ELEVACIÓN



NUEVO LEÓN

GOLFO DE MÉXICO

SAN LUIS POTOSÍ

VERACRUZ

26°

26°

24°

24°

22°

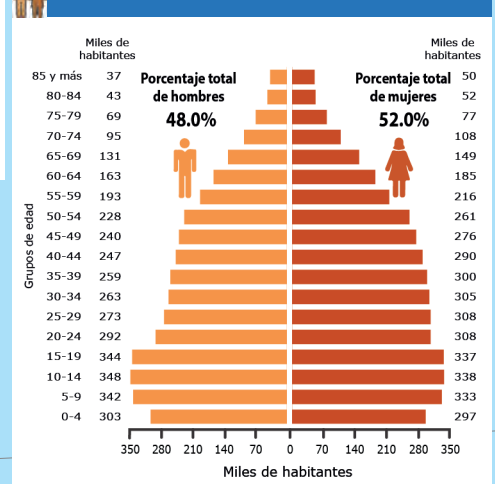
22°

Veracruz



Capital: Xalapa - Enríquez
Extensión: 71 823.5 km²
 3.7% del territorio nacional
Municipios: 212
Población: 8 062 579 habitantes,
 6.4% del total del país

POBLACIÓN POR EDAD Y SEXO

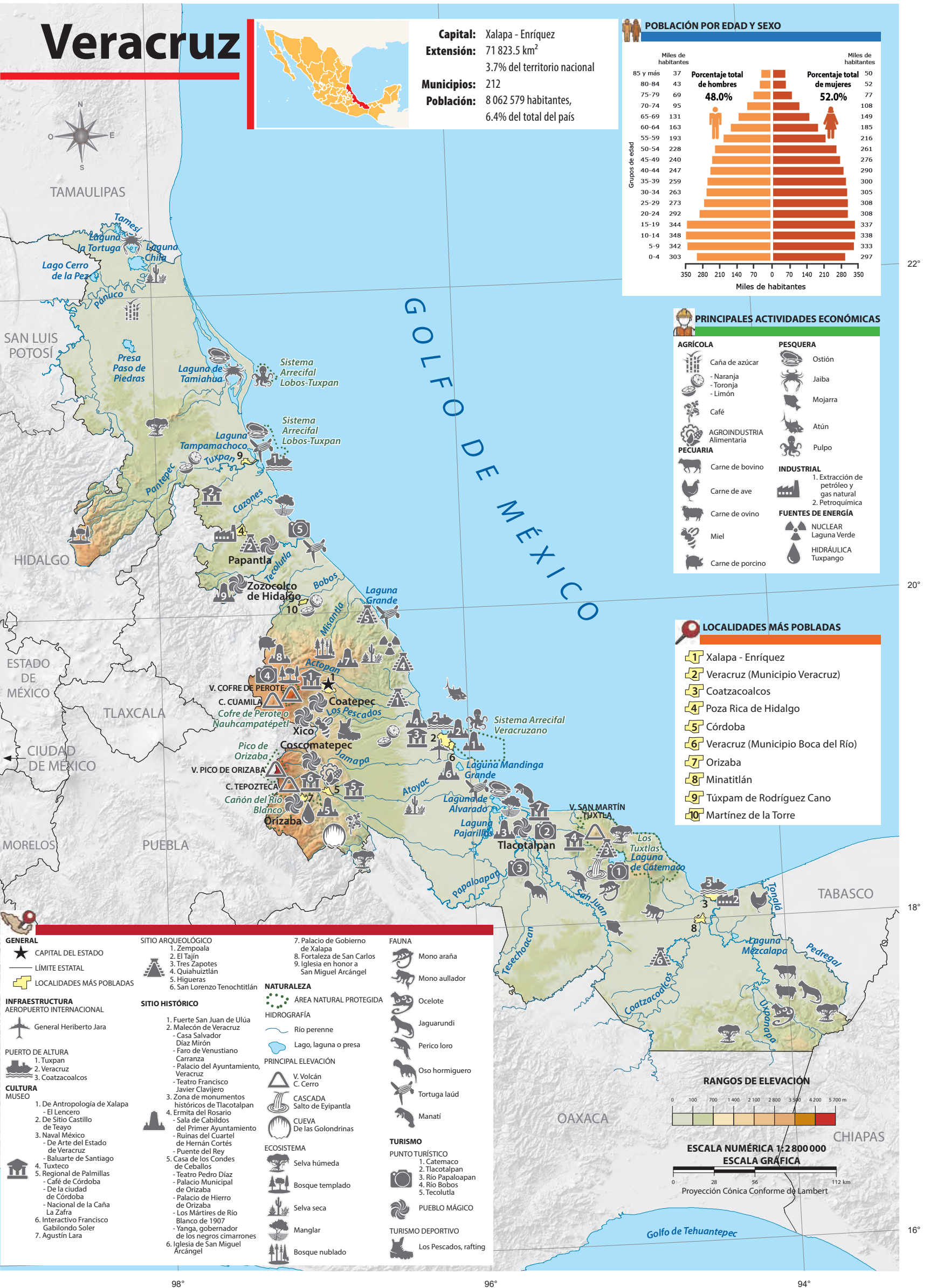


PRINCIPALES ACTIVIDADES ECONÓMICAS

AGRÍCOLA	PESQUERA
Caña de azúcar	Ostión
- Naranja	Jaiba
- Toronja	Mojarra
- Limón	Atún
Café	Pulpo
AGROINDUSTRIA Alimentaria	
PECUARIA	INDUSTRIAL
Carne de bovino	1. Extracción de petróleo y gas natural
Carne de ave	2. Petroquímica
Carne de ovino	FUENTES DE ENERGÍA
Miel	NUCLEAR
Carne de porcino	Laguna Verde
	HIDRÁULICA
	Tuxpango

LOCALIDADES MÁS POBLADAS

- Xalapa - Enríquez
- Veracruz (Municipio Veracruz)
- Coatzacoalcos
- Poza Rica de Hidalgo
- Córdoba
- Veracruz (Municipio Boca del Río)
- Orizaba
- Minatitlán
- Túxpam de Rodríguez Cano
- Martínez de la Torre



- GENERAL**
- ★ CAPITAL DEL ESTADO
 - LÍMITE ESTATAL
 - 📍 LOCALIDADES MÁS POBLADAS

- INFRAESTRUCTURA**
- AEROPUERTO INTERNACIONAL**
- General Heriberto Jara

- PUERTO DE ALTURA**
- Tuxpan
 - Veracruz
 - Coatzacoalcos

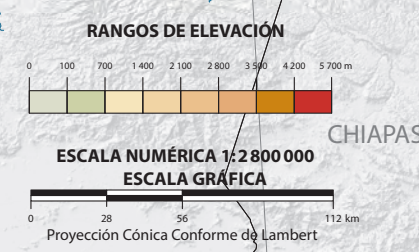
- CULTURA**
- MUSEO**
- De Antropología de Xalapa - El Lencero
 - De Sitio Castillo de Teayo
 - Naval México - De Arte del Estado de Veracruz - Baluarte de Santiago
 - Tuxteco
 - Regional de Palmillas - Café de Córdoba - De la ciudad de Córdoba - Nacional de la Caña La Zafra
 - Interactivo Francisco Gabibondo Soler
 - Agustín Lara

- SITIO ARQUEOLÓGICO**
- Zempoala
 - El Tajín
 - Tres Zapotes
 - Quiahuitlán
 - Higueras
 - San Lorenzo Tenochtitlán

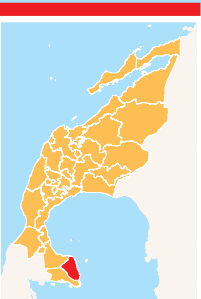
- SITIO HISTÓRICO**
- Fuerte San Juan de Ulúa
 - Malecón de Veracruz - Casa Salvador Díaz Mirón - Faro de Venustiano Carranza - Palacio del Ayuntamiento, Veracruz - Teatro Francisco Javier Clavijero
 - Zona de monumentos históricos de Tlacoatlán
 - Ermida del Rosario - Sala de Cabildos del Primer Ayuntamiento - Ruinas del Cuartel de Hernán Cortés - Puente del Rey
 - Casa de los Condes de Ceballos - Teatro Pedro Díaz - Palacio Municipal de Orizaba - Palacio de Hierro de Orizaba - Los Mártires de Río Blanco de 1907 - Yanga, gobernador de los negros cimarrones
 - Iglesia de San Miguel Arcángel

- NATURALEZA**
- ÁREA NATURAL PROTEGIDA**
- HIDROGRAFÍA**
- Río perenne
 - Lago, laguna o presa
- PRINCIPAL ELEVACIÓN**
- V. Volcán C. Cerro
- CASCADA**
- Salto de Eypantla
- CUEVA**
- De las Golondrinas
- ECOSISTEMA**
- Selva húmeda
 - Bosque templado
 - Selva seca
 - Manglar
 - Bosque nublado

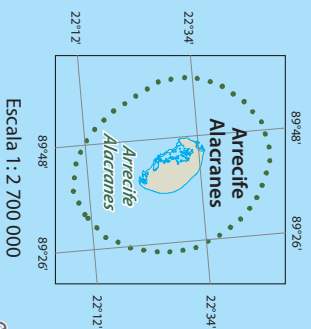
- FAUNA**
- Mono araña
 - Mono aullador
 - Ocelote
 - Jaguarundi
 - Perico loro
 - Oso hormiguero
 - Tortuga laúd
 - Manatí
- TURISMO**
- PUNTO TURÍSTICO**
- Catemaco
 - Tlacoatlán
 - Río Papaloapan
 - Río Bobos
 - Tecolutla
- PUEBLO MÁGICO**
- TURISMO DEPORTIVO**
- Los Pescados, rafting



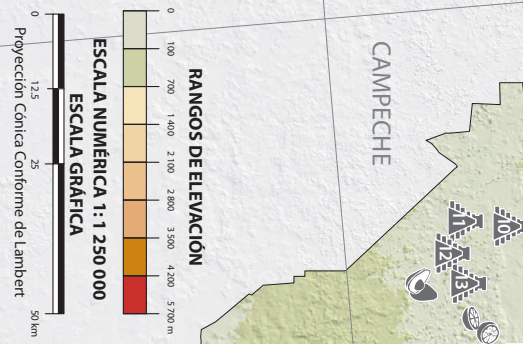
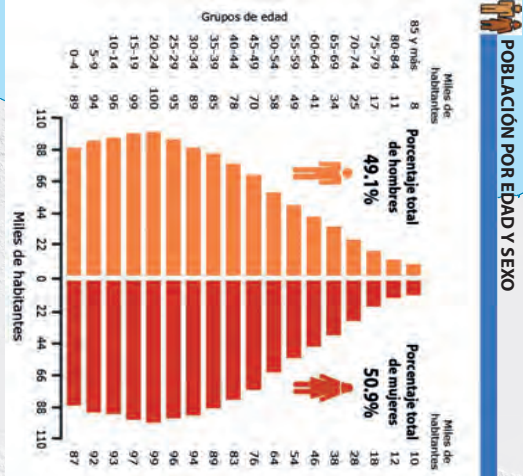
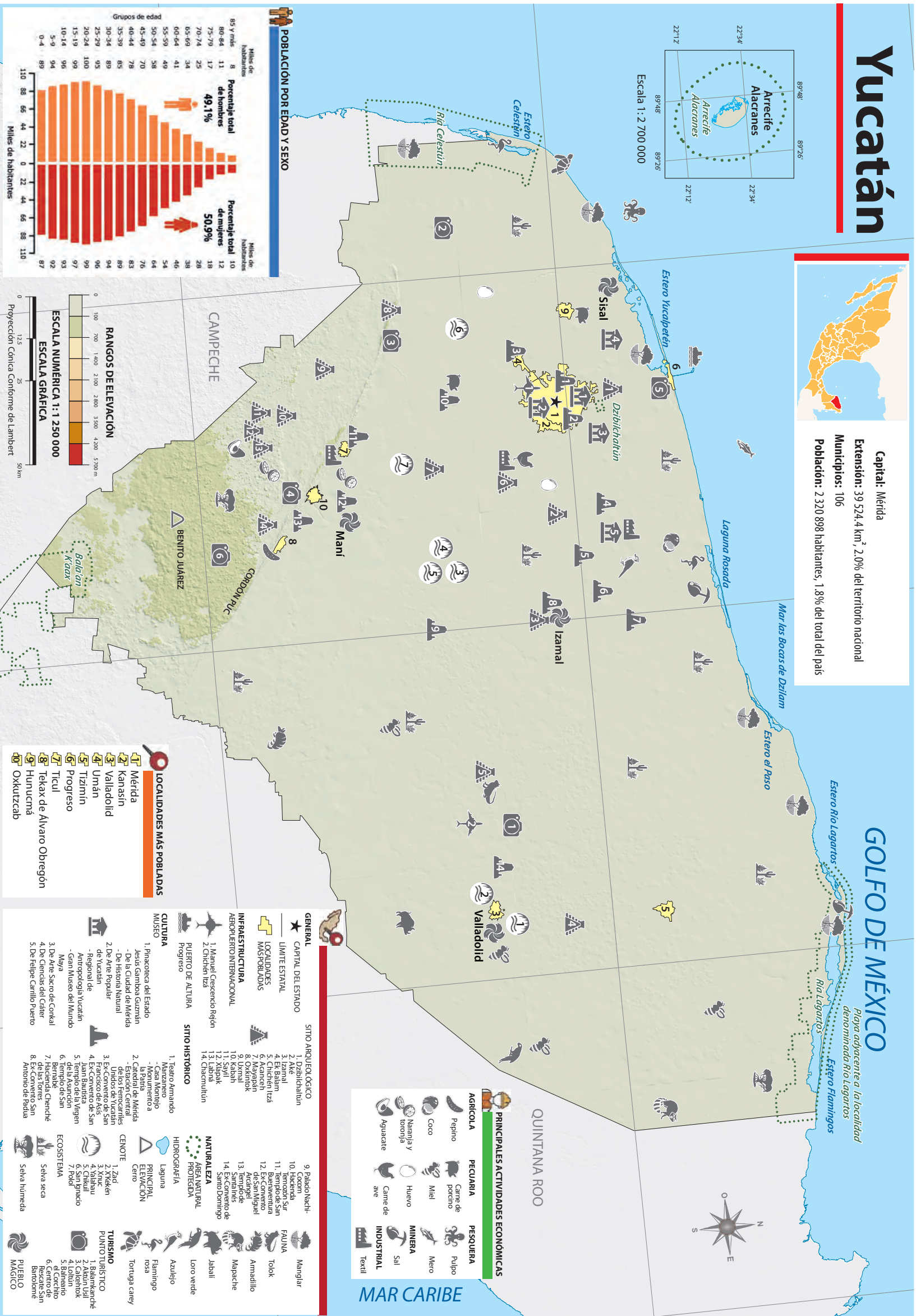
Yucatán



Capital: Mérida
Extensión: 39 524.4 km², 2.0% del territorio nacional
Municipios: 106
Población: 2 320 898 habitantes, 1.8% del total del país



Escala 1 : 2 700 000



- ### LOCALIDADES MÁS POBLADAS
- Mérida
 - Kanasín
 - Valladolid
 - Umán
 - Tizimin
 - Progreso
 - Ticul
 - Tekax de Alvaro Obregón
 - Hunucmá
 - Okutzcab

- ### PRINCIPALES ACTIVIDADES ECONÓMICAS
- | AGRICOLA | PECUARIA | PESQUERA |
|-------------------|------------------|------------|
| Pepino | Carne de porcino | Pulpo |
| Coco | Miel | Mero |
| Naranja y toronja | Huevo | Sal |
| Aguacate | Carne de ave | INDUSTRIAL |
| | | Textil |
-
- ### GENERAL
- CAPITAL DEL ESTADO
 - LÍMITE ESTATAL
 - LOCALIDADES MÁS POBLADAS
 - INFRAESTRUCTURA
 - AEROPUERTO INTERNACIONAL
 - PUERTO DE ALTURA
 - SITIO ARQUEOLÓGICO
 - SITIO HISTÓRICO
 - CULTURA
 - MUSEO
 - ECOSISTEMA
 - FAUNA
 - PUERTO PÚBLICO
 - PUERTO MÁGICO

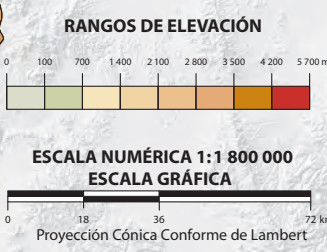
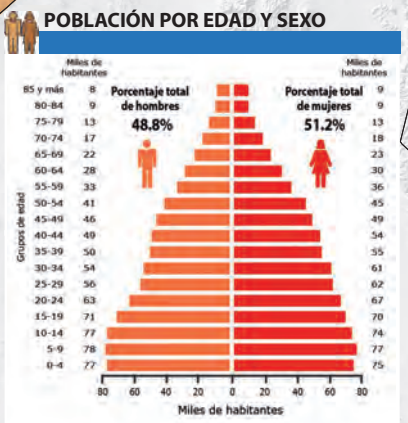
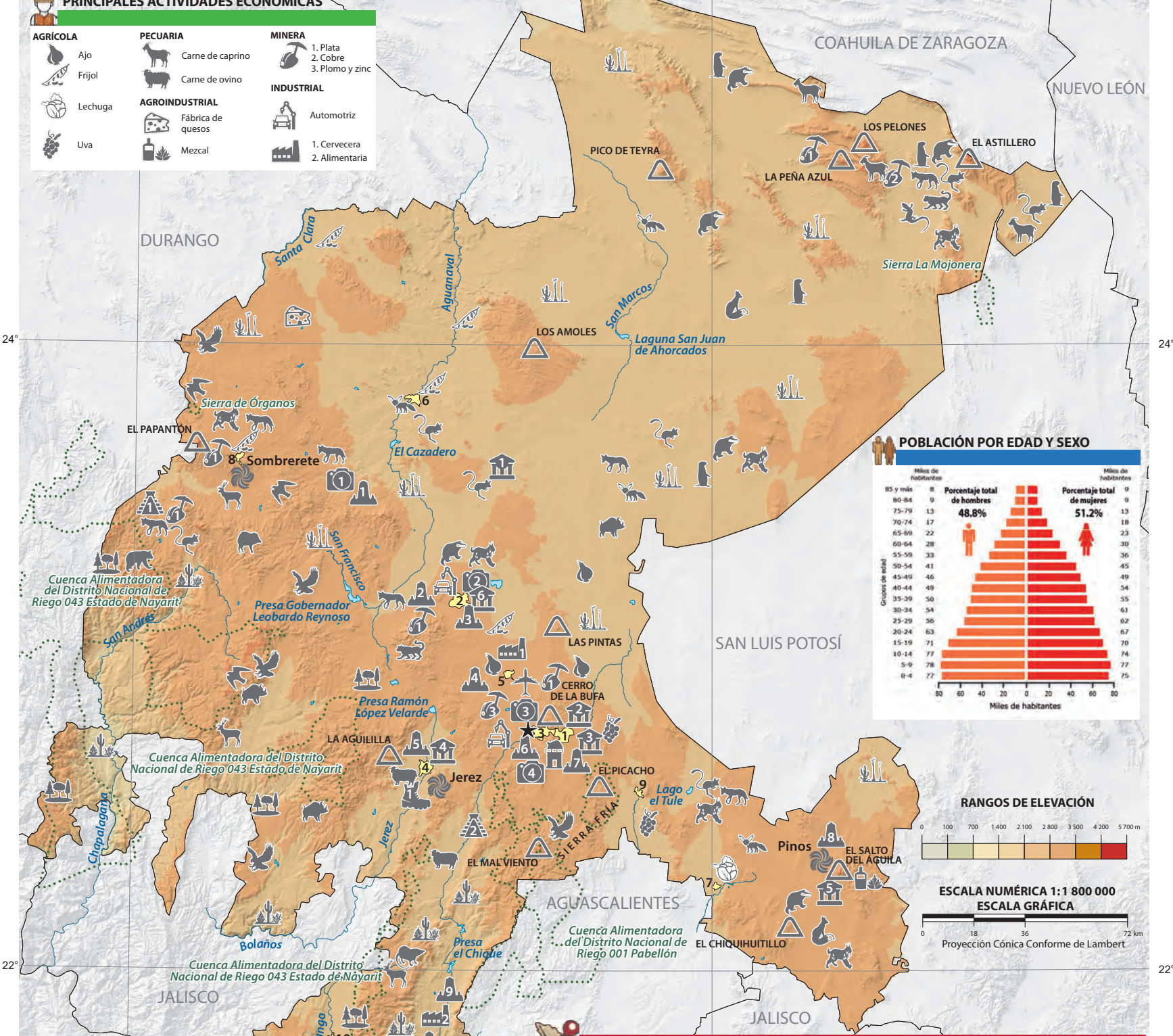
Zacatecas



Capital: Zacatecas
Extensión: 75 275.3 km², 3.8% del territorio nacional
Municipios: 58
Población: 1 622 138 habitantes, 1.3% del total del país

PRINCIPALES ACTIVIDADES ECONÓMICAS

AGRÍCOLA	PECUARIA	MINERA
Ajo	Carne de caprino	1. Plata
Frijol	Carne de ovino	2. Cobre
Lechuga		3. Plomo y zinc
Uva	AGROINDUSTRIAL	INDUSTRIAL
	Fábrica de quesos	Automotriz
	Mezcal	1. Cervecería
		2. Alimentaria



- LOCALIDADES MÁS POBLADAS**
- Guadalupe
 - Fresnillo
 - Zacatecas
 - Jerez de García Salinas
 - Victor Rosales
 - Río Grande
 - Loreto
 - Sombrerete
 - Ojocaliente
 - Tialtenango de Sánchez Román

GENERAL	SITIO HISTÓRICO	ECOSISTEMA
★ CAPITAL DEL ESTADO	1. Templo de San Sebastián Mártir	Bosque templado
— LÍMITE ESTATAL	2. Jardín Obelisco	Matorral
⊕ LOCALIDADES MÁS POBLADAS	3. Teatro José González Echeverría	Selva seca
INFRAESTRUCTURA	4. Estación de ferrocarril Calera	FAUNA
✈ AEROPUERTO INTERNACIONAL General Leobardo C. Ruiz	5. Teatro Hinojosa	Coyote
OBSERVATORIO Astronómico de Zacatecas	6. Casa de Moneda	Halcón mexicano
CULTURA	- Catedral de Zacatecas	Jabali
MUSEO	- Teatro Calderón Ortega	Lagartija de collar
1. Del Ferrocarril Cañitas de Felipe Pescador	- Mercado González Ortega	Lince
2. Toma de Zacatecas	- Acueducto del Cubo	Musaraña
- Francisco Goitia	7. Convento de Nuestra Señora de Guadalupe	Oso negro americano
- Centro Interactivo de Ciencias Zig Zag	8. Hacienda de la Penidencia	Pecarí
- Manuel M. Ponce	9. Monumento a la Maestra María R. Murillo	Perrito de la pradera
- Zacatecano	10. Templo de Guatemala	
- Universitario de Ciencias		
- Rocas y Minerales Mina el Edén	NATURALEZA	
- Pedro Coronel	• Área natural protegida	
SITIO ARQUEOLÓGICO	• Río	
1. Altavista o Chalchihuites	• Laguna o presa	
2. La Quemada	PRINCIPAL ELEVACIÓN	
3. El Teúl	△ Cerro	

Créditos iconográficos

pp. 8-9: cascada, México, © CSP_kamchatka/Fotosearch LBRF/Photo Stock; **p. 22:** (de arr. a ab.) *Coleonyx variegatus ssp. Utahensis*, fotografía de John Sullivan, bajo licencia CC BY-NC 4.0; tigrillo, Quintana Roo, México, © Carlos Javier Navarro Serment/Banco de imágenes Conabio; palma de Todos Santos, Valle de México, fotografía de Jorge Escutia, bajo licencia CC BY 4.0; rana de árbol plegada, fotografía de Mario Castañeda Sánchez, bajo licencia CC BY-NC 4.0; carpintero bellotero, Nuevo León, México, © Carlos Javier Navarro Serment/Banco de imágenes Conabio; paisaje de montaña sostenido por una mano, © Orla/otosearch LBRF/Photo Stock; manglar, Tabasco, México, © Felipe Bonilla Aguilar/Banco de imágenes Conabio; barril de oro, fotografía de natu-relover99, bajo licencia CC BY-NC 4.0; ajolote de Xochimilco, Ciudad de México, © Raúl Iván Martínez Becerril/Banco de imágenes Conabio; ballena jorobada, Pixabay 3702685; ocelote, Freepng.es; quetzal mesoamericano, fotografía de Sean Blaney, bajo licencia CC BY-NC 4.0; berrendo, Baja California, México, © Alejandro Boneta/Banco de imágenes Conabio; vaquita marina, © Marco Antonio Pineda Maldonado/Banco de imágenes Conabio; mono araña, fotografía de pfaucher, bajo licencia CC BY-NC 4.0; zorra gris, fotografía de Tom, bajo licencia CC BY-NC-ND 2.0; águila real, fotografía de ungerlord, bajo licencia CC BY-NC 4.0; mariposa monarca, Freepng.es; oso negro, Nuevo León, México, © Carlos Javier Navarro Serment/Banco de imágenes Conabio; leopardo, Freepng.es; lobo mexicano, Pixabay 62894; maíz, Pixabay 43312; **pp. 24-25:** Casa de los azulejos, © Toño Labra/agefotostock/Photo Stock; **p. 33:** (de arr. ab. de izq. a der.) niños choles, fotografía de Raúl Barajas/Archivo iconográfico DGME-SEB-SEP; capacitación, INEA, en <https://bit.ly/2kcv2c6> (Consultado el 2 de septiembre de 2019); familia triqui, fotografía de Raúl Barajas/Archivo iconográfico DGME-SEB-SEP; alfabetización, Archivo General de la Nación; **p. 37:** (de arr. ab. de izq. a der.) niño con rinitis, © AURENT/PASCAL/BSIP/Photo Stock; niño con dolor de estómago, © Wavebreak Media/WavebreakMedia/Photo Stock; mujer con dolor, © SPL/Science Photo Library RF/Photo Stock; úlcera péptica, © CSP_allia/Fotosearch LBRF/Photo Stock; cuidado dental, © TIROT/BSIP/Photo Stock; revisión médica, Freepik 21279; revisión de oídos, nariz y garganta, © LA/COULOM.YVON/BSIP/Photo Stock; mujer con epiescleritis, © SCIENCE PHOTO LIBRARY/Science Photo Library/Photo Stock; niño asmático con su inhalador, © SPL/Science Photo Library/Photo Stock; alacrán, fotografía de Jay Keller, bajo licencia CC BY 4.0; niña con dolor de estómago, © Alexandra89/Fotosearch LBRF/Photo Stock; **p. 39:** (de arr. ab. de izq. a der.) célula cancerosa, KATERYNA KON/SPL/Science Photo Library RF/Photo Stock; toma de glucosa, Pixabay 777002; infarto de miocardio, © MARIE SCHMITT/BSIP/Photo Stock; doctora tomando muestras de sangre, © Andriy Popov/Panther Media/Photo Stock; servicios de emergencia, © Martin Schutt/dpa-Zentralbild/dpa Picture-Alliance/Photo Stock; violencia, Pixabay 316605; **p. 46-47:** Terminal Especializada de Contenedores I, Puerto de Manzanillo, Colima, SSA México, S.A. de C.V.; **p. 57:** (de izq. a der.) presa Rodrigo Gómez La Boca, Conagua; parque eólico, Pixabay 3704939; planta geotérmica Los Azufres, Michoacán, CFE; panel solar, Pixabay 2742302; vista aérea de la planta de energía nuclear Laguna Verde, Veracruz, © SCIENCE PHOTO LIBRARY/Science Photo Library/Photo Stock; motor de cogeneración del generador eléctrico, © Javier Larrea/agefotostock/Photo Stock; producción de biogas, frutos recolectados para generar bioenergía, fotografía de Juan Carlos Huayllapuma/CIFOR, bajo licencia CC BY-NC-ND 2.0; **pp. 70-71:** Banco Oriental Mexicano, exterior, © 81589, Secretaría de Cultura.INAH. Sinafo.FN.México; **p. 74:** *Mapa de los Estados Unidos de Méjico, según lo organizado y definido por las varias actas del congreso de dicha república y construido por las mejores autoridades*, 1828, White Gallaher y White, litografía, 79 × 110 cm, Colección Orozco y Berra, no. clasificador 1050-OyB-0-A, Mapoteca "Manuel Orozco y Berra" del Servicio de Información Agroalimentaria y Pesquera; **p. 75:** *Cartas histórico-geográficas mexicanas la invasión norteamericana*, 1846-1848, Lic. Victoriano Pimentel, litografía a color, 74 × 98 cm, Colección general, no. clasificador 7734 -CGE-7216-A, Mapoteca "Manuel Orozco y Berra" del Servicio de Información Agroalimentaria y Pesquera; **p. 79:** (de arr. ab. de izq. a der.) henequén, Secretaría de Fomento Turístico de Yucatán; encuestador, INEGI; *Codice Vergara*, p. 5, bajo licencias CC0; *Trajes mexicanos = trajes mexicanos = vestidos mexicanos*, 1869, C. Castro y J. Campillo, División de In-

vestigación General, Biblioteca Pública de Nueva York. Recuperado de <http://digitalcollections.nypl.org/items/510d47e2-16b7-a3d9-e040-e00a18064a99>; familia indígena, ca. 1910, Colima, México, © 465387, Secretaría de Cultura.INAH. Sinafo.FN.México; *México, vista a través del arco de la Catedral Metropolitana en la Ciudad de México*, ca. 1937-1969, Eugene V. Harris (1913-1978), Colección Edna Schaus Sorensen y Clarence W. Sorensen, Biblioteca de la American Geographical Society, Bibliotecas de la Universidad de Wisconsin-Milwaukee, ID digital sr013017; edificio, INEGI; encuestadora, INEGI; **pp. 80-81:** X. Carta Histórica y Arqueológica, en Antonio García Cubas (1832-1912). *Atlas Mexicano, Geográfico y Estadístico. Atlas Pintoresco é Histórico de los E. U. Mexicanos*, 31 cartas con sus correspondientes textos, publicado por Debray sucesores, México, 1885, Biblioteca del Congreso de Estados Unidos; **p. 90:** (de arr. ab. de izq. a der.) gallina, © Danylo Honchar/Dreamstime.com; mole poblano, © Carver Mostardi/agefotostock/Photo Stock; carne asada, © CSP_tacar/Fotosearch LBRF/Photo Stock; vaca y borrego, © Danylo Honchar/Dreamstime.com; chivo, Freepic.com; barbacoa, fotografía de Elton Rodriguez, bajo licencia CC BY-SA 3.0; machaca, © Zoonar/MYCHKO/ZOONAR GMBH LBRF/Photo Stock; cerdo, © Danylo Honchar/Dreamstime.com; lechón asado, © fanfo/Fotosearch LBRF/Photo Stock; pozole rojo, Michoacán, fotografía de Pablo Morales/Secretaría de Turismo de Michoacán; tacos de cochinita pibil, © Monteros, Hugo/FoodCollection; camarón, pescado y cangrejo, © Marina Vorontsova/Dreamstime.com; pescado con aceitunas y pimiento, © Brauner, Michael/ StockFood/Photo Stock; tacos de pescado, © Avalos Flores, Maricruz/ FoodCollection/Photo Stock; chapulín y gusano de maguey, © Artur Balytskyi/Dreamstime.com; tacos de chinicuiles, Hidalgo, México, © Iván Montes de Oca Cacheux/Banco de imágenes Conabio; tostadas de ceviche, © CSP_pklick360/Fotosearch LBRF/Photo Stok; taco de chapulines, © Shakzu/ Fotosearch LBRF/Photo Stock; maíz, Pixabay 3740970; chiles, Pixabay 2556873; frijol negro, Pixabay 799942; **p. 91:** (de arr. ab. de izq. a der.) alfarero modelando un jarrón, © valeniker/Fotosearch LBRF/Photo Stock; dispensador de cerámica, Guanajuato, cortesía Tekiti; plato de cerámica, Guanajuato, © William Perry/DanitaDelimont.com/Danita Delimont Agency/Photo Stock; calavera de barro negro, Oaxaca, Irene León Coxtinica, fotografía de Emmanuel Adamez Téllez/Archivo iconográfico DGME-SEB-SEP; tejedora de hamaca, Muyil, Quintana Roo, © Christian Dreckmann/Banco de imágenes Conabio; vestido de tela, Chiapas, © TONO BALAGUER/YAY Micro/Photo Stock; mono de lana, Chiapas; morral de telar, Santa María del Tule, Oaxaca, Irene León Coxtinica, fotografía de Emmanuel Adamez Téllez/Archivo iconográfico DGME-SEB-SEP; artesano, Tlaquepaque, Jalisco, PROMOTUR; máscara para Carnaval, San Pablo Tepetitla, Tlaxcala, © Adalberto Ríos Szalay/Banco de imágenes Conabio; lobo de madera, Felipe Carrillo Puerto, Quintana Roo; caja de Olinalá, Guerrero, Irene León Coxtinica, fotografía de Emmanuel Adamez Téllez/Archivo iconográfico DGME-SEB-SEP; artesano, © Guenter Fischer/imageBROKER/imageBROKER RF/Photo Stock; cartas de lotería en lámina, Oaxaca; corazones de lámina, Estado de México, Irene León Coxtinica, fotografía de Emmanuel Adamez Téllez/Archivo iconográfico DGME-SEB-SEP; farol de metal, Pixabay 3204675; artesano de joyería, © Ton Koene/agefotostock/Photo Stock; aretes de plata, caballero águila, chimalli, Taxco de Alarcón, Guerrero, Irene León Coxtinica, fotografía de Emmanuel Adamez Téllez/Archivo iconográfico DGME-SEB-SEP; artesano, Siltepec, Chiapas, © Alfredo Lara Espino/Banco de imágenes Conabio; bolsa de palma, Hidalgo; cestería, Creel, Chihuahua, Irene León Coxtinica, fotografía de Emmanuel Adamez Téllez/Archivo iconográfico DGME-SEB-SEP; artesana, Guerrero, © giovanni mereghetti/Marka/Photo Stock; piñata, © Memo Garcia VWPics/agefotostock/Photo Stock; amate y diablito, Guanajuato, Irene León Coxtinica, fotografía de Emmanuel Adamez Téllez/Archivo iconográfico DGME-SEB-SEP; peletero, Mazatlán, Sinaloa, © SuperStock/Super Stock/Photo Stock; silla de montar, © Ute Nast-Linke/Panther Media/Photo Stock; morralito, Coahuila, Irene León Coxtinica, fotografía de Emmanuel Adamez Téllez/Archivo iconográfico DGME-SEB-SEP; morral, Tamaulipas, fotografía de Emmanuel Adamez Téllez/Archivo iconográfico DGME-SEB-SEP; **pp. 92-93:** *Mapa de las artes populares de México*, 1929, Roberto Montenegro (1887-1968), biombo de seis paneles, óleo sobre lienzo, 200 × 50 × 2 cm, © 2019 Christie's Images Limited.

Atlas de México. Cuarto grado
se imprimió por encargo de la
Comisión Nacional de Libros de Texto Gratuitos,
en los talleres de
con domicilio en:

en el mes de de 2021
El tiraje fue de ejemplares.