



Historia

Sexto grado

Panorama del periodo

Homínido. Dicho de un primate que se caracteriza por su aspecto con forma de humano y por no tener cola, y a cuya familia pertenecen los humanos y otras especies como el chimpancé, el gorila y el orangután.

Ubicación temporal y espacial de la prehistoria y del origen del ser humano, del poblamiento de los continentes y del proceso de sedentarización

De acuerdo con investigaciones recientes, el origen del ser humano tuvo lugar en África, de donde los **homínidos** (los primeros ancestros de los humanos) emigraron en busca de alimento, de Asia a Europa primero, luego a Oceanía y, por último, a América. A este periodo que comenzó hace más de tres millones de años se le conoce como *prehistoria*. Por la imposibilidad de fechar con exactitud los procesos históricos de esa época, ocurridos antes de Cristo (a. C.), se miden en siglos, milenios y millones de años.

El Paleolítico marca el inicio de la prehistoria, y es el periodo en el que nuestros ancestros fabricaron instrumentos y herramientas de piedra mediante la técnica de percusión. En este periodo se dedicaron a la recolección, la caza y la pesca. La utilización del fuego resultó crucial para su adaptación y sobrevivencia.

Durante el Neolítico, el ser humano, el único sobreviviente de los homínidos, ya era capaz de pulir piedras. Es en esta época cuando empieza la producción de alimentos mediante la agricultura y la domesticación de animales, como vacas, cerdos y ovejas; asimismo, las personas comenzaron a vivir en comunidades. Con estos avances, se logró el paso de la vida nómada a la sedentaria.

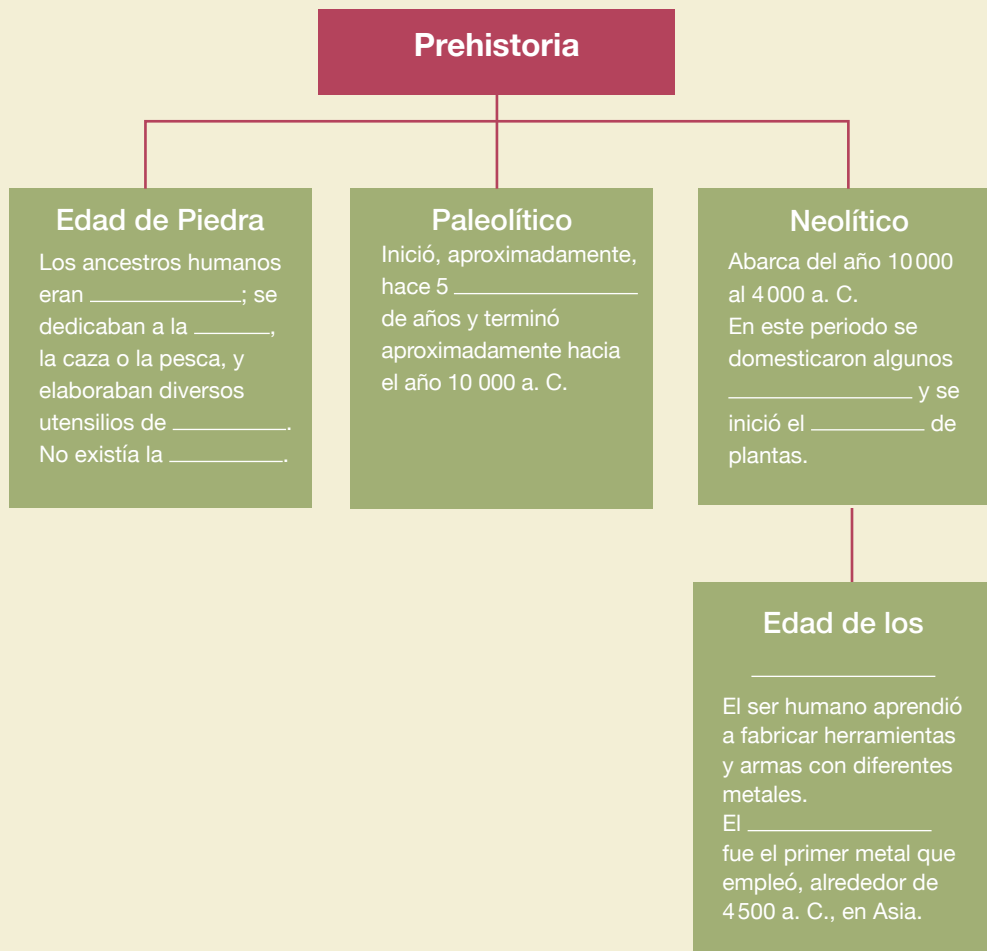
La prehistoria no fue un proceso simultáneo en todo el mundo. La agricultura y la metalurgia surgieron primero en Asia y Europa, y después en América.

La invención de la escritura, alrededor del 3 200 a. C., marca el término de la prehistoria. A partir de entonces se señala el comienzo de la historia (palabra de origen griego que significa “preguntar” o “investigación”).



PARA INICIAR

1. Observa la imagen al principio del bloque I y contesta las siguientes preguntas.
 - ¿Qué representa la imagen?
 - ¿Para qué crees que la pintaron?
 - ¿Cómo crees que la pintaron?
 - ¿Cómo crees que vivían los humanos en la prehistoria?
 - ¿Dónde crees que vivían?
 - ¿Qué crees que comían?
 - ¿A qué peligros se enfrentarían?
2. Comparte tus respuestas con el grupo y entre todos identifiquen en qué son semejantes y en qué son diferentes. Consideren las dificultades que enfrentaron estos grupos para satisfacer sus necesidades.
3. Completa el esquema con las siguientes palabras: animales, cobre, cultivo, escritura, Metales, millones, nómadas, piedra, recolección.





CUÁNDO Y DÓNDE PASÓ

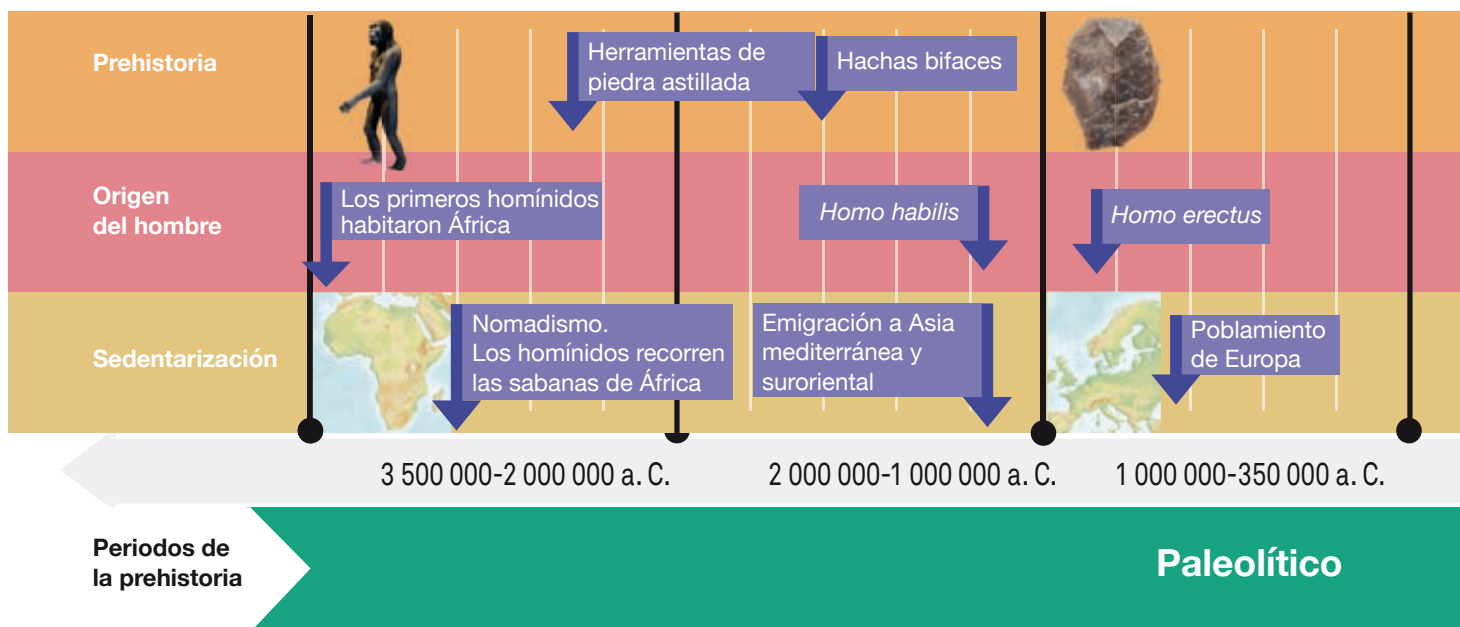
Responde en tu cuaderno las siguientes preguntas.

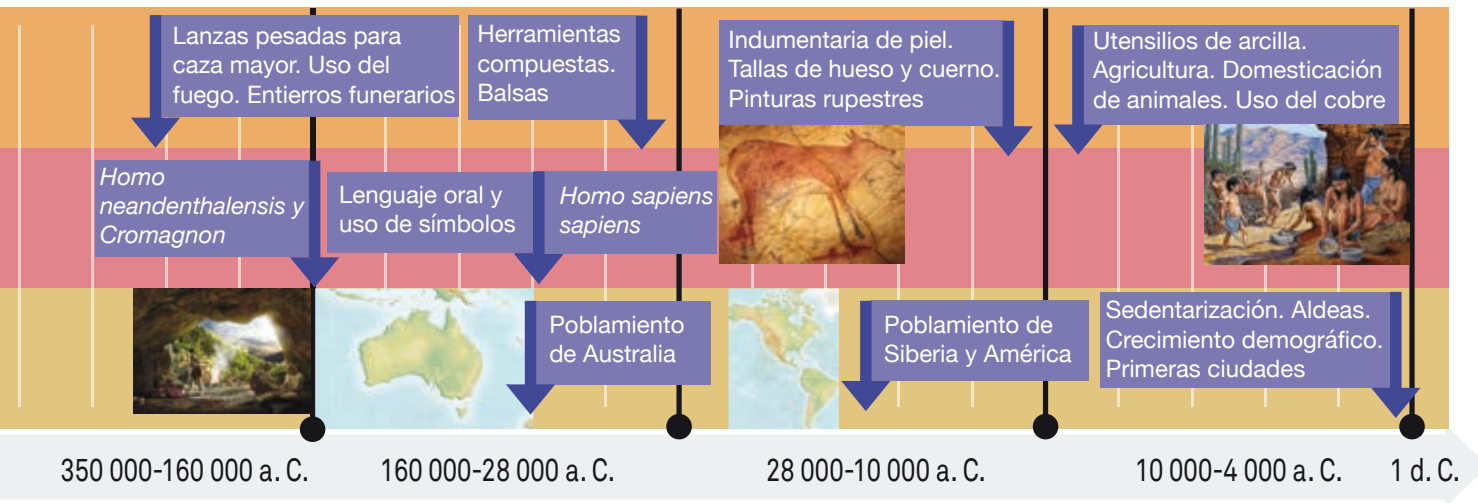
1. Con base en la línea del tiempo:

- ¿Cuáles son los homínidos más antiguos?
- ¿En qué periodo aparecieron las lanzas para caza mayor?
- ¿Cuándo apareció el *Homo sapiens sapiens*?

2. Con base en el mapa:

- ¿Dónde se originaron los homínidos?
- ¿Dónde se encuentran los rastros prehistóricos más recientes?





Neolítico