



# Geografía

## Quinto grado

# PAÍSES MÁS Y MENOS POBLADOS



## Comencemos

Como leíste en la tarjeta postal, la población está distribuida de manera desigual en el mundo. Observa la imagen de la postal que recibió Joana e identifica en las siguientes fotografías la ciudad en donde vive. ¿Qué diferencias encontraste entre los dos lugares?

- ❖ Con el estudio de esta lección, describirás cómo se encuentra distribuida la población mundial.



❖ El desierto de Meca, Arabia Saudita.



❖ Calcuta, India.



❖ Puerto de Perth, Australia.



❖ Las motocicletas son el transporte público más solicitado en el pueblo de Siem Reap, Camboya.



❖ Niños migrantes en Culiacán, Sinaloa, México.



❖ Arquitectura de la ciudad de Djenné, en el delta interior del río Níger, Malí.



## Actividad

Con ayuda de los mapas del *Atlas de geografía del mundo*, páginas 74, 77, 78 y 79, localiza los países que se mencionan en el pie de las fotografías. Observa la distribución de su población en la página 80 del atlas y coméntala con tus compañeros de grupo.

¿Cuáles consideras que sean las causas que influyen en la distribución de la población en los países que localizaste?



❖ Consulta en...

Visita el portal Primaria TIC <<http://basica.primariatic.sep.gob.mx>>. En la pestaña Busca, anota **población**, así conocerás las causas del crecimiento poblacional.



Aprendamos más

En el siglo pasado, el desarrollo tecnológico transformó la forma de vida de la población mundial. Disminuyó el interés por las actividades agropecuarias al aumentar la importancia de los sectores industriales y de servicios. Esta transformación se reflejó, entre otras cosas, en el crecimiento de la población, que se quintuplicó en cien años y varió su distribución.

La distribución de la población en el mundo

Así como observaste que existen diferencias en el clima, la vegetación y la fauna de las regiones naturales de los continentes, también se presentan diferencias en la forma en que se distribuye la población, pues en algunos continentes hay más países sobrepoblados que con escasa población.

En 2015, la población absoluta o total del mundo se calculó en 7 300 millones de habitantes, los cuales están distribuidos irregularmente y su crecimiento no sigue el mismo ritmo en las diversas regiones continentales.



Actividad

Formen equipos. Analicen la gráfica, obtengan sus conclusiones y contesten las preguntas.

- Si la extensión del continente asiático representa una tercera parte de la extensión total de los continentes, ¿cuál debería ser el porcentaje de su población para estar en equilibrio?

---

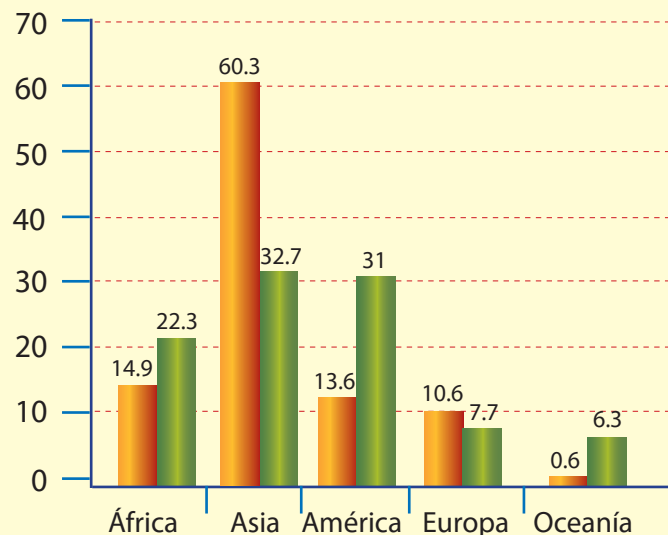
- ¿Se puede afirmar que América es un continente poco poblado? ¿Por qué?

---

- ¿Cuál es el continente más sobrepoblado? ¿Por qué?

---

Distribución de la población (porcentajes)



■ Población absoluta

■ Extensión



La distribución irregular de población entre los continentes también ocurre entre países; por ejemplo, Australia tiene apenas 21 millones de habitantes, en un país de siete y medio millones de kilómetros cuadrados; en contraste, Indonesia, con menos de dos millones de kilómetros cuadrados, sostiene una población de 244 millones de personas. De acuerdo con los datos registrados por la Organización de las Naciones Unidas (ONU), en 2018, China era el país más poblado del mundo, con 1 440 millones de habitantes; le sigue India, con 1 390 millones de habitantes, lo que significa que si se sumara la población de ambos países (que son sólo dos de casi 200 países) se reuniría una tercera parte del total mundial.



◇ Estación del metro en horas de gran afluencia en Hong Kong, China.



◇ Estación del metro en horas de gran afluencia en Vancouver, Canadá.

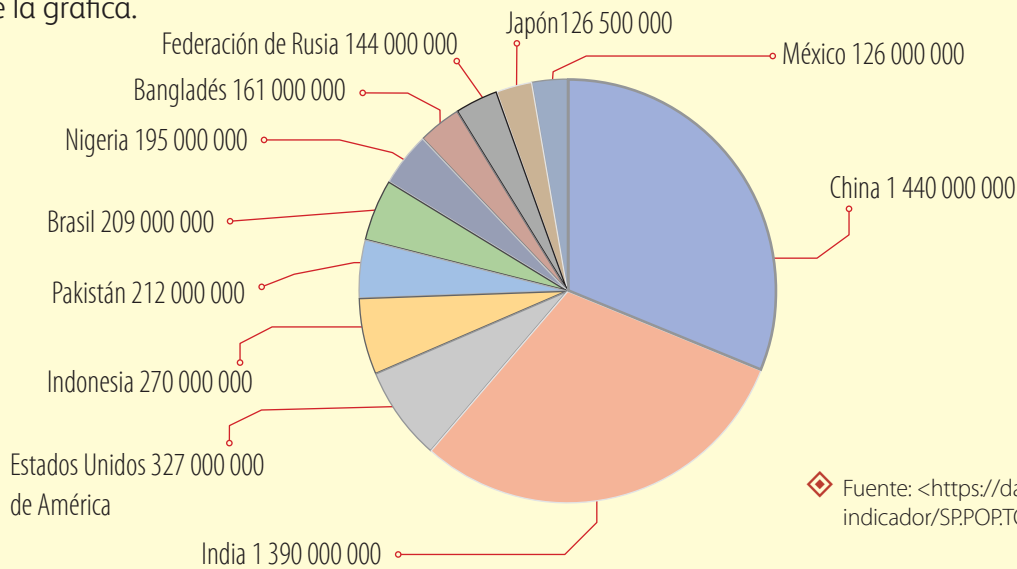


## Actividad

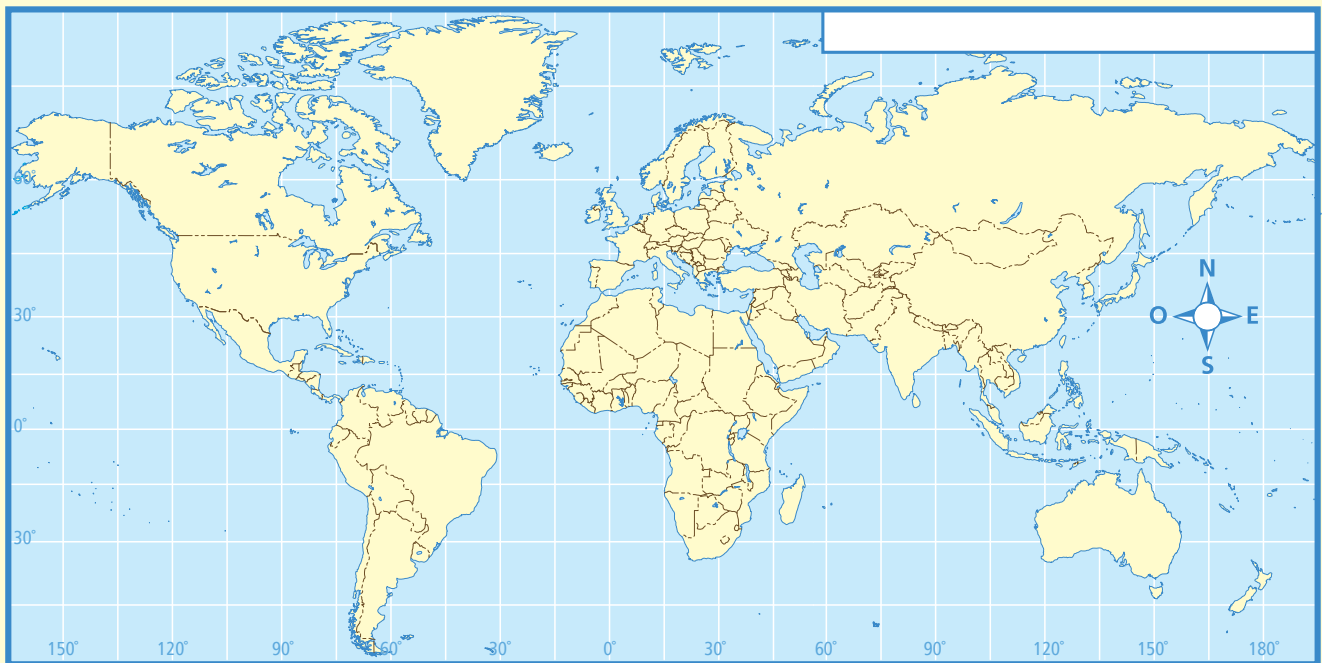
Observa la gráfica de los países más poblados del mundo.

Con base en la información de la gráfica, localiza en el mapa los países más poblados del mundo e ilumínalos de los mismos colores que los de la gráfica.

Al terminar, ponle un nombre a tu mapa y compáralo con el de algún compañero para verificar que hayan localizado y coloreado los mismos países.



◆ Fuente: <<https://datos.bancomundial.org/indicador/SP.POPTOTL>>.



Reúnete con un compañero y contesten en sus cuadernos las siguientes preguntas.

- ¿En qué continente se localizan los dos países más poblados del mundo?
- En América, ¿cuáles son los países más poblados?
- ¿Qué lugar ocupa México entre los países más poblados del mundo?
- Relacionen la información de la gráfica con el mapa e indiquen si los países más poblados son los de mayor extensión.
- ¿Qué factores influyen para que la población viva o no en determinadas regiones?

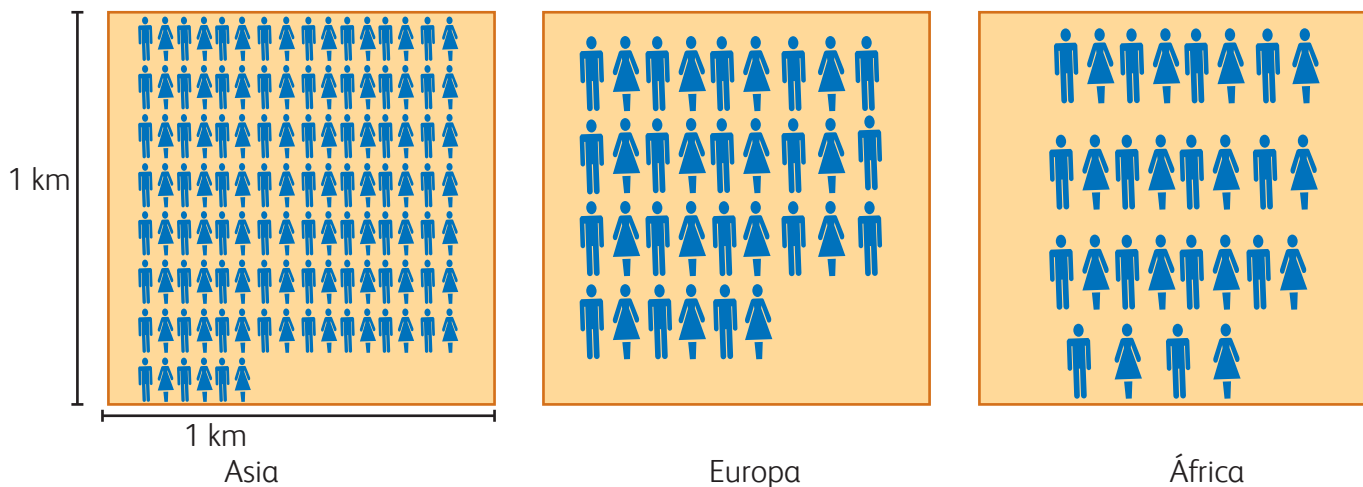
Los elementos naturales, el clima, el relieve y la distribución de los recursos naturales influyen en la distribución de la población en el mundo. Las regiones de climas templados usualmente concentran mayor número de habitantes; en contraste, las regiones con predominio de climas secos, polares o con relieve abrupto tienen menor concentración de población.

## Concentración y dispersión de la población en un territorio

Con la actividad anterior identificaste cuáles países tienen más habitantes. Sin embargo, para saber si un continente, país, provincia o región se encuentra sobrepoblado o no, necesitas conocer su *densidad de población* o *población relativa*; ésta se determina calculando cuántos habitantes hay por kilómetro cuadrado en un territorio.

Para ello, hay que dividir el número de habitantes entre el área o superficie de su territorio, ya sea una entidad, un país, una región o un continente.

Así, resulta que Asia tiene 118 habitantes por kilómetro cuadrado (hab/km<sup>2</sup>); Europa, 33 hab/km<sup>2</sup>, y África, 28 hab/km<sup>2</sup>.



- ◊ La distribución de la población en el planeta es desigual, ya que hay lugares sobrepoblados y otros casi deshabitados.



- ◆ Nube de contaminación, Santiago de Chile. Fotografía tomada desde el cerro de Santa Lucía.



### Los problemas de la concentración de población

Algunas ciudades densamente pobladas tienen dificultades para proporcionar a todos sus habitantes los servicios que requieren: transporte, drenaje, electricidad y agua potable. Esto se debe, entre otras razones, a que han crecido con gran rapidez porque reciben constantemente a personas que llegan de otras poblaciones en busca de mejores oportunidades de trabajo; por ejemplo, Cancún, en México; Calcuta, en India, y São Paulo, en Brasil.

- ◆ São Paulo es la ciudad más poblada de Brasil; además, sufre graves problemas de contaminación.

