




Desafíos Matemáticos

Quinto grado


Consigna

Por equipo, busquen una manera de trazar lo que se indica en cada caso. En todos los trazos utilicen sus instrumentos geométricos.

1. Tracen un círculo cuyo radio sea el segmento OP.



2. Tracen un círculo cuyo diámetro sea el segmento AB.



3. Tracen cuatro círculos tomando en cuenta las siguientes medidas. Coloreen la circunferencia del color que prefieran.

a) Radio: 3.5 cm


b) Diámetro: 9 cm

c) Diámetro: 6 cm

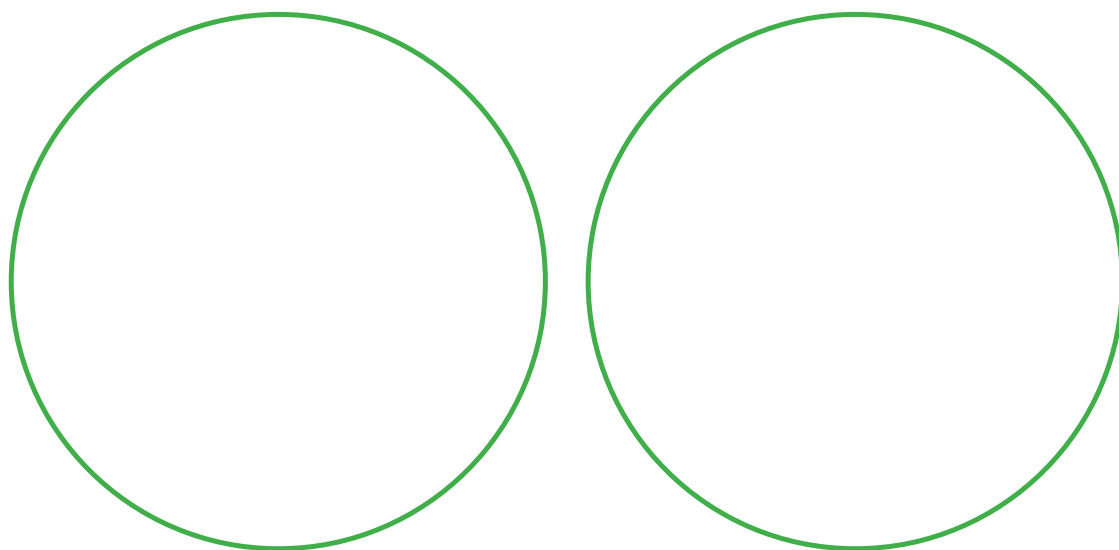
d) Radio: 2 cm




4. Tracen una circunferencia que pase por los cuatro vértices del cuadrado.



5. En el primer círculo, tracen un rectángulo cuyos vértices estén sobre su circunferencia. En el segundo círculo, tracen un triángulo cuyos vértices también estén sobre su circunferencia.



6. Encuentren el centro de la siguiente circunferencia.



7. Reproduzcan la siguiente figura.

