


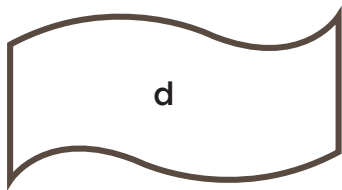

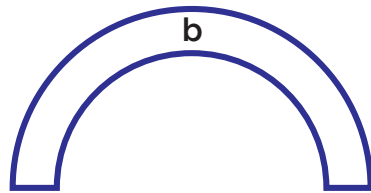



Desafíos Matemáticos

Tercer grado

Consigna 1

En parejas, contesten las preguntas, con base en los diseños que María borda en sus servilletas. Tomen en cuenta que sólo borda la orilla de la figura.



a) ¿En qué diseño ocupa más hilo?

b) ¿En cuál utiliza menos?

c) Ordena los diseños, del que necesita más hilo al que lleva menos.



Consigna 2


En equipos, contesten las siguientes preguntas.

1. Los niños de tercero formaron equipos para construir con tiras de cartulina un portarretratos, donde colocarán la fotografía del grupo. Para ello, midieron los lados de ésta. Enseguida se muestra cómo lo hicieron algunos equipos.

Equipo 1



Equipo 2



Equipo 3



- El equipo 1 dice que mide 8 centímetros con 7 milímetros.
- El equipo 2 afirma que mide 9 centímetros con 7 milímetros.
- El equipo 3 piensa que mide 8 centímetros con 2 milímetros.

a) ¿Cuál de los tres equipos tiene la razón?

¿Por qué?

b) ¿Crees que el lado corto de la foto mide más de 6 cm o menos de 6 cm?

Utiliza una regla para comprobar tu estimación.

El lado corto de la fotografía mide: _____

