

Tercer grado

# Yucatán

La entidad donde vivo



# Las regiones de mi entidad



## COMENZAMOS KO'ONE'EXKÁAJBAL

Ixchel: –Maestra, ¿qué es una región? Hoy escuché en el noticiero que hablaban de la región de la Planicie.

Maestra: –Es una zona que tiene características comunes que la distinguen de otras; por ejemplo, cuando vas a la tienda de autoservicio o al mercado hay una zona donde se encuentran las carnes, otra donde está la ropa y otra para los productos de limpieza. En cada una de estas zonas encontrarás productos similares que se distinguen de los que hay en otras zonas.

Ixchel: –¡Ah! Ya entendí, cuando hablan de la región de la Planicie se refieren a su relieve casi nivelado, el cual la distingue de otras regiones de Yucatán.

¿Estás de acuerdo con Ixchel?, ¿qué tienen en común las regiones de Yucatán?, ¿qué distingue a unas de otras?

Reconocerás características de las regiones de tu entidad.



El supermercado está organizado por zonas.



## APRENDEMOS KANBALNAKO'ON

### Regiones de mi entidad

El territorio de Yucatán, a semejanza de la tienda de autoservicio, está organizado por zonas que comparten características similares, a las cuales se les llama *regiones*. Pero a diferencia de la tienda, lo que distingue a las regiones en nuestra entidad son aspectos naturales, culturales, económicos y sociales. En el primer bloque conociste el relieve de tu entidad y la distribución de algunos de los climas, tomando en cuenta estos aspectos y los límites de los municipios, se pueden identificar en Yucatán tres regiones naturales que se definen con características propias. Éstas son:

- La Costa
- La Planicie
- La Sierra Baja o Sierrita

#### TIC

Si tienes acceso a internet y quieres saber más acerca de las regiones de México y de Yucatán, consulta: <https://mx.all.biz/regions>.

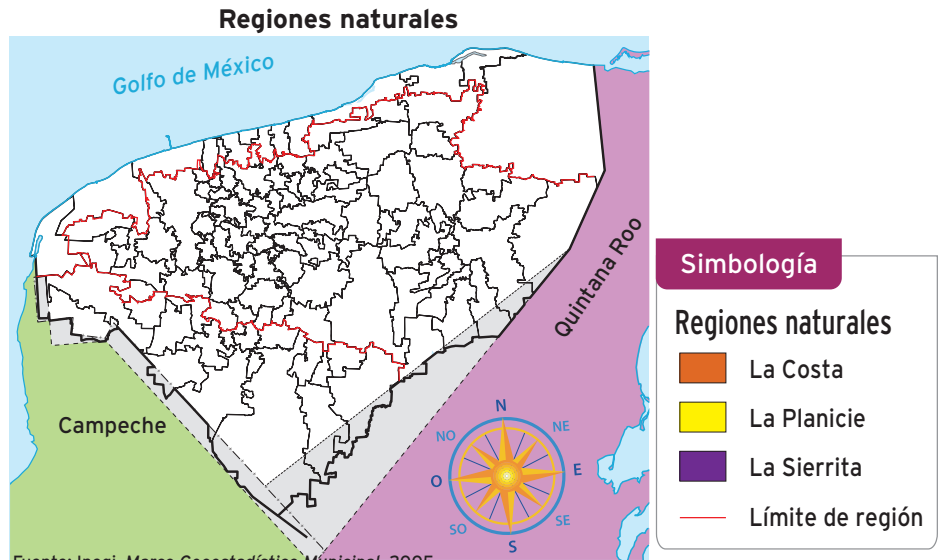


### Observo e identifico

1. Colorea el siguiente mapa como se indica en la simbología.



Iglesia de San Gervasio, situada en Valladolid (región de la Planicie).



2. Compáralo con los mapas de división municipal (página 11), de climas (página 18) y de vegetación (página 19), y contesta.

- ¿Cuál es la región más grande? \_\_\_\_\_
- ¿Qué región tiene más municipios? \_\_\_\_\_
- ¿A qué región pertenece tu municipio? \_\_\_\_\_
- ¿En qué región está el municipio donde se localiza la capital de Yucatán? \_\_\_\_\_
- ¿Qué tipo de relieve y vegetación tiene la región donde se localiza tu municipio? \_\_\_\_\_.

3. Completa las frases.

- La región Costa limita al norte con el \_\_\_\_\_, al sur con parte de \_\_\_\_\_ y con las regiones \_\_\_\_\_ y \_\_\_\_\_.
- La región Planicie limita al este con \_\_\_\_\_ y al oeste con la región \_\_\_\_\_.
- La región Sierrita limita al este con \_\_\_\_\_ y al oeste con \_\_\_\_\_.



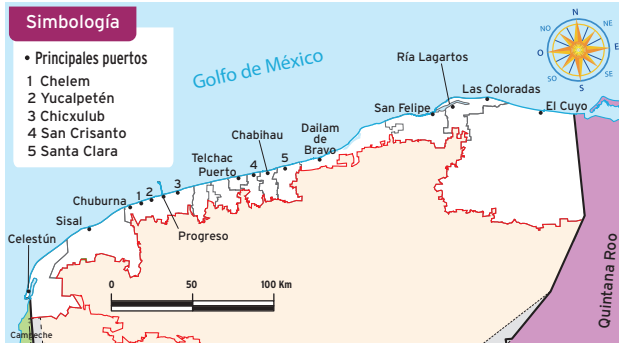
El municipio de Tizimín es el más extenso del estado.



## Analizo y deduzco

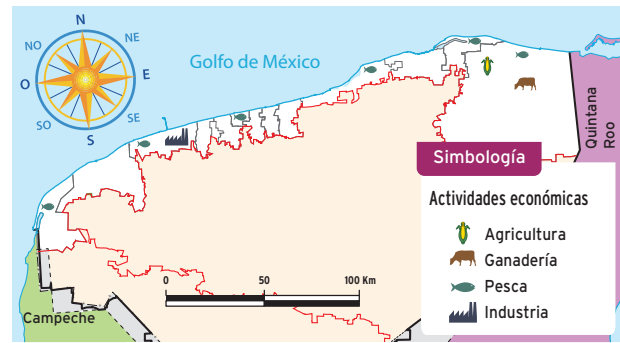
Revisa la información de los siguientes mapas, así como los de climas y vegetación. Contesta en tu cuaderno.

### Principales puertos



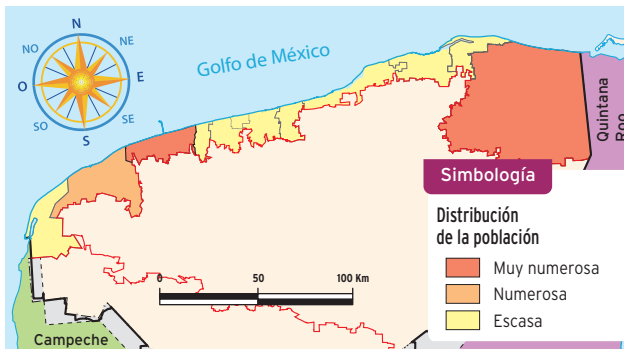
Fuente: Inegi, *Anuario estadístico*, Yucatán, 2009.

### Actividades económicas



Fuente: Inegi, *Anuario estadístico*, Yucatán, 2009.

### Distribución de la población. Región Costa



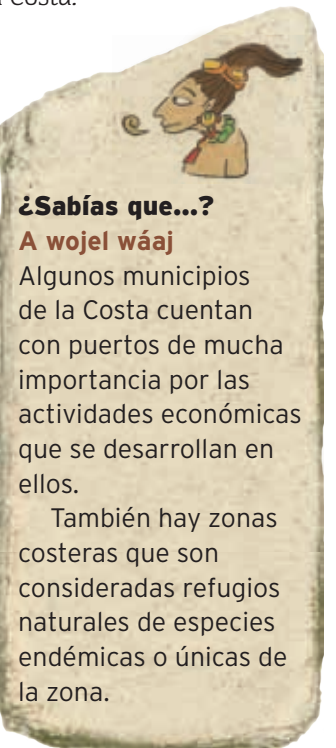
Fuente: *Regionalización del Estado de Yucatán*, Gobierno del Estado de Yucatán, 2008.



Pescadores de la región de la Costa.

- ¿Qué elementos naturales caracterizan a la Costa?
- ¿Qué actividades económicas destacan en esta región?
- ¿Cuáles son los puertos más importantes?
- ¿Cómo es la población en esta región?
- ¿Conoces algún lugar de esta región? ¿Qué te gusta de él?

La región Costa está situada en la parte norte de la península y abarca la región conocida como cordón litoral, donde crece el manglar, que es una gran franja de arena que corre a lo largo de la costa de este a oeste, colinda con las aguas del Golfo de México. La mayoría de la población en esta región se dedica a la pesca, y otra, al turismo y al comercio. En algunos lugares se encuentran bancos de sal que se procesa para el consumo humano.



### ¿Sabías que...?

#### A wojel wáaj

Algunos municipios de la Costa cuentan con puertos de mucha importancia por las actividades económicas que se desarrollan en ellos.

También hay zonas costeras que son consideradas refugios naturales de especies endémicas o únicas de la zona.

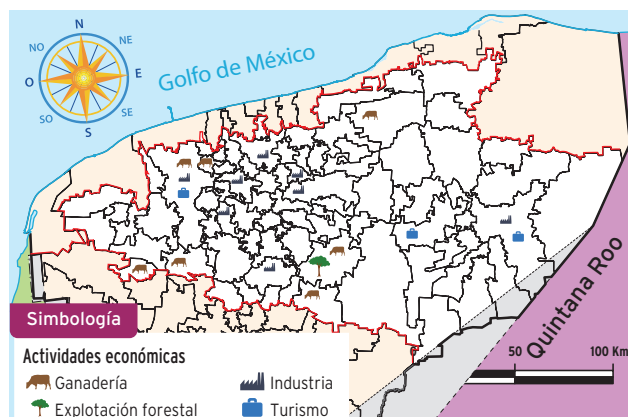


## Comparo y describo

Compara la información de los siguientes mapas y describe en tu cuaderno lo que se pide.

- La ubicación de las actividades económicas.
- La distribución de la población en la región.

### Actividades económicas de la Planicie

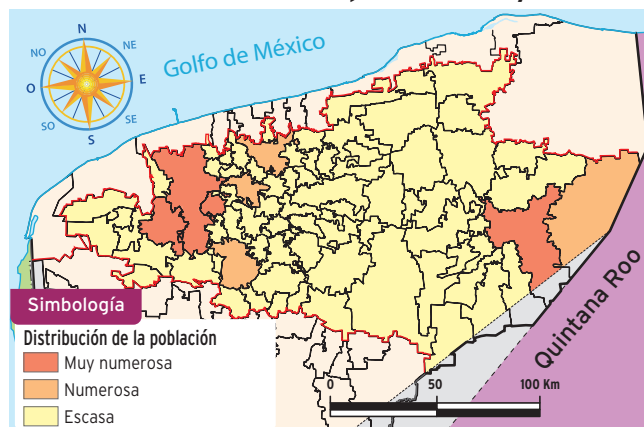


Fuente: Inegi, *Anuario estadístico*, Yucatán, 2009.



Planta industrial


### Distribución de la población maya



Fuente: *Regionalización del Estado de Yucatán*, Gobierno del Estado de Yucatán, 2008.



Plantío de henequén



#### ¿Sabías que...?

##### A wojel wáaj

La Planicie es la región más grande y la más poblada. Cuenta con 76 municipios.

La región conocida como Planicie se encuentra al sur de la costa y abarca el centro y noreste de la entidad. Recibe este nombre porque es una región casi sin pendiente. Actualmente se cultiva maíz, frijol, chile, calabaza, tomate y frutas como aguacate, naranja y mango. La actividad ganadera se basa principalmente en la cría de ganado bovino y porcino y en la avicultura. El turismo, por su parte, es una importante fuente de ingresos debido a la presencia de vestigios mayas en la región.

En la Planicie de Yucatán se localizan importantes sitios arqueológicos como Chichén Itzá y las grutas de Balankanché.

Además de estos lugares se encuentra un corredor llamado Ciudad Industrial, localizado al sur de la ciudad de Mérida, y hacia el norte está la siderúrgica y un polígono industrial.



Iglesia de Ticul, situada en la Ruta Puuc.

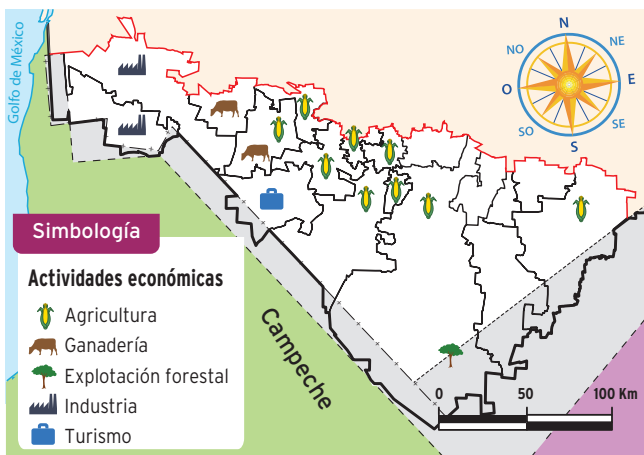


### Relaciono y concluyo

Observa los mapas, relaciona la información y contesta.

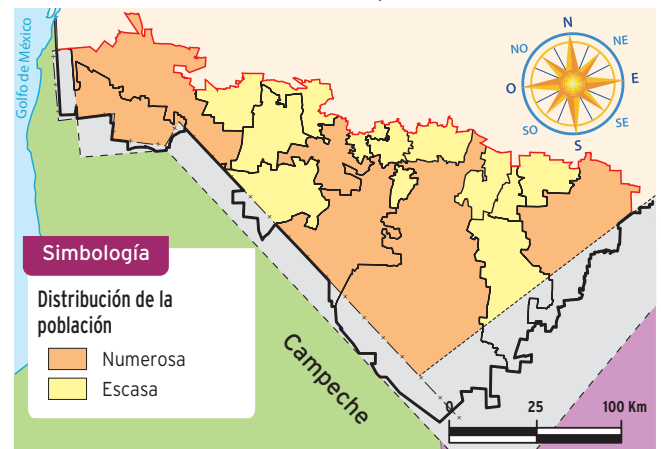
Consulta los mapas de clima y vegetación.

#### Actividades económicas. Sierrita



Fuente: Inegi, Anuario estadístico, Yucatán, 2009.

#### Distribución de la población



Fuente: Regionalización del Estado de Yucatán, Gobierno del Estado de Yucatán, 2008.

- ¿Cómo crees que influyen en el medio natural las actividades económicas de esta región?
- ¿Qué actividad económica domina en la región?
- ¿Cómo es la población que habita en esta región?

La región de la Sierra Baja o Sierrita se localiza al sur y sureste de la entidad, ocupa solamente la quinta parte de la superficie estatal. Esta región comprende una serie de lomeríos y colinas de poca altura. Las principales actividades que desarrollan sus habitantes son la agricultura, apicultura, ganadería, minería, artesanía, comercio y turismo. En esta región se encuentra la Ruta Puuc, recorrido cultural y turístico que incluye poblaciones mayas y sitios arqueológicos: Uxmal, Kabah, Sayil, X-Lapak, Labná, Ticul y las grutas de Loltún.



La cría de ganado es importante en los municipios de Tzucacab y Peto.