

Tercer grado

# Quintana Roo

## La entidad donde vivo



# Tema 1

## En qué entidad vivo

### ¿Qué sabes tú?

Como en segundo grado estudiaste sobre tu localidad y algunas de sus características, vamos a recordar algunos conocimientos. Completa los siguientes enunciados.

- Mi localidad se llama \_\_\_\_\_.
1. Se encuentra en el municipio de \_\_\_\_\_.
  2. Pertenece al estado de \_\_\_\_\_.
  3. El lugar donde vivo es \_\_\_\_\_, y se caracteriza por \_\_\_\_\_.
  4. La mayoría de la gente donde vivo trabaja en \_\_\_\_\_.
  5. Lo que más me gusta de mi localidad es \_\_\_\_\_.
  6. Lo que no me agrada \_\_\_\_\_.

Seguramente conoces este mapa; representa a la República Mexicana, que está formada por 32 entidades organizadas en 31 estados y un Distrito Federal. Quintana Roo se encuentra entre esos estados y juntos integran una federación.



Quintana Roo en la República Mexicana.

Como has podido comprobar en el mapa, nuestra entidad se localiza en el este del país, en la porción oriental de la península de Yucatán. Colinda al norte con el estado de Yucatán y el Golfo de México, al este con el mar Caribe, al sur con dos países: Belice y Guatemala, y al oeste con los estados de Campeche y Yucatán.

Nuestro estado se llama Quintana Roo y su capital es la ciudad de Chetumal. El estado se divide en municipios; el lugar donde vives y lo que te rodea es parte de éste.

### Consulta en...

Revisa en tu libro de *Educación Artística* el bloque III, lección 12, ¿Cómo pinto lo que pinto?, para que experimentes con algunas técnicas de dibujo y pintura, que te permitan mejorar tu mapa.

### Consulta en...

Si quieres conocer más sobre la ubicación y distancia que existe entre tu localidad y la capital de nuestro estado consulta en <http://cuentame.inegi.gob.mx>

### Comprendo y aplico



- Con ayuda de tu maestro, recuerda cuáles son las coordenadas geográficas y responde en tu cuaderno las siguientes preguntas:

¿En qué parte de la República Mexicana se localiza Quintana Roo?

Imprime o dibuja el mapa de la entidad en un material transparente (papel, acetato, mica, otros). Recórtalo y colócalo sobre diferentes estados de la República Mexicana, compara su tamaño.

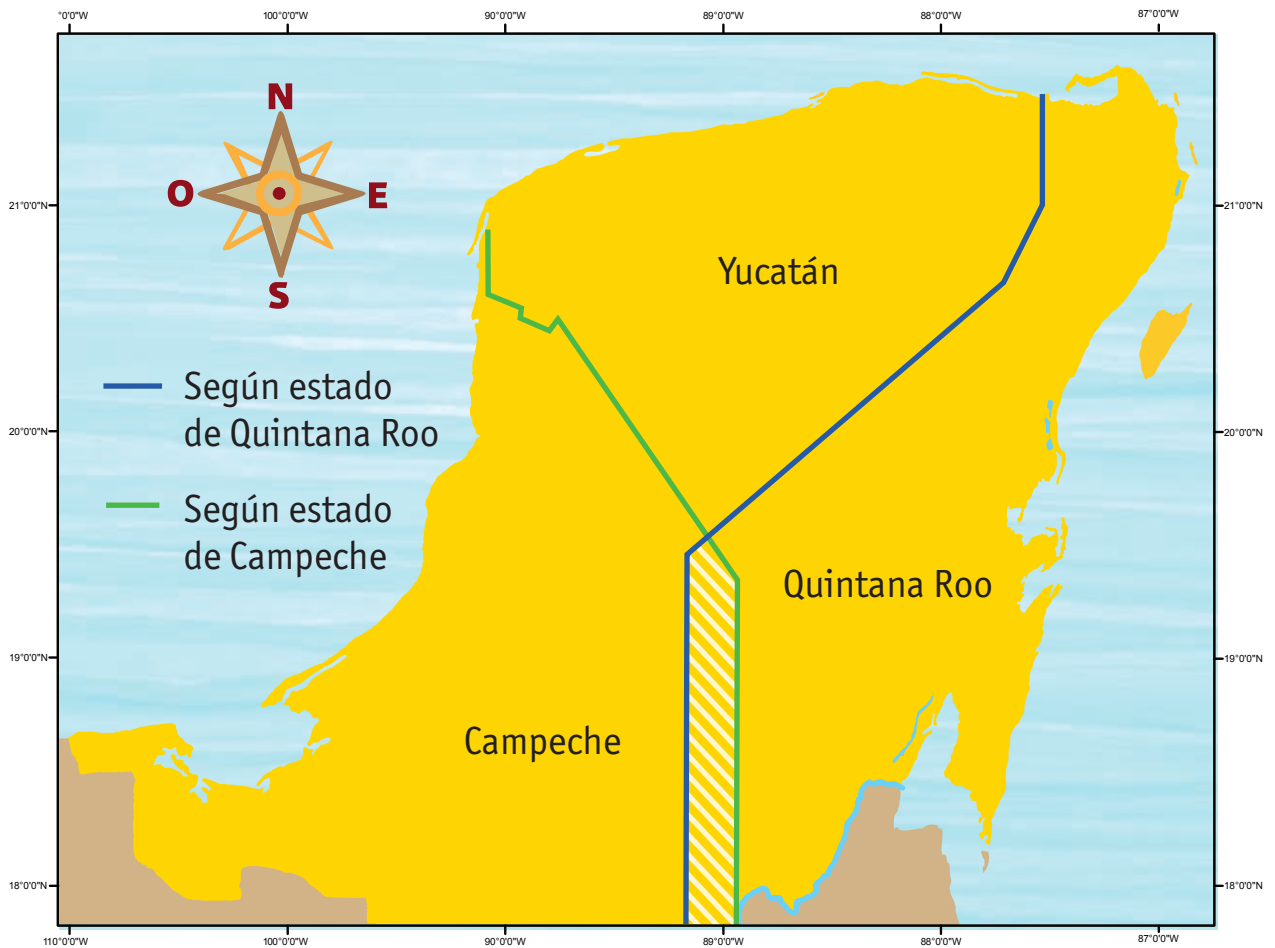

¿Qué estados de la República son más grandes? ¿Cuáles son más pequeños?

Comenta las respuestas con tus compañeros y compáralas consultando el siguiente sitio en internet: <http://cuentame.inegi.gob.mx>; en el apartado información por entidad, señala Quintana Roo y entra a la sección de territorio. También puedes consultar el *Atlas de México*, de cuarto grado.

- Imprime o dibuja el mapa de Quintana Roo y traza los municipios. Protégelo con mica o cinta adhesiva transparente ya que servirá para otras actividades. Éste será el mapa base de Quintana Roo.
- Coloca una hoja transparente, acetato o papel cebolla de tamaño carta encima del mapa base y señala con diferentes colores los límites territoriales de nuestra entidad.
- Señala la capital del estado dibujando una estrella en el mapa.
- Colorea el municipio donde vives e identifica sus límites.
- Organiza con tus compañeros una exposición de los trabajos realizados. Observa la creatividad de cada alumno.
- Guarda el mapa en tu portafolio de evidencias.

## ¿Sabías que...?

De acuerdo con el Inegi, la extensión territorial de Quintana Roo es de 44 705 kilómetros cuadrados, incluyendo sus islas. Quintana Roo sostiene un desacuerdo de límites con los estados de Yucatán y Campeche, por una superficie aproximada de 10 200 kilómetros cuadrados, que se marca con un sombreado en todos los mapas de este libro.



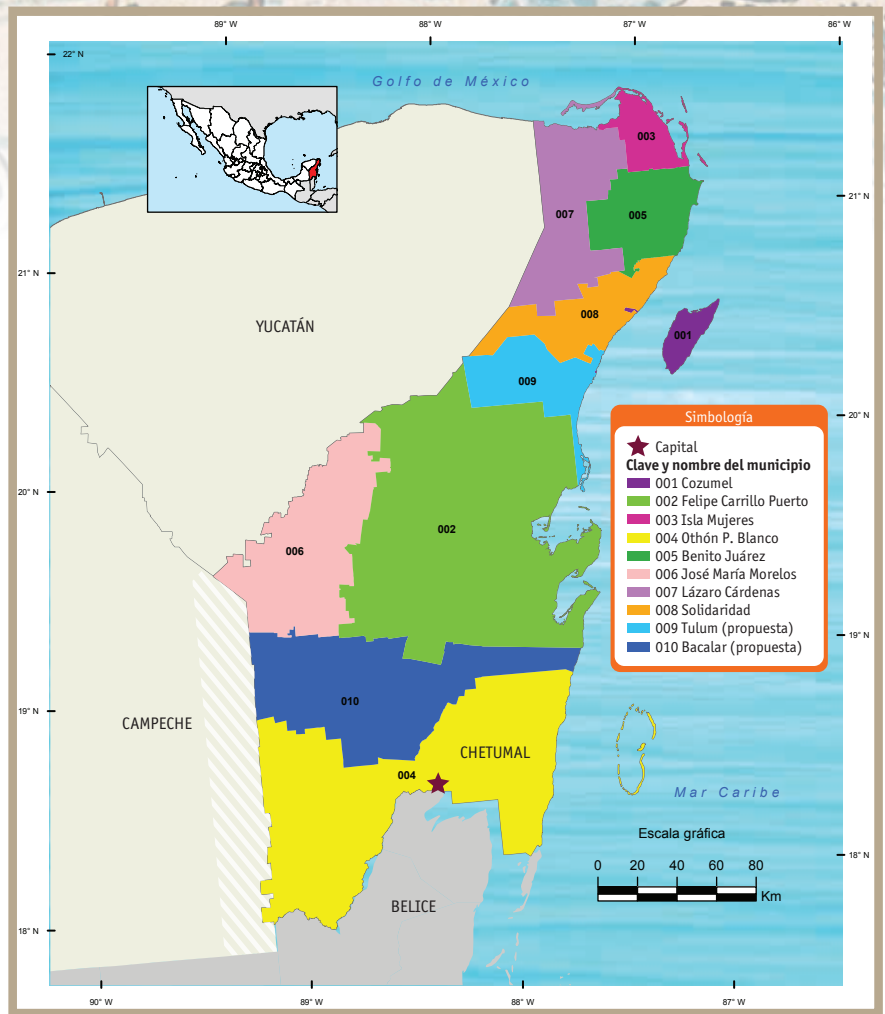
Límites estatales según Campeche y Quintana Roo.

Fuente cartográfica: Inegi. *Marco geoestadístico municipal 2010.*

## Comprendo y aplico

1. Completa el esquema de la página anterior escribiendo el nombre de tu municipio en el centro, observa el mapa y anota lo que falta en los círculos de acuerdo con la rosa de los vientos.
2. Observa el mapa nuevamente y localiza la capital de Quintana Roo, contesta lo siguiente:
  - ¿Cuál es el nombre de nuestra ciudad capital?
  - ¿En qué municipio se encuentra?

De acuerdo con la rosa de los vientos, dentro del estado, ¿en qué punto cardinal se ubica la capital?



Municipios de Quintana Roo.

Fuente cartográfica: Inegi.  
Marco geoestadístico municipal 2010.

## ¿Sabías que...?

Nuestra entidad recibió su nombre en honor al insurgente Andrés Quintana Roo, quien nació en la ciudad de Mérida, Yucatán, el 30 de noviembre de 1787. Estudió en la Ciudad de México y fue un distinguido periodista. Contrajo matrimonio con Leona Vicario y ambos lucharon por la Independencia de México. Fue vicepresidente del Congreso de Anáhuac y participó en la redacción del Acta de Independencia de nuestro país. Murió en la Ciudad de México en 1851.

Puedes consultar los libros de la biblioteca para conocer más sobre Andrés Quintana Roo y su vida política como insurgente.

