

Tercer grado

Yucatán

La entidad donde vivo



Identificarás a los primeros habitantes y culturas prehispánicas de tu entidad.

Reconocerás las características de los lugares de la entidad donde se establecieron grupos prehispánicos.

Consulta en:

Para conocer más acerca de los inicios de la cultura maya te recomendamos el video producido por National Geographic *El amanecer de los mayas*, México, 2004 [Video DVD].

Quiénes fueron los primeros habitantes de mi entidad



COMENZAMOS KO'ONE'EXKÁAJBAL

Miguel y su grupo de la escuela leyeron la siguiente noticia.

Descubren pinturas rupestres de 5 000 años de antigüedad

Antropólogos mexicanos descubrieron cerca de Chichén Itzá, en Yucatán, pinturas rupestres con una antigüedad aproximada de 5 000 años, que se consideran anteriores a la civilización maya.



Pinturas de las Grutas de Kab.

Entre estas pinturas rupestres algunas representan aves o cánidos, y otras son impresiones de manos. Las figuras poseen un estilo rudimentario y están realizadas con una técnica muy antigua. (17 de noviembre de 2007.)

Fuente: periódico *Milenio*, <<http://www.milenio.com/cdb/doc/impreso/7145762>>.

Después de comentar esta noticia, Miguel y su grupo se preguntaron: ¿quiénes serían los primeros habitantes de Yucatán?, ¿cuáles fueron las primeras culturas que se asentaron en la entidad? Tú, ¿qué contestarías?



APRENDEMOS KAAANBALNAKO'ON

Los primeros habitantes

Como viste en la noticia del periódico, científicos de diferentes disciplinas han estudiado con detalle el territorio de nuestra entidad en busca de evidencias que nos aporten información de cuáles fueron los primeros grupos humanos en la entidad y hace cuánto tiempo llegaron a ella.



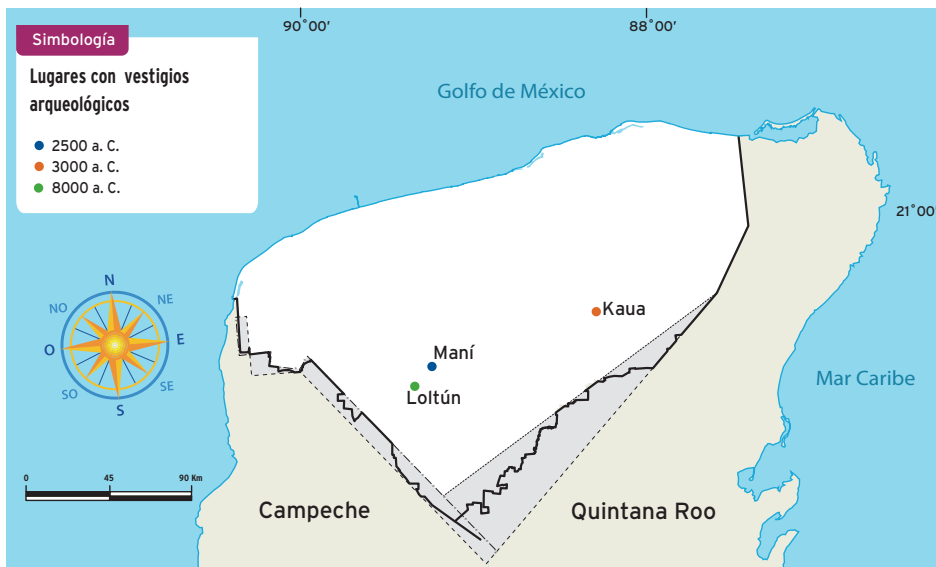
Elaboro y sintetizo

Analiza la información de la página siguiente y contesta. ¿En qué parte de la entidad se descubrieron las primeras evidencias de vida humana? ¿Cuál es la más antigua? ¿A qué municipio actual pertenecen estas zonas? Puedes guiarte con el mapa de división municipal de Yucatán.



Gruta de Loltún.

Kaua, Loltún y Maní, sitios yucatecos con vestigios arqueológicos antiguos

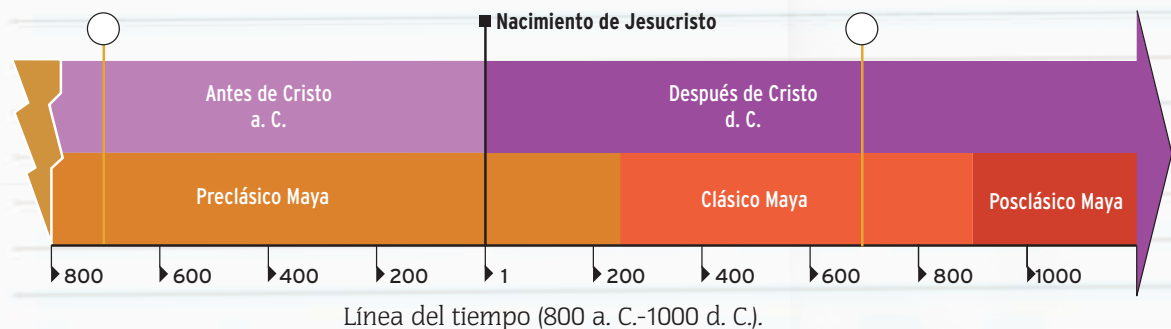


Fuente: INAH, Gobierno Federal y Universidad Autónoma de Yucatán, 2010.



Acerca de... antes y de nuestra era

Los historiadores han establecido que a partir de la fecha del nacimiento de Cristo (d. C) se inicia nuestra era, y que desde ese momento se deben contar los años transcurridos. Por esta razón, cuando un acontecimiento sucedió antes del nacimiento de Cristo (a. C.), es decir, hace más de 2010 años, decimos que ocurrió antes de Cristo. Observa la línea del tiempo.



En las grutas de Loltún se encontró cerámica de entre los años 1000 y 700 a. C. Localiza esta última fecha en la línea del tiempo trazando una ✓ en el círculo correspondiente. ¿En qué lado del año 1 la ubicaste? ¿Por qué?

Elabora en tu cuaderno una línea del tiempo dividida en 12 periodos de cinco años cada uno. Usa la fecha de tu nacimiento como el año 1, o sea, como el punto de referencia para ubicar otros acontecimientos. Luego, coloca en la línea las fechas de nacimiento de cuatro integrantes de tu familia: quienes nacieron después que tú quedarán del lado derecho del año 1, mientras que los nacidos antes que tú estarán del lado izquierdo. ¿Cuántos años antes que tú nació tu mamá?

TIC

Si tienes acceso a internet entra a la página del museo del pueblo maya de Dzibilchaltún para conocer más de los primeros mayas:

<http://www.facebook.com/museopueblomaya>,
<http://www.mayas.uady.mx/articulos/pixan.html>.

Como viste en el mapa anterior, la presencia de los primeros grupos humanos en el actual territorio de Yucatán data del año 8000 a. C., según los estudios realizados por los científicos, a partir de los hallazgos en las grutas de Loltún.

Estos primeros habitantes de Yucatán eran nómadas, es decir, permanecían poco tiempo en cada lugar, pues la búsqueda de alimentos los obligaba a trasladarse de un sitio a otro.

Cuando se desarrolló la agricultura en toda la región, la situación de los grupos nómadas cambió, ya que el cultivo de plantas les aseguró la alimentación; entonces se volvieron sedentarios, lo cual dio inicio a la cultura maya.



Identifico y describo



1. Lean el texto siguiente y ubiquen en el mapa de la página anterior los lugares que a continuación se mencionan.

Los restos más antiguos de la presencia de los mayas datan de hace más de 7000 años, y fueron encontrados en lugares de Guatemala y Belice, así como en Maní y Loltún, asociados a fauna prehistórica. Eran grupos de cazadores y recolectaban semillas, raíces y plantas silvestres, por lo que deambulaban por el territorio. Contaban con fuentes de agua naturales y habían adaptado las llamadas aguadas y los incipientes sistemas de conducción y almacenamiento de agua. Hacia el año 2000 a. C. ya controlaban la producción del maíz, frijol, calabaza, chile, y se convirtieron en agricultores.

Adaptado de Sergio Quezada, *Breve historia de Yucatán*, México, FCE-El Colegio de México (Breves Historias de los Estados de la República Mexicana), 2001, p. 22.



Los cenotes fueron importantes reservas de agua para los antiguos mayas.

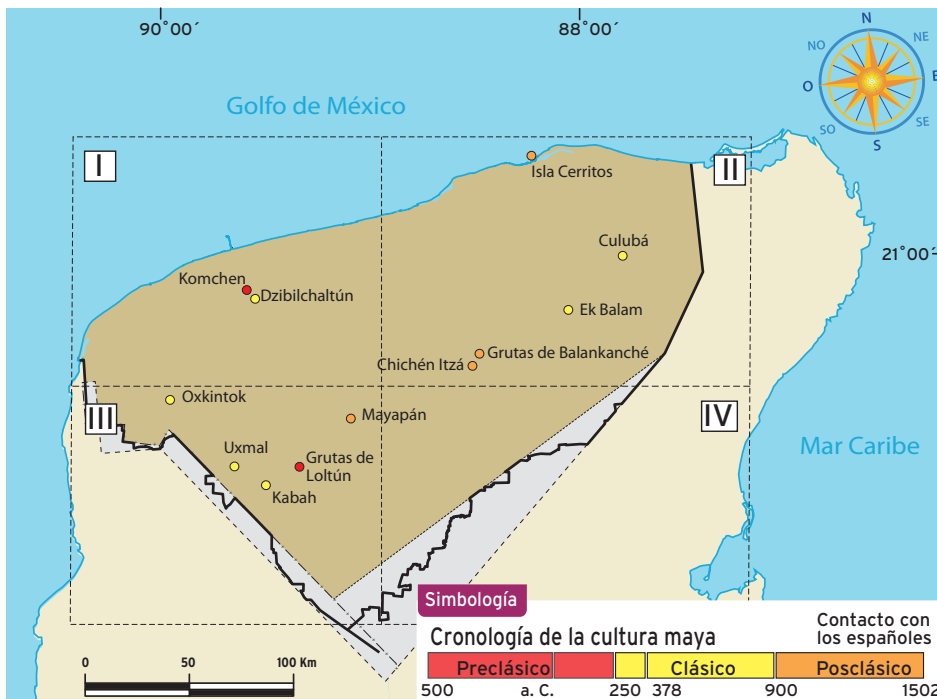
2. Expliquen cómo vivían los primeros pobladores mayas de Yucatán.
3. Describan en qué parte de Yucatán se localizaban los primeros asentamientos humanos.
4. Recuerden la utilidad de la rosa de los vientos para ubicarse.



Analizo y reconozco

1. Observa el siguiente mapa y completa la tabla.

Cronología de la cultura maya



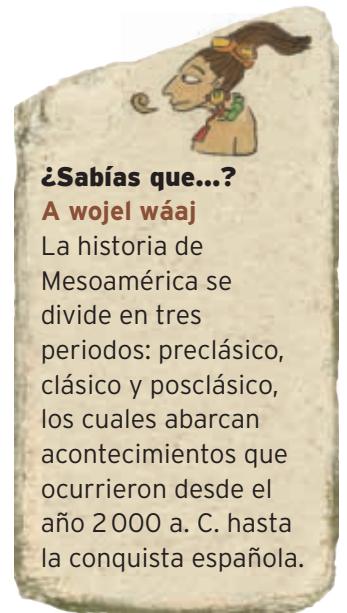
Fuente: Inegi, SCT y <http://thefives.wordpress.com>.

Ciudades mayas en Yucatán

Preclásico	Clásico	Posclásico

2. Anota dos ciudades mayas que existían a. C. ubicadas en el territorio de Yucatán.
3. Escribe el nombre de la ciudad maya más cercana a tu localidad y menciona a qué periodo pertenece.
4. Compara tus respuestas con las del resto del grupo.

La cultura maya alcanzó gran difusión en el actual territorio de Yucatán; a partir de esto podemos preguntarnos qué encontraron los mayas en este territorio que les resultó tan atractivo.



¿Sabías que...?

A wojel wáaj

La historia de Mesoamérica se divide en tres periodos: preclásico, clásico y posclásico, los cuales abarcan acontecimientos que ocurrieron desde el año 2000 a. C. hasta la conquista española.



Templo de las Siete Muñecas, ubicado en la ciudad maya de Dzibilchaltún.

TIC

Si tienes acceso a internet y quieres conocer más de las características naturales de Yucatán entra a: <http://cuentame.inegi.org.mx/monografias/informacion/yuc/territorio/>.



Identifico y sintetizo

Observa los cuadrantes del mapa de la página anterior, revisa los mapas de la lección 2 del bloque I (páginas 15, 18 y 19) y completa la tabla.

Sector	Condiciones naturales (clima, vegetación, relieve, cuerpos de agua)	Ciudades mayas
I		
II		
III		
IV		



Las lagunas de Yucatán proporcionan abundantes recursos naturales. Laguna de Yalahau.

Como te das cuenta, los mayas se asentaron en un territorio rico en vegetación, fauna y agua, aunque mucha de ésta se encontraba oculta en cavernas subterráneas a la que sólo tuvieron acceso en los cenotes y aguadas.

Estos elementos y el uso adecuado de los recursos les permitieron sostener a una población en constante crecimiento y establecer grandes ciudades.

Además, los mayas aprovecharon la situación geográfica de la península, pues desde ahí emprendieron largos viajes para comerciar con otras regiones de Mesoamérica; de esta manera compartieron conocimientos con otras culturas.