

Tercer grado

Yucatán

La entidad donde vivo



Reconocerás características de la población de tu entidad y sus principales actividades económicas.

Quiénes viven en mi entidad



COMENZAMOS KO'ONE'EXKÁAJBAL

Al viajar por localidades de Yucatán, Sofía tomó varias fotografías, entre ellas las dos que aparecen a continuación. ¿Podrías reconocer cuál se relaciona con el campo y cuál con la ciudad? ¿Cuál se parece a tu localidad? ¿Sabes a qué se dedica la gente del campo y de la ciudad? ¿Dónde viven más personas?



Paisaje yucateco.



Paisaje yucateco (vista aérea).

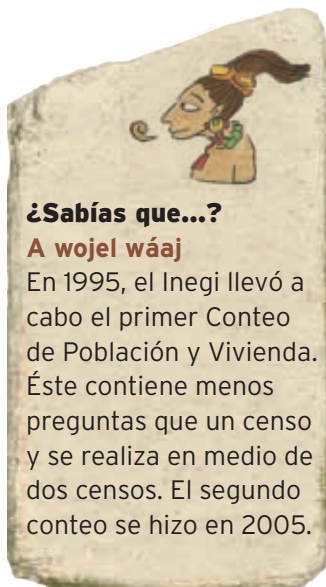


APRENDEMOS KANBALNAKO'ON

Gente por todas partes

Para conocer las características de la población de nuestro país, entidad, municipio o localidad, el Instituto Nacional de Estadística y Geografía (Inegi) realiza cada 10 años el Censo General de Población y Vivienda, el cual consiste en la aplicación de cuestionarios a la población en los que se incluyen preguntas sobre su edad, sexo, lengua, religión, escolaridad, empleo y tipo de vivienda, entre otras.

La información que se obtiene de los censos ayuda al gobierno a conocer cuántos niños, jóvenes, adultos y adultos mayores viven en la entidad y, de esta manera, prever los servicios que necesitará cada grupo de población, como escuelas, clínicas, centros recreativos, fuentes de empleo, entre otros servicios.



¿Sabías que...?

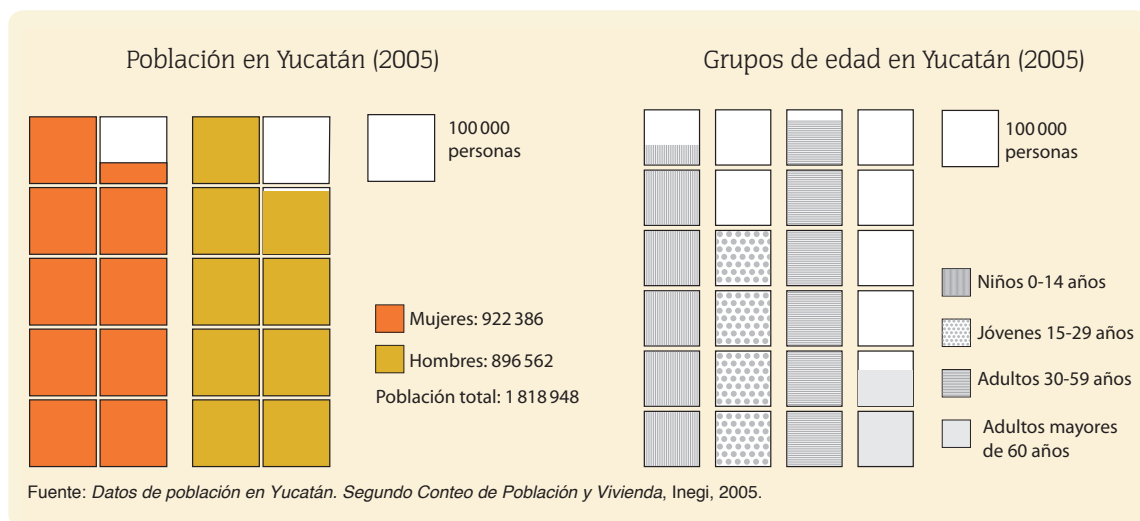
A wojel wáaj

En 1995, el Inegi llevó a cabo el primer Censo de Población y Vivienda. Éste contiene menos preguntas que un censo y se realiza en medio de dos censos. El segundo censo se hizo en 2005.



Observo y analizo

1. Analicen, con la orientación de su profesor, las dos gráficas y enseguida contesten en su cuaderno las preguntas.



- ¿Qué información muestran las gráficas?
- ¿De qué año es la información?
- Según el sexo, ¿qué parte de la población es mayor, la de hombres o la de mujeres?, y según los grupos de edad, ¿cuál es mayor, la de niños, jóvenes, adultos o adultos mayores?
- ¿Cuántos cuadritos representan, de manera aproximada, la población total de Yucatán?
- En el año que se obtuvo esta información, ¿tú y tu compañero ya habían nacido?
- ¿A qué grupos pertenecen tu compañero y tú: ¿hombres o mujeres?, ¿niños, jóvenes o adultos?
- ¿A qué grupo pertenecen el profesor y tus papás? ¿Y tus abuelos?



Además del territorio, uno de los elementos esenciales de una localidad son sus habitantes.

2. En grupo, comenten sus respuestas y discutan acerca de la importancia de esta información para atender las necesidades de la población de cada grupo de edad.

Millón: equivale a 10 veces 100 000.

Como te diste cuenta en la actividad anterior, en 2005 Yucatán tenía una población mayor a un **millón** y medio de habitantes, en la cual había un poco más mujeres que hombres. Si utilizáramos la gráfica anterior para representar el total de la población del país (que es de poco más de 100 millones de habitantes), tendríamos que utilizar 1 000 cuadritos. Por otra parte, ¿observaste que el grupo de edad más numeroso es el de los adultos, seguido del de los niños?



Analizo y explico

1. Revisen la siguiente información.

Hablantes de lengua indígena en Yucatán

Población de más de cinco años que habla lengua indígena en Yucatán, por cada 100 habitantes



Fuente: Segundo Censo de Población y Vivienda, Inegi.

2. Anoten una ✓ en la opción que explique la información anterior referente a la población de Yucatán.

- 33 de cada 100 habitantes hablan lengua indígena.
- 77 de cada 100 habitantes hablan lengua indígena.
- 34 de cada 100 habitantes hablan lengua indígena.

TIC

Reconoce cuántos niños de tu edad hay en Yucatán, consulta la página del Inegi: <http://cuentame.inegi.org.mx/>.

Selecciona el icono Información por entidad, en el mapa da clic en "Yucatán", elige "Población" y busca ¿Cuántos son como tú?

En el ámbito nacional tan sólo 7 de cada 100 personas hablan lengua indígena. En el caso de Yucatán, la población está conformada por mestizos y por una gran cantidad de indígenas, como pudiste ver en la actividad anterior. En este grupo dominan los mayas y, en menor grado, choles, tzeltales y zapotecos procedentes de los estados vecinos. En diferentes momentos de la historia ha llegado a esta entidad población alemana, coreana y libanesa, cuyos descendientes se han mezclado con el resto de los habitantes.

Acerca de... leer símbolos en los mapas

Para representar información de un mismo tema, cuyos valores cambian de un lugar a otro o su importancia es distinta, en los mapas se usa un símbolo que varía de tamaño según su mayor o menor valor.

Por ejemplo, en el mapa de abajo, el tamaño del círculo aumenta conforme la ciudad tiene mayor número de habitantes. El círculo más pequeño indica que esas ciudades tienen entre 10 000 y 25 000 habitantes.

También, el grosor de la línea cambia para diferenciar la importancia de las carreteras.

Observa en el mapa la distribución de las principales ciudades de Yucatán. ¿Cuántos tamaños reconoces?

Total del ganado por tipo de carne (millones de cabezas)

Vacuno	Porcino
 Más de 50	 Más de 20
 20 a 50	 10 a 20
 10 a 20	 5 a 10

Observo y analizo



1. Realiza en el siguiente mapa lo que se indica.
 - Encierra con rojo las ciudades con más de 500 000 habitantes, y con azul las que tienen entre 25 000 y 50 000. ¿Qué ciudades tienen esta cantidad de habitantes?
 - Da ejemplos de:
 - Las localidades más pobladas.
 - Las localidades menos pobladas.
2. Describe en tu cuaderno cómo se distribuye la población en tu entidad.



Las localidades urbanas concentran mucha población, pues llega gente de las zonas rurales.

Principales ciudades de Yucatán



Fuente: estimaciones del Conapo, con base en los censos de población de 1990 y 2000, y el Censo de Población y Vivienda de 1995.



¿Sabías que...?

A wojel wáaj

En Yucatán sólo tres municipios concentran poco más de la mitad de la población del estado:

Mérida (781 146 habitantes), Tizimín (69 863) y Valladolid (68 863).

Segundo Censo de Población y Vivienda, Inegi, 2005. Tomado de: <<http://cuentame.inegi.org.mx/monografias/informacion/yuc/poblacion/default.aspx?tema=me&e=31>>.

La población de Yucatán se concentra en unas cuantas localidades. Principalmente en la ciudad de Mérida, que reúne cerca de 43% del total de la población; es decir, de cada 100 personas, 43 viven en esta ciudad.

Campo y ciudad

En segundo grado estudiaste que la gente vive en el campo o en la ciudad. Al primer grupo se le llama **población rural**, y al que habita en las ciudades, **urbana**. Una característica que diferencia las localidades es el número de habitantes; con base en esto hay diferentes criterios para clasificarlas: uno de ellos consiste en que las que tienen 15 000 o más habitantes se consideran urbanas, y las que tienen menos de esta cantidad son rurales.



Reconozco y analizo

1. Observa el mapa de la página anterior y, con base en la simbología, completa la tabla.

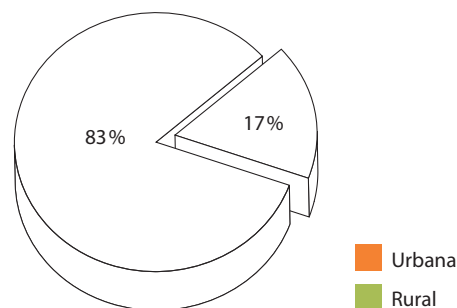
Localidades en Yucatán	
Urbanas	Rurales

2. Colorea cada área del círculo como se indica y responde:

- ¿Qué tipo de población predomina en Yucatán?
- ¿A qué tipo de población pertenece tu localidad?

3. Lee el recuadro de la izquierda, investiga las características de la población rural y anota en tu cuaderno las principales diferencias.

4. Compara la información obtenida con lo que observas en tu localidad y escribe a cuál de las dos se parece más la tuya.



Distribución de la población yucateca, 2005.

Características de la población urbana

- Muchas viviendas y construcciones.
- Menos zonas de vegetación.
- Más y mejores servicios públicos.
- Más y mejores instituciones educativas, culturales, recreativas y de salud.
- Diversos medios de comunicación y transporte.
- Se dedica sobre todo a las actividades relacionadas con el comercio, los servicios y la industria.

En qué trabajan los yucatecos

La población de nuestra entidad realiza diferentes actividades económicas para satisfacer sus necesidades.



Observo y analizo

Observa la información, colorea la parte que falta de cada círculo y contesta.

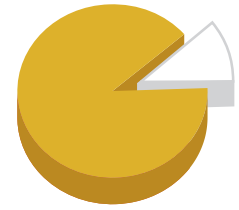
Agricultura, ganadería, pesca, minería y explotación forestal

Objetivo: generar alimentos y materias primas.



Actividades económicas primarias.

Personas ocupadas en la entidad



11 de cada 100 personas trabajan en estas actividades.

Industria y generación de electricidad

Objetivo: transformar los alimentos y las materias primas en productos que facilitan la vida de las personas: muebles, alimentos, ropa, etcétera.



Actividades económicas secundarias.



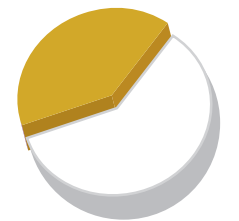
29 de cada 100 personas trabajan en estas actividades.

Comercio, turismo, servicios públicos, comunicaciones y transportes

Objetivo: facilitar la actividad productiva de los otros sectores.



Actividades económicas terciarias.



60 de cada 100 personas trabajan en estas actividades.

- ¿En qué actividades trabaja la mayor parte de la población yucateca?
- ¿Cuál de estas actividades observas en la localidad donde vives?
- ¿En qué grupo de actividades trabajan tus padres?