

Tercer grado

Yucatán

La entidad donde vivo



Reconocerás los límites territoriales de tu entidad y del municipio donde vives.



Los mapas ofrecen información para ubicar lugares.

En qué entidad vivo



COMENZAMOS KO'ONE'EXKÁAJBAL

Rocío vive en la ciudad de Guadalajara, Jalisco. El verano pasado fue de vacaciones con su prima Itzel, que vive en la ciudad de Mérida, en el estado de Yucatán. Rocío y sus papás viajaron en avión porque tenían que recorrer una gran distancia; durante el trayecto, Rocío se preguntó cómo saber a qué parte del país se dirigía el avión, qué debía consultar para localizar la entidad del país donde se ubica la ciudad de Mérida y cómo reconocería en un mapa esta entidad, entre otras. Comenten en grupo las respuestas que podrían dar a estas preguntas.



APRENDEMOS KANBALNAKO'ON

Algo sobre mi entidad

En segundo grado trabajaste con un mapa de la república mexicana y aprendiste que el territorio nacional se divide en 32 entidades federativas, y que una de ellas es Yucatán.



Observo y comparo



Reúnete con un compañero, identifiquen el estado de Yucatán en el mapa de la siguiente página y contesten.

- ¿Qué forma tiene el estado de Yucatán?
- ¿En el país hay otras entidades con la forma y el tamaño semejantes a los de Yucatán? ¿Cuáles?
- ¿Qué entidades son más pequeñas que Yucatán? ¿Cuáles son más grandes? Anota tres de cada una.
- ¿Cómo se llama la capital de Yucatán?

Litoral: línea de contacto entre el mar y la tierra firme.

Como observaste, el estado de Yucatán, por su forma, parece un triángulo invertido, cuya base —el **litoral**— queda al norte del estado y su vértice al sur, justo en el límite con Campeche y Quintana Roo, en un lugar llamado Punto Put, abreviatura de punto de unión territorial.

Localización del estado de Yucatán



Proyección gráfica del estado de Yucatán en la república mexicana.

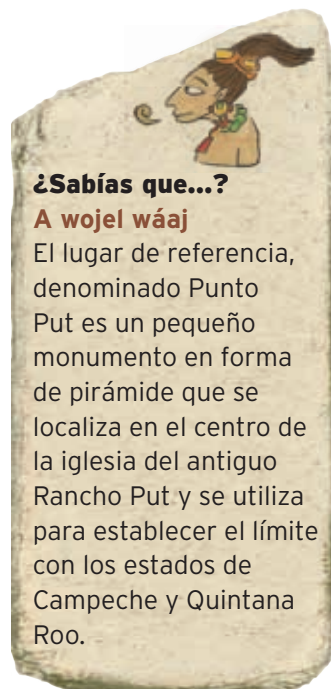
Los límites de Yucatán

Para localizar e indicar los límites de una localidad, entidad o país se usan los puntos cardinales: Norte, Sur, Este y Oeste, indicados en los mapas con la rosa de los vientos. Así, de acuerdo con la rosa del mapa de arriba, podemos decir que nuestro estado se localiza en el sur y al este de la república mexicana, en la llamada **península** de Yucatán.

Los límites territoriales o las líneas divisorias quizá te son familiares, por ejemplo, tu casa y la de tus vecinos están separadas por bardas, árboles o alambrados que marcan dónde termina cada propiedad. De igual manera, los países, estados y municipios establecen dónde empieza y termina cada territorio. Para ello, se han fijado límites que pueden ser naturales, como volcanes, ríos, mares u otro elemento natural; o artificiales, que consisten en líneas imaginarias trazadas en los mapas y se indican con monumentos en el terreno.

Península:

porción de tierra parcialmente rodeada por el océano y unida al continente.



¿Sabías que...?

A wojel wáaj

El lugar de referencia, denominado Punto Put es un pequeño monumento en forma de pirámide que se localiza en el centro de la iglesia del antiguo Rancho Put y se utiliza para establecer el límite con los estados de Campeche y Quintana Roo.

Acerca de... cómo orientarnos

Para ubicar una casa, la escuela u otro lugar de nuestra localidad es necesario orientarnos; una forma es tomando como referencia al Sol. Así que por la mañana haz lo siguiente:

- Párate en un punto del patio de la escuela y extiende los brazos horizontalmente, de manera que la mano derecha señale el lugar por donde sale el Sol. En las mañanas sale por el **Este**.
- En esta posición, tu mano izquierda señalará el punto cardinal **Oeste**, por donde se mete el Sol; la derecha queda al **Este**; frente a ti quedará el **Norte** y a tu espalda el **Sur**.
- ¿Hacia qué puntos cardinales se ubican tu salón de clases y la oficina del director de tu escuela?



Los mapas ofrecen información para ubicar lugares.

Límites geográficos de Yucatán



Localizo e identifico

Observa el mapa de la izquierda y haz lo siguiente.

- Escribe el nombre de los límites de Yucatán:

Al norte: _____

Al sur: _____

Al este: _____

Al oeste: _____

- En el mapa, colorea con azul el límite natural de Yucatán.
- Remarca con rojo las líneas que sirven de límite artificial a Yucatán con Campeche y Quintana Roo.
- Usa un color distinto para iluminar los estados vecinos de Yucatán.

Mis vecinos

Así como el país se organiza en entidades federativas, los estados se dividen en territorios de menor tamaño llamados municipios, en los cuales puede haber una o varias localidades. Esta división agiliza los asuntos que debe solucionar el gobierno estatal, como la administración y la prestación de los servicios que requiere la población.

En la actualidad, Yucatán tiene 106 municipios, cada uno con una cabecera municipal que, por lo general, es la población con más habitantes y donde reside el gobierno municipal.



Investigo y represento

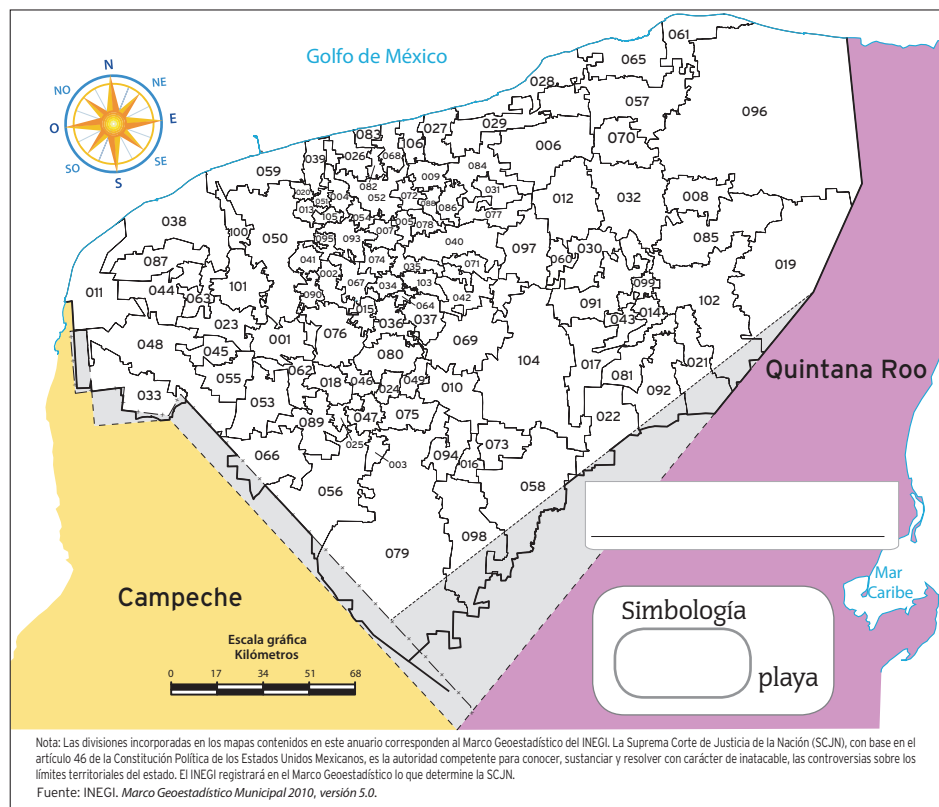
Investiga en mapas, libros o páginas de internet dónde se ubica el municipio en el que está tu localidad. Puedes pedir apoyo a un familiar.

- En el mapa de abajo colorea de rojo tu municipio y escribe su nombre en el recuadro en blanco.

TIC

Si quieres conocer los nombres de cada municipio de Yucatán o necesitas imprimir mapas de tu entidad que tengan división municipal, ingresa a la página del Inegi: <http://cuentame.inegi.gob.mx/mapas/yuc.aspx?tema=M>.

División municipal de Yucatán



Acerca de... elementos de un mapa

En los mapas, además de la rosa de los vientos, encontramos otros elementos que nos ayudan a leer su contenido.

Simbología. Es un recuadro donde se indica el significado de los colores, las figuras, los signos y las palabras que aparecen en el mapa.

Escala. Es una especie de regla graduada que nos ayuda a conocer el tamaño y las distancias reales que se representan en el mapa. Con ella podemos saber a cuántos metros o kilómetros equivale cada centímetro medido en el mapa.

- En el mapa anterior localiza los municipios de Celestún, Progreso, Dzilam de Bravo y Telchac Puerto, que tienen hermosas playas.
- Crea un símbolo que indique playa; dibújalo en estos municipios y en el recuadro de simbología.
- Para los mapas que hagas en los siguientes temas, investiga sobre los símbolos convencionales o que son comunes en todos los mapas para que los dibujes.



Hospital



Mercado



Aeropuerto



Ferrocarriles



Represento y localizo

1. Colorea el mapa de la página anterior como se indica en la simbología.
2. Investiga los nombres de los municipios con los que limita el tuyo, y completa el siguiente esquema con ayuda de tu maestro.

Mi municipio se llama _____; sus límites son:

Al norte: _____

Al sur: _____

Al este: _____

Al oeste: _____

3. Observa el mapa de la página anterior y contesta las preguntas:
 - ¿Tu municipio es de los más grandes o de los más pequeños?
 - ¿Tu municipio tiene costa?
 - ¿Cómo se llama la localidad donde vives?

TIC _____

Si quieres saber más de tu municipio, consulta la página del gobierno del estado de Yucatán:

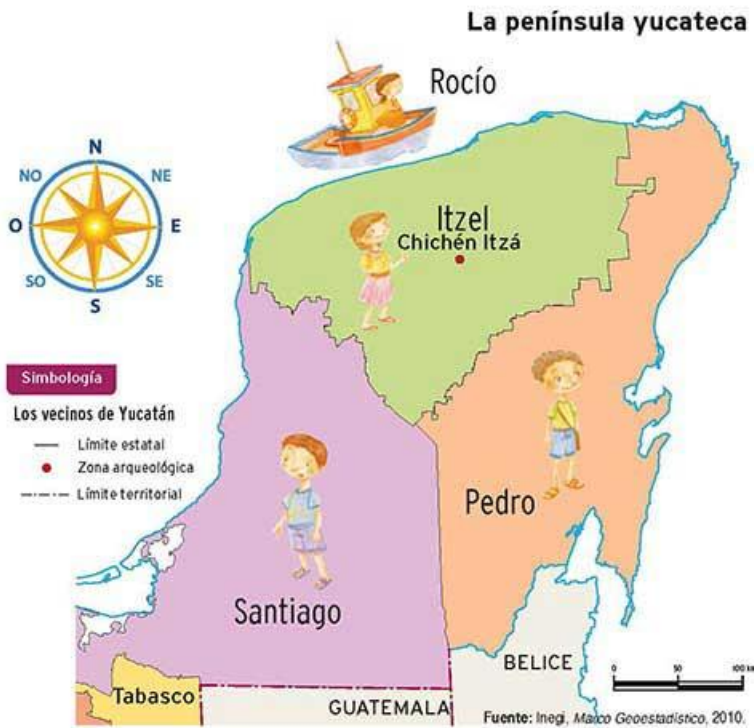
<http://www.yucatan.gob.mx/estado/municipios>,

elige tu municipio y da clic en ficha técnica.



LO QUE APRENDÍ BA'AX TIN KANAJ

1. Observa el mapa y une con una línea las situaciones correctas.



Chichén Itzá.

Yucatán es la...

Campeche. En él vive

Santiago

Yucatán limita al norte con...

Quintana Roo. Ahí vive

Rocío

Yucatán limita al este con...

el golfo de México. Ahí está

Itzel

Yucatán limita al oeste con...

entidad donde vive

Pedro

2. Lee la siguiente situación y completa el texto. Consulta el mapa de la página 11.

Itzel vive en el municipio de Tinum, donde se localiza la zona arqueológica de Chichén Itzá. Imagina que vas a ir de visita a este sitio junto con tu familia.

Yo me llamo _____ y vivo en la localidad de _____, que se encuentra en el municipio de _____.

Para ir a Chichén Itzá nos dirigimos hacia el punto cardinal _____.