

Nuevo León

La entidad donde vivo





1. Universo: Vía Láctea



2. Planeta: Tierra



3. Continente: América



4. País: México




5. Entidad: Nuevo León

1. Mi entidad, su territorio y sus límites

Nuevo León es una de las 32 entidades federativas de los Estados Unidos Mexicanos. Se encuentra en el noreste de nuestro país y tiene una frontera de 14 kilómetros con Estados Unidos de América.

En la imagen satelital número 1, puedes observar la Vía Láctea, que es la galaxia donde se encuentra nuestro planeta. En la siguiente imagen se observa el planeta Tierra, después el continente americano, nuestro país y el estado donde vives.

¿Sabías que el nombre oficial de México es Estados Unidos Mexicanos?



Identifico

Localizo mi estado

¿Qué observas en cada ilustración de la página anterior?

1. _____ 2. _____ 3. _____
4. _____ 5. _____

✘ **Completa la frase:** Nuevo León forma parte de _____

El nombre oficial de México es Estados Unidos Mexicanos.

¿En cuántas entidades federativas se divide nuestro país? _____

Identifica y colorea el entorno de Nuevo León sobre el mapa.



Ahora que ya sabes dónde se localiza tu estado, escribe los datos que se solicitan a continuación. Pregunta a tus familiares lo que no sepas.

Nombre: _____

Calle: _____ Número: _____

Colonia: _____

Población o ciudad: _____ Municipio: _____

Estado: _____ País: _____



Identifico

Los puntos cardinales

Desde hace mucho tiempo, los seres humanos establecieron puntos de referencia que les sirvieron para orientarse y localizar lugares en el espacio terrestre y representarlos en los mapas. El sitio por donde sale el sol resultó muy útil para ello. A estas referencias les llamaron *puntos cardinales*.

Para poder identificar los puntos cardinales primero encuentra el punto por donde sale el sol; ahora, extiende tus brazos y señálalo con tu mano derecha: estarás apuntando hacia el este (E); mientras tu mano izquierda señala el oeste (O); tu mirada el norte (N); y tu espalda el sur (S).



El sol sale por el este.


En los mapas es igual. Es como si tú te pararas en el centro del mapa. A la derecha siempre estará el este, a la izquierda el oeste, hacia arriba el norte y hacia abajo el sur.

¿Te diste cuenta de que los puntos cardinales se escriben abreviados?

✘ **Elabora en equipo una rosa de los vientos. Utiliza un acetato para ponerlo sobre el mapa y ubicar los puntos cardinales.**


También podrás localizar los puntos intermedios:

- Noreste (NE)
- Suroeste (SO)
- Sureste (SE)
- Noroeste (NO)



¿En cuál de los puntos intermedios se ubica Nuevo León? _____

La rosa de los vientos sirve como brújula para orientarnos; aparece en todos los mapas.



Identifico

Los límites territoriales de Nuevo León

Como te habrás dado cuenta, Nuevo León tiene algunos estados vecinos y también limita con otro país.

✂ Investiga con qué país colindamos al norte: _____



Busca en el mapa qué estados colindan con Nuevo León y escríbelos a continuación.

Al norte: _____

Al sur: _____

Al este: _____

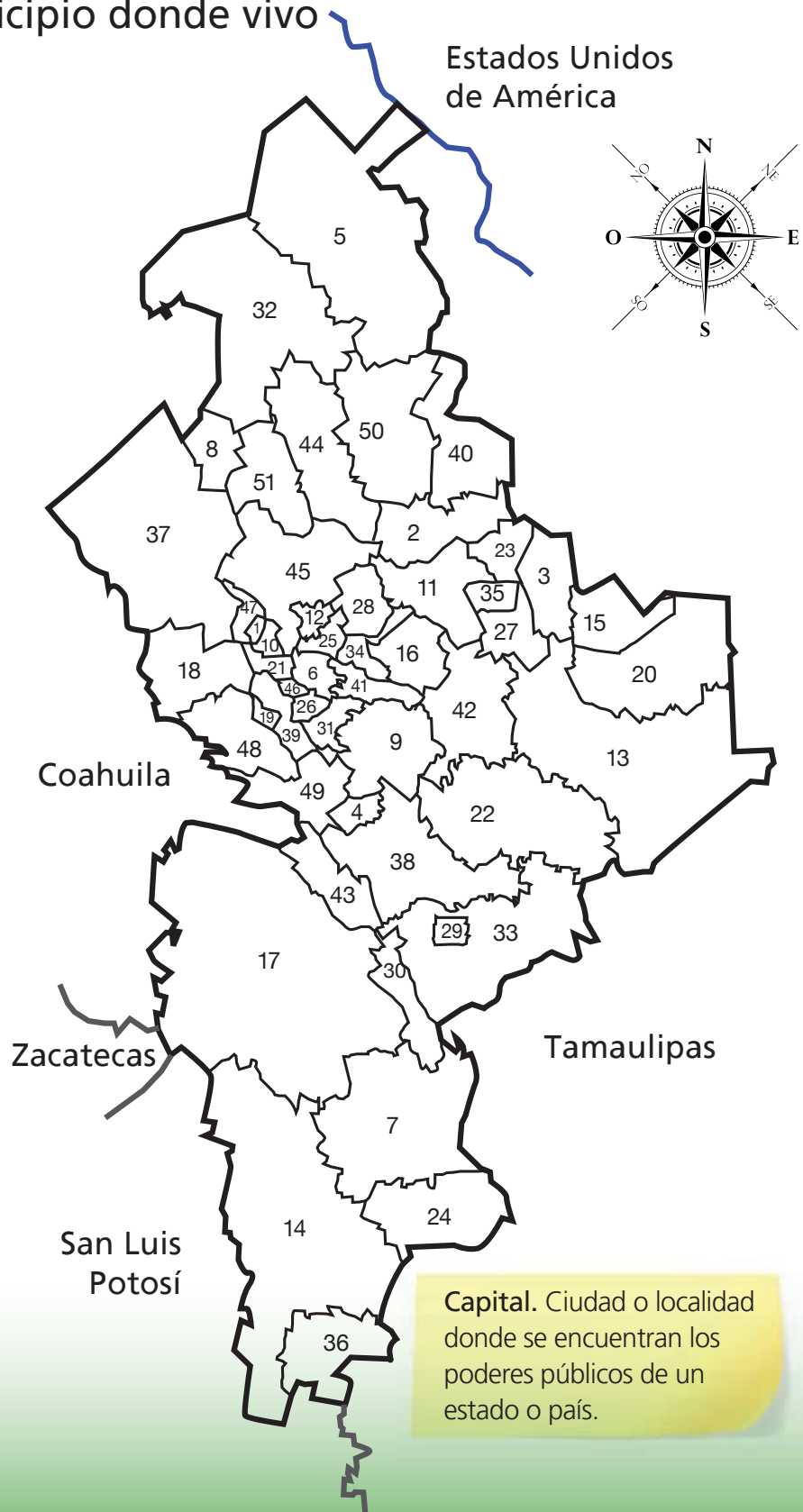
Al oeste: _____



Identifico

El municipio donde vivo

Con el propósito de gobernar y administrar mejor el estado, Nuevo León está dividido en 51 municipios, que son territorios pequeños, cada uno con su propio ayuntamiento y su presidente municipal. Forman parte de los municipios: las congregaciones, los pueblos, los ejidos y los ranchos que se encuentran dentro de su territorio. Uno de estos pueblos o ciudades es la cabecera municipal, donde se encuentra el presidente municipal. La **capital** de nuestro estado es la ciudad de Monterrey.



Municipios de Nuevo León

1	Abasolo	27	Los Herreras
2	Agualeguas	28	Higueras
3	Los Aldamas	29	Hualahuises
4	Allende	30	Iturbide
5	Anáhuac	31	Benito Juárez
6	Apodaca	32	Lampazos de Naranjo
7	Aramberri	33	Linares
8	Bustamante	34	Marín
9	Cadereyta Jiménez	35	Melchor Ocampo
10	El Carmen	36	Mier y Noriega
11	Cerralvo	37	Mina
12	Ciénega de Flores	38	Montemorelos
13	China	39	Monterrey
14	Doctor Arroyo	40	Parás
15	Doctor Coss	41	Pesquería
16	Doctor González	42	Los Ramones
17	Galeana	43	Rayones
18	García	44	Sabinas Hidalgo
19	San Pedro Garza García	45	Salinas Victoria
20	General Bravo	46	San Nicolás de los Garza
21	General Escobedo	47	Hidalgo
22	General Terán	48	Santa Catarina
23	General Treviño	49	Santiago
24	General Zaragoza	50	Vallecillo
25	General Zuazua	51	Villaldama
26	Guadalupe		

✘ **Observa la lista de los municipios de Nuevo León y encuentra el municipio donde vives.**

Ya que lo encuentres, fíjate en el número que le corresponde, localízalo en el mapa y coloréalo.

Ahora identifica con qué otros municipios limita.

Al norte: _____ Al sur: _____

Al este: _____ Al oeste: _____

Escribe el nombre de la capital del estado _____

¿Dónde se encuentra? Señálala en el mapa.



Juego y aprendo

Las entidades de los Estados Unidos Mexicanos

¿Qué se necesita?

Jueguen con la rosa de los vientos que hicieron en acetato para ubicar las entidades del mapa.

¿Cómo se juega?

1. Formen equipos.
2. Escriban en una hoja los nombres de las 32 entidades de nuestro país y recórtenlos.
3. Coloquen los nombres recortados en una caja o recipiente que pueda permanecer cerrado.
4. Cada uno de los integrantes del equipo sacará, con los ojos cerrados, el nombre de una entidad.
5. Al abrir los ojos, deberá utilizar la rosa de los vientos para mencionar la localización de la entidad en el mapa, luego, describirá su ubicación y colindancia con otras entidades sin decir el nombre.
6. Los demás integrantes tratarán de adivinar el nombre de la entidad.
7. Cada respuesta correcta tendrá el valor de un punto.
8. Ganará quien consiga el mayor número de puntos.

