


Tercer grado

# Michoacán

La entidad donde vivo





Identifico las principales características de la Conquista, colonización y Virreinato en mi entidad.

Localizo los principales pueblos y ciudades virreinales de mi entidad e identifico sus características.

## La Conquista, la colonización y el Virreinato en mi entidad



### PUNTO DE PARTIDA



Encuentro de Cristóbal de Olid con el Calzontzin de Michoacán en 1522.

Lupita encontró esta imagen en un libro. Ella sabe que muestra a Cristóbal de Olid y al Calzontzin, o gobernante indígena, en una reunión que tuvieron en 1522.

¿Sabes qué había pasado un año antes? ¿Por qué crees que se reunieron?

Observa detenidamente la imagen, ¿qué ves en ella?, ¿cómo es la gente?

La llegada de los españoles a América significó el encuentro

de dos mundos, es decir, de dos realidades muy distintas. En esta imagen lo puedes ver.



### CONOZCAMOS

#### La Conquista

En 1521, Hernán Cortés logra derrotar al imperio mexica y tomar la Ciudad de México-Tenochtitlán. Con esto inicia el proceso de conquista y colonización del resto de las civilizaciones indígenas del país.

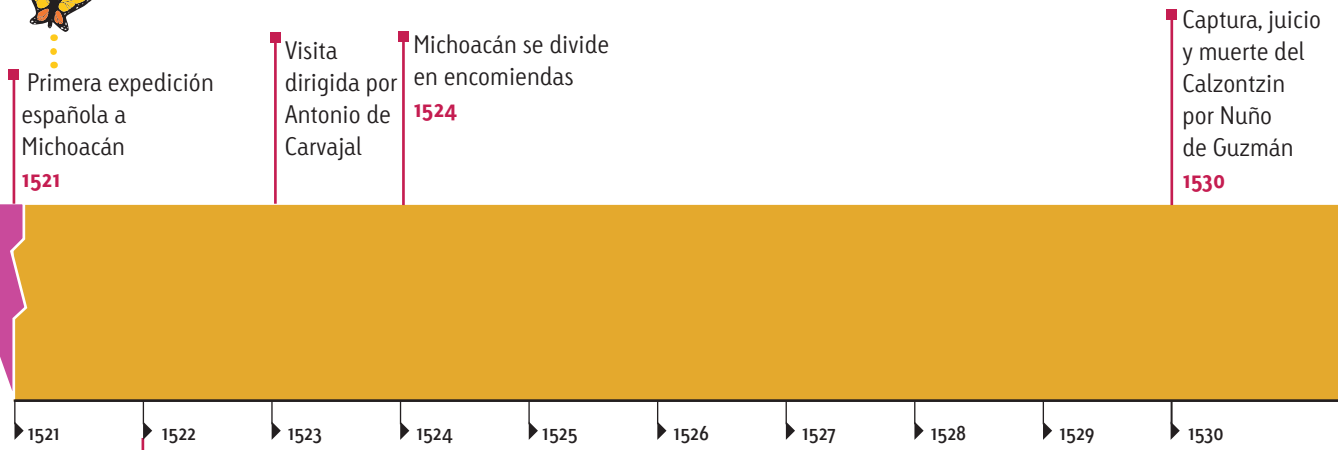
La conquista de Michoacán fue pacífica en una primera etapa. Sin embargo, en la tercera expedición a territorio michoacano, los conquistadores persiguieron y mataron a muchos indígenas.



## Analizo e ilustro



1. En equipo, observen la siguiente línea del tiempo y respondan las preguntas.



- Según lo que observas en la línea del tiempo, ¿cuándo inició la conquista de Michoacán?, ¿cuándo terminó?, ¿cuánto tiempo duró?
  - ¿Cuántas expediciones hicieron los conquistadores al territorio de Michoacán?, ¿cuánto tiempo pasó entre una y otra?
2. Busquen imágenes en revistas o internet para ilustrar la línea del tiempo.

Las tres **expediciones** que llegaron a Michoacán fueron enviadas por Cortés. En las tres, los conquistadores buscaban joyas y riquezas. La visita de Antonio de Carvajal fue importante porque éste elaboró una lista de los principales pueblos indígenas, y en esa lista se basó la formación y repartición de las **encomiendas**. Algunas de las encomiendas más importantes fueron Uruapan, Tiripetío, Jacona y Tajimaroa.

Nuño de Guzmán llegó a Michoacán con la intención de eliminar al irecha o Calzontzin, Tanganxoan. Lo apresó con el pretexto de que se había aliado con los chichimecas en contra de los españoles y, tras un juicio falso, lo condenó a muerte.

**Expedición:** viaje que hacen varias personas a algún lugar que desconocen para investigar lo que hay ahí.

**Encomienda:** institución en la que a un español se le daba un grupo de indios para que le trabajaran a cambio de protección e instrucción cristiana.

### Un dato interesante...

Vasco de Quiroga fue el primer obispo de Michoacán y una figura importante durante la colonización de este lugar. Se estableció en Pátzcuaro. Fundó el Colegio de San Nicolás, el hospital de Santa Fe e iglesias.

Los indígenas lo llamaban con cariño "Tata" (*padre*, en tarasco) Vasco, pues hacía muchas cosas por ellos.

## La colonización

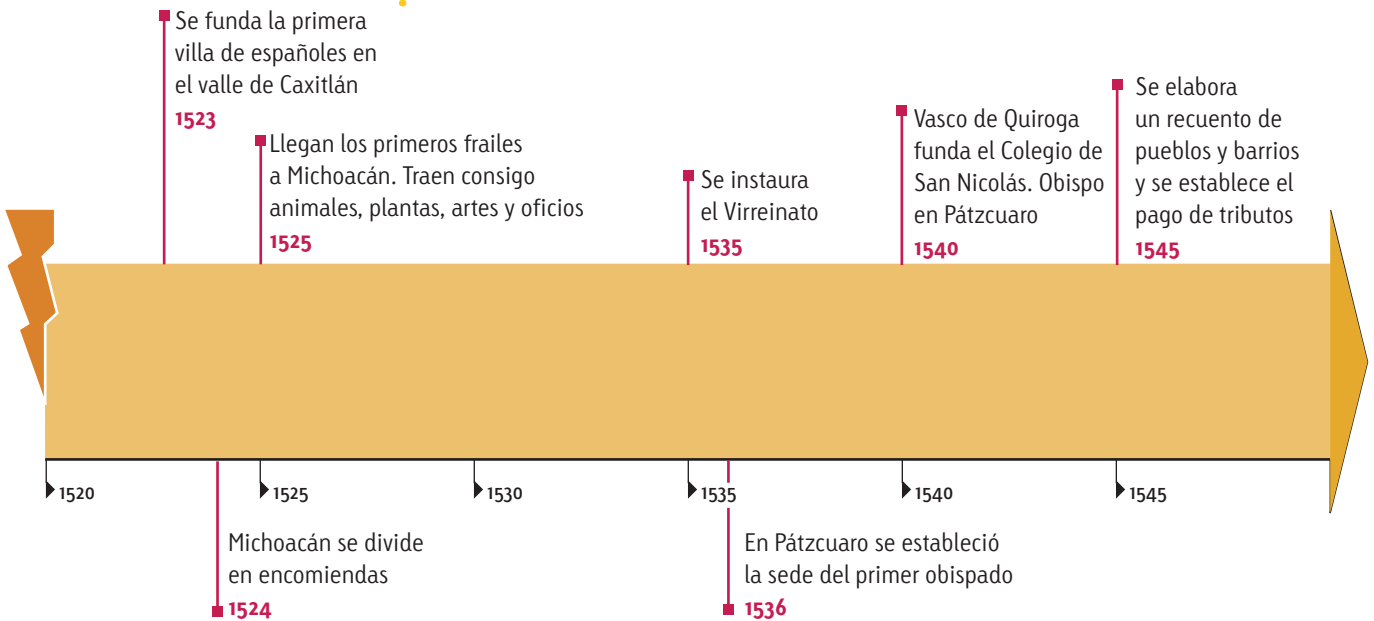
La colonización se inició después de la Conquista y consiste en el poblamiento de Michoacán por parte de españoles y otros indígenas que los acompañaban. Durante este tiempo se fundaron ciudades, y los colonos españoles buscaron minas de oro y plata, trajeron alimentos y animales que no se conocían y enseñaron a los indios la religión católica.

La enseñanza de la religión católica a los indígenas se conoce como evangelización. Ésta sentó las bases para la vida virreinal, pues los frailes enseñaron artes y oficios a los indígenas y fundaron escuelas y hospitales.



### Ubico e ilustro

1. En equipo, observen la siguiente línea del tiempo.



### Un dato interesante...

Los españoles fundaron muchos pueblos en lo que hoy es Michoacán. Algunos desaparecieron con el tiempo, pero otros, como Zamora, Pátzcuaro y Valladolid, se llenaron de conventos, iglesias y hermosas catedrales que todavía se conservan.

- Señalen el inicio del Virreinato en la línea del tiempo.
- Busquen imágenes en revistas o internet para ilustrar la línea del tiempo.

## El Virreinato

Nuestro país formó parte del **Virreinato** de Nueva España, porque su territorio pertenecía a la Corona española.

Entre los pueblos y ciudades virreinales de la provincia de Michoacán se encontraban Apatzingán, Pátzcuaro, Zamora, Tlalpujahuá y Valladolid, su capital. A esa ciudad se trasladaron el obispado y los poderes civiles, lo que ocasionó que su población aumentara y, por tanto, su desarrollo económico.

Las principales actividades de Valladolid, hoy Morelia, fueron la agricultura y la ganadería. En la actualidad, sus principales actividades son la agricultura, la ganadería, la pesca, la industria, el comercio, el turismo y los servicios.



### Investigo y comparo



1. Formen equipos y elijan uno de los siguientes pueblos o ciudades.



- Angangueo
- Huetamo
- Maravatío
- Tlalpujahuá
- Pátzcuaro
- La Piedad
- Santa Clara del Cobre
- Tacámbaro
- Zamora
- Uruapan

- Investiguen los siguientes datos del pueblo o ciudad que eligieron y escríbanlos en su cuaderno:
  - Nombre actual de la ciudad o pueblo y nombre o nombres que haya tenido anteriormente.
  - Ubicación y fecha de su fundación.
  - Obras arquitectónicas de la época virreinal.
  - Actividades económicas que se llevaban a cabo en el Virreinato.
  - Actividades económicas que se llevan a cabo en la actualidad.
- 2. Compartan estos datos con sus compañeros.
  - Identifiquen las características que tengan estos pueblos o ciudades en común y anótenlas en una lista.
- 3. Visita una ciudad o un pueblo en el que haya construcciones virreinales e investiga su historia.

**Virreinato:** forma de organización social y política por la que los reyes administraban y gobernaban sus territorios conquistados.



Santa Clara del Cobre.



## Ubico y comento

1. Por equipos, señalen en el mapa dónde se ubican las ciudades que investigaron.



Fuente: Inegi. *Marco Geoestadístico Municipal, 2005.*  
Mapa de Michoacán y sus municipios.



2. Comenten en grupo por qué fueron importantes estas ciudades en el Virreinato. Escriban sus conclusiones.



Patamban.

---

---

---

---

---

---


---



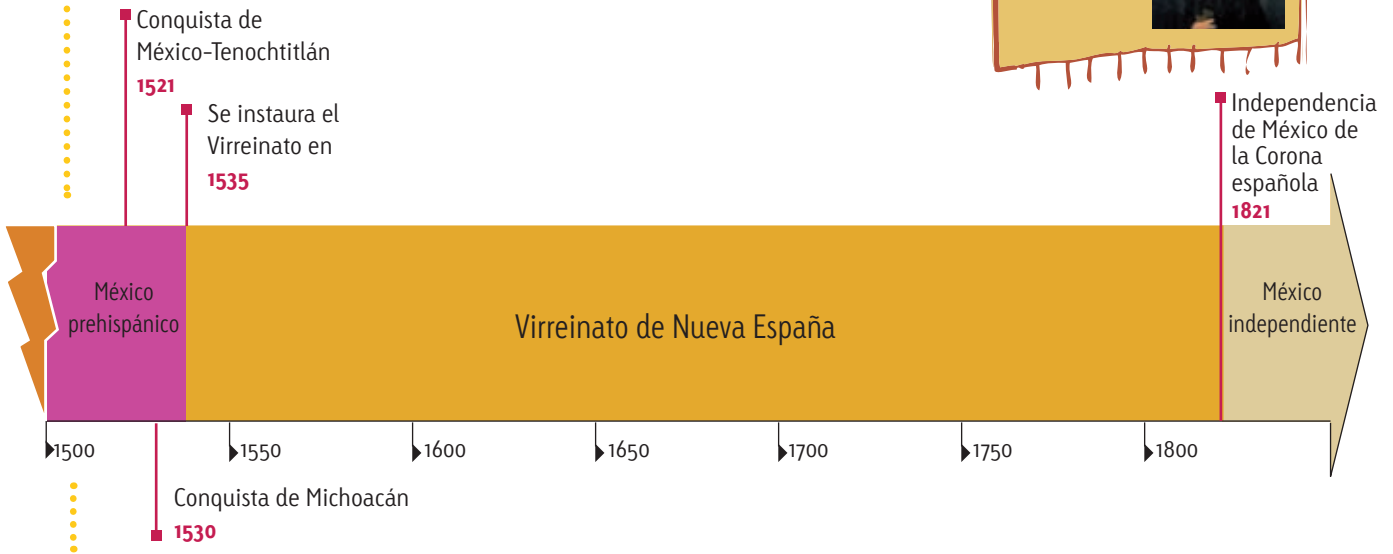
## Observo e ilustro

1. En equipos, observen la siguiente línea del tiempo e ilústrenla.
2. Respondan en su cuaderno.
  - ¿Cuándo inició el Virreinato?, ¿cuándo terminó?
  - ¿Cuántos años duró?

**Un dato interesante...**  
 El primer virrey de la Nueva España fue Antonio de Mendoza. El último fue Juan O'Donoghú.



Antonio de Mendoza



## ¿En qué lugar y en qué tiempo?

La Corona española conquistó y colonizó la mayoría de los territorios de América. En el mapa se puede apreciar el Virreinato de Nueva España.

Observa el mapa y responde.

- ¿En cuántas partes estaba dividida Nueva España?
- ¿En qué reino se encontraba la provincia de Michoacán?

Mapa de división político-administrativa del Virreinato de Nueva España en reinos y provincias, 1534-1776.





## LO QUE APRENDÍ

1. Responde.

- ¿En qué consiste la conquista de Michoacán?

---

---

- Aproximadamente, ¿cuándo comenzó y cuándo terminó?

---

- ¿En qué consiste la colonización de Michoacán?

---

---

2. Explica cómo eran las ciudades de Michoacán en el Virreinato.

---

3. Explica la siguiente imagen y por qué fue importante la evangelización.



Evangelización y bautizo de indios por fray Martín de Jesús.

---

---

---

---

---

---

---