

Tercer grado

Michoacán

La entidad donde vivo



Identifico a los primeros habitantes y culturas prehispánicas de la entidad.

Reconozco características de los lugares de la entidad donde se establecieron grupos prehispánicos.

Los primeros habitantes de mi entidad y el espacio en que habitaron



PUNTO DE PARTIDA

Toribio, un niño michoacano de tu edad, estaba un día viendo un libro con su papá, en el que había esta imagen:



La caza del mamut.

Su papá le explicó a Toribio que representaba a los hombres americanos prehistóricos, que vivieron hace miles de años. Así que Toribio se preguntó: “¿Desde hace cuánto habrá vivido gente en Michoacán?, ¿serán éstos los tarascos de los que me han hablado en la escuela?” Comenta con tu grupo lo que piensas al respecto.



CONOZCAMOS

Primeros pobladores de Michoacán

Se calcula que América, nuestro continente, comenzó a poblarse hace 50 000 años. Los primeros pobladores del continente eran nómadas, es decir, se quedaban en un sitio por un tiempo y después cambiaban de lugar. Estas personas, como las de la imagen, vivían de la caza, la pesca y la recolección de frutos.

Con el paso de los siglos, los grupos nómadas aprendieron a cultivar la tierra y, gracias a ello, se hicieron sedentarios y se establecieron en aldeas.



Deduzco, represento y elijo

1. Responde en tu cuaderno:

- Si fueras nómada, ¿sería importante para ti que hubiera un río o lago en un lugar?, ¿por qué?
- ¿Preferirías un lugar con un clima muy frío, muy caliente o templado?
- ¿Qué animales buscarías para cazar?

2. A partir de tus respuestas, dibuja en tu cuaderno un lugar **propicio** para la supervivencia de un grupo nómada.

Propicio: que permite que algo se logre.

Hace unos 6000 a 4000 años comenzaron a llegar grupos humanos al actual territorio de Michoacán.

A Michoacán llegaron grupos que provenían de diferentes orígenes; hablaban lenguas distintas y no todos sus utensilios y costumbres eran iguales. A lo largo de muchos años ocuparon, poco a poco, algunas regiones de Michoacán, cuencas de lagos y río, ciénegas, la costa, la sierra, la tierra caliente y valles. Fue un largo periodo en el que aprendieron a relacionarse con el medio natural en el que habitaban y a realizar diferentes oficios. Además del cultivo de maíz, frijol y calabaza, elaboraron objetos de obsidiana, caracoles, conchas y cobre; trabajaron la cerámica y los textiles de algodón. Mantuvieron un intercambio comercial y cultural con otros pueblos y se organizaron en señoríos, con un cacique al frente. Rendían culto a muchos dioses y a los muertos.

Las primeras aldeas que se sabe fueron construidas, estaban en las cuencas de lagos y ríos (El Opeño y Chupícuaro).

Posteriormente y a lo largo de varios años, se asentaron en el territorio grupos de nahuas, tecos, cuauhcomecas, matlazincas, mazahuas, pirindas y huachichiles, que se dedicaban al cultivo, la caza y la recolección.

Un dato interesante...

El Museo Regional de Michoacán se ubica en el Centro Histórico de Morelia. Fundado en 1886 en las instalaciones del Colegio de San Nicolás, fue trasladado en 1889 a uno de los salones del Palacio de Gobierno, y en 1916 a su actual ubicación. Te recomendamos visitar este museo, en donde puedes encontrar colecciones de piezas de los primeros pobladores del estado.



Identifico y reflexiono

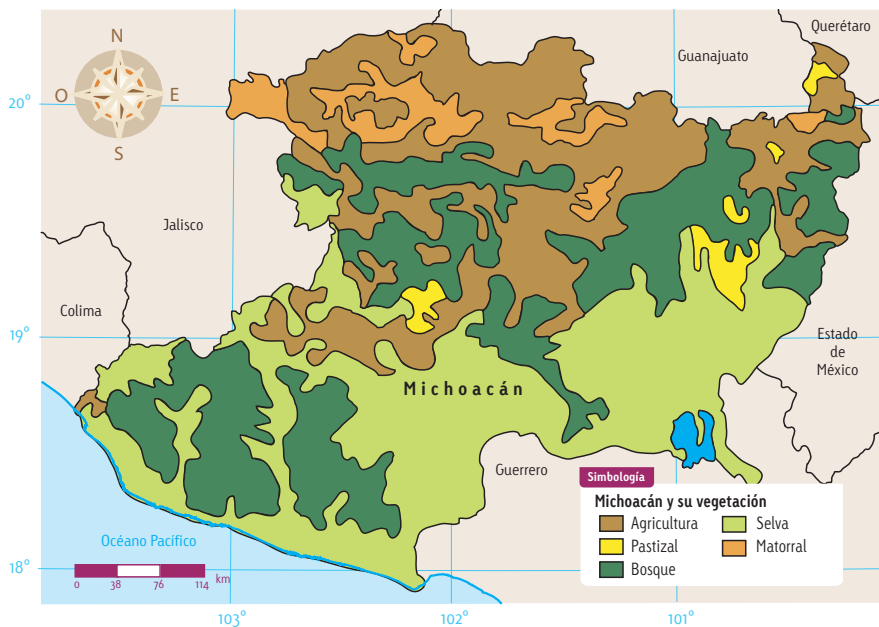
1. Observa los mapas.

Fuente: Inegi.

Mapa de vegetación de Michoacán.

Consulta en...

Para recordar cómo es la flora y fauna de tu estado, consulta este libro: *Atlas de México. Educación primaria*, 7a. ed., México, SEP, 2010.



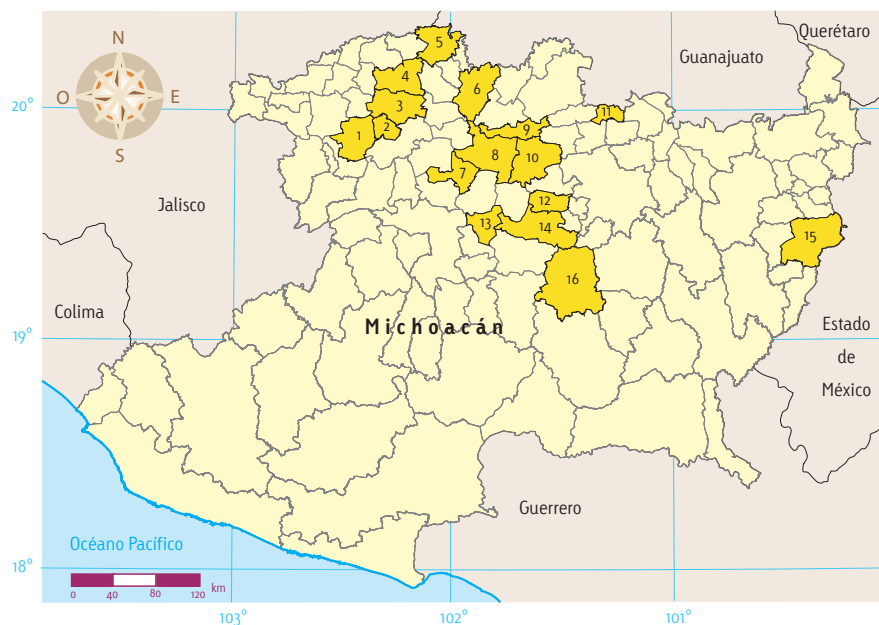
Simbología

Municipios actuales de Michoacán donde se han hallado vestigios de la presencia de los primeros pobladores del estado

1. Tangamandapio
2. Jacona
3. Zamora
4. Ecuandureo
5. La Piedad
6. Penjamillo
7. Cherán
8. Zacapu
9. Villa Jiménez
10. Coeneo
11. Huandacareo
12. Tzintzuntzan
13. Tingambato
14. Pátzcuaro
15. Zitácuaro
16. Tacámbaro

Fuente: Anales del Museo de Michoacán.

Mapa de municipios actuales de Michoacán donde se han hallado vestigios de los primeros pobladores del estado.



2. Responde:

- ¿Cómo es el clima en los lugares donde se han hallado **vestigios** de los primeros pobladores de Michoacán?
- ¿Qué tipo de animales y vegetación tienen?
- ¿Cómo serían las regiones naturales donde se asentaron los primeros pobladores de la entidad y cuáles animales vivirían en ellas?

3. Comenta tus respuestas con el grupo.

Vestigio: huella o recuerdo que queda de algo pasado.

Los tarascos o purépechas

No se sabe la fecha exacta ni de dónde venían, pero se piensa que los tarascos llegaron al actual estado de Michoacán, a Zacapu, en el siglo XII. Cuando llegaron se encontraron con otros grupos establecidos en el lugar; al principio se hicieron aliados de algunos. Sin embargo, con el tiempo acabaron por conquistar a la mayoría.

El tarasco fue el pueblo prehispánico más desarrollado de los que habitaron el actual Michoacán. Pero su predominio terminó con la llegada de los españoles en el siglo XVI.

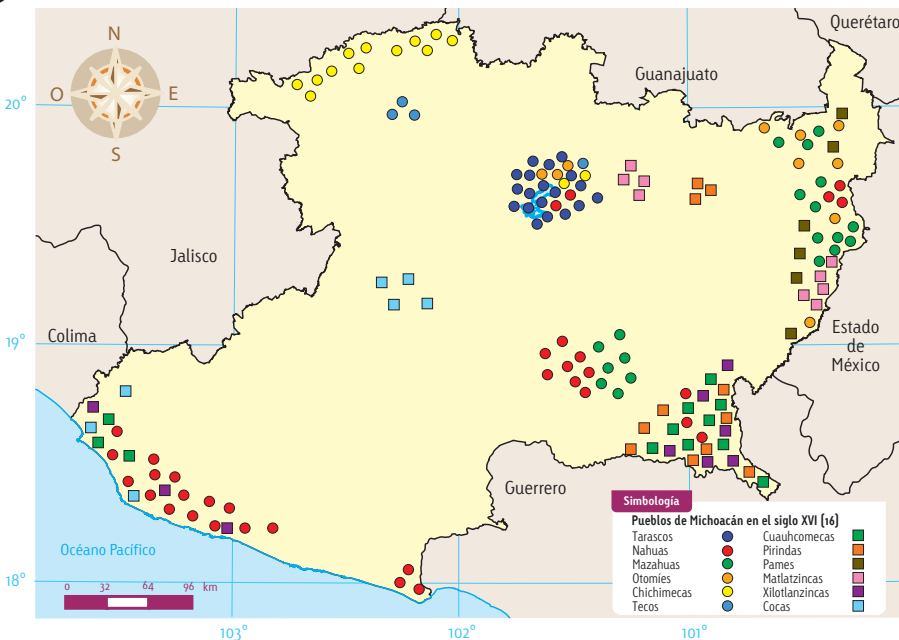
Un dato interesante...
Debido a una confusión, se les dio el nombre de *tarascos* a los **purépechas**.

Cuando el último soberano purépecha entregó a sus hijas a los españoles, los llamó "tarascos", palabra que significa "yernos". Los españoles, que no conocían la lengua, creyeron que dicha palabra era el nombre del pueblo purépecha.



Localizo y represento

1. En equipo, localicen en el mapa los pueblos que habitaban lo que hoy es Michoacán.



Fuente: Cartografía Castillo.

Mapa de pueblos de Michoacán en el siglo XVI.

- Repártanse los pueblos entre los equipos.
- En una hoja hagan un dibujo que muestre cómo era el clima, la fauna y la flora en el lugar donde habitaba el pueblo que les tocó.
- Muestren el dibujo al grupo y expliquen cómo influyeron esas condiciones para que el pueblo se estableciera en ese lugar.
- No olviden guardar su dibujo en su portafolio.

Acerca de... antes de Cristo y la línea del tiempo

Los años de la historia humana se ubican con expresiones como antes de Cristo o después de Cristo, tomando como referencia el año 1, que se considera año del nacimiento de Cristo.

Así, por ejemplo, algo que pasó hace 200 años ocurrió después de Cristo; mientras que algo que sucedió hace 3 000 años ocurrió antes de Cristo.

Antes de Cristo se puede abreviar así: a.C., asimismo, después de Cristo se abrevia de esta manera: d.C.

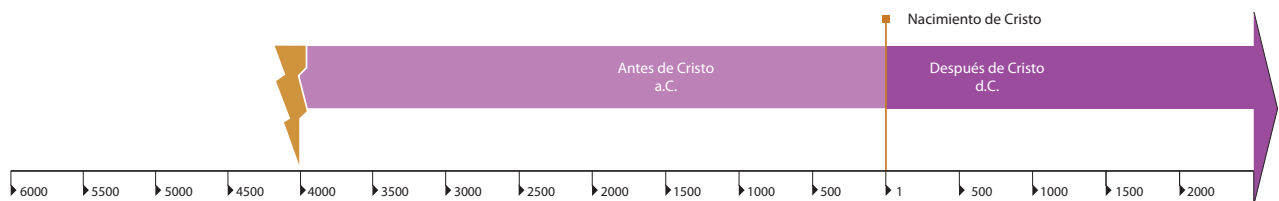
Para registrar y ubicar hechos históricos, se utiliza una línea del tiempo, que es una especie de gráfica en la que se anotan los años del periodo que nos interesa estudiar.



Analizo y represento

1. En la línea del tiempo de abajo marca:

- El momento en que comenzaron a llegar los primeros grupos humanos a Michoacán.
- El siglo en que se calcula que arribó el pueblo tarasco. Recuerda, un siglo tiene 100 años.
- El siglo en que terminó el predominio de la cultura tarasca.
- Colorea el periodo en el que predominó esta cultura.





LO QUE APRENDÍ

1. Responde.

- ¿Los primeros pobladores de lo que ahora es Michoacán llegaron antes de Cristo o después de Cristo? _____

- Aproximadamente, ¿cuándo llegaron? _____

2. Marca las fotografías de cerámica realizada por pobladores prehispánicos de Michoacán.



Cerámica tarasca.



Cerámica maya.



Cerámica de Chupícuaro.



Cerámica teotihuacana.



Cerámica mexicana.

3. Reflexiona y explica: ¿por qué los tarascos se establecieron alrededor del lago de Pátzcuaro?
