

Tercer grado

# Hidalgo

La entidad donde vivo



# Tema 3. Características y actividades de la población en mi entidad



En este tema aprenderás a:

Reconocer características de la población y sus principales actividades económicas.



## PARA COMENZAR



Con el apoyo de tu maestro analiza las siguientes preguntas, cópialas y escribe tus respuestas en el "Cuaderno de mis trabajos".



- ¿Qué entiendes por población?
- ¿Qué lenguas se hablan en el lugar donde vives?
- ¿Qué actividades económicas realizan mayormente las personas que viven en el campo y en la ciudad?



## VIAJA E INDAGA


La población es la cantidad de personas que vive en un territorio (país, estado, municipio o localidad).

Fuente: Inegi, Censo de Población y Vivienda 2010.



Todos vivimos en Hidalgo y somos hidalguenses.

# Población por grupos de edad en Hidalgo



Fuente: Inegi, Censo de Población y Vivienda 2010.



Analiza la gráfica anterior, identifica los grupos de habitantes por edad y escribe:

¿Cuál es el de mayor número? \_\_\_\_\_

¿Cuál es el de menor número? \_\_\_\_\_

Y tú, ¿a qué grupo de edad perteneces? \_\_\_\_\_



Investiguen:

¿Cuál es el total de habitantes del municipio donde viven?

\_\_\_\_\_

¿Cuántos habitantes hay de cada uno de los grupos de edad?

\_\_\_\_\_

Con la información de su municipio, individualmente, elaboren una gráfica tomando como referencia la anterior. Guárdenla en el "Cuaderno de mis trabajos".



Consulten la información del Instituto Nacional de Estadística y Geografía (Inegi) o pregunten por los datos del censo 2010 en la presidencia municipal. Recuerden que al final del libro se incluye una dirección de internet para apoyar su investigación.





Bordadoras de Acaxochitlán.

Las personas que habitan en el estado de Hidalgo viven en lugares con elementos naturales distintos. Aprovechan de varias maneras la diversidad de recursos para satisfacer sus necesidades.

De acuerdo con el Inegi, las localidades se clasifican por su número de habitantes: en rurales, si tienen menos de 2500 habitantes, y urbanas, si cuentan con más de 2500 habitantes.

Con base en el Censo de Población y Vivienda 2010, 52 personas de cada 100 viven en zonas urbanas, mientras 48 de cada 100 viven en zonas rurales.



Observa las fotografías y en el "Cuaderno de mis trabajos" escribe las diferencias que encuentras entre la población rural y la urbana. También copia y contesta las siguientes preguntas:



¿Tu localidad es rural o urbana?

¿Por qué?

### Diferencias

#### Población rural

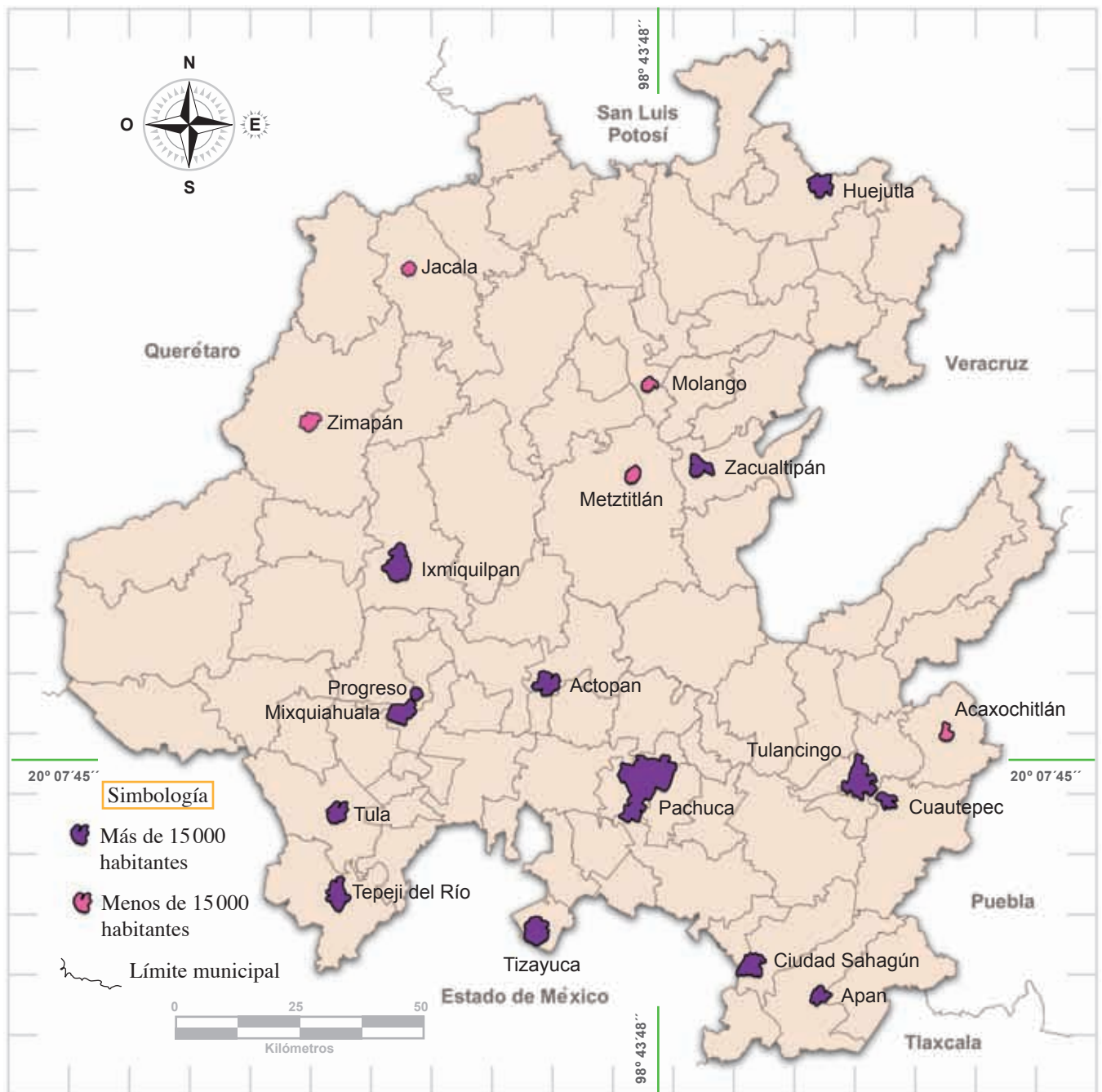


#### Población urbana





## Algunas localidades urbanas de Hidalgo



Fuente: Modificado del sitio [www.inegi.org.mx](http://www.inegi.org.mx)

En el mapa se representa la distribución de algunas localidades urbanas en la entidad. Sus habitantes se han establecido en ellas debido a:

- Los servicios de agua potable, luz eléctrica, pavimento, drenaje, educación y salud con que cuentan.
- Las fuentes de trabajo generadas, el comercio, los transportes y las comunicaciones.
- Los elementos naturales favorables para vivir.

Tanto en el mapa como en el listado "Algunas localidades urbanas de Hidalgo", puedes ver que los centros urbanos con mayor número de habitantes se localizan en la parte sur de la entidad debido a la mayor concentración y diversidad de actividades económicas. En el norte de Hidalgo, las localidades urbanas son cabeceras municipales o lugares donde se desarrollan básicamente actividades agrícolas.

## Algunas localidades urbanas de Hidalgo



**Localidad**



**Número de habitantes**

Pachuca  
Tulancingo  
Tizayuca  
Huejutla  
Ixmiquilpan  
Tepeji del Río  
Actopan  
Tula  
Ciudad Sahagún  
Apan  
Mixquiahuala  
Zacualtipán  
Cuauhtepic  
Progreso

256 584  
102 406  
43 250  
40 015  
34 814  
34 151  
29 223  
28 557  
28 556  
26 642  
25 510  
23 125  
18 835  
17 486

Zimapán  
Jacala  
Molango  
Acaxochitlán  
Metztitlán

13 243  
4 415  
4 265  
4 026  
2 785

Fuente: Inegi, Censo de Población y Vivienda 2010.



Apóyate en el mapa "Algunas localidades urbanas de Hidalgo" y en la lista del mismo nombre. Copia y contesta en el "Cuaderno de mis trabajos" las siguientes preguntas:



- ¿Hacia qué punto cardinal del estado hay mayor número de localidades con más de 15 000 habitantes?
- ¿Cuál es la localidad más poblada del estado?
- ¿Con cuántos habitantes cuenta?
- ¿Por qué crees que esa localidad concentra el mayor número de habitantes?



En todo el estado de Hidalgo se puede encontrar población hablante de lengua indígena, como el tepehua, el náhuatl y el otomí en sus dos variantes: hñāhñu (otomí del Valle del Mezquital) y ñuhu (otomí de la Sierra de Tenango). Sin embargo, como se puede ver en el siguiente mapa, algunos municipios concentran más hablantes de lengua indígena.



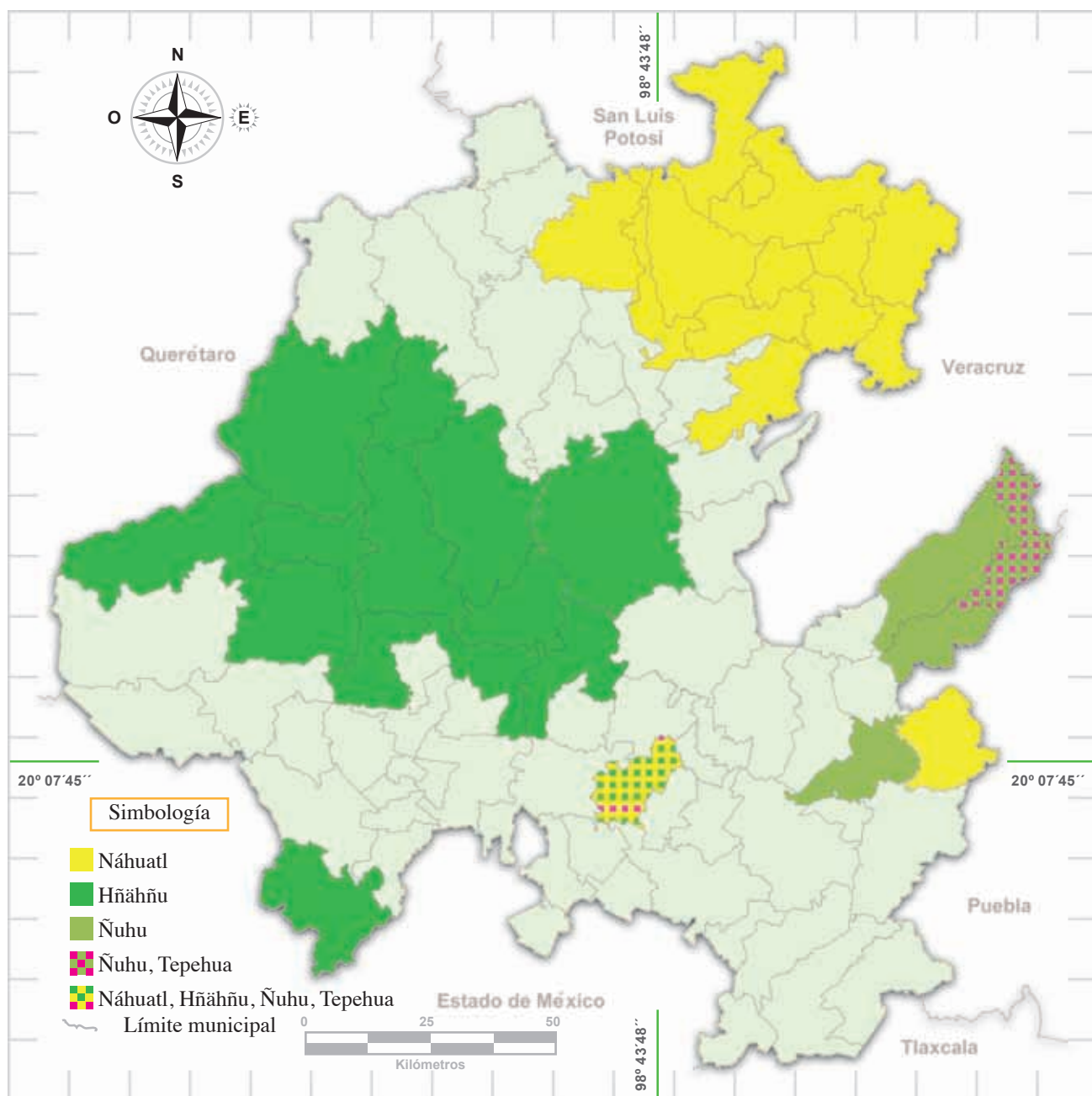
Hablantes de náhuatl  
**245 684**

Hablantes de otomí (hñāhñu y ñuhu)  
**115 869**

Hablantes de tepehua  
**1 818**

Fuente: Inegi, Censo de Población y Vivienda 2010.

## Municipios con mayor concentración de hablantes de lengua indígena



Fuente: Información del Instituto Nacional de Lenguas Indígenas (Inali), 2008. Modificado del sitio [www.inegi.org.mx](http://www.inegi.org.mx)



Observa el mapa "Municipios con mayor concentración de hablantes de lengua indígena". Copia y contesta en el "Cuaderno de mis trabajos" las siguientes preguntas:



- ¿Tu localidad pertenece a alguno de los municipios que concentran mayor número de hablantes de lengua indígena?
- ¿Cuál es el número total de hablantes de esa lengua en el estado?
- ¿Tú hablas esa lengua?
- ¿Por qué es importante preservar las lenguas indígenas?

## Actividades económicas

Los seres humanos mantienen una relación directa con la naturaleza, pues de ella obtienen lo necesario para vivir. Para disponer de los recursos naturales que el medio les ofrece, realizan diversas labores que se conocen como actividades económicas.

Actividad económica es la acción de producir alimento, vestido y vivienda, así como otros bienes y servicios, con la finalidad de consumirlos o de venderlos.

Las actividades económicas se clasifican en tres tipos:

Primarias: se realizan en contacto directo con la naturaleza, por ejemplo agricultura, ganadería, silvicultura, minería y pesca.



Minería.



Producción de conservas.

Secundarias: son aquellas que transforman los productos obtenidos de las actividades primarias. Por ejemplo la fabricación de muebles y la elaboración de alimentos envasados.

Terciarias: ofrecen servicios educativos, de salud, de transporte y de comercio, entre otros.



Comercio.



## Principales actividades económicas de la entidad

Los habitantes de los municipios en el norte de la entidad se dedican principalmente a las actividades primarias: ganadería, explotación forestal y agricultura. Cultivan principalmente café, caña de azúcar, cítricos (naranja, mandarina y limón), maíz y frijol. También realizan actividades artesanales, como alfarería y bordados. Los servicios del sector comercial, gastronómico y turístico atraen una gran cantidad de personas de otras regiones. Asimismo, hay quienes se dedican a los servicios de educación, hotelería, salud o transporte.



Ganado vacuno.



Café.



Caña de azúcar.



Naranja.



Mina de manganeso, Otongo.

En la zona centro de la entidad, parte de la población se dedica a la explotación de minas de caolín, manganeso, mármol, plata, plomo y zinc. Los agricultores producen chile, frijol y maíz, así como frutos: durazno, manzana y pera. En la ganadería destaca el aprovechamiento del ganado vacuno. Sus pobladores también explotan los bosques para obtener madera y en el área de prestación de servicios trabajan para el comercio y el turismo.

En el sur de la entidad las actividades económicas características son la agricultura para producir alfalfa, frijol, maíz, papa y legumbres. Igualmente las grandes extensiones de tierra son propicias para la agricultura de temporal que produce cereales. La ganadería se especializa en la crianza de borregos, cerdos, vacas y aves de corral. En la minería se explota cal, cantera, obsidiana y, en menor medida, plata y oro.



Cementera.



Pastizal cercano a El Tecajete (su corte muestra que es un volcán).

Mujeres y hombres trabajan en industrias productoras de telas, cemento y electricidad, así como de gasolina, diesel y aceite a partir del petróleo; también en la fabricación de carros de ferrocarril, la producción de artículos de limpieza e higiene personal y en la transformación de la cebada, la papa, la leche y sus derivados. Se hacen cestas y otros objetos de carrizo, y del maguey se obtiene ixtle para tejer ayates o morrales.

En materia de servicios, Pachuca, la ciudad capital, concentra mayormente el comercio y los servicios en el estado. En menor escala también están presentes en Tizayuca, Tulancingo y Tula. Por otra parte, en el Valle del Mezquital existen numerosos balnearios y sitios donde se practica ecoturismo. Finalmente, en la parte sur del estado se venden platillos típicos preparados con vegetación y fauna de la región: flores de garambullo, gualumbos y xoconostles, conejos, chinicuiles y gusanos de maguey.



Balneario.



Pacas de paja.



Comida tradicional.



Maguey.

Apóyate en las imágenes del tema "Quiénes viven en mi entidad" y en la información anterior para resolver las siguientes actividades.



Con ayuda de tu maestro identifica qué tipo de actividades económicas se realizan en tu municipio e ilústralas con recortes o dibujos en el "Cuaderno de mis trabajos".



En equipos reflexionen sobre las actividades económicas que se realizan en la entidad y completen el siguiente cuadro:



Tipo de actividad	Principales actividades económicas
Primarias	
Secundarias	
Terciarias	



## HUELLAS DE LO APRENDIDO



Toma en cuenta lo que aprendiste y escribe LU (localidades urbanas) o LR (localidades rurales) en los cuadros, según corresponda.

Son localidades con menos de 2 500 habitantes.

Son localidades con más de 2 500 habitantes.

Algunas personas se trasladan a estas localidades por las fuentes de trabajo y los servicios con que cuentan.

Actopan, Huejutla, Ixmiquilpan, Pachuca, Tula, Tulancingo, Zimapán.