

Tercer grado

Hidalgo

La entidad donde vivo



Tema 1. Mi entidad, su territorio y sus límites



En este tema aprenderás a:

Localizar los límites territoriales de la entidad y del municipio donde vives.



PARA COMENZAR




Copia y responde en el "Cuaderno de mis trabajos" las siguientes preguntas y coméntalas con tus compañeras y compañeros.



¿Cuál es el nombre de tu municipio?

¿Qué municipios están cercanos al tuyo?

¿Cómo se llama la entidad donde vives?

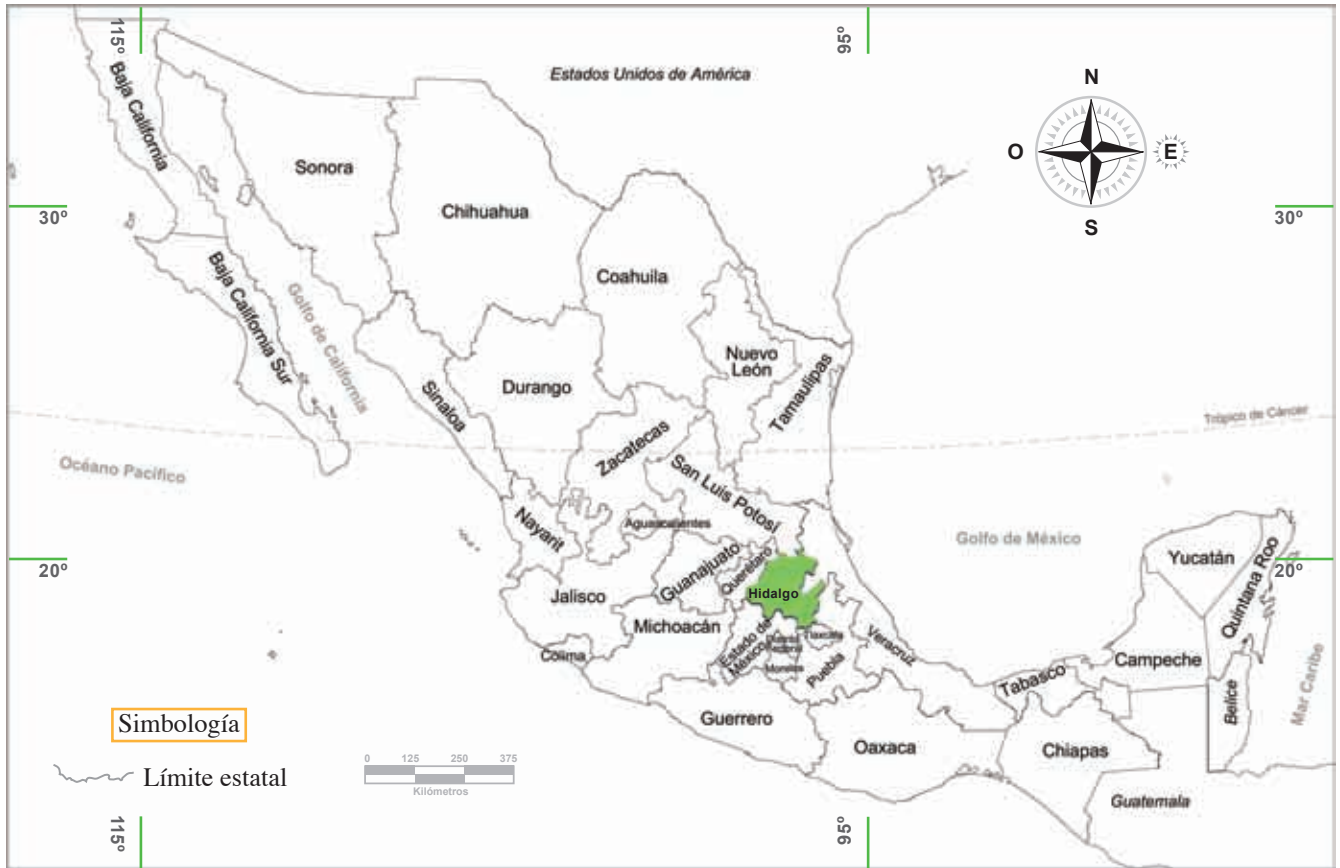


Sierra en las cercanías de Ixtlahuaco.




Vivimos en México, un país integrado por 32 entidades federativas. Estas entidades son: 31 estados y un Distrito Federal, donde se ubica la ciudad capital del país. En conjunto forman una federación, cuyo nombre oficial es Estados Unidos Mexicanos.

Estados Unidos Mexicanos (México)



Fuente: Modificado del sitio www.inegi.org.mx



Como puedes ver, el mapa tiene una estrella con letras arriba, abajo y a los lados; se llama rosa de los vientos y las letras sirven para orientarnos y saber dónde estamos. Algunos mapas tienen otros símbolos, como una pequeña flecha con dirección al Norte llamada meridiana.

Nos orientamos con cuatro puntos, conocidos como puntos cardinales. El Norte se representa con una “N”, el Sur con una “S”, el Este con una “E” y el Oeste con una “O”.

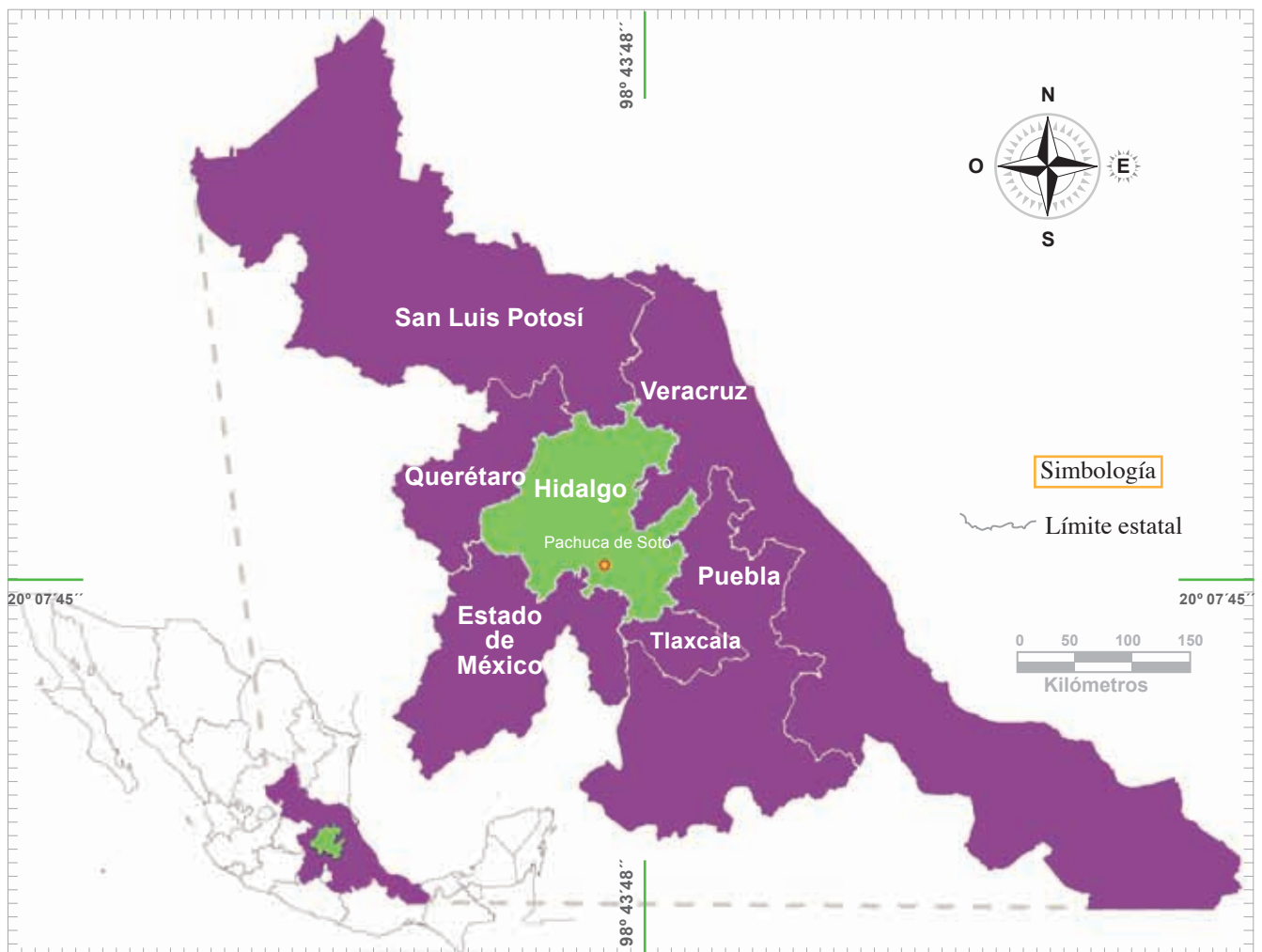


Para ubicar los puntos cardinales, salgan del salón y señalen con su brazo derecho la dirección por donde sale el sol, ése es el punto cardinal Este. Con el izquierdo, apunten en dirección opuesta, hacia donde se oculta el sol, ubicarán el punto cardinal Oeste. El Norte queda frente a ustedes y el Sur atrás.



Hidalgo es nuestra entidad. Su territorio tiene una superficie de 20 846 kilómetros cuadrados. Sus límites son: al Norte, San Luis Potosí; al Sur, Estado de México y Tlaxcala; al Este, Veracruz y Puebla; y al Oeste, Querétaro.

Hidalgo y entidades limítrofes



Fuente: Modificado del sitio www.inegi.org.mx



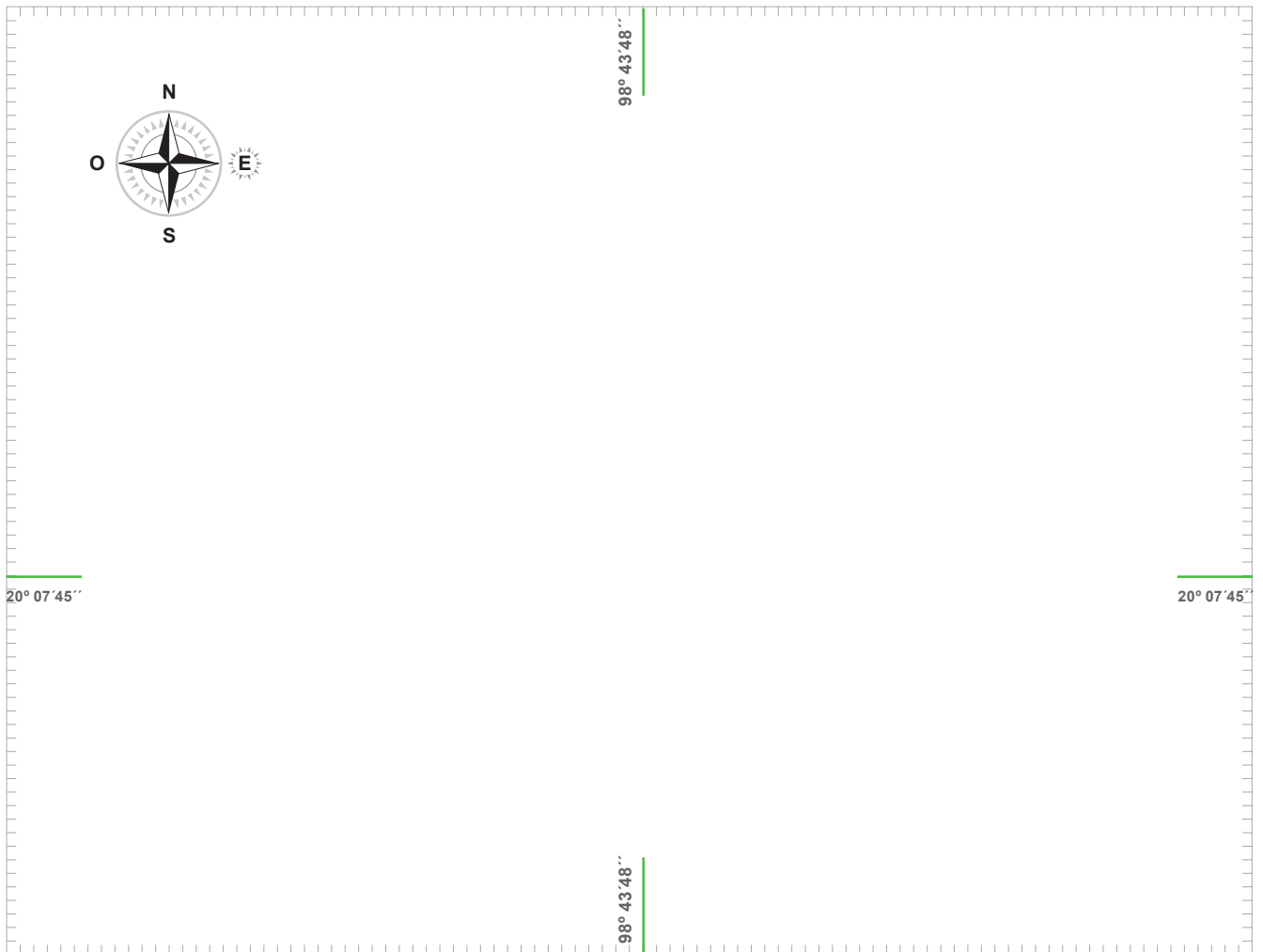
En el "Cuaderno de mis trabajos" escribe la respuesta a la siguiente pregunta:



¿Cuál o cuáles de los estados con los que limita Hidalgo has visitado?



En el espacio siguiente dibuja el mapa **Hidalgo y entidades limítrofes**. Colorea las entidades que limitan con Hidalgo: de verde la del Norte, de amarillo las del Sur, de rojo las del Este y de rosa la del Oeste.





Miguel Hidalgo y Costilla, pintado por J. M. García, 1830.

El personaje de la ilustración es Miguel Hidalgo y Costilla, quien inició la Guerra de Independencia. En su honor, nuestra entidad se llama Hidalgo. El estado se divide en 84 municipios.

El municipio es un espacio más pequeño que la entidad, está integrado por varias localidades y cuenta con autoridades propias que conforman el ayuntamiento. Cada municipio tiene un nombre y una clave oficial que sirven para identificarlo. En el municipio de Pachuca de Soto está la capital del estado, en la ciudad del mismo nombre.

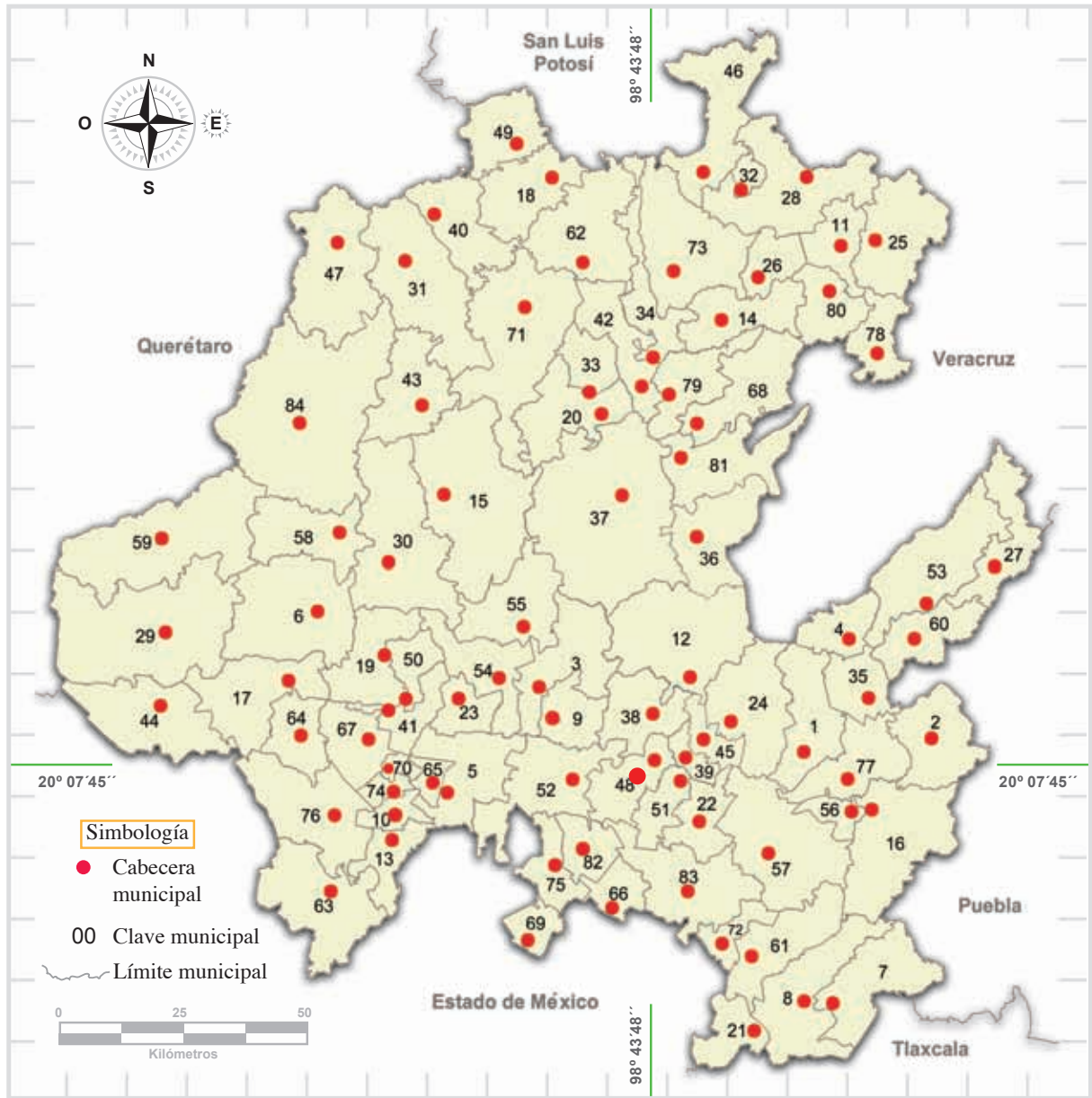


En el "Cuaderno de mis trabajos" copia el mapa de la siguiente página, "Municipios de Hidalgo", y contesta lo que se te pide a continuación. Con el apoyo de tu maestra o maestro comenta tus respuestas con el grupo.



- ¿En qué municipio vives?
- Ubícalo en el mapa e ilumínalo con el color que más te guste.
- ¿Cuáles son los municipios vecinos o limítrofes?
- Ubícalos en el mapa e ilumínalos con un color distinto al de tu municipio.
- ¿Qué te gusta más de tu municipio y por qué?

Municipios de Hidalgo



Fuente: Modificado del sitio www.inegi.org.mx



Atlapexco.



Molango.



Huichapan.

1 Acatlán	29 Huichapan	57 Singuilucan
2 Acaxochitlán	30 Ixmiquilpan	58 Tasquillo
3 Actopan	31 Jacala de Ledezma	59 Tecozautla
4 Agua Blanca de Iturbide	32 Jaltocán	60 Tenango de Doria
5 Ajacuba	33 Juárez Hidalgo	61 Tepeapulco
6 Alfajayucan	34 Lolotla	62 Tepehuacán de Guerrero
7 Almoloya	35 Metepec	63 Tepeji del Río de Ocampo
8 Apan	36 San Agustín Metzquititlán	64 Tepetitlán
9 El Arenal	37 Metztitlán	65 Tetepango
10 Atitalaquia	38 Mineral del Chico	66 Villa de Tezontepec
11 Atlapexco	39 Mineral del Monte	67 Tezontepec de Aldama
12 Atotonilco el Grande	40 La Misión	68 Tlanguistengo
13 Atotonilco de Tula	41 Mixquiahuala de Juárez	69 Tizayuca
14 Calnali	42 Molango de Escamilla	70 Tlahuelilpan
15 Cardonal	43 Nicolás Flores	71 Tlahuilepa
16 Cuauhtepic de Hinojosa	44 Nopala de Villagrán	72 Tlanalapa
17 Chapantongo	45 Omitlán de Juárez	73 Tlanchinol
18 Chapulhuacán	46 San Felipe Orizatlán	74 Tlaxcoapan
19 Chilcuautla	47 Pacula	75 Tolcayuca
20 Eloxochitlán	48 Pachuca de Soto	76 Tula de Allende
21 Emiliano Zapata	49 Pisaflores	77 Tulancingo de Bravo
22 Epazoyucan	50 Progreso de Obregón	78 Xochiatipan
23 Francisco I. Madero*	51 Mineral de la Reforma*	79 Xochicoatlán
24 Huasca de Ocampo	52 San Agustín Tlaxiaca	80 Yahualica
25 Huautla	53 San Bartolo Tutotepec	81 Zacualtipán de Ángeles
26 Huazalingo	54 San Salvador	82 Zapotlán de Juárez
27 Huehuetla	55 Santiago de Anaya	83 Zempoala
28 Huejutla de Reyes	56 Santiago Tulantepec de Lugo Guerrero	84 Zimapán

*Las cabeceras municipales se llaman igual que los municipios, excepto la de Francisco I. Madero que es Tepatepec, y la de Mineral de la Reforma cuya cabecera es Pachuquilla.



HUELLAS DE LO APRENDIDO



Copia y contesta en el "Cuaderno de mis trabajos" las siguientes preguntas:



¿Qué aprendí a ubicar?
¿Qué aprendí de mi entidad y de mi municipio?
¿Para qué me sirve lo que aprendí?
¿Qué no entendí?
¿Qué voy a hacer para aprender lo que me faltó?
¿Cuál fue mi aportación al trabajo en grupo? Por ejemplo: dar ideas, escribir u opinar sobre el tema.