

Tercer grado

# Tamaulipas

## La entidad donde vivo



# Características y actividades de la población en mi entidad

## Aprendizaje esperado

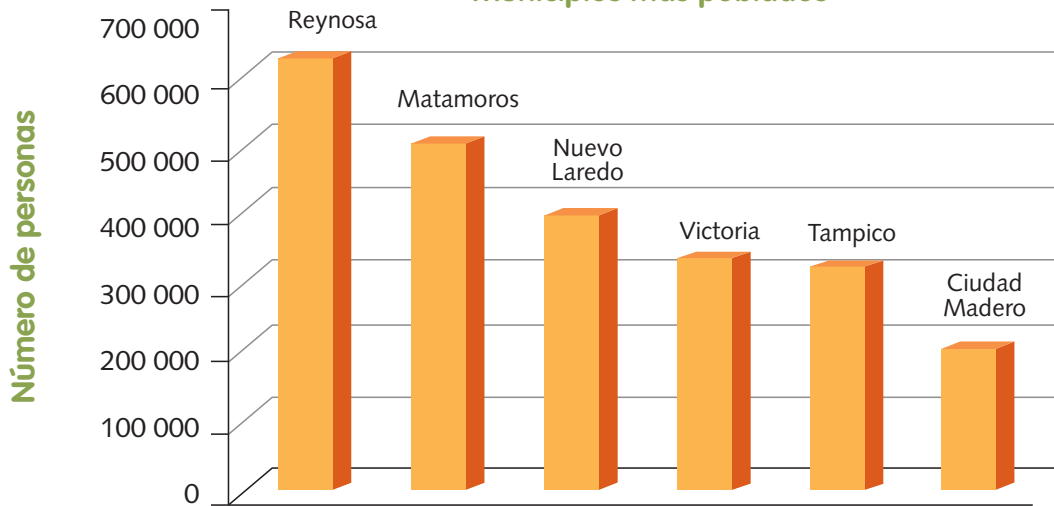
El alumno:

- ➔ Distingue características de la población de la entidad y sus principales actividades económicas.

- ¿Sabes cuántos habitantes tiene Tamaulipas?
- ¿Sabes cuáles son las principales actividades que realizan los habitantes de Tamaulipas?


En México, según el censo de población 2010, hay 112 322 757 habitantes, de los cuales 3 268 554 viven en Tamaulipas. En la siguiente gráfica se encuentran los municipios más poblados.

### Municipios más poblados



Fuente: Inegi, 2010.

De esos más de tres millones de personas, 88% vive en la zona urbana, mientras que 22% vive en el medio rural. En las regiones rurales del norte predominan la ganadería y la agricultura; en la costa y cerca de las lagunas y los ríos las personas se dedican a la pesca, mientras que en las sierras la actividad principal es la minería. En las ciudades, casi 60% de la población se dedica al comercio y a la industria maquiladora, pues ahí se comercializan los productos que se generan en el campo. En Tampico y Matamoros destacan actividades como la pesca y la extracción del petróleo.



**Para saber más...**  
En Tamaulipas hay 31 623 niños y 30 714 niñas de tu edad.



## Exploremos

Con el apoyo de tu maestro, realiza la siguiente actividad.

1. investiga cómo es la gente de tu localidad:
  - a) ¿Cuántos habitantes tiene?
  - b) ¿Cuál es la edad promedio de sus habitantes?
2. Escribe una lista con todas las actividades económicas que realiza la mayoría de la gente.
3. Comparte tus respuestas con tus compañeros y comenten cuál es la actividad que predomina.



▲ Grupo de pescadores en el medio rural tamaulipeco.

## Pesca

La pesca consiste en la captura de peces en ríos, presas, lagunas y mares. En Tamaulipas una buena parte de la población se dedica a esta actividad en beneficio de sus familias. En la costa del Golfo de México abundan el camarón, el ostión, el robalo, la jaiba y el huachinango. Otra zona pesquera importante es la Laguna Madre, donde se pesca trucha, camarón y lisa. Los principales puertos pesqueros son Tampico, Matamoros, El Mezquital y Soto la Marina.



▲ Barcos pesqueros en Matamoros.

## Agricultura


Es la actividad que permite obtener de la tierra los alimentos y materiales necesarios para el desarrollo del ser humano; por ejemplo, el algodón que sirve para elaborar vestidos. Hay dos formas de agricultura: *a)* la de riego, que consiste en regar periódicamente los cultivos y lograr así que la tierra produzca todo el año y *b)* la de temporal, que aprovecha las lluvias para producir en esa temporada.



## TIC

Entra al sitio electrónico Cuéntame, del Instituto Nacional de Estadística y Geografía (Inegi) y selecciona la opción "Información por entidad", busca a Tamaulipas en el mapa. Después selecciona la opción "economía" para que investigues más acerca de las actividades económicas que se desarrollan en nuestro estado.

En Tamaulipas se practican los dos tipos de agricultura, sobre todo en los municipios del norte y centro del estado, donde se produce sorgo, maíz (principalmente el amarillo), chile, cebolla, jitomate y naranja. Estos productos se venden a Estados Unidos. En el sur se produce caña de azúcar, frijol y maíz. Actualmente en Tamaulipas se produce más sorgo que en ninguna otra parte de México. Ocupa, además, el segundo lugar en producción de maíz amarillo y caña de azúcar. En Valle Hermoso se cultiva el maíz palomero que se vende a Estados Unidos.



▲ Los plantíos de sorgo se cultivan en el norte y centro de Tamaulipas.

## Ganadería



▲ Plantíos de maíz amarillo en Camargo.

Es la crianza de algunos animales; por ejemplo, vacas, cabras, cerdos, reses y ovejas para obtener alimento. La ganadería es muy importante en el estado desde que los primeros colonos, durante el siglo XVII, iniciaron esta actividad. Actualmente se crían vacas en los municipios de Soto la Marina, San Fernando, Aldama, Altamira, Reynosa y San Carlos; cerdos, ovejas y cabras se crían en Río Bravo, San Fernando, Matamoros, Hidalgo, Jiménez, Jaumave y Reynosa. Tamaulipas es uno de los estados más importantes en la producción de ganado caprino (cabras) y bovino (vacas) en México.



▲ Ganado vacuno en Miguel Alemán.



▲ La cría de cabras es una actividad muy importante para Tamaulipas.

## Industria y minería

Además de la agricultura y la ganadería, en Tamaulipas muchas personas trabajan en la industria. En el norte del estado se concentran las fábricas que venden productos a Estados Unidos, mientras que en el sureste la industria más importante es la petrolera.

La mayoría de las fábricas se encuentran en ciudades del norte como Reynosa, Nuevo Laredo y Matamoros. En ellas se produce ropa, telas y aparatos electrónicos. En Ciudad Madero se localizan grandes refinerías, donde se procesa el petróleo para convertirlo en gasolina y otros productos derivados.

En la región de San Carlos existen minas de plomo, hierro, mármol, cinc, cobre y plata. En Aldama, Altamira, Tampico y Matamoros se extrae petróleo. Cerca de los límites con Nuevo León se sitúa la Cuenca de Burgos, el yacimiento de gas más importante de México.



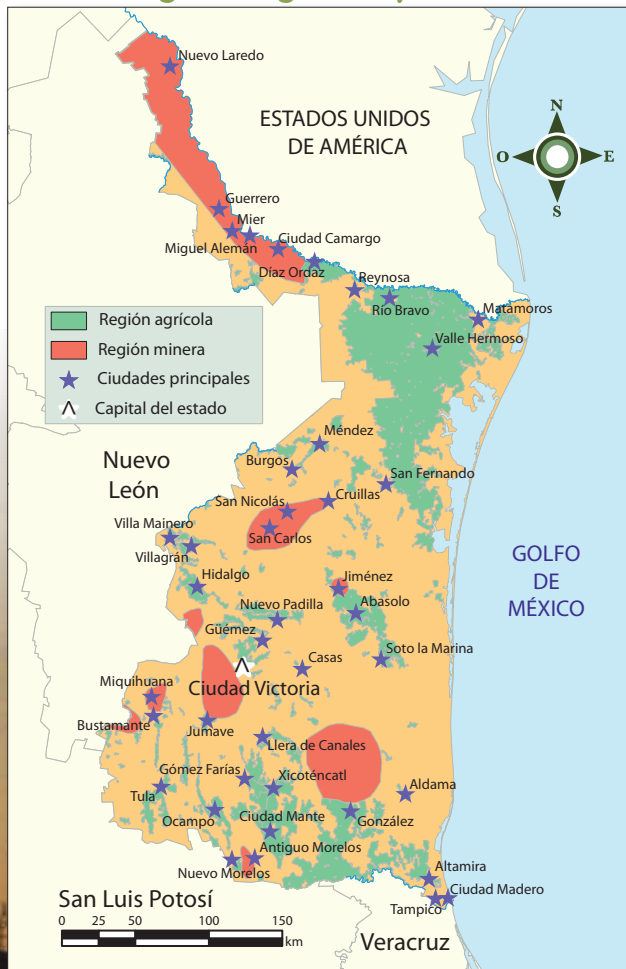
▲ En Tampico está una de las refinерías más importantes de México.



▲ Mina en la región de San Carlos.

Las ciudades de Reynosa, Matamoros, Nuevo Laredo y Ciudad Victoria cuentan con aeropuerto; Tampico y Altamira son puertos de carga internacional, donde se reciben productos de otros países y se embarcan diversos productos mexicanos para el extranjero. El comercio y los bancos desempeñan un papel importante en la economía de estas ciudades.

### Regiones agrícolas y mineras



### Lo que aprendí

1. En tu cuaderno, escribe una lista con el nombre de tus familiares, amigos y conocidos que vivan en tu localidad. Anota su edad y ocupación.
2. Si trabajan, escribe a qué se dedican: industria, pesca, ganadería, agricultura, comercio, minería u otra actividad.
3. Comparte tu información con tus compañeros de grupo. ¿Cuáles son las actividades a las que se dedica la mayoría de las personas que registraron?
4. Con la guía de su maestro, comenten por qué creen que predominan esas actividades en su localidad.
5. Anoten las respuestas en su cuaderno, les serán de utilidad para otras actividades.

► Termoeléctrica en el municipio de Río Bravo.