

Tercer grado

Chihuahua

La entidad donde vivo



Contenido 1 El acontecer de mi entidad en el siglo XIX y principios del siglo XX

Junto con tu maestro y compañeros, observen la línea del tiempo y comenten los acontecimientos del estado que vamos a estudiar en el bloque.

Chihuahua en el siglo XIX y principios del siglo XX



1824. El 8 de septiembre se creó el estado de Chihuahua.




1857. Chihuahua aceptó la Constitución, y el Congreso del estado emitió un decreto que otorgaba el derecho a votar a una parte de la población.



1864. El 12 de octubre llegó Benito Juárez a la ciudad de Chihuahua, donde estableció su gobierno. Por dos años este estado fue la capital de la república.



1825. El gobernador Urquidi compró la primera imprenta que se instaló en Chihuahua.



1831. El coronel José Joaquín Calvo declaró la guerra a los apaches, que duraría 50 años.



1847. En marzo, fue tomada la capital de Chihuahua por los soldados de Estados Unidos.



1877. Ángel Trías fue gobernador de 1877 a 1881. Trató siempre de pactar la paz con los apaches.



1891. Primer levantamiento armado del país contra la dictadura, en el pueblo de Tomóchic, Chihuahua.



1906. Varios chihuahuenses fueron encarcelados por ser simpatizantes del Partido Liberal Mexicano, formado por los hermanos Flores Magón.



1916. En la ciudad de Parral, Elisa Griensen enfrentó a los soldados de Estados Unidos que buscaban a Francisco Villa.

1870 1880 1890 1900 1910 1920



1880. El coronel Joaquín Terrazas derrotó a los apaches en la batalla de Tres Castillos.



1884. Se inauguró la línea de ferrocarril que une a la ciudad de México con Paso del Norte (hoy Ciudad Juárez).




1910. El 14 de noviembre el pueblo se levantó en armas en Cuchillo Parado, por lo que Chihuahua se considera cuna de la Revolución Mexicana.

En la línea del tiempo de la página anterior se encuentran los hechos que vamos a estudiar de la historia del estado, desde que se formó, los cambios territoriales durante el siglo XIX, el Porfiriato, hasta la Revolución Mexicana.




Inicio con lo que conozco

 Observa la línea del tiempo de las páginas 108 y 109 y escribe los acontecimientos que ocurrieron en la entidad entre 1821 y 1860.

1821-1840

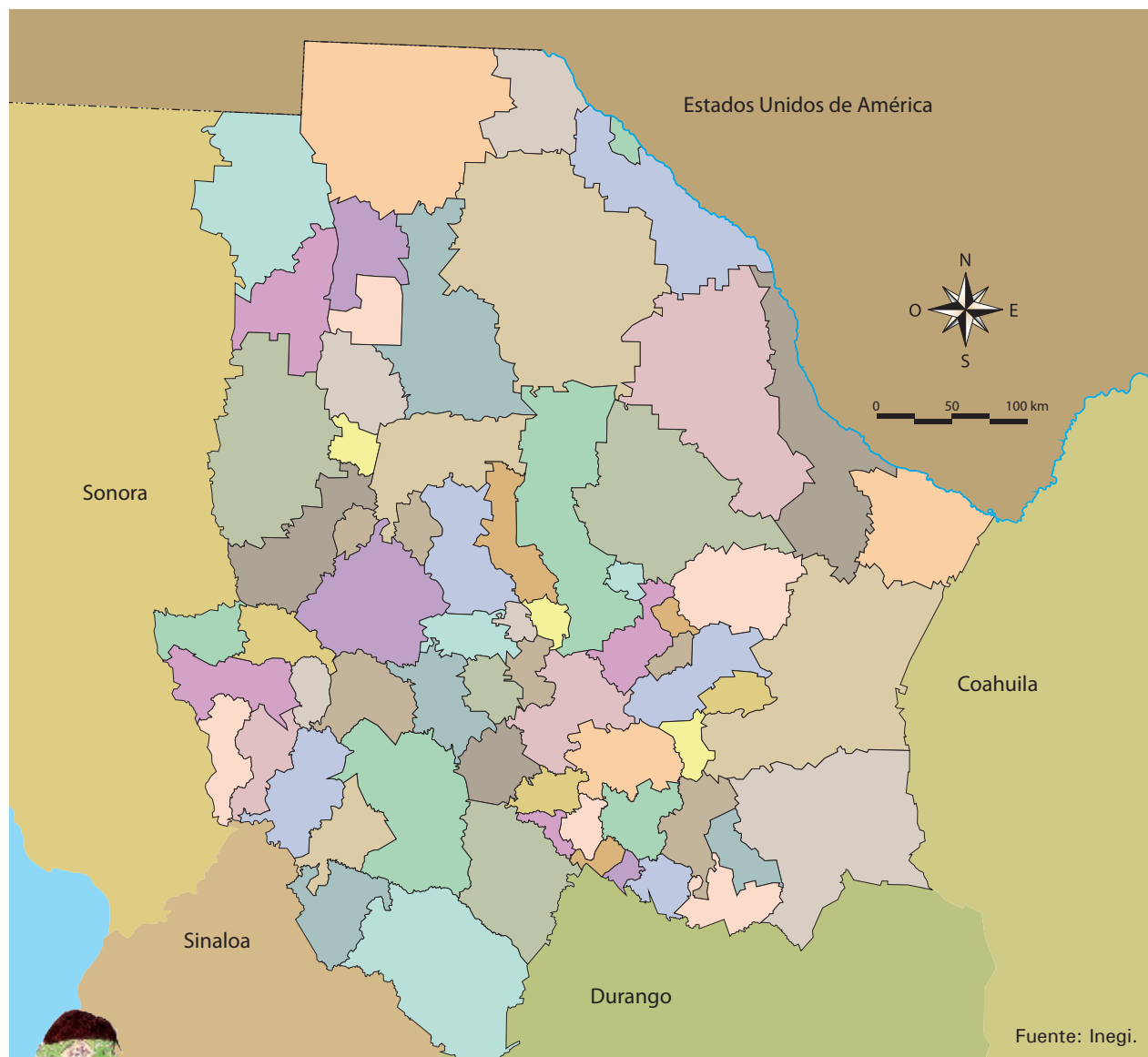
1841-1860

 Describe cómo imaginas que fue Chihuahua en 1824. Su paisaje, la vestimenta, las casas y las calles; así como los medios de transporte y comunicación.

👁️ En el mapa, colorea tu municipio y pon una estrella amarilla en la capital del estado. Traza una línea roja de tu municipio a la capital de la entidad y observa qué distancia hay. Compara esa distancia con la de otros municipios y el tuyo. Luego coméntalas con tus compañeros.

Investiga en qué año se fundó la cabecera municipal de tu localidad; puedes consultar en internet la página www.chihuahua.gob.mx.

Comparo distancias de mi municipio con otros



¿Sabías que en reconocimiento a los insurgentes, se cambiaron los nombres de algunas poblaciones? San Bartolomé, por Allende; Guajoquilla, por Jiménez; San Jerónimo, por Aldama; Santa Cruz Tapacolmes, por Rosales.

Investiga si el lugar donde vives ha cambiado de nombre y en qué fecha sucedió.

En México, en 1821, un grupo de personas propuso que nuestro país fuera una **república centralista** que dependiera directamente del presidente. Mientras que otro grupo quería que fuera una **república federal** con entidades libres y soberanas. Estos dos grupos lucharon durante el siglo XIX para imponer sus propuestas de gobierno.



¿Sabías que después de la Independencia, la provincia de Nueva Vizcaya se dividió en dos entidades separadas, Durango y Chihuahua? Los límites del estado se trazaron de la siguiente manera: al norte, el poblado de Paso del Norte; al sur, la Hacienda de Río Florido; al este, el desierto; y al oeste, la serranía.

La entidad de Chihuahua modificó sus límites en este periodo. Observa los cambios que tuvo después de la Independencia.



Fuente: Inegi.

Territorio de Chihuahua en 1824.



¿Sabías que en 1853 una parte del territorio de Chihuahua y Sonora, conocida como La Mesilla, fue vendida a Estados Unidos, lo que evitó una nueva guerra con este país?

Observa en el siguiente mapa cómo era el estado en 1857.



Fuente: Inegi.

Territorio de Chihuahua en 1857.

👁️ Observa en el siguiente mapa de México cómo eran los límites del estado y del país en 1917. Después, contesta las preguntas.



Territorio de Chihuahua en 1917.

¿Qué diferencias encuentras en el tamaño y forma del estado en el mapa de 1917 y los anteriores? _____

¿Cuál es el más parecido al mapa actual de Chihuahua? _____

🗺️ Ubica en el mapa de Chihuahua las ciudades importantes que se fundaron hasta 1917, como Juárez, Chihuahua, Camargo y Parral. Colorea sus municipios y responde las preguntas.

Ciudades de Chihuahua en 1917



¿Sabías que los primeros poblados eran villas; al crecer su población, fueron reconocidas por el Congreso como ciudades?



¿Vives en alguna de estas ciudades? _____, ¿cuál? _____

Si no vives en ninguna, ¿cuál has visitado? _____

¿Por qué crees que fueron importantes? _____

En la actualidad, ¿qué otras ciudades hay en el estado? Coméntalo con tus compañeros del grupo y anota por qué son importantes.

¿Sabías que los habitantes de Texas se separaron de México en 1836? Entre 1841 y 1843, tropas procedentes de Texas insistieron en invadir nuestro territorio, pero fueron derrotados. En 1846, Estados Unidos le declaró la guerra a México, el país fue derrotado y perdió gran parte de su territorio.



La Mesilla.

En la batalla de Sacramento, jóvenes chihuahuenses pelearon contra el ejército estadounidense. En el libro *Chihuahua para jóvenes*, Ignacio Urquidi relató estos acontecimientos. Lee el siguiente fragmento y coméntalo con el grupo.

Los chihuahuenses veían con orgullo el resultado de su trabajo en cada fusil, pistola y objeto del equipo, nada existía hacía tres meses, todo era creado por ellos. Aquellas tropas estaban entusiasmadas, se notaba la alegría en sus caras, había júbilo en las reuniones donde planeaban cómo pelear contra el ejército invasor de su entidad...

Las tropas de Estados Unidos invadieron el país y avanzaron al sur. En 1848 se pactó la paz con la firma del Tratado de Guadalupe-Hidalgo, con el cual México aceptó la pérdida de Nuevo México, California y la franja de territorio entre el Río Nueces y el río Bravo, y Estados Unidos se comprometió a pagar una compensación de 15 millones de pesos. En 1853, el presidente Antonio López de Santa Anna vendió a Estados Unidos una parte del territorio de Sonora y Chihuahua llamado "La Mesilla".

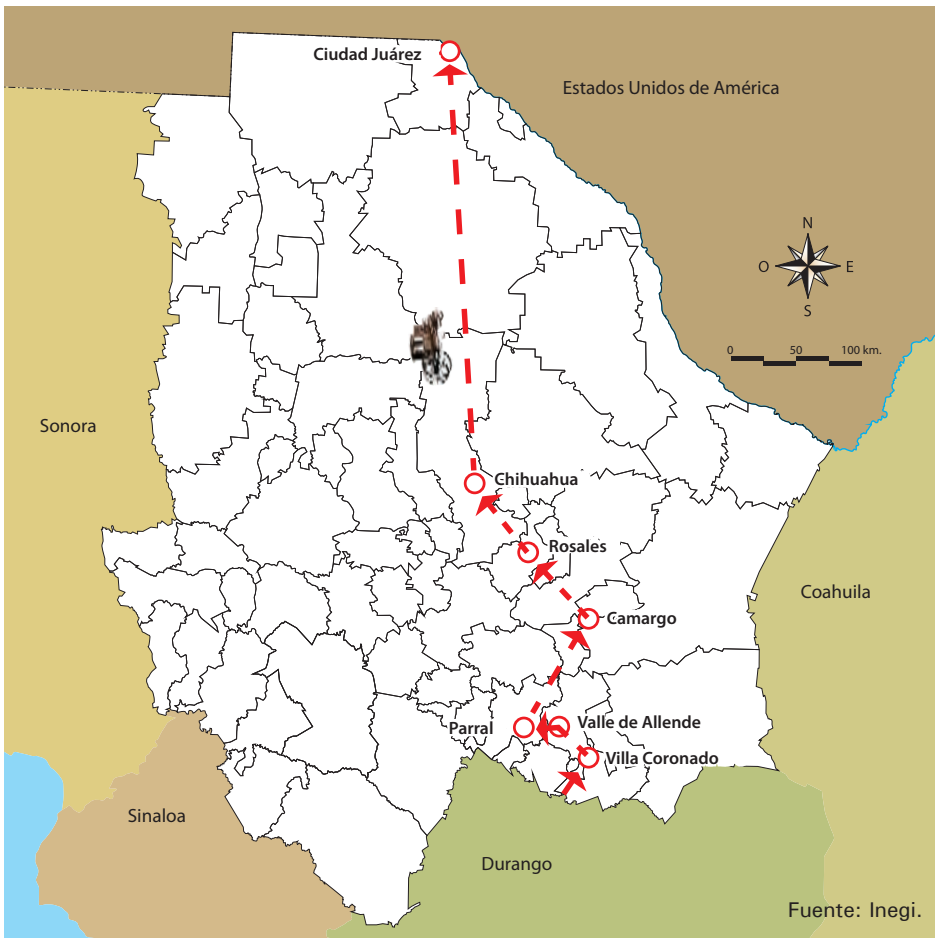


¡A compartir y defender tus ideas!
En equipos, elaboren un escrito sobre la batalla de Sacramento, pueden consultar <www.chihuahua.gob.mx>, y preguntar a la gente adulta. Con la ayuda de su maestro, organicen un debate en el que cada equipo exponga sus ideas sobre lo que investigaron.

La lucha en el país siguió, y en 1864, los conservadores impusieron una monarquía y nombraron a Maximiliano de Habsburgo emperador de México. Benito Juárez, quien era presidente del país, se vio obligado a trasladar su gobierno debido a la ocupación francesa; llegó a Chihuahua en septiembre de ese mismo año.

➡ Observa en el siguiente mapa la ruta por la que atravesó Benito Juárez; una línea de color rojo para que observes el camino que siguió al cruzar por el estado; inició en Villa Coronado hasta Paso del Norte (hoy Ciudad Juárez). Después, dibuja el contorno de los municipios por los que pasó y coloréalos.

Ruta de Juárez



¿Sabías que a partir del 12 de octubre de 1864 Chihuahua fue la capital de la república durante dos años? Actualmente, la casa donde vivió Juárez en la ciudad de Chihuahua se llama Museo de la Lealtad Republicana.



Junto con tu maestro y compañeros, si pueden, organicen una visita al Museo de la Lealtad Republicana.

➡ Comenten y opinen sobre la importancia de que Benito Juárez haya gobernado el país, durante su estancia en el estado.



Benito Juárez en la ciudad de Chihuahua.

Los franceses tomaron la ciudad de Chihuahua pero fueron derrotados por el general Luis Terrazas, lo que permitió a Juárez regresar a Chihuahua en 1866. Finalmente, en 1867, el ejército liberal triunfó en México, restableciendo la república federal y a Benito Juárez como presidente.



¿Sabías que mientras en México los conservadores y liberales peleaban, Estados Unidos colonizó Texas y despojó a los grupos indígenas de sus tierras? Estos grupos emigraron hacia el oeste y al sur, llegando hasta nuestro territorio. Aquí entraron en guerra con los otros grupos indígenas y el resto de la población que habitaba en el estado.



Apaches de Norteamérica.

Lean el siguiente relato sobre uno de los ataques apaches contra la población del estado al suspenderse la entrega de sus raciones de comida pactada con el gobierno de Chihuahua.

En el rancho Nombre de Dios se juntaron en la casa las mujeres cuando hubo un ataque apache. Estaban en la cocina con la abuela, que se llamaba Enriqueta, friendo un puerco para dar de comer a los hombres que vigilaban el rancho; el único lugar por el que podían entrar a la casa era por la cocina y por allí pretendió entrar uno de los apaches. Sin demostrar temor, del cazo de la manteca, que aún estaba caliente, la abuela tomó una hueja, la llenó de manteca hirviendo y se la aventó al intruso, que al sentir que le quemaba salió corriendo y, aullando de dolor, se retiró rumbo al río. No se repitió el ataque a la casa, y al día siguiente las mujeres dejaron el rancho y se regresaron a Chihuahua ya debidamente protegidas, "por aquello de los indios"...

Fuente: Joaquín Terrazas, *La guerra contra los apaches (memorias)*, México, Centro Librero La Prensa, 1989.

 Responde las siguientes preguntas.

¿Qué te pareció el relato? _____

¿Por qué los apaches emigraron a nuestro país? _____

Investiguen con la gente adulta del lugar donde viven si hay otros relatos de este periodo. Inviten a una persona que conozca historias de los apaches para que se las cuente.

Los apaches eran nómadas, se trasladaban de Texas a Chihuahua libremente; al ser expulsados de aquellos territorios llegaron a nuestro estado, pero encontraron las tierras ocupadas y pelearon por ellas con la gente de las rancherías y pueblos.

Durante el periodo de 1850 a 1880, la historia chihuahuense coincidió con los conflictos que había en el país; en la entidad se vivió una guerra contra los apaches, y aunque el general Ángel Trías trató de pactar la paz con ellos, no lo logró; por lo que hombres estadounidenses y mexicanos se convirtieron en cazadores de apaches.

En 1866, el gobernador, general Luis Terrazas, se encargó de someterlos y finalmente, en 1880, el coronel Joaquín Terrazas los derrotó en la batalla de Tres Castillos.



Mural en el Palacio de Gobierno de Chihuahua, Aarón Piña Mora.

¿Sabías que a finales del siglo XIX se designaba con el nombre de apachería a los grupos de indígenas que llegaron a nuestro territorio (comanches, siux, navajos, pies negros y apaches), y los pobladores organizaron tropas para combatirlos?



Apaches.



Placa conmemorativa del año 2000.

El 14 de octubre del año 2000 se llevó a cabo el "Encuentro y reconciliación con la nación apache-mezcalero", en el que el gobierno del estado, los tarahumaras y el representante de la gran nación apache fumaron la "pipa de la paz". Para conmemorar este encuentro, se develó una placa en el Parque Central El Palomar, en la ciudad de Chihuahua.