

# Colima

La entidad donde vivo



## Características y actividades de la población en mi entidad



### *¡En sus marcas!*

Comenta con tus compañeros y profesor sobre los oficios y profesiones que tienen las personas del lugar donde vives.

## Los habitantes de mi entidad



Tanto la pesca comercial como la deportiva se practican con tecnología moderna en los litorales colimenses.

Las características naturales del medio ambiente —el clima, la vegetación, los ríos y el relieve— influyen en la forma de vida de los habitantes y en su distribución en el estado. También favorecen la práctica de actividades económicas como la agricultura, la pesca, la minería y el comercio.

Para conocer sobre las características de la población de cada lugar y sus condiciones de vida, en Colima —igual que en las demás entidades del país— se realizan censos de población y vivienda; de ellos se obtiene información sobre cuántos habitantes hay, cuántas mujeres, cuántos hombres, dónde viven, a qué se dedican y de qué servicios disponen.

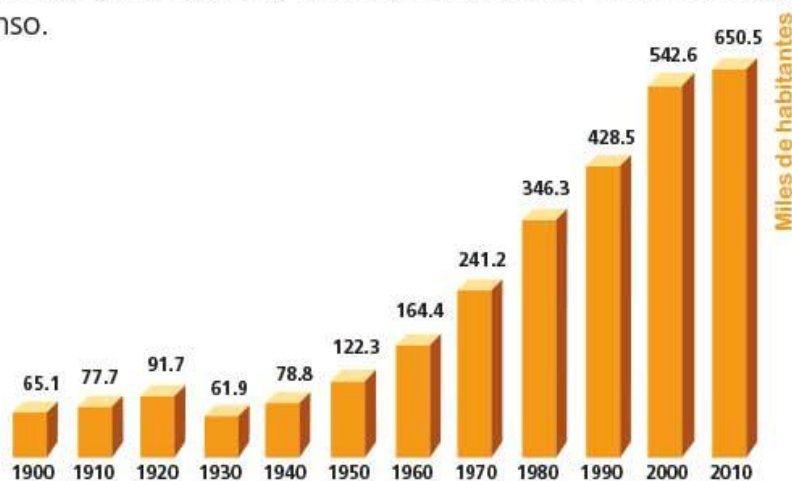
El Instituto Nacional de Estadística y Geografía (Inegi) realiza cada 10 años el Censo General de Población y Vivienda. A la mitad de ese periodo se hace un conteo del número de habitantes para actualizar los datos. Los resultados de los censos permiten al gobierno planificar y elaborar programas para impulsar el desarrollo y bienestar de sus habitantes, así como organizar la prestación de servicios públicos, como salud, educación, vivienda y otros, en todos los centros de población.

## Características de la población

Los censos realizados desde 1900 hasta 2010 ofrecen datos sobre las características y el crecimiento de la población en nuestro estado.

## Aprende haciendo

- ▶ Observa la siguiente gráfica y compara el aumento de la población en cada censo.

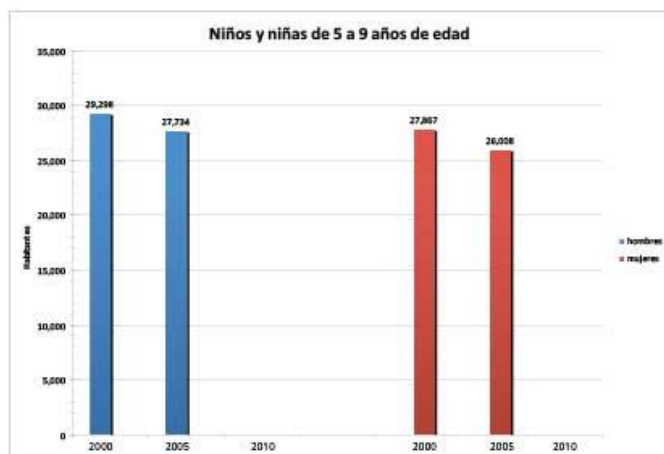


Fuente: Inegi. Censo General de población y vivienda 2010.

Población del estado de Colima en los censos de 1900 a 2010.

- ▶ Comenta y reflexiona con tus compañeros las siguientes preguntas.
  - ¿Cuánto aumentó la población desde 1990 hasta 2010?
  - ¿En qué año disminuyó el número de habitantes?, ¿cuáles crees que fueron las causas?
  - ¿Por qué aumenta la población con el paso del tiempo?
  - Comenta tus conclusiones con un compañero.
- ◆ Escribe las respuestas en la sección **PORTAFOLIO DE EVIDENCIAS** de tu cuaderno.
- ▶ La población actual de niños de tu edad en Colima no ha sido la misma a lo largo del tiempo. Observa la siguiente gráfica.

TIC En la página [www.inegi.org.mx](http://www.inegi.org.mx), encontrarás la información necesaria para realizar esta actividad.



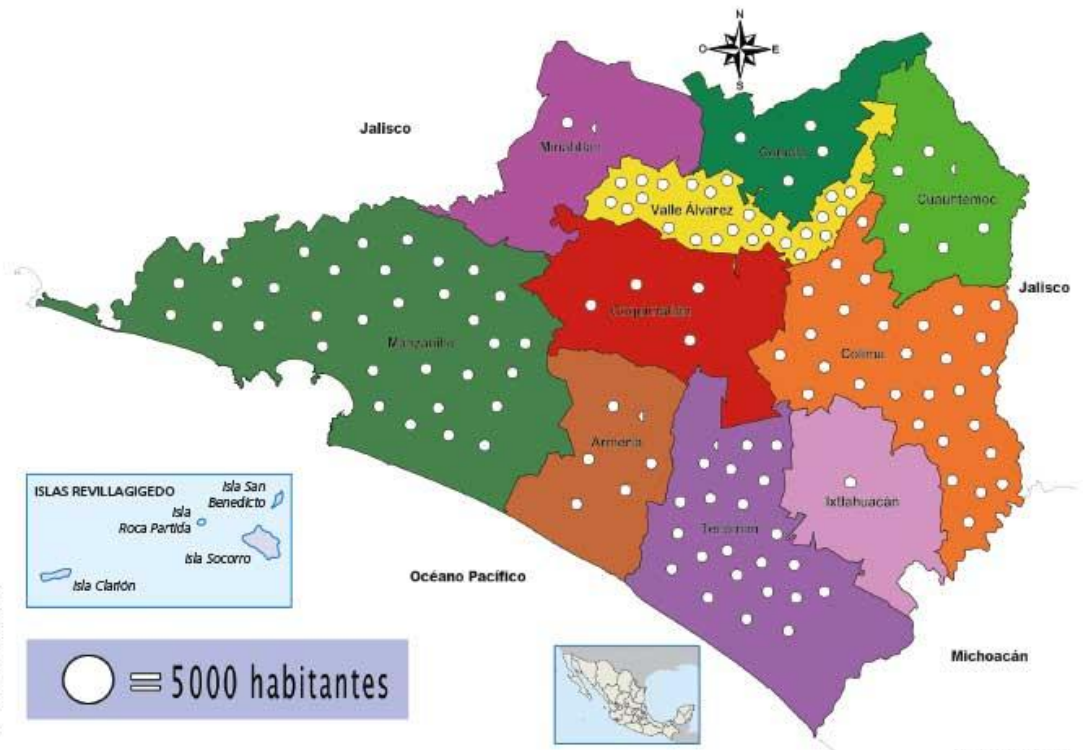
Fuente: Inegi. Censo General de población y vivienda 2010.

Población de niños de 5 a 9 años de edad en Colima.

- ◆ Reúnanse en equipos y consulten en la página de internet del Inegi los resultados del Censo de Población y Vivienda 2010 de Colima. Utilicen la información para completar la gráfica anterior.

# Distribución de la población en Colima

► Observa el mapa y la tabla de población por municipios.



La mayoría de los habitantes se concentran en las principales ciudades del estado, en las que encuentran servicios y condiciones favorables para su desarrollo.

○ ≡ 5000 habitantes

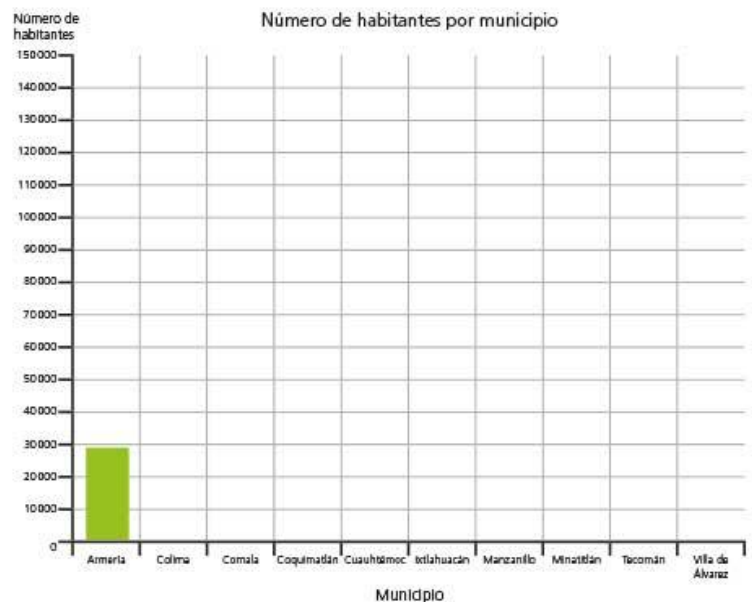
Fuente: Inegi.

## Aprende haciendo

► Completa la gráfica. Colorea cada columna de acuerdo con el número de habitantes de cada municipio. Guíate por el ejemplo.

Número de habitantes por municipio.

MUNICIPIO	HABITANTES (2010)	
Armería	28 695	
Colima	146 904	
Comala	20 888	
Coquimatlán	19 385	
Cuauhtémoc	27 107	
Ixtlahuacán	5 300	
Manzanillo	161 420	
Minatitlán	8 174	
Tecomán	112 726	
Villa de Álvarez	199 956	
<b>Estado</b>	<b>650 555</b>	
	Hombres	Mujeres
	322 790	327 765



Fuente: Inegi. Censo General de población y vivienda 2010.

- ▶ En la sección **PORTAFOLIO DE EVIDENCIAS** de tu cuaderno, ordena los municipios del estado de mayor a menor población. ¿Cuáles tienen mayor cantidad de habitantes?, ¿a qué crees que se debe eso?, ¿qué lugar ocupa tu municipio? Comenta tus respuestas con un compañero.
- ◆ Mediante un teatro guiñol, muestra tus resultados a tus compañeros. Puedes elaborar tu personaje con papel o tela.

### ¿Sabías que...?

Colima, como el resto del país, tiene más mujeres que hombres y su población es joven; más de la mitad de sus habitantes tiene menos de 24 años.

## Población urbana y rural

En el territorio colimense encontramos ciudades en las que se concentra la mayoría de la población; sin embargo, también existen pueblos y rancherías, donde vive una menor cantidad de personas.

De la población colimense, 89% habita en zonas **urbanas**, como las ciudades de Armería, Colima, Coquimatlán, Manzanillo, Tecomán y Villa de Álvarez. Generalmente en las zonas urbanas se dispone de más servicios públicos, como escuelas, hospitales, transportes, vigilancia y centros comerciales. La población se dedica a actividades como el comercio, la industria y los servicios.

En las zonas **rurales** de Colima, principalmente en ranchos, rancherías y poblados, vive 11% de la población. Estas zonas cuentan con menos servicios públicos y los habitantes de estos lugares se dedican principalmente a la agricultura, la ganadería o la pesca. Algunos de sus problemas más graves se deben a la escasez de servicios de comunicación y de transportes.

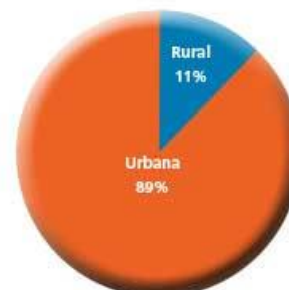


### Conoce más

**Urbana:** Perteneciente o relativo a la ciudad.

**Rural:** Perteneciente o relativo a la vida del campo y a sus labores.

Porcentaje de población urbana y rural de Colima en 2010.



### CONSTRUYE TU CONOCIMIENTO

En el **PORTAFOLIO DE EVIDENCIAS**, elabora una lista de las características del medio rural y una del medio urbano: registra sus ventajas y desventajas, las actividades económicas de la población, el paisaje, los medios de comunicación, centros educativos y de entretenimiento, entre otros.

Ilustra con recortes y gráficas las características de la población de tu estado y sus actividades económicas. Preséntalo en el periódico mural.