

Tercer grado

# Chihuahua

## La entidad donde vivo




## Contenido 4 Las regiones de mi entidad

### Inicio con lo que conozco

 En el recuadro dibuja el lugar donde vives: ¿cómo son la flora, la fauna, el relieve y los ríos? Puedes consultar el *Atlas de México*.



 Con ayuda de su maestro, en las siguientes líneas describan cómo son los ríos y el relieve del municipio en el que viven.

Ríos

---

---

---

---

---

---

---

Relieve

---

---

---

---

---

---

---

Chihuahua se divide en dos regiones naturales: al este se ubica la altiplanicie y al oeste la sierra. Localiza y colorea en el mapa tu municipio; dibuja a su alrededor la fauna y la vegetación.

➡ Traza en el mapa la línea que delimita la región de la sierra y la de la altiplanicie, y escribe el nombre correspondiente.



### Región natural en que se ubica mi municipio







¿Sabías que el ferrocarril Chihuahua al Pacífico, conocido como *Chepe*, recorre 650 kilómetros desde la ciudad de Chihuahua hasta Los Mochis, Sinaloa? En su ruta pasa por las Barrancas del Cobre y atraviesa por 37 puentes y 86 túneles.

Ferrocarril Chepe.

La región natural de la sierra se localiza al oeste del estado. Es una región montañosa que forma parte de la Sierra Madre Occidental, conocida en Chihuahua como Sierra Tarahumara. Además de elevadas montañas, cuenta con profundas barrancas, lo que propicia climas variados: en ciertos lugares templado; en otros, frío y en algunos, cálido.



Venado cola blanca. Tiene un excelente oído, pero su vista es pobre. No emite sonidos, sólo lo hacen las crías cuando buscan a su madre.



Bosque.

Su flora es diversa; tiene bosques de pino y encino, matorral alpino, álamo, cedro blanco, pino piñonero, abeto y oyamel. Los animales característicos son murciélago, topo, rata, oso, tecolotito manchado, chupamirto de garganta azul, venado cola blanca, oso plateado, lobo, zorro gris, mapache y ardilla.

➡ Responde las siguientes preguntas.

¿Has visitado algún lugar de la sierra? \_\_\_\_\_ ¿Cuál? \_\_\_\_\_


¿Cómo podríamos ayudar a cuidar esta región natural? \_\_\_\_\_



Desierto el Bolsón de Mapimí.

La región de la altiplanicie se localiza al este y al norte. Una parte es desierto; ahí destacan el Bolsón de Mapimí, en Jiménez, y los médanos de Samalayuca, en Juárez; la vegetación del desierto se conforma por plantas xerófilas, como lechuguilla, gobernadora, cactáceas, mezquites y ocotillo.

Los animales característicos de esta región son camaleón, víbora de cascabel, lagartija, rata de campo, liebre, coyote, zorrillo y gato montés. Otra parte de la altiplanicie se caracteriza por tener pastizales abundantes y tierras propicias para la agricultura y la ganadería. En esta parte del estado se concentra la mayoría de los habitantes de Chihuahua.

 Con la información anterior, completa los siguientes cuadros.

Mi municipio

---

Región natural en la que se localiza

---

Clima

---

---

---

---

Flora y fauna característica

---

---

---

---



➤ Pregúntale a algunos adultos cuál es el platillo típico del lugar o municipio donde vives; si se comen animales domésticos o silvestres; así como el tipo de la vegetación, frutos de árboles y las flores que se consumen. Comenten los platillos que investigaron, anoten cómo se elaboran y formen un recetario.

Platillo que investigué: \_\_\_\_\_

➤ En el siguiente mapa se presenta la flora y fauna de las regiones naturales de Chihuahua. Encierra en un círculo los del lugar donde vives.

### Fauna y flora de las regiones naturales



¿Sabías que el perro chihuahuero es representativo del estado? Es una de las razas de perro más pequeñas y, probablemente, procede de **Mesoamérica**, pues han encontrado restos de ellos en tumbas toltecas.



👁️ Observen la ilustración de la página anterior y en equipos completen el cuadro.

Región natural	Fauna	Flora
Altiplanicie		
Sierra		

👁️ En equipo, observen la siguiente ilustración e identifiquen los elementos naturales, sociales, económicos y culturales del estado. Escríbanlos en los cuadros de la página siguiente.





Elementos naturales

---

---

---

---

Elementos sociales

---

---

---

---

Elementos económicos

---

---

---

---


Elementos culturales

---

---

---

---

 Dibuja en el recuadro el lugar donde vives. Representa los elementos naturales, sociales, económicos y culturales. Comenta y compara tu dibujo con los de tus compañeros, ponle de título "Elementos que caracterizan la región natural donde vivo".

