

Tercer grado

# Aguascalientes

## La entidad donde vivo



# Características y actividades de la población de mi entidad

## ¡En sus marcas!

Comenta con tus compañeros y con tu profesor acerca de cuánto ha crecido la población en tu localidad, cuánto se ha urbanizado o qué actividades rurales se realizan. Comenten también sobre oficios y profesiones que realizan las personas del lugar donde vives. Puedes incluir las actividades de familiares o amigos.

### Conoce más

**Oficio o profesión:** empleo por el que se percibe un pago o sueldo.



Mina, cerca de Real de Asientos.

## Fuentes de trabajo

Actualmente, en Aguascalientes la mayoría de la población se concentra en las ciudades más grandes, como la capital. Eso se debe principalmente a que los servicios, como oficinas de gobierno y centros educativos, teléfonos, electricidad, así como el comercio y el transporte se encuentran en la capital, y hay empleo para diversos **oficios o profesiones**.

También se debe a la existencia de grandes empresas industriales, dedicadas principalmente a la fabricación de automóviles, electrónica, productos hechos de metal para autos, comercio e industria, textiles, y muchas otras en menor escala.

A pesar de lo reducido de las zonas rurales, la producción de fruta, en particular la guayaba, y dulces, ocupa el primer lugar en el país. También se cultivan y producen vinos, uva, durazno, alfalfa y nopal.

La producción lechera es la más importante del centro-norte del país. Enseguida te mostramos un cuadro sobre las principales actividades económicas de Aguascalientes. En el tema siguiente, encontrarás más información sobre su ubicación regional.

## Interrelación

Elabora una tabla como la siguiente y ubica en cada tipo de actividad económica las fuentes de trabajo que existen en Aguascalientes.

Servicios	Industria	Agricultura-ganadería



El cultivo de la guayaba ha hecho nombrar a Calvillo “capital mundial de la guayaba”, obteniendo de esta fruta numerosos productos, como los que se ven en la imagen.

### Los habitantes de mi entidad

En Aguascalientes, como en los otros estados del país, los censos de población son el medio para obtener información sobre el número de habitantes: cuántas mujeres, cuántos hombres, niños, viven en la entidad. También nos muestran información sobre los lugares donde viven, a qué se dedican y los servicios de que disponen, como luz, agua, comunicaciones, escuelas, hospitales, caminos y transportes, entre otros. El Instituto Nacional de Estadística y Geografía (Inegi) realiza cada 10 años el Censo General de Población y Vivienda de México, y a la mitad de este periodo, hace un conteo del número de habitantes para actualizar los datos. Con ayuda de esta información conocerás un poco más a los habitantes de Aguascalientes.

### Características de la población

En Aguascalientes, los censos se han realizado desde el año 1895 hasta 2010 para obtener información sobre las características y el crecimiento de la población.

Al consultar los censos se puede encontrar información más específica sobre temas como vivienda, costumbres y preferencias familiares pero también de las características más generales de los municipios: cuáles se han urbanizado con mayor rapidez, cómo se han diversificado los oficios y las profesiones de sus habitantes, por ejemplo.

### Interrelación

¿Cuántos años han transcurrido del primer censo al más reciente?  
Haz la operación.



### Aprende haciendo

Con ayuda de su profesor, lean la siguiente gráfica sobre el crecimiento de la población en Aguascalientes de 1900 a 2010.

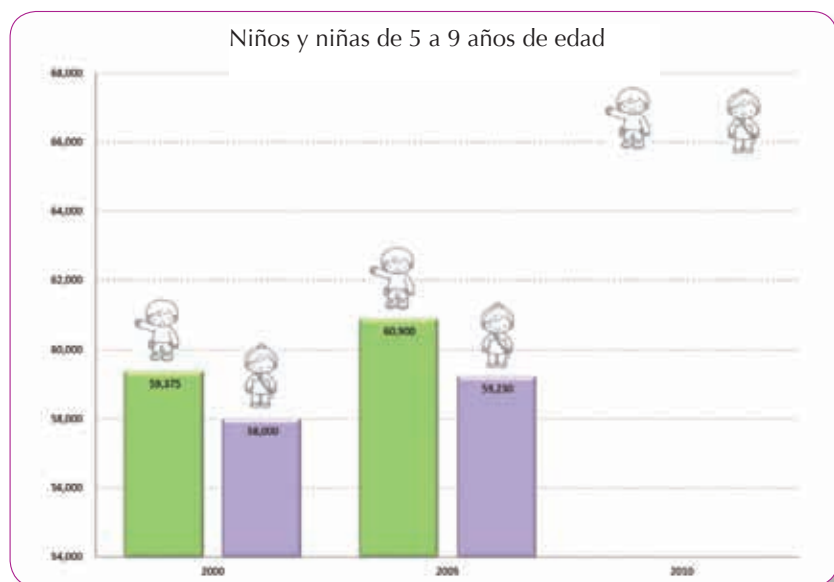
- ▶ ¿Qué diferencia hay entre la cantidad de población de 1900 a 2010?
- ▶ ¿Por qué creen que haya aumentado tanto?

Incluyan sus respuestas en el **Portafolio de evidencias**.



### Aprende haciendo

Reúnanse en **equipo** y consulten la página del Inegi, en la cual encontrarán los resultados del censo de población 2010 sobre el número de niños y niñas que viven en Aguascalientes. Completen la gráfica y elaboren un cartel con la información que recopilaron. Compartan el resultado que obtuvieron con los otros equipos del salón.



TIC

Visiten la página electrónica <http://cuentame.inegi.org.mx> para encontrar la información necesaria para su búsqueda.

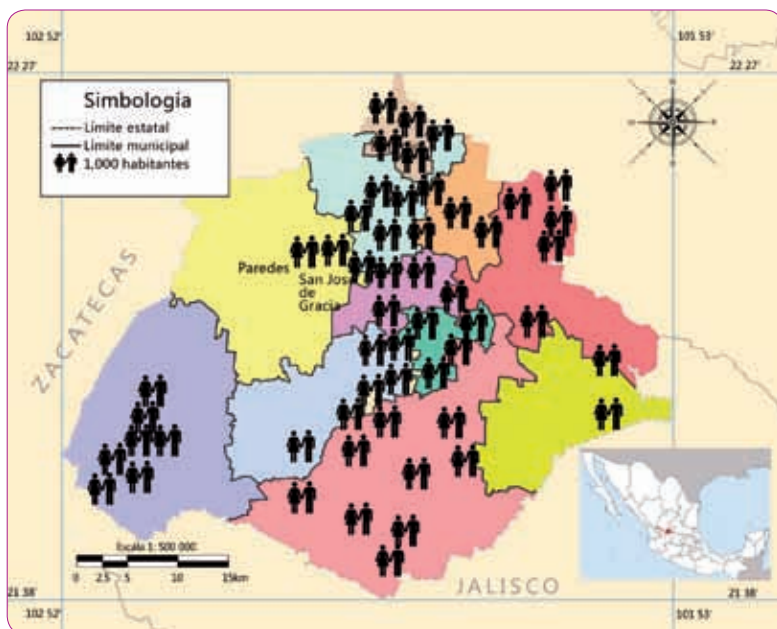
## Distribución de la población

De acuerdo con datos de 2010, en el estado de Aguascalientes viven 608 358 mujeres y 576 638 hombres, haciendo un total de 1 184 996 habitantes.

Observa el mapa y la tabla de población por municipios.

### Interrelación

Escribe estas cantidades con letra en tu cuaderno.



Más de 70% de la población del estado se concentra en el municipio de Aguascalientes.

Total de habitantes por municipio

Municipio	Habitantes	
Aguascalientes	797 010	
Asientos	45 492	
Calvillo	54 136	
Cosío	15 042	
Jesús María	99 590	
Pabellón de Arteaga	41 862	
Rincón de Romos	49 156	
San José de Gracia	8 443	
Tepezalá	19 668	
El Llano	18 828	
San Francisco de los Romo	35 769	
Entidad	1 184 996	
	<b>Hombres</b>	<b>Mujeres</b>
	576 638	608 358

Fuente: Inegi. Censo de Población y Vivienda 2010. Tabulados del Cuestionario Básico.

En una hoja, ordena los municipios de mayor a menor población y contesta las siguientes preguntas:

- ▶ ¿Qué municipio tiene el mayor número de habitantes?
- ▶ ¿Qué municipio tiene el menor número de habitantes?
- ▶ ¿Qué municipio tiene menos de 10 000 habitantes?
- ▶ En el municipio en donde tú vives, ¿cuántos habitantes hay?

Recuerda conservar esta actividad en tu **Portafolio de evidencias**.

### Conoce más

De acuerdo con el Inegi, una población se considera **rural** cuando tiene **menos de 2 500** habitantes, mientras que la **urbana** es aquella donde **viven más de 2 500** personas.

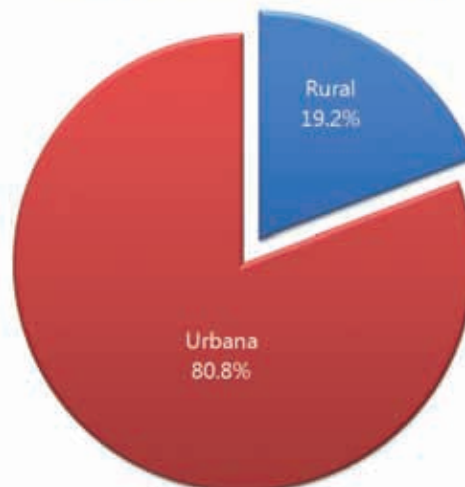
### Población urbana y rural

En el territorio de la entidad la población se concentra en muy pocos municipios, y en pueblos y rancherías vive una menor cantidad de habitantes.

Generalmente en las zonas urbanas se dispone de más servicios públicos, como escuelas, hospitales, transportes, vigilancia, y centros comerciales. La población se dedica a actividades como el comercio, la industria y los servicios.

En las zonas rurales, principalmente en ranchos, rancherías y pueblos, vive 19.2% de la población. Esas zonas tienen menos servicios públicos y los habitantes se dedican a la agricultura o la ganadería. Algunos de sus principales problemas se deben la escasez de comunicaciones y transportes.

Población urbana y rural en Aguascalientes.  
Fuente: Inegi. Censo de Población y Vivienda, 2010.



Reúnete con otros compañeros en **equipo** y compartan sus puntos de vista acerca de las siguientes preguntas:

- ▶ ¿Por qué piensas que haya más o menos habitantes en los municipios?
- ▶ ¿Qué ventajas y desventajas tiene vivir en una zona rural?
- ▶ ¿Qué necesita para mejorar?
- ▶ ¿Qué ventajas y desventajas tiene vivir en una zona urbana?
- ▶ ¿Qué necesita para mejorar?

¿Sabías que...?

Gran parte (casi 81%) de la población del estado habita en zonas urbanas, como los municipios de Aguascalientes, Jesús María y San Francisco de los Romo.

### Construyan su conocimiento



Divide a la mitad una cartulina. En un lado pon el título Medio rural y en el otro Medio urbano. Con fotografías o imágenes, ilustra las características (población, actividad económica) de cada uno de los medios de tu entidad.

Reúnanse en **equipos** y contesten las siguientes preguntas:

- ▶ ¿A qué se dedican las personas que viven en medios urbanos?
- ▶ ¿Qué diferencias hay entre los tipos de vivienda que puede haber en cada medio?
- ▶ ¿Cuáles son los servicios con los que cuentan los medios urbanos?
- ▶ ¿Cómo vive la gente en los medios rurales?

Integra tus respuestas al **Portafolio de evidencias**.

Entre todos hagan una exposición de carteles y colóquenlos en el periódico mural de la escuela.



a) Medio rural.  
b) Medio urbano.

